

الاسم واللقب:.....
السنة الدراسية: 2019/2018

المادة: الرياضيات

المستوى: الأولى ابتدائي

اِخْتِبَارُ الْفَصْلِ الْأَوَّلِ

التَّمرين الأول:


املأ الشَّريطَ العَدَدِي.

→

.....	1	5	8
-------	---	-------	-------	-------	---	-------	-------	---	-------	-------

التَّمرين الثاني:

اربطْ بِالْعَدَدِ الْمُنَاسِبِ.



التَّمرين الثالث:

(أ) رتِّبْ الأَعْدَادَ التَّالِيَةَ مِنَ الْأَكْبَرِ إِلَى الْأَصْغَرِ

مدرسة "الرجاء والتفوق" الخاصة
Ecole Erradja wa Tafaouk

→

.....
-------	-------	-------	-------	-------	-------	-------

(ب) رتِّبْ الأَعْدَادَ التَّالِيَةَ مِنَ الْأَصْغَرِ إِلَى الْأَكْبَرِ

9 - 4 - 8 - 0 - 5 - 7

→

.....
-------	-------	-------	-------	-------	-------

التَّمرين الرابع:

اكتبْ العَدَدَ الَّذِي يَسْبِقُ والعَدَدَ الَّذِي يَلِي.

→

.....	7
-------	-----	-----	---

→

.....	...	5	...
-------	-----	---	-----

→

.....	3
-------	---	-----	-----

التّمرين الخامس:

أُحسب

$3+4=.....$

$2+6=.....$

$4+6=.....$

$8+0=.....$

$3+2=.....$

$5+1=.....$



الاسم واللقب:.....
السنة الدراسية: 2019/2018

المادة: الرياضيات
المستوى: الأولى ابتدائي

تَصْحِيحُ إِخْتِبَارِ الْفَصْلِ الْأَوَّلِ


التَّمرين الأول:

املأ الشَّريطَ العَدَدِي.



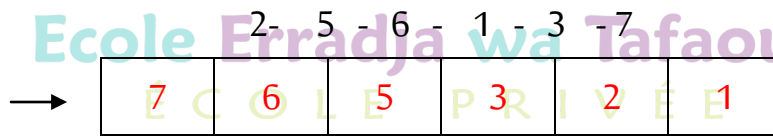
التَّمرين الثاني:

ارْزِطْ بِالْعَدَدِ الْمُنَاسِبِ.



التَّمرين الثالث:

(أ) رتِّب الأعداد التَّالِيَةَ مِنَ الْأَكْبَرِ إِلَى الْأَصْغَرِ



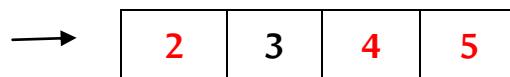
(ب) رتِّب الأعداد التَّالِيَةَ مِنَ الْأَصْغَرِ إِلَى الْأَكْبَرِ

9 - 4 - 8 - 0 - 5 - 7



التَّمرين الرَّابِع:

اكتب العَدَدَ الَّذِي يَسْبِقُ والعَدَدَ الَّذِي يَلِي.

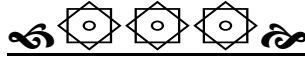


التّمرين الخامس:

أحسب

$3+4=7$ ، $2+6=8$ ، $4+6=10$

$8+0=8$ ، $3+2=5$ ، $5+1=6$



مدرسة "الرجاء والتفوق" الخاصة

Ecole Erradja wa Tafaouk

ÉCOLE PRIVÉE