

قسم : السنة الاولى ابتدائي  
السنة الدراسية : 2016/2017

ابتدائية : عبيدين بوفلجة  
الاستاذ : بودواية محمد

## اختبار الفصل الثالث في الرياضيات

التمرين الاول: رتب ايام الاسبوع بالارقام ثم لون ايام العطلة

|                      |                      |                      |                      |                      |                      |                      |
|----------------------|----------------------|----------------------|----------------------|----------------------|----------------------|----------------------|
| السبت                | الثلاثاء             | الاحد                | الخميس               | الجمعة               | الاربعاء             | الاثنين              |
| <input type="text"/> | <input type="text"/> | <input type="text"/> | <input type="text"/> | <input type="text"/> | <input type="text"/> | <input type="text"/> |

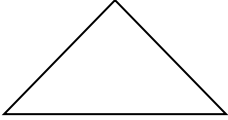



التمرين الثاني : اكمل الشريط بالاضافة بالعشرة

|    |  |  |    |  |  |  |    |
|----|--|--|----|--|--|--|----|
| 13 |  |  | 53 |  |  |  | 93 |
|----|--|--|----|--|--|--|----|

التمرين الثالث: احسب العمليات عموديا

|                      |                      |
|----------------------|----------------------|
| $98 - 73 =$          | $65 + 24 =$          |
| <input type="text"/> | <input type="text"/> |

التمرين الرابع : سم الاشكال التالية

|   |   |  |   |
|---|---|--|---|
|  |  |  |  |
| .....   | .....   | .....  | .....   |

التمرين الخامس :

عند احمد 25 كرية اعطاه بلال 10 كريات .  
كم اصبح عند احمد؟

| العمليات | الاجابة            |
|----------|--------------------|
|          | .....<br><br>..... |