

أكمل الشريط العددي

1

86	.	88	.	90	.	.	93
							.
		100	.	.	97	.	95

أنجز العمليات الآتية

2

$$\begin{array}{r} 19 \\ - 19 \\ \hline .. \end{array}$$

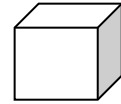
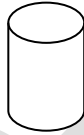

$$\begin{array}{r} 57 \\ - 42 \\ \hline .. \end{array}$$

$$\begin{array}{r} 35 \\ + 20 \\ \hline .. \end{array}$$

$$\begin{array}{r} 16 \\ + 31 \\ \hline .. \end{array}$$

أصل بالأسهم

3




أسطوانة

بلاطة قائمة

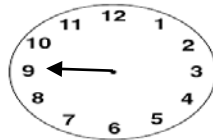
مكعب

كرة

أكتب السّاعة بالأرقام



.. : ..



.. : ..

أكتب السّاعة بالعقارب

4



11:00



02:00

تملك في حصالتك 55 دج ، زادك أبوك 40 دج .

كم أصبح عندك ؟

أصبح عندي ..... دج

5

55

. 40

..

$$50 . 40 = ..$$