



الجمهورية الجزائرية الديمقراطية الشعبية

وزارة التربية الوطنية

مؤسسة التربية و التعليم الخاصة **سليم**

ETABLISSEMENT PRIVE D'EDUCATION ET D'ENSEIGNEMENT SALIM

www.ets-salim.com 021 87 10 51 021 87 16 89 Hai Galloul - bordj el-bahri alger

رخصة فتح رقم 1088 بتاريخ 30 جانفي 2011

ثانوي - ابتدائي - متوسط - ثانوي

إعتماد رقم 67 بتاريخ 06 سبتمبر 2010

المستوى: الأول ابتدائي (1AP) مارس 2014

اختبار الفصل الثاني في مادة الرياضيات

### النشاط الأول:

• أكتب العدد الذي يسبق و الذي يلي:

-	46	-
---	----	---

-	39	-
---	----	---

-	25	-
---	----	---

• أرتب الأعداد التالية من الأكبر إلى الأصغر:

. 45 - 55 - 17 - 35 - 40 - 23

-	-	-	-	-	-
---	---	---	---	---	---

### النشاط الثاني: أكمل الجدول

العشرة التي تسبق	العدد	العشرة التي تلي
	22	30
10	19	
	12	
30	38	

الصفحة 2/1

حي فغلول - برج البحري - الجزائر

## النشاط الثالث: ألاحظ و أصل

4 عشرات و 7 وحدات

38

50+2

5 عشرات و 2 وحدات

47

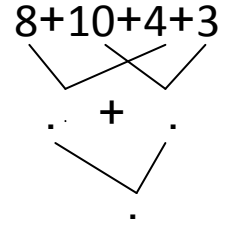
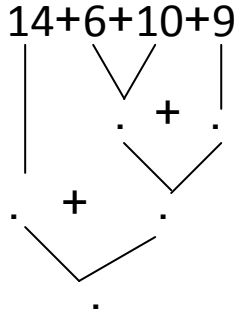
30+8

3 عشرات و 8 وحدات

52

40+7

## النشاط الرابع: أحسب المجاميع التالية:



## النشاط الخامس: أضع العبارة المناسبة: أكبر من - أصغر من - يساوي

10+4.....14

26.....38

34.....40

31.....13

الصفحة 2/2

حي قعلول - برج البحري - الجزائر



الجمهورية الجزائرية الديمقراطية الشعبية

وزارة التربية الوطنية

مؤسسة التربية والتعليم الخاصة سليم

ETABLISSEMENT PRIVE D'EDUCATION ET D'ENSEIGNEMENT SALIM

www.ets-salim.com 021 87 10 51 021 87 16 89 Hai Galloul - bordj el-bahri alger

إعتماد رقم 67 بتاريخ 06 سبتمبر 2010

رخصة فتح رقم 1088 بتاريخ 30 جانفي 2011

إعتماد رقم 67 بتاريخ 06 سبتمبر 2010

المستوى: الأول ابتدائي (1AP) مارس 2014

تصحيح اختبار الفصل الثاني في مادة الرياضيات

### النشاط الأول: (1.5ن)

• أكتب العدد الذي يسبق و الذي يلي:

45	46	47
----	----	----

38	39	40
----	----	----

24	25	26
----	----	----

• أرتب الأعداد التالية من الأكبر إلى الأصغر: (1.5ن)

. 45 - 55 - 17 - 35 - 40 - 23

55	45	40	35	23	17
----	----	----	----	----	----

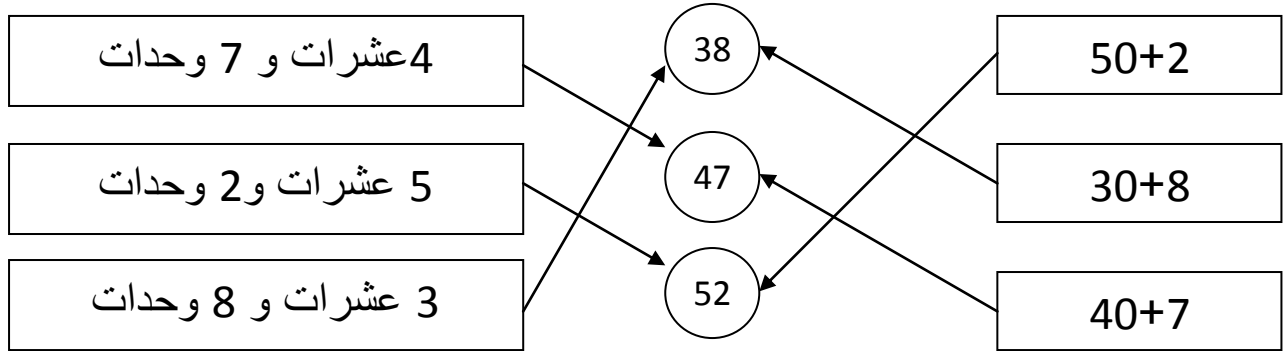
### النشاط الثاني: أكمل الجدول (2.5ن)

العشرة التي تسبق	العدد	العشرة التي تلي
20	22	30
10	19	20
10	12	20
30	38	40

الصفحة 2/1

حي فغلول - برج البحري - الجزائر

### النشاط الثالث: ألاحظ و أصل (1.5ن)



### النشاط الرابع: أحسب المجاميع التالية: (2ن)

$$\begin{array}{c} 14+6+10+9 \\ \swarrow \quad \searrow \\ 16 + 9 \\ \swarrow \quad \searrow \\ 14 + 25 \\ \swarrow \quad \searrow \\ 39 \end{array}$$

$$\begin{array}{c} 8+10+4+3 \\ \swarrow \quad \searrow \\ 12 + 13 \\ \swarrow \quad \searrow \\ 25 \end{array}$$

### النشاط الخامس: أضع العبارة المناسبة: أكبر من - أصغر من - يساوي (1ن)

14 يساوي  $10+4$

38 أكبر من 26

40 أكبر من 34

13 أصغر من 31