

المستوى : السنة الأولى ابتدائي

الموسم الدراسي : 2016/2017م

10

اللقب : .....


الاسم : .....

### إختبار الثلاثي الثاني في مادة الرياضيات

الوضعية الأولى: تَفْرِزُ حَدِيحَةً مَرَّةً لِلْخَفِّ وَ مَرَّةً لِلْأَمَامِ ؛ أَكْمِلْ بِالْعَدَدِ الَّذِي يَسْبِقُ وَ الْعَدَدِ الَّذِي يَلِي :

..	65	..	..	55	..	..	45	..	..	35	..
----	----	----	----	----	----	----	----	----	----	----	----

الوضعية الثانية: هَذَا الرَّضِيعُ جَائِعٌ خُذْهُ إِلَى رَضَاعَتِهِ ؛ لَوْنُ الْمَسَلِّكَ الَّذِي سَتَسْأَلُكَ :



الوضعية الثالثة: أَرَادَ أَحْمَدُ أَنْجَازَ وَاجِبِهِ الْمَنْزِلِيِّ الْآتِي ؛ سَاعِدْهُ فِي ذَلِكَ :


$60 + 5 = \dots$

$37 - 5 = \dots$


$40 + 10 = \dots$

$14 - 10 = \dots$

الوضعية الرابعة: سَجِّلْ تَوْقِيَّتَ نَشَاطَاتِ بِلَالٍ خِلَالَ الْيَوْمِ :




.....



.....



.....



.....

الوضعية الخامسة:

قَرَأَتْ لَيْلِيَا 27 صَفْحَةً مِنْ قِصَّةِ لَيْلَى وَ الذِّئْبِ ، وَبَقِيَتْ مِنْهَا 10 صَفْحَاتٍ .

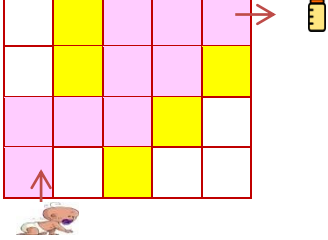


- ماهو عددُ صَفْحَاتِ الْقِصَّةِ ؟

عددُ صَفْحَاتِ الْقِصَّةِ هُوَ.....صَفْحَةٌ .

..... = .....

شبكة تقويم إختبار الثلاثي الثاني في مادة الرياضيات

العلامة		المؤشرات			الوضعية	
كاملة	مجزأة	بكمل المتتالية :				
2ن	4x0.25	64 65 66	54 55 56	44 45 46	34 35 36	<u>الأولى</u>
2ن	8x0.25				يلون المسلك :	<u>الثانية</u>
2ن	4x0.5	$60 + 5 = 65 .$ $14 - 10 = 4.$			$37 - 5 = 32.$ $40 + 10 = 50$	<u>الثالثة</u>
2ن	4x0.5	<p>يسجل الساعة :</p> <p>21:00      13:00      08:00      07:00</p>			<u>الرابعة</u>	
2ن	4x0.5	<p>عدد صفحات القصة هو 37 صفحة</p> <p><math>27+10=37</math></p>			<u>الخامسة</u>	