

اختبار شهر أكتوبر في مادة الرياضيات

السنة الثانية ابتدائي

التمرين الأول: أصل بين كل عددين مجموعهما 100

90

50

30

60


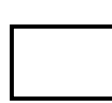
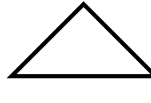

50

40

10

70

التمرين الثاني: رسم لتظهر نفس الاشكال على استقامة واحدة

(> = <):

التمرين الثالث:

180 . 108	58 . 133	101 . 101	148 . 125
-----------	----------	-----------	-----------

التمرين الرابع: اكتب العمليات عموديا ثم انجزها

80 + 100 = ...	119 + 36 = ...	145 + 121 = ...	105 + 15 = ...
..... + ----- + ----- + ----- + -----

التمرين الخامس:

بمناسبة عيد الأضحى المبارك باع فلاح 52 خروفا في اليوم الأول ثم باع 100 خروف في اليوم الثاني. جد عدد الخرفان التي باعها هذا الفلاح.

.....: عدد الخرفان التي باعها هو:.....

.....
.....

.....