

## المستوى : الثانية ابتدائي (2AP) ديسمبر 2018

### اختبار الفصل الأول في مادة التربية العلمية

الوضعية 1 : (3 ن) أجب ب " صحيح " أو " خطأ " أمام كل عبارة

التنفس غير ضروري للحياة .

الخلويات تقوي جسم الإنسان

يمتص النبات الأخضر الماء بواسطة جذوره

يذبل النبات الأخضر إذا خرجت جذوره فوق سطح الأرض

ينمو النبات الأخضر في المياه المالحة جدا.

التنفس هو عملية دخول الهواء إلى الجسم و خروجه

الوضعية 2: (2.5ن) املأ الفراغ بما يناسب (جذوره - فيزداد - الوسط - أجزاءه - ينمو )

- يمتص النبات الأخضر الماء من ..... الذي يعيش فيه بواسطة .....

و يتوزع إلى كامل .....

- جسمي ..... باستمرار، وتحدث عليه تغيرات كثيرة.....وزني وتطول قامتي.

الوضعية 3: (1ن) لون العبارات الصحيحة .

الماء المناسب لسقي النبات الأخضر هو :

ماء الأمطار

الماء الملوث

ماء البحر

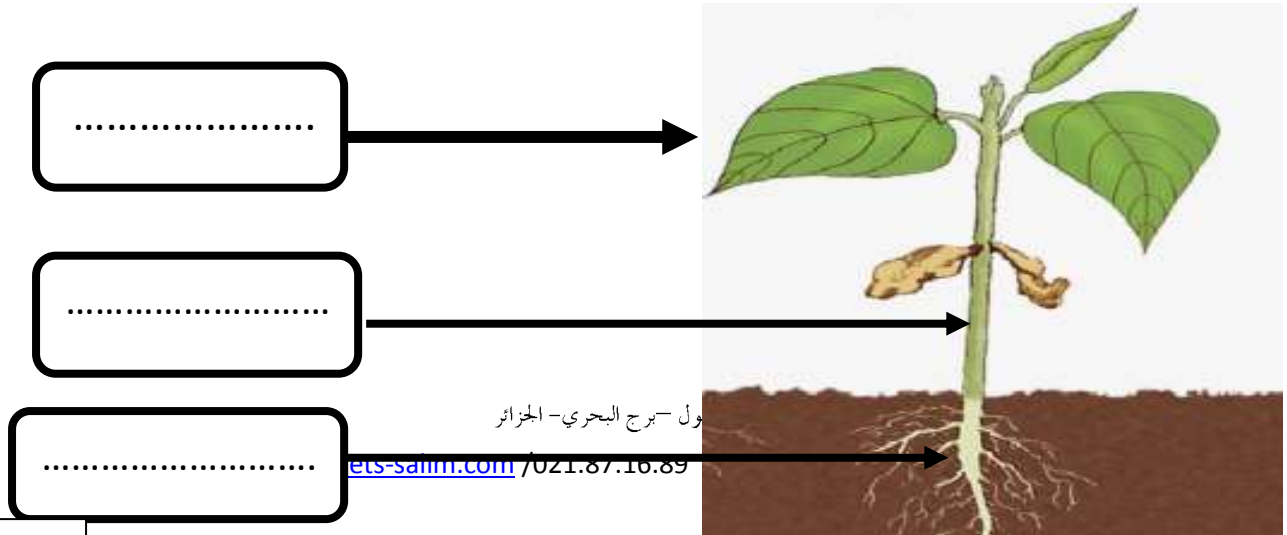
ماء الأنهار

الوضعية 4: (1.5) أضع علامة (X) تحت الصورة التي تمثل وجود هواء ملوث



الوضعية الإدماجية : (2ن)

- في بداية عطلة الربيع غرس خالد بذور الفاصولياء، أما مريم فغrst بذور القمح .  
- بعد عدة أيام نمت بذور الفاصولياء التي زرعها خالد ، أما بذور القمح التي زرعها مريم لم تنم ، لأنها ذهبت لقضاء عطلتها عند خالتها في الصحراء .  
+ نمت بذور الفاصولياء لأن خالد ..... بها .  
+ لم تنم بذور القمح لأن مريم لم ..... بها .  
- في الأسبوع الثالث لاحظ خالد ظهور أجزاء النبات. المتمثلة في الشكل التالي :  
اكمل البيانات المتمثلة في أجزاء النبات الأخضر :



## تصحيح اختبار الفصل الأول في مادة التربية العلمية الثانية ابتدائي

الوضعية 1 : (3ن ) أجب ب " صحيح " أو " خطأ " أمام كل عبارة

- ✚ التنفس غير ضروري للحياة . خطأ
- ✚ الحلويات تقوي جسم الإنسان خطأ
- ✚ يمتص النبات الأخضر الماء بواسطة جذوره صحيح
- ✚ يذبل النبات الأخضر إذا خرجت جذوره فوق سطح الأرض صحيح
- ✚ ينمو النبات الأخضر في المياه المالحة جدا. خطأ
- ✚ التنفس هو دخول الهواء إلى الجسم و خروجه صحيح

الوضعية 2: (2.5ن) املأ الفراغ بما يناسب (جذوره - فيزداد - الوسط - أجزائه - ينمو )

- يمتص النبات الأخضر الماء من الوسط. الذي يعيش فيه بواسطة جذوره  
و يتوزع إلى كامل أجزائه

- جسمي ينمو باستمرار، وتحدث عليه تغيرات كثيرة فيزداد. وزني وتطول قامتي.

الوضعية 3: (1ن) لون العبارات الصحيحة .

الماء المناسب لسقي النبات الأخضر هو :

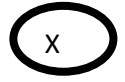
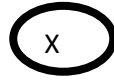
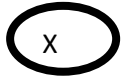
ماء الحنفيات

الماء الملوث

ماء البحر

ماء الأنهار

الوضعية 4: (1.5) أضع علامة (X) تحت الصورة التي تمثل وجود هواء ملوث



## الوضعية الإدماجية : (2ن)

- في بداية عطلة الربيع غرس خالد بذور الفاصولياء، أما مريم فغrst بذور القمح .  
 - بعد عدة أيام نمت بذور الفاصولياء التي زرعها خالد ، أما بذور القمح التي زرعها مريم لم تنم ، لأنها ذهبت لقضاء عطلتها عند خالتها في الصحراء .  
 + نمت بذور الفاصولياء لأن خالد اعتنى بها .  
 + لم تنم بذور القمح لأن مريم لم تعتن بها .  
 - في الأسبوع الثالث لاحظ خالد ظهور أجزاء النبات. المتمثلة في الشكل التالي :  
 اكمل البيانات المتمثلة في أجزاء النبات الأخضر :

