

مدرسة تواتي محمد
العلامة: 10 /
الملاحظة:

الاسم:
اللقب:
السنة الدراسية: 2018-2019

اختبار الفصل الأول في مادة التربية العلمية

التمرين الأول : (01 ن): أكمل بملء الفراغ

أثناء الشهيق يدخل الهواء إلى جسمي ف.....
ف.....
صدري وعند الزفير يخرج الهواء منه
صدري.....

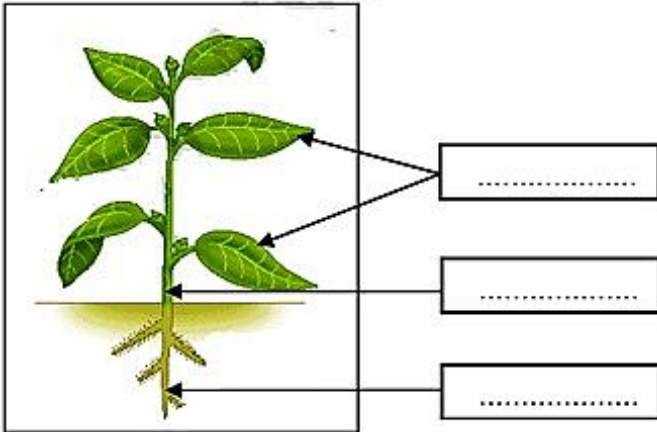
التمرين الثاني : (1.5 ن): أكمل الإجابة بما يناسب:

عندما أنمو تطراً على جسمي تغيرات كثيرة :

- -
- -
- -


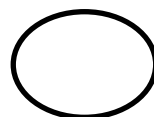
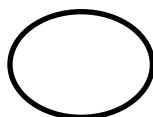
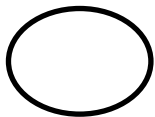
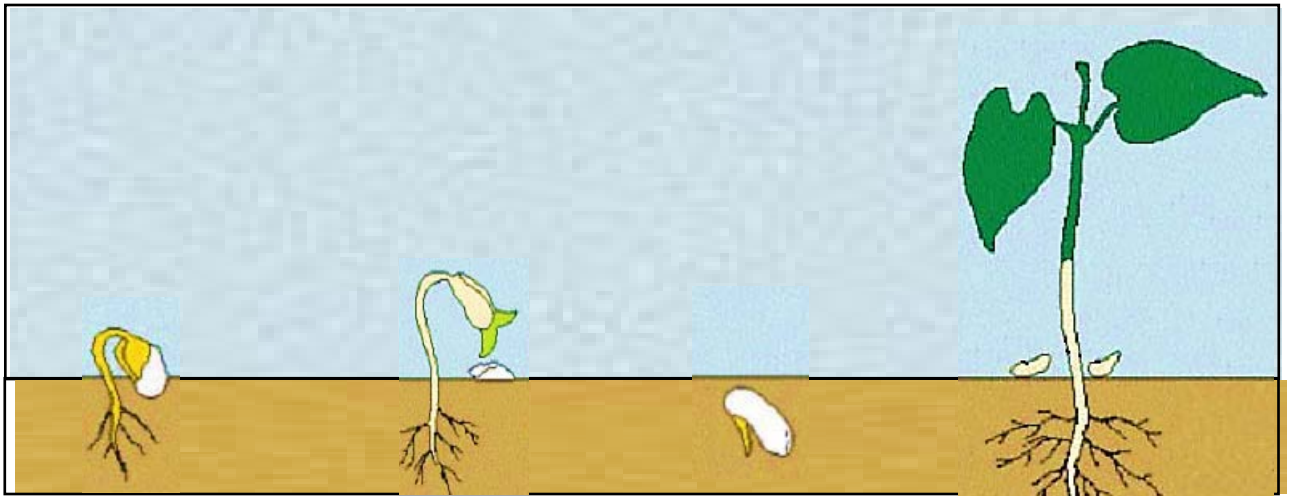
التمرين الثالث : (1.5 ن)

لاحظ الرسم ثم أكمل البيانات :



التمرين الرابع: (02 ن):

رتب مراحل نمو النبات الأخضر :



التمرين الخامس : (02 ن) :ضع صحيح (ص) أو خطأ (خ) أمام كل جملة :

- 1- لا أمارس الرياضة لأنها مفيدة .
- 2- لأحافظ على صحتي أحترم مواعيد الأكل .
- 3- ماء البحر غير صالح لسقي النبات .
- 4- لا أحتاج إلى الهواء أثناء النوم .

التمرين السادس : (02 ن)

صنف في الجدول ما يلي :

خضر - رقائق البطاطا - مشروبات غازية - سمك - حليب - بيض - كاشير

أغذية غير صحية	أغذية صحية
.....
.....
.....
.....