

الجمهورية الجزائرية الديمقراطية الشعبية

وزارة التربية الوطنية

مؤسسة التربية والتعليم الخاصة سليم

ETABLISSEMENT PRIVE D'EDUCATION ET D'ENSEIGNEMENT SALIM



www.ets-salim.com



021 87 10 51



021 87 16 89



Hai Galloul - bordj el-bahri alger

إعتماد رقم 67 بتاريخ 06 سبتمبر 2010

رخصة فتح رقم 1088 بتاريخ 30 جانفي 2011

مختبري - ابتدائي - متوسط - ثانوي

جانفي 2014

المستوى الثاني ابتدائي 2AP

الإختبار رقم 1 للفصل الثاني في مادة الرياضيات

النشاط 1:

رتب الأعداد التالية ترتيبا تصاعديا:

406 – 273 – 331 – 489 – 237 – 337 – 421

النشاط 2:

أكتب الأعداد المحصورة بين العددين : 347 – 431

390 – 420 – 346 – 460 – 441 – 329 – 351

النشاط 3:

أفكك الأعداد التالية حسب المثال:

$$357 = (300+57) = (200+100) + (20+30)+7$$


$$260 = (\dots+\dots) = (\dots+\dots) + (\dots+\dots)$$

$$422 = (\dots+\dots) = (\dots+\dots) + (\dots+\dots)+\dots$$

$$385 = (\dots+\dots) = (\dots+\dots) + (\dots+\dots)+\dots$$


النشاط 4:

أكمل




الساعة تشير إلى

.....




الساعة تشير إلى

.....



الساعة تشير إلى

الثالثة والنصف



الساعة تشير إلى

السابعة

مسألة:

بمناسبة المولد النبوي الشريف أعطت لك أمك النقود التالية:

20 دج

100 دج

100 دج

50 دج

- كم دينارًا صار عندك؟

- ذهبت إلى المكتبي فاشتريت كتابًا عن حياة الرسول صل الله عليه وسلم بـ 130 دج


- كم يرجع لك المكتبي؟

الأجوبة

العمليات

بالتوفيق

الصفحة 2/2



الجمهورية الجزائرية الديمقراطية الشعبية

وزارة التربية الوطنية

مؤسسة التربية و التعليم الخاصة **سليم**

ETABLISSEMENT PRIVE D'EDUCATION ET D'ENSEIGNEMENT SALIM



www.ets-salim.com



021 87 10 51



021 87 16 89



Hai Galloul - bordj el-bahri alger

رخصة فتح رقم 1088 بتاريخ 30 جانفي 2011

مختبري - ابتدائي - متوسط - ثانوي

إعتماد رقم 67 بتاريخ 06 سبتمبر 2010

جانفي 2014

المستوى الثاني ابتدائي 2AP

تصحيح الإختبار رقم 1 للفصل الثاني في مادة الرياضيات

النشاط 1 :

رتب الاعداد التالية ترتيبا تصاعديا:

406 – 273 – 331 – 489 – 237 – 337 – 421

237 - 273 - 331 - 337 - 406 - 421 - 489

النشاط 2 :

أكتب الاعداد المحصورة بين العددين : 347 – 431

390 – 420 – 346 – 460 – 441 – 329 – 351

351 - 390 - 420

النشاط 3 :

أفكك الأعداد التالية حسب المثال:

$$357 = (300+57) = (200+100) + (20+30)+7$$


$$260 = (200+60) = (100+100) + (30+30)$$

$$422 = (400+22) = (200+200) + (10+10)+2$$


$$385 = (300+85) = (200+100) + (40+40)+5$$

النشاط 4:

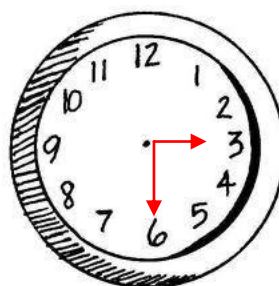
أكمل




الساعة تشير إلى
الواحدة والنصف



الساعة تشير إلى
السادسة



الساعة تشير إلى
الثالثة والنصف



الساعة تشير إلى
السابعة

مسألة:

بمناسبة المولد النبوي الشريف أعطت لك أمك النقود التالية:

20 دج

100 دج

100 دج

50 دج

- كم دينارًا صار عندك؟

- ذهبت إلى المكتبي فاشتريت كتابًا عن حياة الرسول صل الله عليه وسلم بـ 130 دج

- كم يرجع لك المكتبي؟

الأجوبة

صار عندي: 290 دج

100 دج + 100 دج + 50 دج + 20 دج + 20 دج

يرجع المكتبي: 140 دج

290 دج - 130 دج = 160 دج

العمليات

100 270

100 - 130

+ 50

20 140

20

290