

التمرين 1 : أكتب الأعداد المحصورة بين العددين 430 950

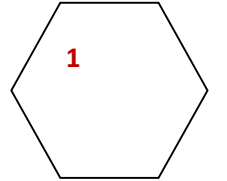
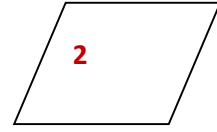
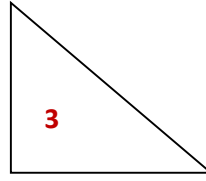
370 834 180 710 290 610 920 300 480 560

التمرين 2 : = > <

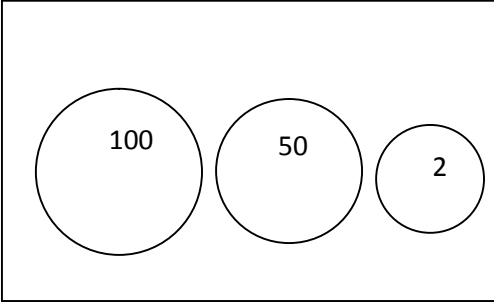
460 . 360 / 130 . 103 / 100+ 200+500 . 800 / 640 . 570 / 230 . 320

التمرين 3 :

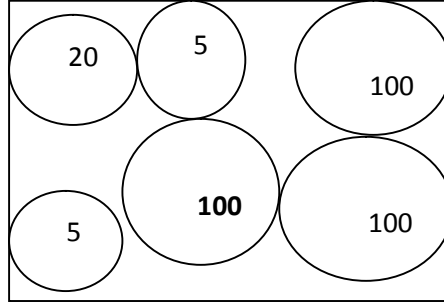
		1
		2
		3



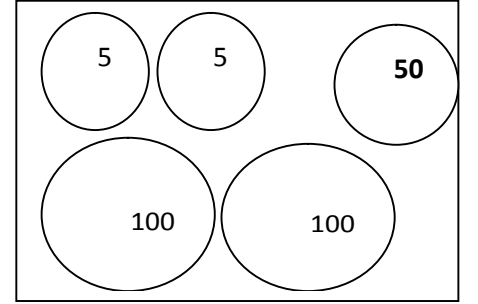
التمرين 3: أربط بينهم بين مبلغ ورسمه



260 ديناراً



152 ديناراً



330 ديناراً

175

160

390

التمرين 4 :

كم خبزة بقي

.....

.....

