
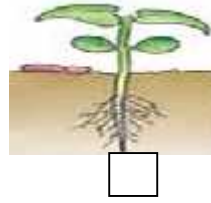
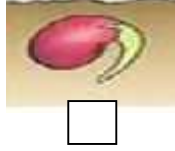

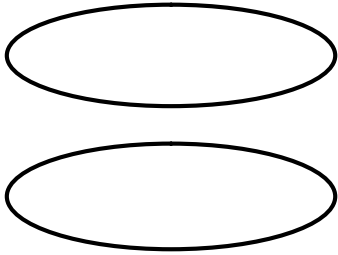


الاختبار الثاني في التربية العلمية والتكنولوجيا

1 - 2 - 3 - 4 . (02) :



أربط الحدث بما يناسبه : (02)



- الطفل ينام ويحلم .
- المسلم يصلي .
- الأب يتفرج التلغاز ويرتشف القهوة .
- تد الدجاجة البيض ثم تحضنه .

أكمل مكان النقط بما يناسب : (04)

هي :

.....

الشهر يوما

..... يوما . :

..... أيام .

العناصر حسب اتجاه السهم : " نُبْيَّة " - " ساق " - " جذر " - " أوراق " (02)

