

المادة: التربية المدنية

الاسم واللقب: .....

المستوى: الثانية ابتدائي

التاريخ: 2019/03/03

## اختبار الفصل الثاني

### التمرين الأول:


أكمل الفراغ بالكلمة المناسبة:

(الطاولات - نظافة - الأوساخ - الجدران - الأوراق)

أشارك في المحافظة على ..... مدرستي: فلا أرمي ..... و .....  
على الأرض، ولا أكتب على .....

### التمرين الثاني:

نحن أطفال لنا الحق في الراحة. ضع العلامة (X) تحت الصورة التي تُعبّر عن الراحة:



### التمرين الثالث:

حوّط البطاقة التي تدل على النظافة:

المشاركة في حملات التنظيف

الكتابة على الطاولات

نظافة الجسم

رمي الأوساخ

## التمرين الرابع:

أجب بـ (صحيح) أو (خاطئ):

..... - أشارك في المحافظة على نظافة المحيط وجماله:

..... - أقتصد في استعمال الماء:

..... - أنظم أوقات راحتي بالنوم كثيرًا:

..... - ممارسته الهوائية المفضلة من واجبي:

..... - النظافة وقاية وحماية من الأمراض:

..... - الماء ضروري لحياة الإنسان والحيوان والنبات:

## الوضعية الإدماجية:

عبّر عن كل صورة، وأذكر ما هو أفضل تصرف؟

بسة "الرجاء والتفوق" الخاصة  
Ecole Erradja wa Tafaou  
ÉCOLE PRIVÉE



الصورة 1:



الصورة 2:

المادة: التربية المدنية

المستوى: الثانية ابتدائي

## تصحيح اختبار الفصل الثاني

الاسم واللقب: .....

التاريخ: .....

### التمرين الأول:



أكمل الفراغ بالكلمة المناسبة:

(الطاولات - نظافة - الأوساخ - الجدران - الأوراق)

أشارك في المحافظة على نظافة مدرستي: فلا أرمي الأوساخ والأوراق على الأرض، ولا أكتب على الطاولات والجدران

### التمرين الثاني:

نحن أطفال لنا الحق في الراحة. ضع العلامة (X) تحت الصورة التي تُعبّر عن الراحة:



### التمرين الثالث:

حوط البطاقة التي تدل على النظافة:

المشاركة في حملات التنظيف

الكتابة على الطاولات

نظافة الجسم

رمي الأوساخ

## التمرين الرابع:

أجب بـ (صحيح) أو (خاطئ):

صحيح - أشارك في المحافظة على نظافة المحيط وجماله

صحيح - أقتصد في استعمال الماء:

خاطئ - أنظم أوقات راحتي بالنوم كثيرًا:

خاطئ - ممارسته الهوائية المفضلة من واجبي:

صحيح - النظافة وقاية وحماية من الأمراض:

صحيح - الماء ضروري لحياة الإنسان والحيوان والنبات:

## الوضعية الإدماجية:

عبّر عن كل صورة، وأذكر ما هو أفضل تصرف؟

بسة "الرجاء والتفوق" الخاصة

Ecole Erradja wa Tafaou  
ÉCOLE PRIVÉE



الصورة 1: رجل يستعمل الدلو لغسل السيارة فهو يقتص في استعمال الماء



الصورة 2: رجل يستعمل الخرطوم لغسل السيارة فهو يبذر الماء أفضل تصرف هو

التصرف الموجود في الصور 01