

العلامة:  $\frac{10}{10}$

مدرسة: الإخوة نواورية - المقطع - الرصيفة.  
السنة الدراسية: 2020/2019.  
الأستاذ: عوج عبد الصمد

الاسم:  
اللقب:  
المستوى: الثالثة ابتدائي.

2019 / 12 /

## إختبار الفصل الأول في مادة الرياضيات

الأسئلة:

1- التمرين الأول: اكتب الأعداد بالحروف أو بالأرقام

.....	79	.....	سبعة وتسعون
.....	190	.....	مئتان وخمسة عشر
.....	410	.....	ثلاث مئة



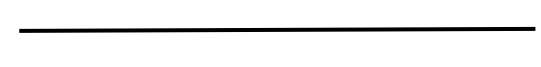

2- التمرين الثاني: أحسب العمليات التالية:

$\begin{array}{r} + 210 \\ + 100 \\ \hline \hline \end{array}$	$\begin{array}{r} + 456 \\ + 314 \\ \hline \hline \end{array}$	$\begin{array}{r} - 518 \\ - 404 \\ \hline \hline \end{array}$	$\begin{array}{r} - 789 \\ - 546 \\ \hline \hline \end{array}$
--	--	--	--

3- التمرين الثالث: أكمل متتالية الأعداد الآتية:

735										745			
-----	--	--	--	--	--	--	--	--	--	-----	--	--	--

4- التمرين الرابع: رتب المستقيمات من الأصغر إلى الأكبر بالأرقام من 1 إلى 4:

			
.....	.....	.....	.....


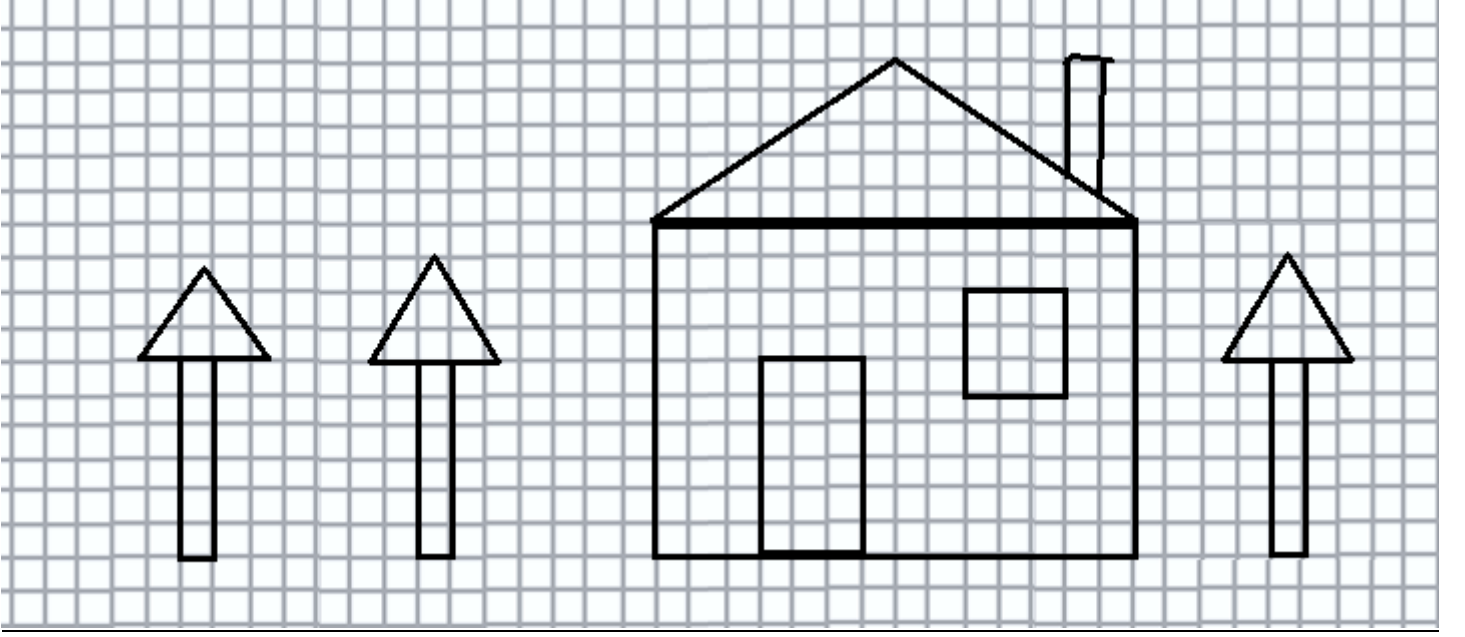
5- التمرين الخامس: اكتب كما في المثال

54 =	54 =	78 =	86 = 80 + 6
754 =	903 =	627 =	841 = 800 + 40 + 1

6- التمرين السادس: اكتب كما في المثال

987	748	65	645 وع م
-----	-----	----	-------------

الوضعية الإدماجية: أنقل الرسم على المرصوفة:



بالتوفيق أبنائي وبناتي