

امتحان الفصل الأول في التربية العلمية رقم 1

الاسم و اللقب : .....

السؤال الأول : ( 2 ن )

أملأ الفراغ بالكلمات المناسبة :

- الأقل ، صحتنا ، متنوعة ، التغذية ، خطيرة ، مجموعة ، الهزال ، غذاء  
\* يُسبب سوء ..... ، مشاكل صحية ..... ، مثل السمنة و الهزال .  
\* للحفاظ على ..... ، يجب أن تكون تغذيتنا ..... ، تتوفر على غذاء واحد من كل ..... من  
المجموعات الأساسية على .....

السؤال الثاني : ( 3 ن )

ضع " صحيح " أو " خطأ " أمام كل عبارة :

- \* يتعرض ملايين الأطفال في العالم لمشاكل صحية .  
\* الإكثار من تناول الحلويات يؤدي إلى الهزال .  
\* القلب لا ينبض باستمرار بل من حين لآخر .  
\* أثناء الشهيق يدخل الهواء إلى الجسم .  
\* تصنف الأغذية إلى 4 مجموعات أساسية .  
\* يزداد الجهد العضلي بزيادة النشاط .

السؤال الثالث : ( 2 ن )

أربط بين المرض و أسبابه :

- \* السمنة .  
\* الهزال .  
\* ضعف الرؤية ليلاً .  
\* الكساح .  
• إفتقار الوجبات الغذائية إلى الأوم .  
• إفتقار الوجبات الغذائية للحليب و مشتقاته .  
• الإفراط في تناول الأغذية السكرية و العجائن .  
• إفتقار الوجبات الغذائية إلى الخضر و الفواكه .

السؤال الرابع : ( 3 ن )

ضع علامة ( x ) في الخانة المناسبة من الجدول :

| م . غذائية   | مجموعة الخضر و الفواكه | مجموعة الأوم | مجموعة الدهون | مجموعة الخبوب | مجموعة الحليب و مشتقاته | مجموعة الماء و المشروبات |
|--------------|------------------------|--------------|---------------|---------------|-------------------------|--------------------------|
| سمك التونة   |                        |              |               |               |                         |                          |
| المعكرونة    |                        |              |               |               |                         |                          |
| الخبز        |                        |              |               | x             |                         |                          |
| التفاح       |                        |              |               |               |                         | x                        |
| عصير الليمون |                        |              |               |               |                         | x                        |
| زيت الزيتون  |                        |              |               |               |                         | x                        |

تصحيح امتحان الفصل الأول في التربية العلمية رقم 1

حل السؤال الأول : ( 2 ن )

أملأ الفراغ بالكلمات المناسبة :

- الأقل ، صحتنا ، متنوعة ، التغذية ، خطيرة ، مجموعة ، الهزال ، غذاء
- \* يُسبب سوء التغذية ، مشاكل صحية خطيرة ، مثل السمنة و الهزال .
- \* للحفاظ على صحتنا ، يجب أن تكون تغذيتنا متنوعة ، تتوفر على غذاء واحد من كل مجموعة من المجموعات الأساسية على الأقل .

حل السؤال الثاني : ( 3 ن )

ضع " صحيح " أو " خطأ " أمام كل عبارة :

- \* يتعرض ملايين الأطفال في العالم لمشاكل صحية .
- \* الإكثار من تناول الحلويات يؤدي إلى الهزال .
- \* القلب لا ينبض باستمرار بل من حين لآخر .
- \* أثناء الشهيق يدخل الهواء إلى الجسم .
- \* تصنف الأغذية إلى 4 مجموعات أساسية .
- \* يزداد الجهد العضلي بزيادة النشاط .
- صحيح
- خطأ
- خطأ
- صحيح
- خطأ
- صحيح

حل السؤال الثالث : ( 2 ن )

أربط بين المرض و أسبابه :

- \* السمنة
- \* الهزال
- \* ضعف الرؤية ليلاً
- \* الكساح
- \* إفتقار الوجبات الغذائية إلى اللحوم .
- \* إفتقار الوجبات الغذائية للحليب و مشتقاته .
- \* الإفراط في تناول الأغذية السكرية و العجائن .
- \* إفتقار الوجبات الغذائية إلى الخضر و الفواكه .

حل السؤال الرابع : ( 3 ن )

ضع علامة ( x ) في الخانة المناسبة من الجدول :

| م . غذائية   | مجموعة الخضر و الفواكه | مجموعة اللحوم | مجموعة الدهون | مجموعة الحبوب | مجموعة الحليب و مشتقاته | مجموعة الماء و المشروبات |
|--------------|------------------------|---------------|---------------|---------------|-------------------------|--------------------------|
| سمك التونة   |                        | x             |               |               |                         |                          |
| المعكرونة    |                        |               |               | x             |                         |                          |
| الخبز        |                        |               |               |               | x                       |                          |
| التفاح       | x                      |               |               |               |                         |                          |
| عصير الليمون |                        |               |               |               |                         | x                        |
| زيت الزيتون  |                        |               | x             |               |                         |                          |

السنة الدراسية : 2021/2020

القسم : الثالث ابتدائي

ابتدائية : فرهي رشيد

المقاطعة ع 05 بالأخضرية

امتحان الفصل الأول في التربية العلمية رقم 2

الاسم و اللقب : .....

السؤال الأول : ( 2,5 ن )

أملأ الفراغ بالكلمات المناسبة : يتسارع ، نشاطه ، ينقص ، يستعيد ، الجهد العضلي

\* يستجيب القلب لزيادة الجهد العضلي بزيادة .....

\* عند زيادة ..... تزداد دقات القلب و ..... النبض ، و عندما ..... الجهد

العضلي ..... القلب نشاطه العادي .

السؤال الثاني : ( 3 ن )

اختر الجواب الصحيح :

\* عدد دقات القلب لشخص ما في حالة راحة هو : 110 دقة ، 50 دقة ، 70 دقة .

\* تصنف الأغذية التي تناولها إلى : مجموعتين ، 6 مجموعات ، 4 مجموعات .

\* الإكثار من تناول الدهون و السكريات يؤدي إلى : السمنة ، الهزال ، الكساح .

\* ينبض القلب فتنفس : في النهار فقط ، في الليل فقط ، باستمرار ليلاً و نهاراً .

\* تنتقل الحيوانات في أوساطها بحثاً عن : الصداقة ، الغذاء ، المأوى .

\* الحيوانات الأخصوية هي التي تتركز على : أصابع أقدامها ، حوافر أقدامها ، راحات أقدامها .


السؤال الثالث : ( 2 ن )

أربط بينهم بين الغذاء و المجموعة الغذائية التي ينتمي إليها :



السؤال الرابع : ( 2,5 ن )

ضع تحت كل صورة عدد دقات القلب المناسبة للجهد العضلي : 75 دقة ، 105 دقة ، 130 دقة



.....

.....

.....

.....

.....

بالتوفيق

130

75

105

75

130

تصحيح امتحان الفصل الأول في التربية العلمية رقم 2

حلّ السؤال الأول : ( 2,5 ن )

أملأ الفراغ بالكلمات المناسبة: يتسارع ، نشاطه ، ينقص ، يستعيد ، الجهد العضلي  
 \* يستجيب القلب لزيادة الجهد العضلي بزيادة نشاطه .  
 \* عند زيادة الجهد العضلي تزداد دقات القلب و يتسارع النبض ، و عندما ينقص الجهد العضلي يستعيد القلب نشاطه العادي .

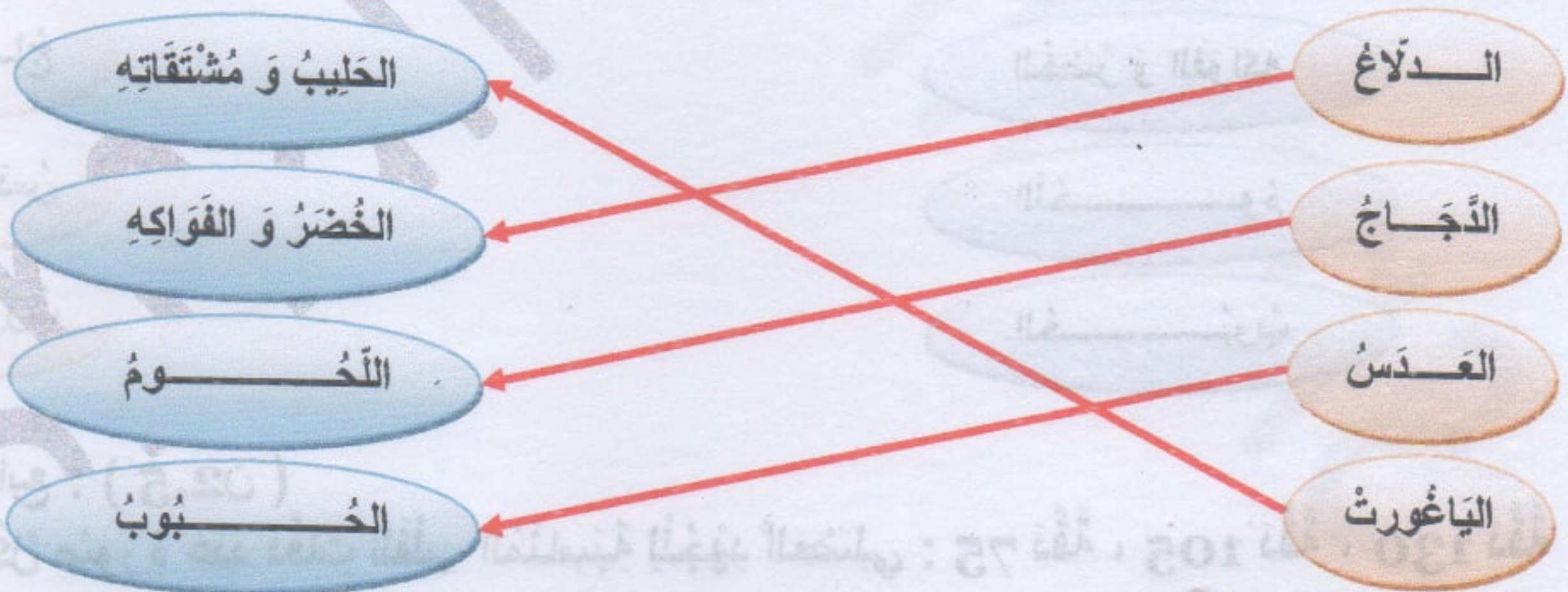
حلّ السؤال الثاني : ( 3 ن )

أختار الجواب الصحيح :

\* عدد دقات القلب لشخص ما في حالة راحة هو : 110 دقة ، 50 دقة ، 70 دقة  
 \* تصنف الأغذية التي نتناولها إلى : مجموعتين ، 6 مجموعات ، 4 مجموعات  
 \* الأكثر من تناول الدهون و السكريات يؤدي إلى : السمنة ، الهزال ، الكساح  
 \* ينبض القلب فنتنفس : في النهار فقط ، في الليل فقط ، باستمرار ليلاً و نهاراً  
 \* تتنقل الحيوانات في أوساطها بحثاً عن : الصداقة ، الغذاء ، المأوى  
 \* الحيوانات الأخصية هي التي تتركز على : أصابع أقدامها ، حوافر أقدامها ، راحات أقدامها

حلّ السؤال الثالث : ( 2 ن )

أربط بينهم بين الغذاء و المجموعة الغذائية التي ينتمي إليها :




حلّ السؤال الرابع : ( 2,5 ن )

ضع تحت كل صورة عدد دقات القلب المناسبة للجهد العضلي : 75 دقة ، 105 دقة ، 130 دقة



130 دقة




75 دقة



105 دقة



75 دقة



130 دقة

امتحان الفصل الأول في التربية العلمية رقم 3

الاسم و اللقب : .....

السؤال الأول : ( 1,5 ن )

أملأ الفراغ بالكلمات المناسبة : تَسْبَحُ ، تَطِيرُ ، تَرَكُضُ ، تَمْشِي ، تَقْفُزُ .  
\* تَنْتَقِلُ الْحَيَوَانَاتُ فِي ..... بِأَنْمَاطٍ مُخْتَلِفَةٍ مِنْهَا مَنْ ..... أَوْ ..... ، وَ مِنْهَا مَنْ ..... فِي الْهَوَاءِ ، أَوْ ..... فِي الْمَاءِ .

السؤال الثاني : ( 3 ن )

ضع " صَحِيحٌ " أَوْ " خَطَأٌ " أَمَامَ كُلِّ عِبَارَةٍ :  
\* يُوجَدُ الْقَلْبُ فِي الْجِهَةِ الْيُسْرَى مِنَ الصَّوَدْرِ .....  
\* يَنْبُضُ الْقَلْبُ عِنْدَمَا نَقُومُ بِجُهِدٍ عَظِيمٍ فَقَطْ .....  
\* نَتَحَسَّسُ نَبْضَ الْقَلْبِ بِوَضْعِ السَّبَّابَةِ وَ الْوَسْطَى فِي أَمَاكِنٍ مُحَدَّدَةٍ .....  
\* عَدَمُ مُمَارَسَةِ الرِّيَاضَةِ يُضْعِفُ الْقَلْبَ .....  
\* التَّنَقُّلُ خَاصِيَةٌ تَتَمَيَّزُ بِهَا الْحَيَوَانَاتُ وَ النَّبَاتَاتُ .....  
\* النَّبَاتَاتُ كَمَا أَنَّ حَيُّ يُلَبِّي حَاجِيَاتَهُ الْغِذَائِيَّةَ دُونَ تَتَقَلُّ .....  
.....

السؤال الثالث : ( 3 ن )

أربط كل جملة بما يناسبها :  
\* نَبْضُ الْقَلْبِ هُوَ عَدَدُ دَقَّاتِهِ .....  
\* تَرَاكُمُ الدُّهُونُ فِي الدَّمِّ سَبَبُهُ .....  
\* يَنْبُضُ الْقَلْبُ وَ اتَّنَفَّسُ .....  
\* تُصَنَّفُ الْأَغْذِيَّةُ ضِمْنَ .....  
• بِالسِّتِمْرَارِ فِي اللَّيْلِ وَ النَّهَارِ .....  
• سِتَّةُ ( 6 ) مَجْمُوعَاتٍ أَسَاسِيَّةٍ .....  
• الْإِكْتَارُ مِنْ تَنَاوُلِ الدُّهُونِ .....  
• فِي دَقِيقَةٍ وَاحِدَةٍ مِنَ الزَّمَنِ .....

السؤال الرابع : ( 2,5 ن )

صنّف الصور التالية حسب المجموعة الغذائية التي تنتمي إليها :



.....

.....

.....

.....

.....

.....

تصحيح امتحان الفصل الأول في التربية العلمية رقم 3

حلّ السؤال الأول : ( 1,5 ن )

أملأ الفراغ بالكلمات المناسبة : تسبخ ، تطير ، تركض ، تمشي ، تقفز ، أوساطها .  
\* تنتقل الحيوانات في أوساطها بأنماط مختلفة منها من تركض أو تمشي أو تقفز ، و منها من تطير في الهواء ، أو في تسبخ الماء .

حلّ السؤال الثاني : ( 3 ن )

أضع " صحيح " أو " خطأ " أمام كل عبارة :

صحيح

خطأ

صحيح

صحيح

خطأ

صحيح

- \* يوجد القلب في الجهة اليسرى من الصدر
- \* ينبض القلب عندما نقوم بجهد عضلي فقط
- \* نتحسس نبض القلب بوضع السبابة و الوسطى في أماكن محددة
- \* عدم ممارسة الرياضة يضاعف القلب
- \* التنقل خاصية تتميز بها الحيوانات و النباتات
- \* النباتات كائن حي يلبي حاجياته الغذائية دون تنقل

حلّ السؤال الثالث : ( 3 ن )

أربط كل جملة بما يناسبها :

- بالستمرار في الليل و النهار
- ستة ( 6 ) مجموعات أساسية
- الإكثار من تناول الدهون
- في دقيقة واحدة من الزمن

- \* نبض القلب هو عدد دقاته
- \* تراكم الدهون في الدم سببه
- \* ينبض قلبي و أتنفس
- \* تصنف الأغذية ضمن

حلّ السؤال الرابع : ( 2,5 ن )

أصنّف الصور التالية حسب المجموعة الغذائية التي تنتمي إليها :



مجموعة الماء و المشروبات



مجموعة الحضر و الفواكه



مجموعة الحبوب



مجموعة اللحوم



مجموعة الحضر و الفواكه



مجموعة الحضر و الفواكه

السنة الدراسية : 2021/2020

القسم : الثالث ابتدائي

ابتدائية : فرهي رشيد

المقاطعة ع 05 بالأخضرية

امتحان الفصل الأول في التربية العلمية رقم 4

الاسم و اللقب : .....

السؤال الأول : ( 1,5 ن )

أكمل الفراغ بما يناسب :

- \* الحيوانات الأخصوية هي الحيوانات التي تتركز على .....
- \* الحيوانات الأصبعية هي الحيوانات التي تتركز على .....
- \* الحيوانات ذوات الحوافر هي الحيوانات التي تتركز على .....

السؤال الثاني : ( 3 ن )

أنسب لكل حيوان الأثر الذي تتركه أقدامه :



الجمال

الأرنب

الحمامة

الدب

الماعز

الكلب

السؤال الثالث : ( 2,5 ن )

أربط كل عبارة بما يناسبها :

- \* جسم التمساح كبير و ثقيل
- \* الحصان قوائم طويلة و قوية
- \* للحمام جسم خفيف أنسيابي
- \* شكل الأسماك مغزلي
- \* يوجد جلد بين أصابع
- \* الأطراف الخافية للضفدع
- \* لها زعانف و جسمها أملس
- \* و أطرافه صغيرة جدا و غير قوية
- \* و أجنحة طويلة و يغطي صدره عضلات قوية
- \* جدا ، ينتهي كل قائم بحافير

السؤال الرابع : ( 3 ن )

أربط كل حيوان بالغذاء المناسب :



أكلات اللحوم

أكلات العشب

أكلات كل شيء



بالتوفيق

تصحيح امتحان الفصل الأول في التربية العلمية رقم 4

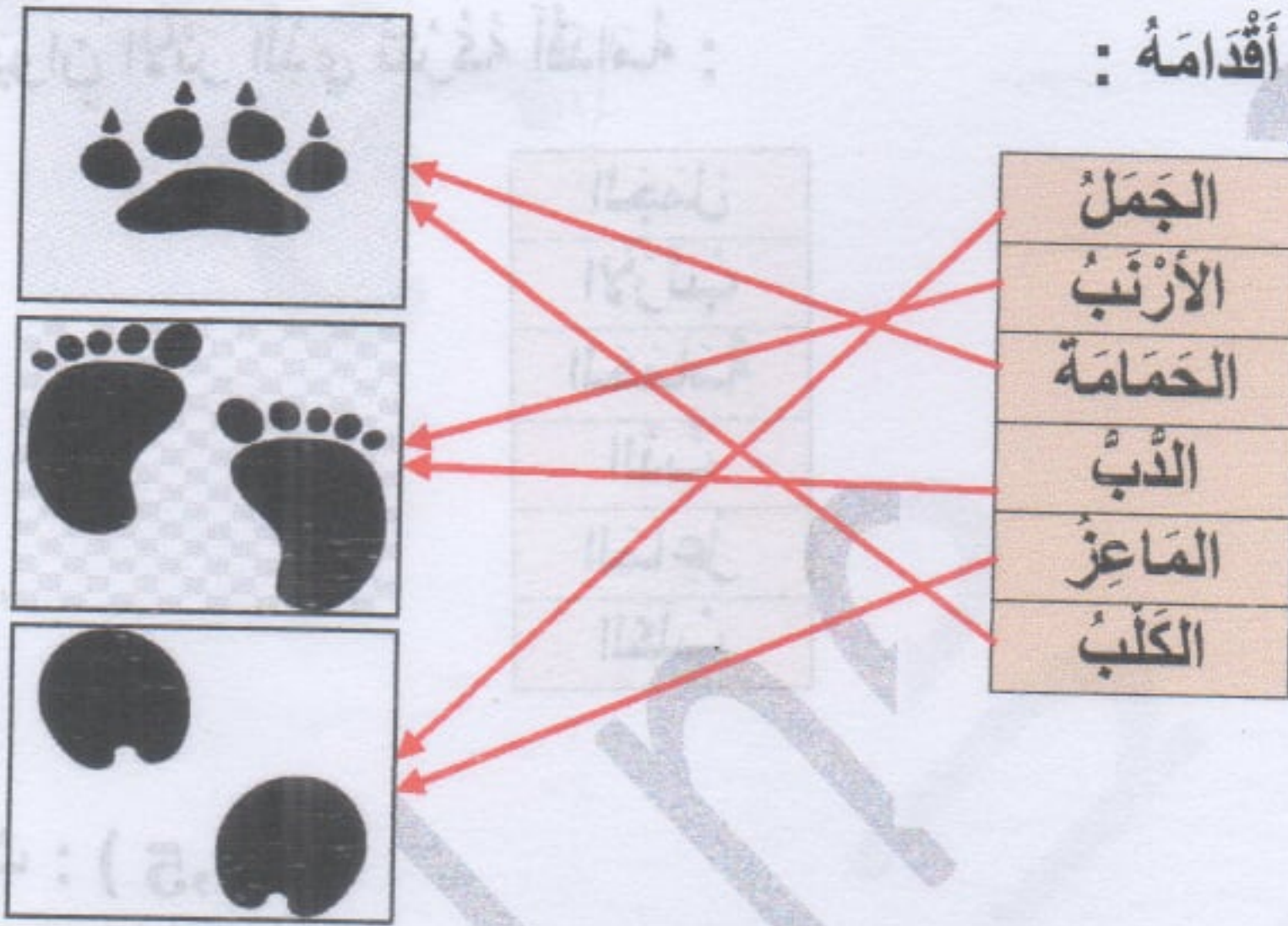
حلّ السؤال الأول : ( 1,5 ن )

أكمل الفراغ بما يناسب :

- \* الحيوانات الأخصيية هي الحيوانات التي تتركز على **راحات أقدامها** مثل : الأرنب ، الدب ، القنفذ ....
- \* الحيوانات الأصبعية هي الحيوانات التي تتركز على **أصابع أقدامها** مثل : الكلاب ، القبط ، الطيور .
- \* الحيوانات ذوات الحوافر هي الحيوانات التي تتركز على **حوافر أقدامها** مثل : الحصان ، البقرة ، الماعز .

حلّ السؤال الثاني : ( 3 ن )

أنسب لكل حيوان الأثر الذي تتركه أقدامه :



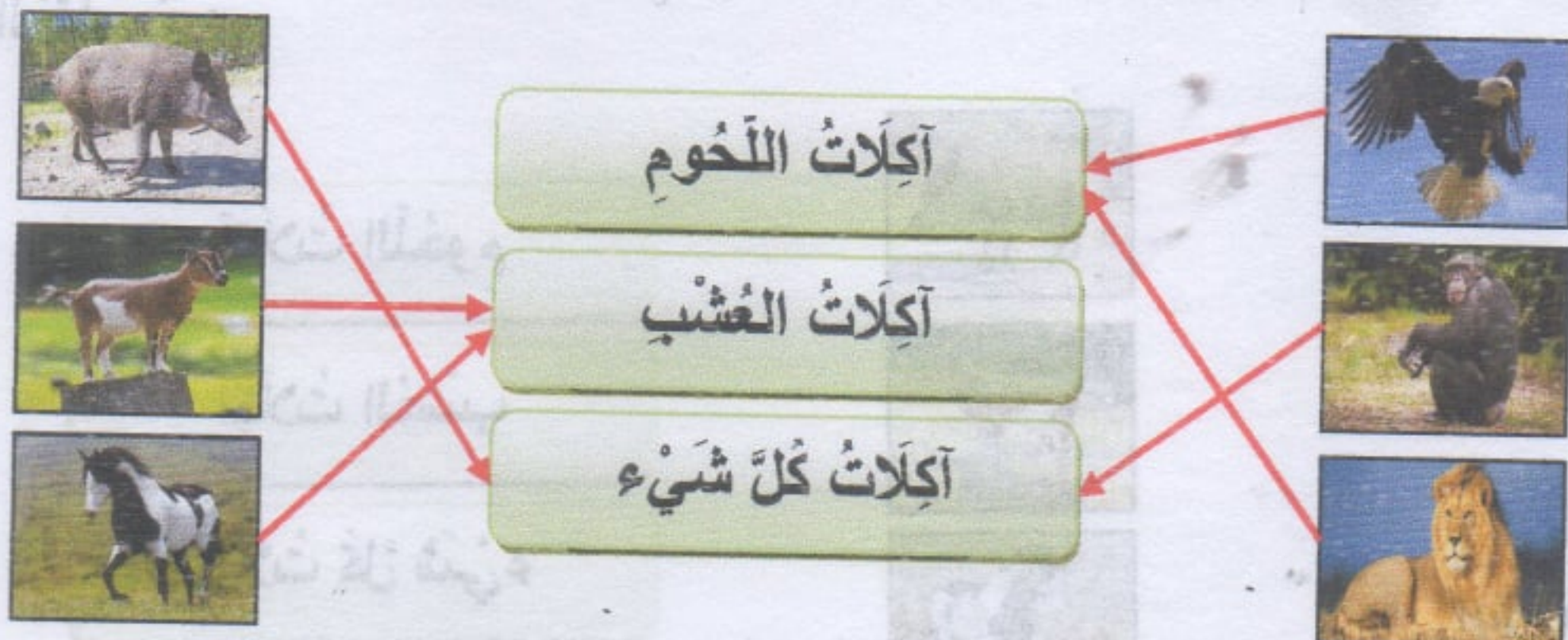
حلّ السؤال الثالث : ( 2,5 ن )

أربط كل عبارة بما يناسبها :

- \* جسم التمساح كبير و ثقيل
- \* للحصان قوائم طويلة وقوية
- \* للحمام جسم خفيف انسيابي
- \* شكل الأسماك مغزلي
- \* يوجد جلد بين أصابع
- \* الأظراف الخافية للضفادع
- \* لها زعانف و جسمها أملس
- \* و أظرافه صغيرة جدًا و غير قوية
- \* و أجنحة طويلة و يغطي صدره عضلات قوية
- \* جدًا ، ينتهي كل قائم بحافير

حلّ السؤال الرابع : ( 3 ن )

أربط كل حيوان بالغذاء المناسب :





## امتحان الفصل الأول في التربية العلمية رقم 5

الاسم و اللقب : .....

السؤال الأول : ( 1,5 ن )

أملأ الفراغ بالكلمات المناسبة : مُنتَفَخ ، ضَعِيفَةٌ ، تَغْذِيَةٌ ، الأَطْفَالُ ، اللُّحُومُ ، المَرَضُ .

\* يُصِيبُ مَرَضُ أَل " كَوَاشِيُورُكُورُ " بَيْنَ 6 أَشْهُرٍ وَ 3 سَنَوَاتٍ ، حَيْثُ تَنَعَّدِمُ .....

\* الحَلِيبُ وَ البَيْضُ فِي ..... هُوَ لِأَيِّ الأَطْفَالِ .

\* يَظْهَرُ المُصَابُ بِهَذَا ..... بَعْضَاتٍ ..... وَ بَطْنٍ .....

: قَابِلَةٌ لِأَيِّ وَ لَمَّا " لَعَطَ " عَا " فَرِحْتَهُ " وَ تَمَّ

السؤال الثاني : ( 3 ن )

ضَعُ " صَحِيحٌ " أَوْ " خَطَأٌ " أَمَامَ كُلِّ عِبَارَةٍ :

\* يُصِيبُ مَرَضُ " الكَوَاشِيُورُكُورُ " الأَطْفَالُ بَيْنَ 6 أَشْهُرٍ وَ 3 سَنَوَاتٍ .

\* لِإِحْفَاطِ عَلى صِيَالِحَاتِنَا يَجِبُ أَنْ تَكُونَ أَغْذِيَتُنَا مَتْنُوعَةً .

\* الحُوتُ الأَزْرَقُ مِنْ أَصْغَرِ الكَائِنَاتِ الحَيَّةِ فِي العَالَمِ .

\* الجَمَلُ حَيوانٌ يَنْتَقِلُ فِي الهَيَاوَاءِ .

\* القِطُّ مِنْ الحَيواناتِ ذَوَاتِ الحَيَاوَاتِ وَافِرٍ .

\* يَقْفِزُ الضَّفْدَعُ بِفَضْلِ قَوَائِمِهِ الطَّوِيلَةِ وَ القَوِيَّةِ .

: لَعَطَ عَا " فَرِحْتَهُ " وَ تَمَّ

السؤال الثالث : ( 3 ن )

أرْبِطْ كُلَّ عِبَارَةٍ بِالعِبَارَةِ الَّتِي تُكْمَلُهَا :

\* لِلحَيواناتِ أَنْظِمَةٌ غِذَائِيَّةٌ مُتَنَوِّعَةٌ .

\* تَحْصُلُ الحَيواناتُ عَلى غِذَائِهَا .

\* تَنْتَقِلُ الحَيواناتُ فِي أوسْاطِهَا .

\* التَّنْقَلُ هُوَ تَتَابُعُ لِحَرَكَاتٍ مُتتَالِيَةٍ .

\* يَرْفَعُ التَّنْخِينُ مِنْ نَبْضِ القَلْبِ .

: لَعَطَ عَا " فَرِحْتَهُ " وَ تَمَّ

السؤال الرابع : ( 2,5 ن )

أَكْمِلْ مَلَأَ الجَدُولِ :

| نوع الغذاء | نوع التنقل | الحيوان   |
|------------|------------|-----------|
| .....      | .....      | الكبش     |
| .....      | .....      | النسر     |
| .....      | .....      | سمك القرش |

تصحيح امتحان الفصل الأول في التربية العلمية رقم 5

حلّ السؤال الأول : ( 1,5 ن )

أملأ الفراغ بالكلمات المناسبة : مُنتفخ ، ضَعِيفَةٌ ، تَغْذِيَةٌ ، الأَطْفَالُ ، اللُّحُومُ ، المَرَضُ .  
 \* يُصِيبُ مَرَضُ أَلْ " كَوَاشِيُورُكُورُ " الأَطْفَالُ بَيْنَ 6 أَشْهُرٍ وَ 3 سَنَوَاتٍ ، حَيْثُ تَنْعَدِمُ اللُّحُومُ ،  
 الحَلِيبُ وَ التَّبِيضُ فِي تَغْذِيَةِ هَؤُلَاءِ الأَطْفَالِ .  
 \* يَظْهَرُ المُصَابُ بِهَذَا المَرَضِ بِعَضَلَاتٍ ضَعِيفَةٍ وَ بَطْنٍ مُنتَفَخٍ .

حلّ السؤال الثاني : ( 3 ن )

ضَع " صَحِيحٌ " أَوْ " خَطَأٌ " أَمَامَ كُلِّ عِبَارَةٍ :

\* يُصِيبُ مَرَضُ " الكَوَاشِيُورُكُورُ " الأَطْفَالُ بَيْنَ 6 أَشْهُرٍ وَ 3 سَنَوَاتٍ . **صحيح**  
 \* لِلْحِفَاطِ عَلَى صِحَّتِنَا يَجِبُ أَنْ تَكُونَ أَغْذِيَتُنَا مَتْنُوعَةً . **صحيح**  
 \* الخُسُوتُ الأَزْرَقُ مِنْ أَضْحَمِ الكَائِنَاتِ الحَيَّةِ فِي العَالَمِ . **صحيح**  
 \* الجَسْمُ حَمَلٌ حَيَوَانٌ يَنْتَقِلُ فِي الهَيَاوَاءِ . **خطأ**  
 \* القِطُّ مِنَ الحَيَوَانَاتِ ذَوَاتِ الحَلَاوَةِ وَافِرٍ . **خطأ**  
 \* يَقْفِزُ الضَّفَدَةُ بِقُوَّةٍ قَوَائِمِهِ الطَّبْعِيَّةِ وَ القُوَّةِ . **صحيح**

حلّ السؤال الثالث : ( 2,5 ن )

أرْبِطْ كُلَّ عِبَارَةٍ بِالعِبَارَةِ الَّتِي تُكْمَلُهَا :

\* لِلحَيَوَانَاتِ أَنْظِمَةٌ غِذَائِيَّةٌ مُتْنُوعَةٌ .  
 \* تَحْصُلُ الحَيَوَانَاتُ عَلَى غِذَائِهَا .  
 \* تَنْتَقِلُ الحَيَوَانَاتُ فِي أَوْسَاطِهَا .  
 \* التَّنَقُّلُ هُوَ تَتَابُعُ لِحَرَكَاتٍ مُتتَالِيَةٍ .  
 \* يَرْفَعُ التَّدْخِينُ مِنَ نَبْضِ القَلْبِ .  
 \* مِمَّا يُؤَدِّي إِلَى تَعَبِهِ :  
 \* وَ مُنْجِمَةٌ يُكْرِرُهَا الحَيَوَانُ .  
 \* بَحْرًا عَنِ الغِذَاءِ لِمَا يَتَلَمَّسُ .  
 \* بِتَنَوعِ نِظَامِ أسْنَانِهَا .  
 \* بِالإفْتِرَاسِ أَوْ الإغْتِشَابِ .

حلّ السؤال الرابع : ( 3 ن )

أَكْمِلْ مَلءَ الجَدْوَلِ :

| نوع الغذاء | نوع التنقل | الحيوان   |
|------------|------------|-----------|
| عاشب       | المشي      | الكنبش    |
| لاحم       | الطيران    | النسر     |
| لاحم       | السباحة    | سمك القرش |

## امتحان الفصل الأول في التربية العلمية رقم 6

الاسم و اللقب : .....

## السؤال الأول : ( 2 ن )

أملأ الفراغ بالكلمات المناسبة :

- \* يُسبب سوء التغذية ، مشاكل صحية خطيرة ، مثل ..... و .....
- \* للحفاظ على صحتنا ، يجب أن تكون تغذيتنا متنوعة ، تتوفر على غذاء ..... من كل مجموعة من المجموعات ..... على الأقل .

## السؤال الثاني : ( 3 ن )

ضع " صحيح " أو " خطأ " أمام كل عبارة :

- \* أثناء النوم يتوقف القلب عن النبض
- \* الخنزير حيوان بري من آكلات اللحوم
- \* الكسكسي طبق تقليدي ، ينصح بتناوله
- \* البطاطا المقليّة و الحلويات من الأغذية الصحيّة
- \* يستطيع الضفدع العيش في أوساط مختلفة
- \* تنتقل الحيوانات في أوساطها بحثا عن الدفء

## السؤال الثالث : ( 3 ن )

أربط بينهم بين الحالة و دقائق القلب المناسبة :

- 72 دقيقة في الدقيقة
- 95 دقيقة في الدقيقة
- 115 دقيقة في الدقيقة

- \* عند المشي
- \* عند الجري
- \* عند الجلوس

## السؤال الرابع : ( 2 ن )

على ضفة نهر به ماء تعيش مجموعة من الحيوانات منها : الزرافة ، البطة ، الغراب ، الخروف ،

الجرادة ، أرادت هذه الحيوانات عبور النهر .

\* أكمل ملء الجدول :

| الحيوانات التي لا تستطيع عبور النهر |             | كيف تعبره ؟ |           | الحيوانات التي تستطيع عبور النهر |             |
|-------------------------------------|-------------|-------------|-----------|----------------------------------|-------------|
| .....                               | إسم الحيوان | .....       | نمط عبوره | .....                            | إسم الحيوان |
| .....                               |             | .....       |           | .....                            |             |
| .....                               |             | .....       |           | .....                            |             |

تصحيح امتحان الفصل الأول في التربية العلمية رقم 6

حلّ السؤال الأول : ( 2 ن )

أملأ الفراغ بالكلمات المناسبة :

- \* يُسبب سوء التغذية ، مشاكل صحيّة خطيرة ، مثل **الهزال** و **السمنة** .
- \* للحفاظ على صحّتنا ، يجب أن تكون تغذيتنا متنوّعة ، تتوفّر على غذاء **واحد** من كلّ مجموعة من المجموعات **الأساسية** على الأقلّ .

حلّ السؤال الثاني : ( 3 ن )

أضع " صحيح " أو " خطأ " أمام كلّ عبارة :

- \* أثناء النوم يتوقف القلب عن النبض
- \* الخنزير حيوان بريّ من أكلات اللحوم
- \* الكسكسي طبق تقليديّ ، يُصحّ بتناوله
- \* البطاطا المقليّة و الحلويات من الأغذية الصحيّة
- \* يستطيع الضفدع العيش في أوساط مختلفة
- \* تنتقل الحيوانات في أوساطها بحثاً عن الدفء

خطأ

خطأ

صحيح

خطأ

صحيح

خطأ

حلّ السؤال الثالث : ( 3 ن )

أربط بينهم بين الحالة و دقائق القلب المناسبة :

- \* عند المشي
- \* عند الجري
- \* عند الجلوس
- 72 دقّة في الدقيقة
- 95 دقّة في الدقيقة
- 115 دقّة في الدقيقة

حلّ السؤال الرابع : ( 2 ن )

\* أكمل ملء الجدول :

| الحيوانات التي لا تستطيع عبور النهر |             | كيف تعبره ؟ |           | الحيوانات التي تستطيع عبور النهر |             |
|-------------------------------------|-------------|-------------|-----------|----------------------------------|-------------|
| الزرافة                             | اسم الحيوان | السباحة     | نمط عبوره | البطة                            | اسم الحيوان |
| الخروف                              |             | الطيران     |           | الغراب                           |             |
|                                     |             | الطيران     |           | الجرادة                          |             |