



المستوى: الثالث ابتدائي (3AP) فيفري 2016

اختبار رقم (3) للفصل الثاني في مادة الرياضيات

التمرين الأول:

- انجز العمليات الآتية عموديا.

$$2458 + 1316$$

$$2093 - 678$$

$$216 \times 5$$

التمرين الثاني:

أ - اكمل:

$$127 \times 10 = \dots\dots$$

$$17 \times 100 = \dots\dots$$

$$15 \times 30 = \dots\dots$$

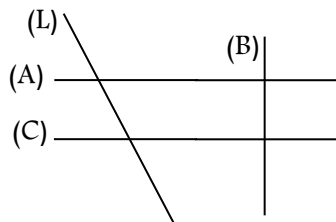
$$5 \times 200 = \dots\dots$$

ب - أحسب : ضعف 350 :

نصف 168 :

التمرين الثالث:

لاحظ الشكل المقابل:



- إستخرج منه مستقيمان متوازيان :

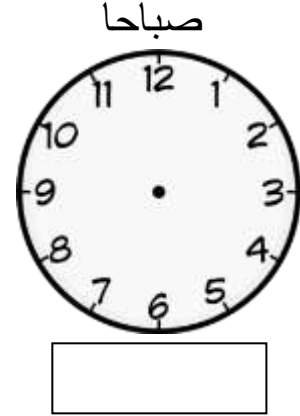
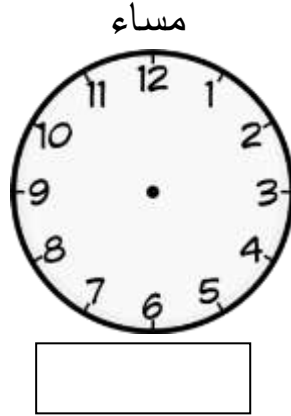
- إستخرج منه مستقيمان متعامدان :

- لون زاوية قائمة.

التمرين الرابع :

تبدأ الدراسة على الساعة الثامنة و النصف صباحا و تنتهي على الساعة الثالثة بعد الزوال.

- أكتب التوقيتين في البطاقتين ثم مثل عقارب الساعة.



المشكلة:

ذهبت رفقة والدتك إلى معرض الكتاب فاشتريت 6 قصص بـ 255 دينارا للقصة الواحدة ، و كتابين للرياضيات بـ 680 دينارا ، كما اشتريت قاموسا بـ 1225 دينارا. ساعد أمك على حساب:

- ثمن القصص.

- ثمن كل المشتريات.

أعطت أمك للبائع ورقتين نقديتين ذات 2000 دينارا.

- كم يرجع لها البائع؟

- مثل هذا المبلغ بأقل عدد ممكن من القطع و الأوراق النقدية.

□ تصحیح الاختبار الثالث للفصل الثاني في الرياضيات الثالثة إبتدائي

□ التمرين الأول: (1.5 ن)

- انجاز العمليات عموديا:

(0.5)..... $2458 + 1316 = 3774$

(0.5)..... $2093 - 678 = 1415$

(0.5) $216 \times 5 = 1080$

□ التمرين الثاني: (1.5 ن)

- اكمال:

(0.25)..... $127 \times 10 = 1270$ (0.25)..... $17 \times 100 = 1700$

(0.25)..... $15 \times 30 = 450$ (0.25)..... $5 \times 200 = 1000$

ب - حساب : ضعف 350 : **700** (0.25).....

نصف 168 : **84** (0.25).....

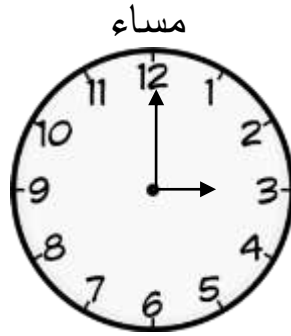
□ التمرين الثالث: (1.5 ن)

المستقيمان (A) و (C) مستقيمان متوازيان..... (0.5)


المستقيمان (A) و (B) مستقيمان متعامدان..... (0.5)

تلوين زاوية قائمة..... (0.5)

□ التمرين الرابع: (1.5 ن)



15 :00



8 :30

المشكلة: (4 ن)

(0.25) $255 \times 6 = 1530$

(0.5)..... العملية العمودية

(0.25)..... ثمن القصص: 1530 دج

(0.25)..... $1530 + 680 + 1225 = 3435$

(0.5)..... العملية العمودية

(0.25)..... الثمن الكلي للكتب: 3435 دج

(0.75)..... $4000 - 3435 = 565$

(0.5)..... العملية العمودية

(0.25)..... المبلغ الذي يرجعه البائع: 565 دج

التمثيل: (0.5)

500-دج

50-دج

10-دج

5-دج