

تقويم الفصل الثاني 17 فيفري 2018 الرياضيات العدة : 1.5 ساعة 01 جمادى الثانية 1439

التمرين الاول: اكتب الأعداد التالية بالخروف و الأرقام

2958 :

9060 :

4308 :

..... : ثمانية آلاف و ستمئة و واحد و تسعون

..... : ألف و تسعمئة و اربعة و خمسون.

التمرين الثاني:

لاحظ ثم اكمل متتالية الأعداد

1500	2000	3500
------	------	-------	-------	------	-------	-------

التمرين الثالث:

ا. فكك الأعداد التالية:

$$6424 = (\dots \times \dots) + (\dots \times \dots) + (\dots \times \dots) + \dots$$

$$3641 = (\dots \times \dots) + (\dots \times \dots) + (\dots \times \dots) + \dots$$

ب - اكتب العدد المناسب لكل تفكيك

$$\dots = 8000 + 200 + 6$$

$$\dots = 3000 + 8 + 300 + 90$$

$$\dots = 6000 + 100 + 6 + 70$$

$$\dots = 2000 + 30$$

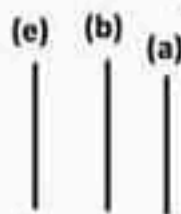
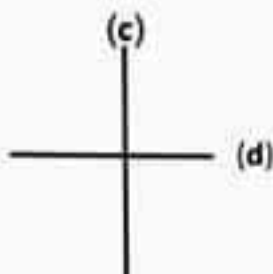
التمرين رابع: رتب الأعداد التالية ترتيبا تنازليا

3699 – 5910 – 5901 – 7700 – 7099 – 2018

→
---	-------	-------	-------	-------	-------	-------

التمرين الخامس :

لاحظ الشكلين المقابلين ثم اكمل الفراغ ب (متعامدان) او (متوازيان)

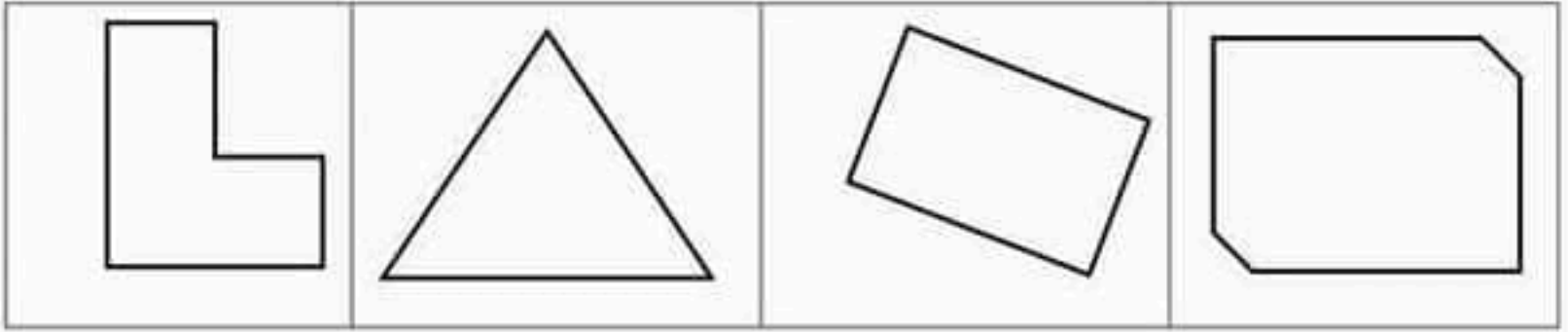


..... : المستقيم (a) المستقيم (b)

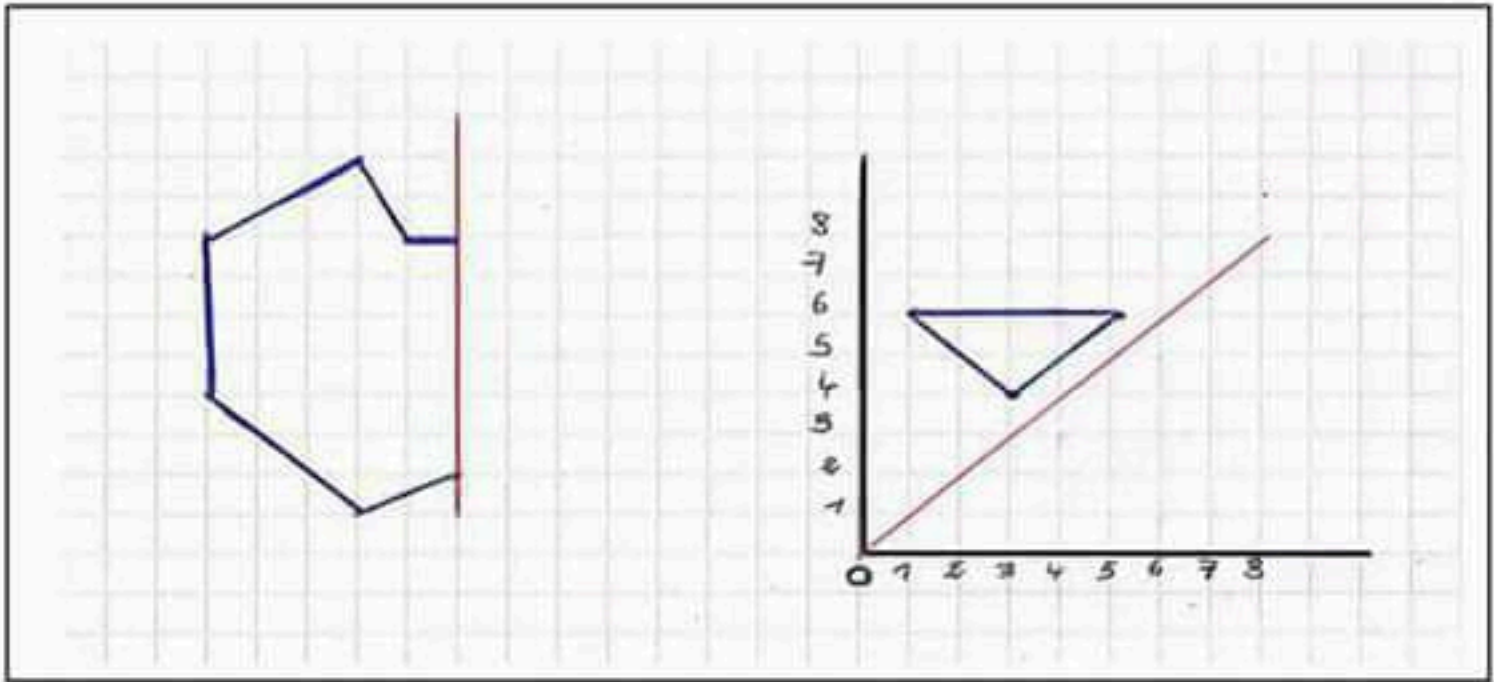
..... : المستقيم (c) المستقيم (d)

..... : المستقيم (e) المستقيم (b)

ب - عيّن الزوايا المُقابلة في الأشكال التالية إن وجدت :



التمرين السادس : أكمل نظير الشكل في كل حالة ، بالتناظر بالنسبة إلى المنتقيم الأحمر



الوضعية الإدماجية :

أنتج مصنع للعصير في الصُّباح 6240 قارورة، سعة كل قارورة 1 لتر، وأنتج في المساء نصف ما أنتج في الصُّباح

- كم قارورة أنتج في المساء ؟

- كم قارورة أنتج في الصُّباح والمساء معاً ؟

باغ صنّاجب المصنّع 7870 قارورة من العصير

- ماهو عدد القوارير المُنتَجة ؟

الأجوبة

الحل

العمليات

.....
أنتج في المساء.....قارورة

.....
أنتج في الصُّباح والمساء معاً..... قارورة

.....
عدد القوارير المُنتَجة..... قارورة

= _____

= _____