

السنة الدراسية 2017/2018
المقاطعة ع 29 بالأخصرية

ابتدائية فرهي رشيد
السنة الرابعة ابتدائي





امتحان الفصل الثالث المقترح في مادة الجغرافيا رقم 2

السؤال الأول : (2,5 ن)

- ضع " صحيح " أو " خطأ " أما كل عبارة :
- * تقام المحميات الطبيعية من أجل الوقاية و مكافحة أنواع التلوث
 - * المحميات المتواجدة بالجنوب هي محمية " القالة " و " ثنية الحد "
 - * تتربع الحظيرة الوطنية للتاسيلي على مساحة قدرها 720 هكتار
 - * المناخ هو السبب الرئيسي في وقوع الفيضانات
 - * البناء في المجاري المائية لا يعرقل من انسياب المياه
 - * وجود المصانع في وسط التجمعات السكنية خطر من المخاطر الكبرى

السؤال الثاني : (3 ن)

حاول التعرف على اسم كل محمية من خلال مشاهدتك للصورة :



السؤال الثالث : (2 ن)

أربط بسهم كل محمية بمكان تواجدها :

- | | |
|-------------------|-----------|
| • محمية قوراوية | • جيل |
| • محمية الشريعة | • تيسميد |
| • محمية التاسيلي | • الطارف |
| • محمية ثنية الحد | • بجاية |
| • محمية القالة | • البليدة |
| • محمية تازة | • إليزي |

السؤال الرابع : (2,5 ن)

تتعرض الجزائر من حين لآخر إلى مخاطر متنوعة أذكر أربع مخاطر تعرفها :

- 1/ ، 2/ ، 3/ ، 4/

بالتوفيق

تصحيح امتحان الفصل الثالث المقترح في مادة الجغرافيا رقم 2

حل السؤال الأول : (3 ن)

أضع " صحيح " أو " خطأ " أما كل عبارة :

- * تقام المحميات الطبيعية من أجل الوقاية و مكافحة أنواع التلوث
- * المحميات المتواجدة بالجنوب هي محمية " القالة " و " ثنية الحد "
- * تتربع الحظيرة الوطنية للتاسيلي على مساحة قدرها 720 هكتار
- * المناخ هو السبب الرئيسي في وقوع الفيضانات
- * البناء في المجاري المائية لا يعرقل من انسياب المياه
- * وجود المصانع في وسط التجمعات السكنية خطر من المخاطر الكبرى

صحيح

خطأ

صحيح


صحيح

خطأ


صحيح

حل السؤال الثاني : (2 ن)

أحاول التعرف على اسم كل محمية من خلال مشاهدتي للصورة :



الحظيرة الوطنية الهقار



محمية القالة



محمية ثنية الحد



الحظيرة الوطنية التاسيلي

حل السؤال الثالث : (3 ن)

أربط بسهم كل محمية بمكان تواجدها :

- | | |
|----------|-------------------|
| • جي | • محمية قورايا |
| • تيسمير | • محمية الشريعة |
| • الط | • محمية التاسيلي |
| • بج | • محمية ثنية الحد |
| • البلي | • محمية القالة |
| • إلي | • محمية تازة |

حل السؤال الرابع : (2 ن)

تعرض الجزائر من حين لآخر إلى مخاطر متنوعة أذكر أربع مخاطر تعرفها :

- 1/ غزو الجراد ، 2/ زحف الرمال
3/ الفيضانات ، 4/ الزلازل