

الاختبار الفصل الثاني في مادة الإعلام الآلي

Exercice 1 : (2 points)

Relier chaque image par son nom :



الاسم:
 اللقب:
 القسم:

Exercice 2 : (2 points)

Compléter le paragraphe ci-dessous par les mots suivants :

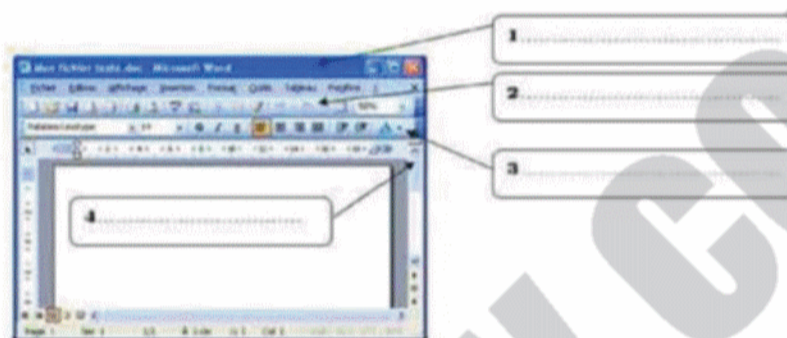
Système d'exploitation - programmes - ordinateur

Dès sa mise sous tension, l'..... cherche lesnécessaires à son démarrage : c'est le.....qu'il cherche.

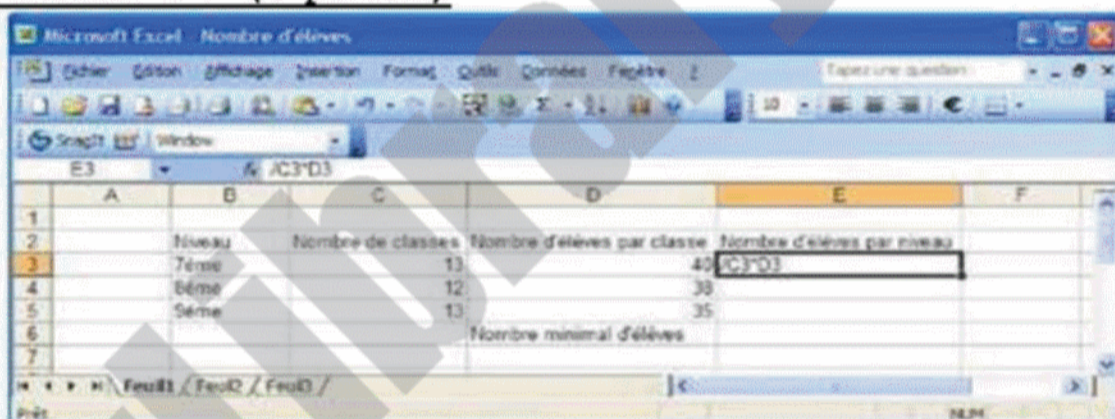
Exercice 3 : (2 points)

Compléter les vides par :

Barre de titre – Barre de défilement – Barre d'outils standard – Barre de menus – Barre d'outils mise en forme.



Exercice 4 : (4 points)



Soit la figure suivante :

- 1) Quelle est la cellule active ?

- 2) Donner l'adresse de la cellule « Nombre minimal d'élèves » ?

- 3) Où peut-on voir le contenu d'une cellule ?

- 4) Quel est le nom du classeur ?

Exercice 5 : - 10 points -

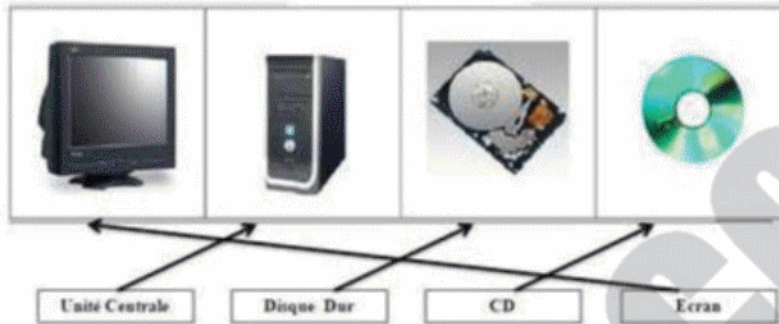
Soit le tableau suivant :

	A	B	C	D
1	Produit	Quantité	Prix Unitaire	Montant
2	Tables	20		250
3	Chaises	50		300
4	Armoire	30		600
5	Lits	15		1500
6			Total H.T	
7				
8				
9			TVA 20%	
10				
11				
12				
13			Montant ttc	
14				

Complétez le tableau en introduisant les fonctions et les formules de calcul nécessaires.

Cellule	Formule
D2	
D3	
D4	
D5	
D6	
D9	
D13	

Exercice 1 : (2 points)



Exercice 2 : (2 points)

Dès sa mise sous tension, l'ordinateur cherche les **programmes** nécessaires à son démarrage : c'est le **Système d'exploitation** qu'il cherche.

Exercice 3 : (2 points)

- 1) Barre de titre.
- 2) Barre d'outils standard
- 3) Barre d'outils mise en forme
- 4) Barre de défilement

Exercice 4 : (4 points)

- 1) Quelle est la cellule active ? « E3 »
- 2) Donner l'adressé de la cellule « Nombre minimal d'élèves » ? « D6 »
- 3) Où peut-on voir le contenu d'une cellule ?
« Barre de formule »
- 4) Quel est le nom du classeur ? « Nombre d'élèves »

Exercice 5 : - 10 points -

Cellule	Formule
D2	=B2*C2
D3	=B3*C3
D4	=B4*C4
D5	=B5*C5
D6	= D2+ D3+ D4+ D5
D9	= D6*100/20
D13	= D6+D9