

التاريخ: 2019/03/05

المدة: 02 سا

المادة: الرياضيات

المستوى: الثانية ثانوي

اختبار الفصل الثاني

تمرين 01: (05,5 ن)

1) لتكن النقطة G مرجح الجملة $\{(A; 3), (B; 3), (C; -2), (D; -2)\}$.

أ. نسي I منتصف $[AB]$, بين أن I مرجح الجملة $\{(A; 3), (B; 3)\}$.

ب. نسي J منتصف $[CD]$, بين أن J مرجح الجملة $\{(C; -2), (D; -2)\}$.

ت. استنتج أن G مرجح النقطتين I و J .

2) نسي K مرجح $\{(A; 3), (B; 3), (C; -2)\}$. بين أن المستقيمين (KD) و (IJ) متقاطعان في النقطة G .

3) بين أن الجملة $\{(A; 1), (B; -2), (C; 1)\}$ لا تقبل مرجح. ثم استنتج أن الشعاع: $\vec{V} = \vec{MA} + \vec{MB} - 2\vec{MC}$ يمكن أن يكتب على الشكل $\vec{V} = 2\vec{CI}$.

أ. عين مجموعة النقط M من المستوي التي تحقق: $\|3\vec{MA} + 3\vec{MB} - 2\vec{MC}\| = \|\vec{V}\|$.

ب. عين Δ مجموعة النقط M من المستوي التي تحقق: $\|3\vec{MA} + 3\vec{MB} - 2\vec{MC} - 2\vec{MD}\| = \|\vec{MA} + \vec{MB}\|$.

تمرين 02: (04,5 ن) "الجزءان الأول و الثاني مستقلان عن بعضهما"

الجزء الأول: 1. هل العددان الحقيقيان $\frac{533\pi}{5}$ و $\frac{-117\pi}{5}$ يمثلان قياسا رئيسيا لنفس الزاوية؟

2. بسط ما يلي: أ. $A(x) = \cos(3\pi + x) + \sin(11\pi + x) - \cos(\pi - x) - \sin(\pi - x)$.

ب. $B(x) = \cos\left(\frac{8\pi}{7} + x\right) + \sin\left(\frac{8\pi}{7} + x\right) - \cos\left(\frac{6\pi}{7} - x\right) - \sin\left(-\frac{\pi}{7} - x\right)$.

الجزء الثاني: نعتبر المعادلة $(E_1): 2 \cos(4x) - 1 = 0$.

1) أوجد حلول هذه المعادلة على المجال $]-\pi; \pi]$.

2) من أجل كل عدد حقيقي x برهن المساواة التالية: $\cos(4x) = 8 \cos^4 x - 8 \cos^2 x + 1$.

تعطي: $\cos 2\alpha = 2(\cos \alpha)^2 - 1$.

أ. نعتبر المعادلة $(E_2): 16 \cos^4 x - 16 \cos^2 x + 1 = 0$.

ب. استنتج أن للمعادلتين (E_1) و (E_2) نفس الحلول.

1. دالة معرفة على \mathbb{R} بـ: $g(x) = x^3 + 3x + 4$.

أ. أحسب $g(-1)$ ثم استنتج تحليلاً لـ $g(x)$.

ب. استنتج إشارة $g(x)$ على \mathbb{R} .

2. نعتبر الدالة f المعرفة على \mathbb{R} بـ: $f(x) = \frac{x^3 + x^2 - 1}{x^2 + 1}$.

وليكن (C_f) منحناها البياني في مستوى منسوب إلى معلم متعامد ومتجانس (O, \vec{i}, \vec{j}) .

(1) أحسب النهايات عند حدود مجموعة التعريف.

(2) أحسب مشتقة الدالة f ثم بيّن أنه من أجل كل x من D_f لدينا: $f'(x) = \frac{x(x+1)(x^2-x+4)}{(x^2+1)^2}$.

(3) استنتج تغيرات الدالة f ثم شكّل جدول تغيراتها.

(4) أوجد الأعداد الحقيقية a, b, c, d بحيث: $f(x) = ax + b + \frac{cx+d}{x^2+1}$.

(5) بيّن أنّ المنحني (C_f) يقبل مستقيم مقارب مائل (Δ) معادلته: $y = x + 1$.

(6) أدرس وضعية المنحني (C_f) بالنسبة للمستقيم المقارب المائل (Δ) .

(7) أرسم كل من (Δ) و المنحني (C_f) .

(8) ناقش بيانيا حسب قيم العدد الحقيقي m عدد حلول المعادلة: $x^3 + (1-m)x^2 - 1 - m = 0$.

(9) نعتبر g الدالة المعرفة على \mathbb{R} بـ: $g(x) = f(-x)$.

أ. بيّن كيف يمكن استنتاج (C_g) انطلاقاً من منحني (C_f) .

ب. أرسم (C_g) منحنى الدالة g في نفس المعلم السابق.

مدرسة "الرجاء والتفوق" الخاصة

وفاقكم الله
Ecole Erradja wa Tafaouk
ÉCOLE PRIVÉE

$$\|3\vec{MA} + 3\vec{MB} - 2\vec{MC}\| = \|2\vec{CI}\| \quad (I)$$

$$4Mk = 2CI \Rightarrow Mk = \frac{CI}{2}$$

(x) هي دائرة مركزها k و نصف قطرها $\frac{CI}{2}$

$$\|3\vec{MA} + 3\vec{MB} - 2\vec{MC} - 2\vec{MD}\| = \|M\vec{A} + M\vec{B}\|$$

$$2MA = 2MI$$

I مركز (A, 1), (B, 1)

$$MA = MI$$

(d) هي محور القطعة [AI]

تقريرا 2

$$-\frac{117\pi}{5} = -(23\pi + \frac{2\pi}{5}) = -(\pi + \frac{2\pi}{5})$$

$$= -\frac{7\pi}{5} = \frac{3\pi}{5}$$

$$\frac{533\pi}{5} = 106\pi + \frac{3\pi}{5} = \frac{3\pi}{5}$$

نعر بيتلان نفس القيس

$$A(n) = \cos(3\pi + n) + \sin(\pi + n) - \cos(\pi - n)$$

$$- \sin(\pi - n)$$

$$A(n) = -\cos n - \sin n + \cos n - \sin n$$

$$= -2 \sin n$$

$$B(n) = \cos(\pi + \frac{\pi}{7} + n) + \sin(\pi + \frac{\pi}{7} + n)$$

$$- \cos(\pi - \frac{\pi}{7} - n) + \sin(-(\frac{\pi}{7} + n))$$


$$\alpha = \frac{\pi}{7} + n$$

$$B(n) = \cos(\pi + \alpha) + \sin(\pi + \alpha) - \cos(\pi - \alpha)$$

$$= \sin(-\alpha)$$

$$= -\cos \alpha - \sin \alpha + \cos \alpha - \sin \alpha$$

$$= 0$$



$$\vec{IA} + \vec{IB} = \vec{0} \Rightarrow I \{ (A, 1), (B, 1) \}$$

وسط I مربع $\{ (A, 3), (B, 3) \}$

$$\vec{IJ} + \vec{ID} = \vec{0} \Rightarrow J \{ (C, 1), (D, 1) \}$$

وسط J مربع $\{ (C, -2), (D, -2) \}$

$$\underbrace{(A, 3) \quad (B, 3)}_{(I, 6)} \quad \underbrace{(C, -2) \quad (D, -2)}_{(J, -4)}$$

$$(G, 2)$$

حسب اخصية التجميعية G مربع

$$\{ (I, 3), (J, -2) \}$$

$$\{ (A, 3), (B, 3), (C, -2), (D, -2) \}$$

$$(k, 4)$$

$$(G, 2)$$

حسب اخصية التجميعية G مربع

$$\{ (k, 4), (D, -2) \}$$

$$G \in (IJ) \Rightarrow \{ (I, 3), (J, -2) \}$$

$$G \in (kD) \Rightarrow \{ (k, 4), (D, -2) \}$$

وسط المستقيمان (kD) و (IJ)

متساويان في النقطة G.

$$1 - 2 + 1 = 0 \quad (3)$$

الجملة $\{ (A, 1), (B, -4), (C, 1) \}$ لا تقبل مربع

$$\vec{V} = \vec{MA} + \vec{MB} - 2\vec{MC} = \vec{IA} + \vec{IB} - 2\vec{IC} = 2\vec{CI}$$

$$\|3\vec{MA} + 3\vec{MB} - 2\vec{MC}\| = \|2\vec{CI}\| \quad (I)$$

$$4Mk = 2CI \Rightarrow Mk = \frac{CI}{2}$$

(x) هي دائرة مركزها k و نصف قطرها $\frac{CI}{2}$

$$\|3\vec{MA} + 3\vec{MB} - 2\vec{MC} - 2\vec{MD}\| = \|M\vec{A} + M\vec{B}\|$$

$$2Mk = 2MI$$

I مركز (A, 1), (B, 1)

$$Mk = MI$$

(d) هي محور القطعة [GI]

تقريرا 2

$$-\frac{117\pi}{5} = -(23\pi + \frac{2\pi}{5}) = -(\pi + \frac{2\pi}{5})$$

$$= -\frac{7\pi}{5} = \frac{3\pi}{5}$$

$$\frac{533\pi}{5} = 106\pi + \frac{3\pi}{5} = \frac{3\pi}{5}$$

نعر بيتلان نفس القيس

$$A(n) = \cos(3\pi + n) + \sin(\pi + n) - \cos(\pi - n)$$

$$- \sin(\pi - n)$$

$$A(n) = -\cos n - \sin n + \cos n - \sin n$$

$$= -2 \sin n$$

$$B(n) = \cos(\pi + \frac{\pi}{7} + n) + \sin(\pi + \frac{\pi}{7} + n)$$


$$- \cos(\pi - \frac{\pi}{7} - n) + \sin(-(\frac{\pi}{7} + n))$$

$$\alpha = \frac{\pi}{7} + n$$

$$B(n) = \cos(\pi + \alpha) + \sin(\pi + \alpha) - \cos(\pi - \alpha)$$

$$= \sin(-\alpha)$$

$$= -\cos \alpha - \sin \alpha + \cos \alpha - \sin \alpha = -2 \sin \alpha = 0$$



$$\vec{IA} + \vec{IB} = \vec{0} \Rightarrow I \{ (A, 1), (B, 1) \}$$

وسط I مربع { (A, 3), (B, 3) }

$$\vec{IJ} + \vec{ID} = \vec{0} \Rightarrow J \{ (C, 1), (D, 1) \}$$

وسط J مربع { (C, -2), (D, -2) }

$$\underbrace{(A, 3) \quad (B, 3)}_{(I, 6)} \quad \underbrace{(C, -2) \quad (D, -2)}_{(J, -4)}$$

$$(G, 2)$$

حسب اخصية التجميعية G مربع

$$\{ (I, 3), (J, -2) \}$$

$$\{ (A, 3), (B, 3), (C, -2), (D, -2) \}$$

$$(K, 4)$$

$$(G, 2)$$

حسب اخصية التجميعية G مربع

$$\{ (K, 4), (D, -2) \}$$

$$G \in (IJ) \Rightarrow \{ (I, 3), (J, -2) \}$$

$$G \in (Kd) \Rightarrow \{ (K, 4), (D, -2) \}$$

وسط المستقيمان (Kd) و (IJ) متقاطعا في النقطة G.

$$1 - 2 + 1 = 0 \quad (3)$$

الجملة { (A, 1), (B, -4), (C, 1) } لا تقبل مربع

$$\vec{V} = \vec{MA} + \vec{MB} - 2\vec{MC} = \vec{IA} + \vec{IB} - 2\vec{IC} = 2\vec{CI}$$

$$g(n) = (n+1)(n^2 - n + 4) \quad (0,1) \quad \text{مقسمة على } n$$

$$n^2 - n + 4 = 0 \rightarrow \Delta < 0 \quad (0,2) \quad (0,2)$$

n	$-\infty$	-1	$+\infty$
g(n)	-	0	+

$$f(n) = \frac{n^3 + n^2 - 1}{n^2 + 1}$$

$$\lim_{n \rightarrow +\infty} f(n) = \lim_{n \rightarrow +\infty} \frac{n^3}{n^2} = \lim_{n \rightarrow +\infty} n = +\infty \quad (0,1) \times 2$$

$$f'(n) = \frac{n g(n)}{(n^2 + 1)^2} = \frac{n(n+1)(n^2 - n + 4)}{(n^2 + 1)^2} \quad (0,1) \quad (2)$$

من أجل $n < -1$: $n \in]-\infty, -1[$: $0, -\infty$
 من أجل $n > -1$: $n \in]-1, +\infty[$: $0, +\infty$

n	$-\infty$	-1	0	$+\infty$
f'(n)	+	0	-	0
f(n)	$-\infty$	$-\frac{1}{2}$	-1	$+\infty$

$$a=1 \quad b=1 \quad c=-1 \quad d=-2 \quad (4)$$

$$f(n) = n + 1 + \frac{-n - 2}{n^2 + 1} \quad (1)$$

$$\lim_{n \rightarrow +\infty} f(n) = \lim_{n \rightarrow +\infty} (n+1) = +\infty \quad (5)$$

$$y = n + 1 \quad (0,2)$$

n	$-\infty$	-2	$+\infty$
f(n) - y	+	0	-
الوحدات	فوق (Δ)	تحت (Δ)	فوق (Δ)

$$n^3 + (1-m)n^2 - 1 - m = 0 \quad (8)$$

$$n^3 + n^2 - 1 = mn^2 + m \Rightarrow m = \frac{n^3 + n^2 - 1}{n^2 + 1} \quad (0,1)$$

$$2 \cos(4n) = 1 \quad (E_1)$$

$$\cos(4n) = \frac{1}{2} \Rightarrow \cos(4n) = \cos \frac{\pi}{3}$$

$$\begin{cases} 4n = \frac{\pi}{3} + 2k\pi \\ 4n = -\frac{\pi}{3} + 2k\pi \end{cases} \Rightarrow \begin{cases} n = \frac{\pi}{12} + \frac{2k\pi}{4} \\ n = -\frac{\pi}{12} + \frac{2k\pi}{4} \end{cases} \quad (0,1)$$

$$n = -\frac{\pi}{12} \quad , \quad n = \frac{\pi}{12} \quad k=0$$

$$n = -\frac{\pi}{12} + \frac{\pi}{2} \quad , \quad n = \frac{\pi}{12} + \frac{\pi}{2} \quad k=1$$

$$n = \frac{5\pi}{12} \quad , \quad n = \frac{7\pi}{12} \quad (0,1)$$

$$n = -\frac{\pi}{12} + \pi \quad , \quad n = \frac{\pi}{12} + \pi \quad k=2$$

$$n = \frac{11\pi}{12} \quad , \quad n = \frac{13\pi}{12} \quad (0,1)$$

$$n = -\frac{\pi}{12} + \frac{3\pi}{2} \quad , \quad n = \frac{\pi}{12} + \frac{3\pi}{2} \quad k=3$$

$$n = \frac{17\pi}{12} \quad , \quad n = \frac{19\pi}{12} \quad (0,1)$$

$$\cos(4n) = \cos(2(2n))$$

$$\cos(4n) = \cos(2\alpha) \quad \alpha = 2n \quad \text{مع}$$

$$\cos 2\alpha = 2(\cos \alpha)^2 - 1$$

$$= 2[\cos 2n]^2 - 1 \quad (0,1)$$

$$= 2[2(\cos n)^2 - 1]^2 - 1$$

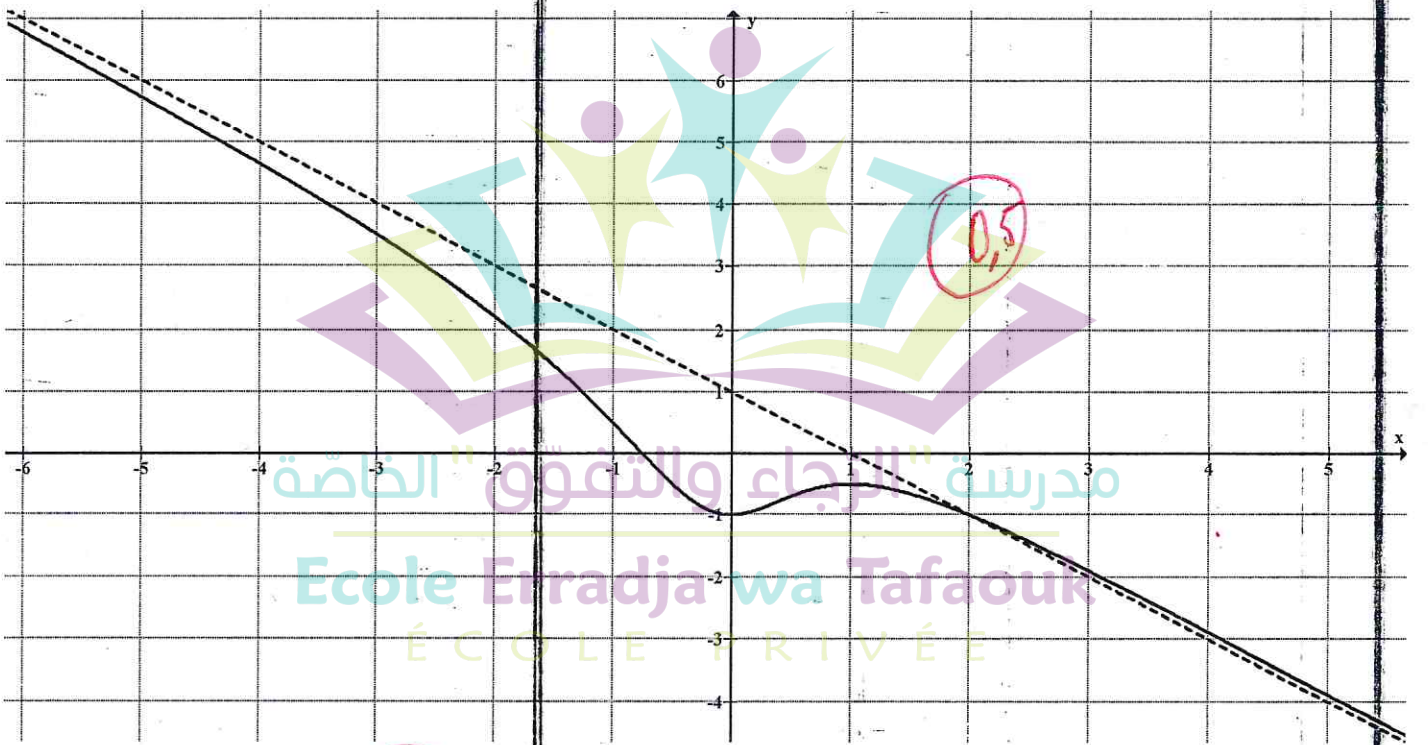
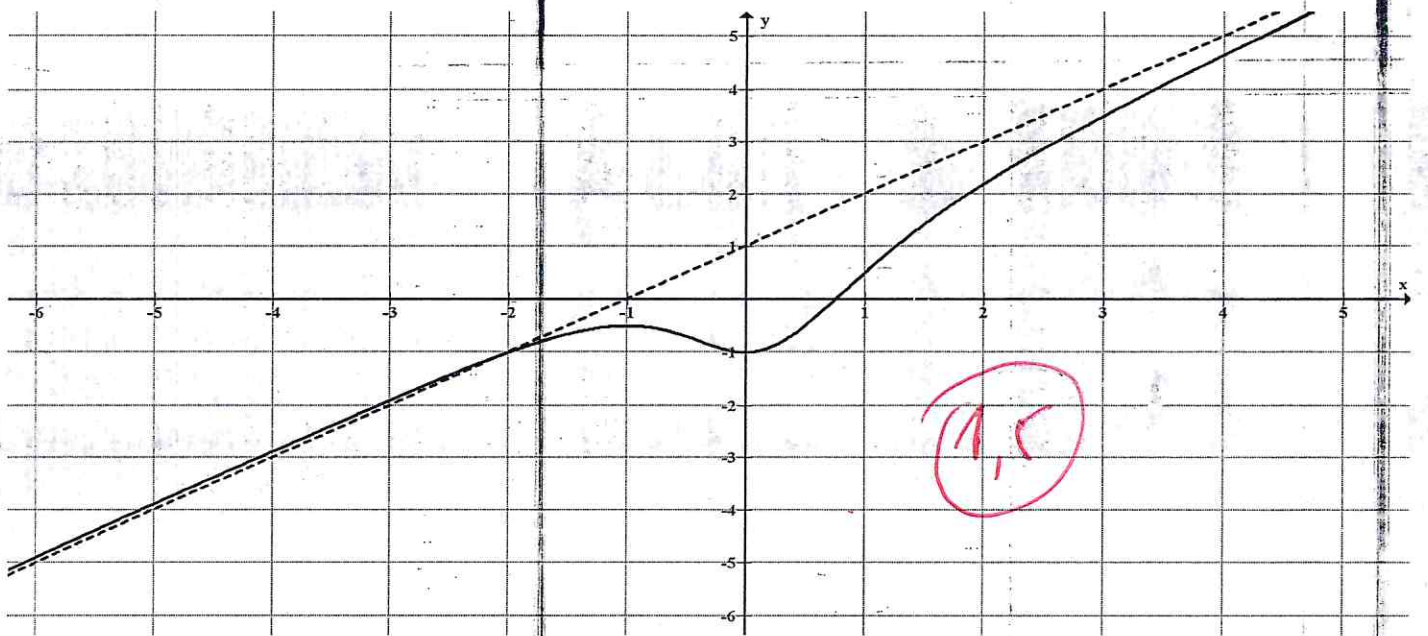
$$= 2[4\cos^4 n - 4\cos^2 n + 1] - 1$$

$$= 8\cos^4 n - 8\cos^2 n + 1$$

$$2 \cos 4n - 1 = 0 \quad (E_1) \quad \text{المعادلة}$$

$$2(8\cos^4 n - 8\cos^2 n + 1) - 1 = 0$$

$$16\cos^4 n - 16\cos^2 n + 1 = 0 \quad (E_2)$$



$m \in]-\infty, -1[\cup]-\frac{1}{2}, +\infty[$ يوجد حل واحد $(0,2)$

$m = -1, m = -\frac{1}{2}$: يوجد حلين $(0,2)$

$m \in]-1, -\frac{1}{2}[$ يوجد 3 حلول $(0,2)$

(c_1) هو نغير (c_2) بالنسبة لمحور الترتيب $(0,5)$.