

التاريخ:

الجزء الأول: (6 نقاط)

"...انقسم العالم سياسياً في أواخر القرن التاسع عشر وبداية القرن العشرين الميلادي بسبب عدة عوامل أهمها بروز النزعة القومية وتصادم الأيديولوجيات وتضارب المصالح الاقتصادية وسياسة التوسع للسيطرة على مناطق مختلفة من العالم وما صاحبه من السباق نحو التسليح..."

المرجع: تاريخ العالم الحديث والمعاصر للدكتور مصطفى فاروق عباس صفحة 97

1. اشرح ما تحته خط في النصّ.
2. عرّف بالشخصيات التالية: جورج مارشال - هاري ترومان - جوزيف بروز تيتو.
3. وقع على الخريطة المرفقة أطراف المواجهة خلال الحرب العالمية الأولى (دول الوفاق ودول الحلف).
4. إليك جدول معاهدات الصلح أكمل الفراغ بما يناسب:

المعاهدة	الدولة	التاريخ	مضمونها
سان جرمان	النمسا
تريانون	04 جوان 1920م	انقاص مساحة النمسا - المجر إلى أقل من ثلث مساحتها السابقة.
.....	الدولة العثمانية	10 أوت 1920م	تخلي الإمبراطورية العثمانية عن العراق وبلاد الشام.
.....	ألمانيا	28 جوان 1919م
لوزان	الدولة العثمانية

الجزء الثاني: (4 نقاط)

أكد الكثير من المؤرخين أنّ أسباب الحرب العالمية الثانية تعود إلى مشاكل تُركت بغير حل بعد الحرب العالمية الأولى (1914-1918م). فقد أوجدت الحرب العالمية الأولى والمعاهدات التي عقدت في نهايتها مشاكل سياسية واقتصادية جديدة.

المطلوب: انطلاقاً من الفقرة وما درست، أكتب مقالاً تاريخياً تبيّن فيه:

1. عوامل وظروف المواجهة العسكرية الأوروبية الثانية.
2. واقع العالم غداة الحرب العالمية الثانية في المجالات الاقتصادية والسياسية والبشرية.

الجغرافيا:

الجزء الأول: (6 نقاط)

"...يتضافر عدد من العوامل في إحداث ظاهرة **التصحّر** وتشمل العوامل الطبيعية كتناقص كمية الأمطار و**إنجراف التربة** وزحف الكثبان الرملية على الأراضي الزراعية والرعية، كما تلعب العوامل البشرية دورها في التصحر من خلال إزالة الغابات و**الزحف العمراني** والأنشطة الصناعية والتعدينية وما ينجم عنها من **التلوث** بمختلف أنواعه..." المرجع: مجلة البيئة والإنسان الفلسطينية العدد الخامس ص 26

1. اشرح ما تحته خط في النص.

2. إليك جدول توزيع المساحة والسكان حسب النطاقات الطبيعية الثلاثة.

النطاقات الطبيعية	المساحة	السكان
التل	%04	%70
الهضاب العليا	%09	%20
الصحراء	%87	%10

المرجع: كتاب الجغرافيا السنة الثانية ثانوي صفحة 49

المطلوب:

أ. مثل نسب الجدول بدائرتين نسبيتين المقياس: (نصف القطر=4سم).

ب. ما العلاقة بين توزيع السكان في كل نطاق والظروف الطبيعية والبشرية المتوفرة؟

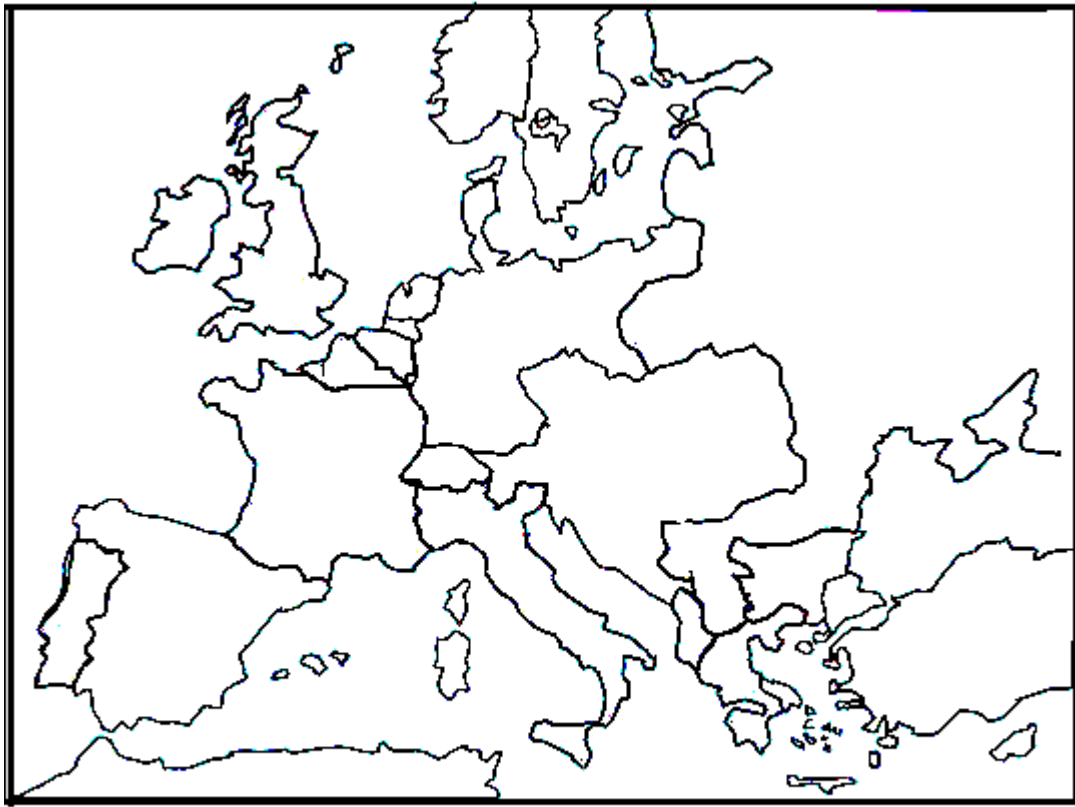
الجزء الثاني: (4 نقاط)

تتقسم الجزائر حسب التباين الطبيعي والبشري الواضح بين شمالها ووسطها وجنوبها إلى ثلاثة أقاليم كبرى متباينة، ومن أجل تنظيم الظواهر الجغرافية والبشرية والاقتصادية على المستوى الإقليمي وضعت خطة عرفت بالتهيئة الإقليمية التي تتماشى مع خصوصيات كل إقليم.

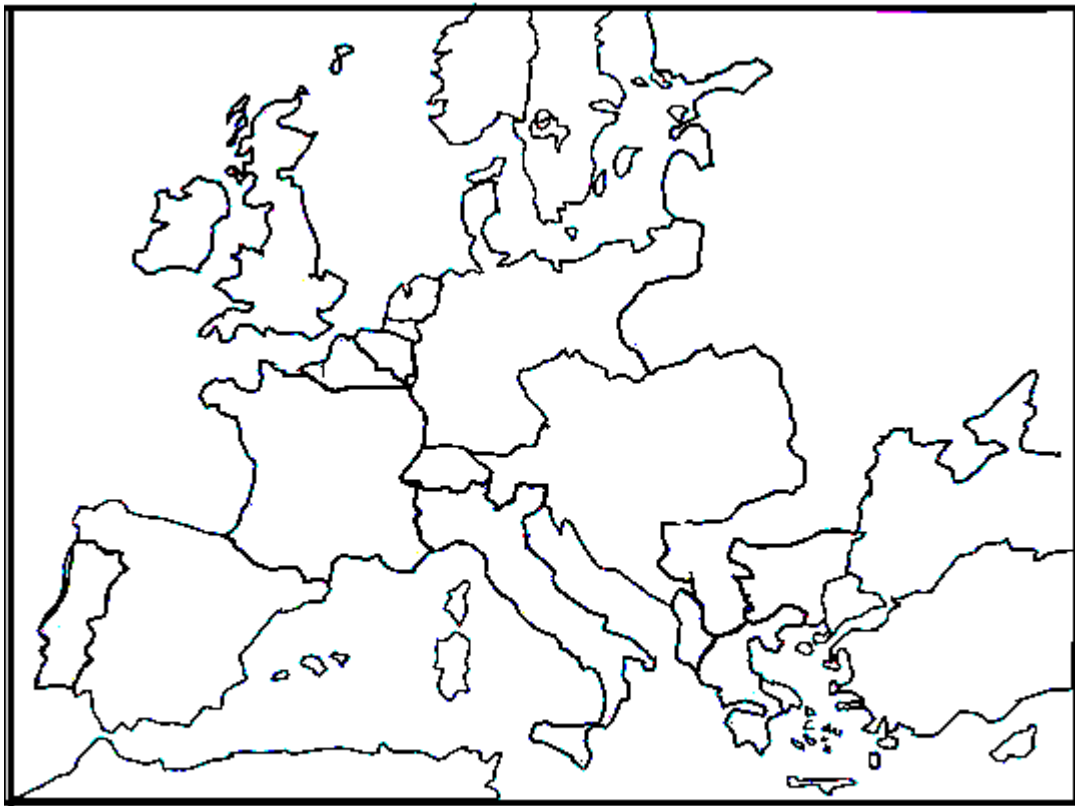
المطلوب: انطلاقاً من الفقرة وما درست، أكتب مقالا جغرافياً تبين فيه:

1. خصائص الأقاليم الكبرى في الجزائر (إقليم التل-إقليم الهضاب العليا-إقليم الصحراء).

2. مفهوم التهيئة الإقليمية و تحديد الموقع الجغرافي لإقليم الهضاب العليا الغربية مع مؤهلاته الاقتصادية التي يتمتع بها.



ينجز العمل المطلوب على الخريطة وتعاد مع أوراق الإجابة



ينجز العمل المطلوب على الخريطة وتعاد مع أوراق الإجابة

عناصر الاجابة

التاريخ

الجزء الأول:

1-المصطلحات:

-**النزعة القومية:** تعبير سياسي يعني شعور الناس بالانتماء جميعاً إلى أمة واحدة، وقد كانت أهم الأسباب لنشوب الحرب العالمية الأولى(1914م - 1918م)، فقد حاولت مجموعات قومية في أوروبا الشرقية إنشاء دويلات صغيرة من الإمبراطورية النمساوية المجرية والإمبراطورية الروسية والدولة العثمانية.....

-**الأيديولوجيات:** وهي جمع الأيديولوجية وهي منهج في التفكير مبني على الافتراضات المترابطة والمعتقدات وتفسيرات الحركات أو السياسات الاجتماعية. وقد يكون محتواه دينياً أو اقتصادياً أو سياسياً أو فلسفياً. وبعض الأيديولوجيات مثل الشيوعية والاشتراكية تُنسب إلى نُظم اقتصادية وسياسية. ومن الأيديولوجيات الأخرى الرأسمالية والديمقراطية والفاشية والدكتاتورية.....

-**السباق نحو التسلح:** هو ظاهرة عسكرية تتمثل في تنافس الدول الكبرى على صناعة وشراء الأسلحة بمختلف أنواعها لتقوية وتعزيز جيوشها بأحدث الأسلحة والمعدات الحربية.....

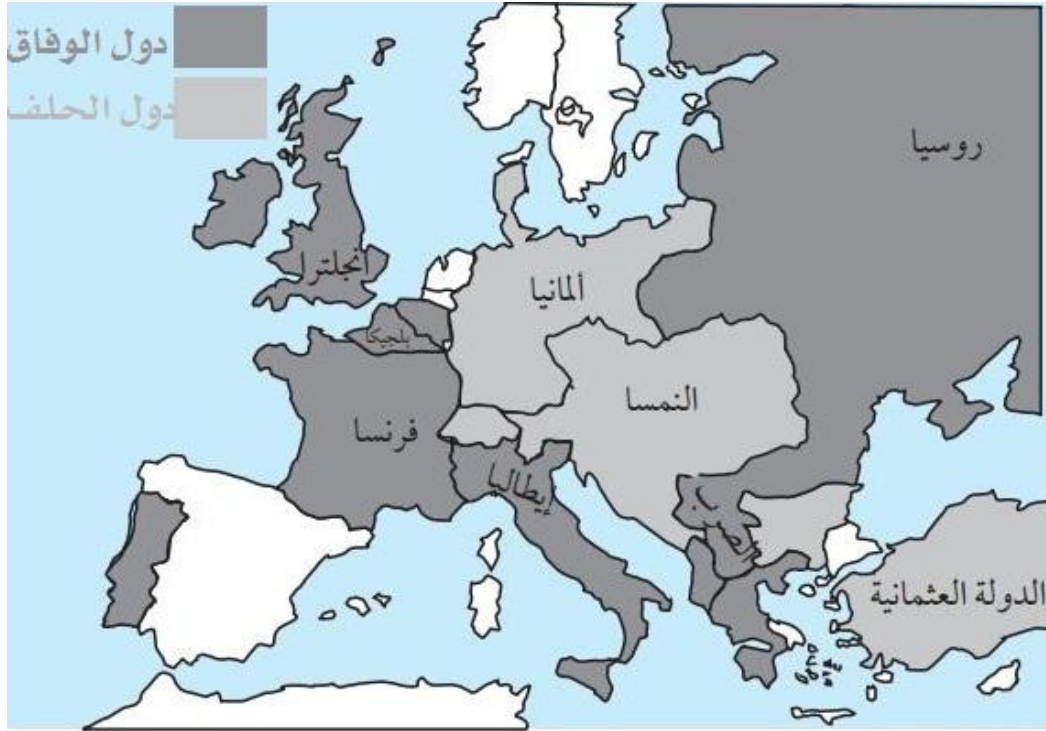
2-الشخصيات:

-**جورج مارشال (1880-1959م):** قائد من قادة الجيش الأمريكي ورجل دولة عمل رئيساً للأركان في الجيش الأمريكي أثناء الحرب العالمية الثانية (1939-1945م). في عام 1947م، عندما كان وزيراً للخارجية قدم اقتراحه الخاص مشروع مارشال وبمقتضى هذا المشروع أنفقت الولايات المتحدة بلايين الدولارات لإعادة إعمار أوروبا الغربية التي دمرتها الحرب.....

-**هاري ترومان (1884-1972م):** رئيس الولايات المتحدة في الفترة ما بين عامي 1945 - 1953م. أصبح رئيساً خلال حقبة عصيبة في التاريخ الأمريكي؛ إذ انتخب نائباً للرئيس عام 1944م. ولم يمض على وجوده بالمنصب سوى 83 يوماً فقط، عندما مات الرئيس فرانكلين روزفلت في 12 أبريل 1945م والحرب العالمية الثانية مازالت قائمة. أثناء الأسابيع القليلة الأولى من إدارة ترومان انتصر الحلفاء في أوروبا فأصدر ترومان قراراً خطيراً يقضي باستعمال القنبلة الذرية ضد اليابان لإنهاء الحرب العالمية الثانية.....

-**جوزيف بروز تيتو (1892-1980م):** زعيم سياسي، وأحد مؤسسي حركة عدم الانحياز. أسس حكومة شيوعية في يوغوسلافيا بعد الحرب العالمية الثانية، وبعد ذلك أصبح حاكم الدولة. في عام 1948م أعلن استقلال يوغوسلافيا عن السيطرة السوفيينية. ضرب بهذا التصرف مثلاً اتبعته الصين وبعض الدول الشيوعية في أوروبا الشرقية. كان تيتو أول زعيم شيوعي يسمح لشعبه ببعض الحرية الاقتصادية والاجتماعية.....

3- الخريطة:



خريطة التحالفات العسكرية خلال الحرب العالمية الأولى

المعاهدة	الدولة	التاريخ	مضمونها
سان جرمان	النمسا	10 سبتمبر 1919م	اعترفت المعاهدة باستقلال تشيكوسلوفاكيا وبولندا ومملكة عرفت فيما بعد باسم يوغوسلافيا. وتسلمت هذه الدول الجديدة ومعها إيطاليا ورومانيا أراضي كانت تابعة للنمسا - المجر
تريانون	المجر	04 جوان 1920م	انقاص مساحة النمسا - المجر إلى أقل من ثلث مساحتها السابقة.
سيفر	الدولة العثمانية	10 أوت 1920م	تخلي الدولة العثمانية عن العراق والشام.
فرساي	ألمانيا	28 جوان 1919م	تنازل ألمانيا عن أراض في بلجيكا وتشيكوسلوفاكيا والدنمارك وفرنسا وبولندا وخسرت مستعمراتها فيما وراء البحار.
لوزان	الدولة العثمانية	24 جويلية 1923م	إلغاء الخلافة العثمانية وتأسيس الجمهورية التركية.

الجزء الثاني:

المقال التاريخي يراعى فيه:

مقدمة.....

عوامل المواجهة العسكرية الأوروبية الثانية.....

واقع العالم عقب الحرب .ع.2 في الجوانب الاقتصادية والبشرية والسياسية.....

خاتمة.....

الجغرافيا

الجزء الأول:

1-المصطلحات:

-**التصحّر:** وهو تعرض الأرض للتدهور خاصة في المناطق الجافة أو الشبه الجافة أو الشبه الرطبة مما يؤدي إلى فقدان الغطاء النباتي والتربة الخصبة.....

-**إنجراف التربة:** وهو انتقال طبقات التربة من المنحدرات إلى المنخفضات أو البحر نتيجة ارتفاع معدل التساقط.....

-**التلوث:** هو كافة الطرق التي بها يتسبب النشاط البشري في إلحاق الضرر بالبيئة الطبيعية. وهو عدة أنواع منها تلوث الماء وتلوث الماء وتلوث التربة.....

-**الزحف العمراني:** وهو توسع البنايات والعمران على حساب الأراضي الزراعية والقرى وهو من نتائج انتشار التمدن والصناعة وهو من العوامل البشرية لحدوث لتصحّر.....

2-الجدول:

أ. الدائرتان النسبيتان.....

ب. العلاقة بين توزيع السكان في كل نطاق والظروف الطبيعية والبشرية: يتضح من خلال الجدول نسب

السكان في كل منطقة طبيعية حيث يتمركز أغلب السكان في التل بنسبة عالية 70 بالمئة من عدد السكان الكلي وذلك للمناخ المعتدل والسهول وانبساط الأرض وتوفر المرافق الحياتية من مدارس ومستشفيات...أما منطقة الصحراء فالمناخ القاسي وندرة الأمطار وقلة المرافق من نقل وتعليم وصحة جعل النسبة منخفضة حوالي 10 بالمئة.....

الجزء الثاني: المقال الجغرافي يراعى فيه:

مقدمة.....

خصائص الأقاليم الكبرى في الجزائر (إقليم التل-إقليم الهضاب العليا-إقليم الصحراء).....

مفهوم التهيئة الإقليمية و تحديد الموقع الجغرافي لإقليم الهضاب العليا الغربية مع مؤهلاته الاقتصادية.....

خاتمة.....