

التاريخ: الجزء الاول: (06 ن)

1- عرف مايلي : الأنظمة الديكتاتورية – أدولف هتلر – الشريف الحسين بن علي .

2- أكمل الجدول التالي :

التاريخ	إندلاع الح ع 2	
الحدث	مؤتمر الصلح	هيئة الأمم المتحدة

3- على خريطة العالم الصماء, وقع عليها : (روسيا – فرنسا – إنكلترا – ألمانيا – إيطاليا – الو م أ)

الجزء الثاني: (04 ن).

على قناة ناشيونال جيوغرافيك عرض شريط وثائقي عن الح ع 2. كيف أنها كانت نتيجة حتمية لنتائج الح ع 1. و عرض الشريط أراء بعض المؤرخين و السياسيين الذين إنقسموا إلى من يرى أن العالم كان يحتاج إلى مثل هذه المواجهة لإعادة تنظيم التوازن بين الدول و بين من يرى أنها لم تخلف سوى الخراب و الدمار في جميع الميادين.

السند 01 : « ... على الرغم من سعي مؤتمر الصلح إلى إرضاء القوميات الأوربية بتأسيس دول جديدة تضم شتات الشعوب التي خضعت قرونا للإمبراطوريات الكبيرة، لم تسلم كل تسوية من شوائب قومية، داخل تلك الدول القومية ... فقد ضمت بولندا من الألمان و الروس، و ضمت تشيكوسلوفاكيا أقلييات من الألمان و المجرين ... » .
د. عبد الحميد البطريق- التيارات السياسية المعاصرة

السند 02 : « ... و يتضح أن أوروبا كانت المتضرر الأكبر من الحرب, مما انعكس على وزنها السياسي بفقدانها زعامتها و هيمنتها العالمية, و التي كانت تتمتع بها منذ ما يقارب الاربعة قرون, متحولة من دنيا القوة و الزعامة الدولية الى دنيا الدمار و الضعف و المديونية و التبعية لأحد العملاقين ... » كتاب التاريخ المعاصر -3 ثا - ص 72

التعليمة : انطلاقا من السندات وما درست أكتب موضوعا تاريخيا, توضح فيه انعكاسات الح ع 1 و 2.



1- إليك جدول يمثل نسبة التساقط في الجزائر :

الشهر المدينة	جانفي	فيفري	مارس	أفريل	ماي	جوان	جويلية	أوت	سبتمبر	أكتوبر	نوفمبر	ديسمبر
العاصمة	121	109	87	37	5	3	16	43	53	72	79	91
سطيف	56	53	44	41	13	9	26	48	41	43	39	56
تمنراست	02	01	02	02	05	05	04	08	07	03	02	02

(النت) ar.climate-data.org

** حول أرقام الجدول الى منحني بياني في مجال واحد بمقياس رسم : 1 سم ← 10 ملم. 1 سم ← شهر.

** حلل الرسم البياني. (إستخرج المشكل المطروح و إقتراح حلول له)

2 - على الخريطة الجزائر المرفقة ، وقع عليها إقليم الهضاب العليا و أكمل البياناته

الجزء الثاني: (04 ن).

ضمن المشاريع المقررة في مادة الجغرافيا ، قدم زملائك دراسة تفصيلية عن الإقليم الصحراوي ، و ما لفت إنتباهك أن هذا الإقليم بقدر ما يمتلك مؤهلات و خيرات متنوعة بقدر ما يعاني من عدة مشاكل.

السند 01 : « ... تعرف المناطق الجنوبية زحفا مستمرا للرمال الصحراوية، بحيث بدأ الغطاء النباتي في الإنحلال بسبب قلة الأمطار و جفاف و يذكر أن المساحة ... » .

السند 02 : حسب جريدة النهار 2008.07.06 « وضح رئيس الجمهورية حجر الأساس لإنطلاق أكبر مشروع تطهير لمياه الصرف و المياه الجوفية على المستوى الوطني بولاية ورقلة و جاء هذا المشروع للحد من ظاهرة تصاعد المياه الجوفية بولاية ورقلة التي عرفت مشاكل جمة ... »
التعليمة : انطلاقا من السندات و مما درست أكتب موضوعا جغرافيا توضح فيه مشاكل الإقليم الصحراوي. و دور الدراسة الإقليمية في التخفيف من هذه المشاكل.

البيانات :

** المساحة :


.....

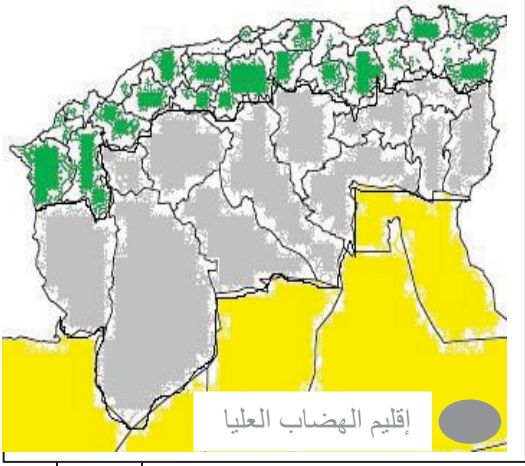
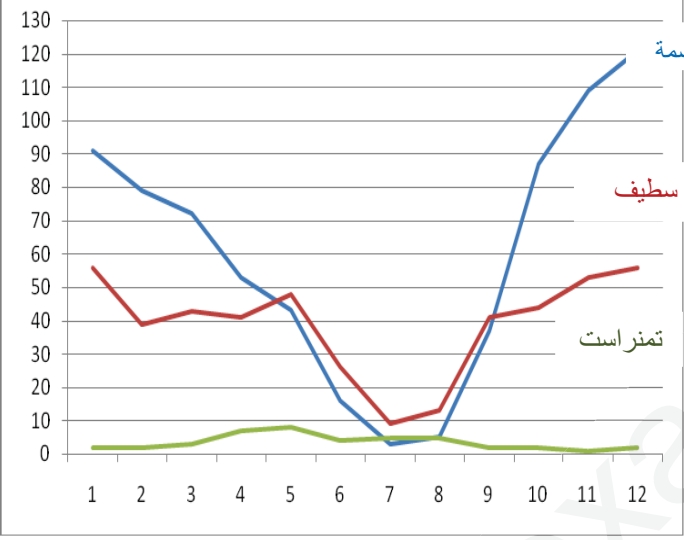
** السكان :

.....

** الكثافة السكانية :



م	ت.م	الإجابة	المطلب								
	0.75	نظام سياسي شمولي يعتمد على حكم الفرد في غياب أي تمثيل نيابي ، يستأثر بالسلطة رافضا وجود أي معارضة.	الأنظمة الديكتاتورية								
	0.75	زعيم الحركة النازية في ألمانيا صاحب نظرية عنصرية تقوم على تقديس العرق الآري وصل إلى السلطة في ألمانيا وفرض النظام الديكتاتوري مفجر الح ع 2 .	أدولف هتلر								
	0.75	هو أمير الحجاز الذي قام بالمحادثات مع مكماهون ممثل بريطانيا في مصر بشأن استقلال الد. العربية عن الإمبراطورية العثمانية.	الحسين بن علي								
06	02	<table border="1"> <tr> <td>التاريخ</td> <td>1919م</td> <td>إندلاع الح ع 2</td> <td>24 / 10 / 1945 م.</td> </tr> <tr> <td>الحدث</td> <td>مؤتمر الصلح</td> <td>01 / 09 / 1939 م.</td> <td>هيئة الأمم المتحدة</td> </tr> </table>	التاريخ	1919م	إندلاع الح ع 2	24 / 10 / 1945 م.	الحدث	مؤتمر الصلح	01 / 09 / 1939 م.	هيئة الأمم المتحدة	الجدول
التاريخ	1919م	إندلاع الح ع 2	24 / 10 / 1945 م.								
الحدث	مؤتمر الصلح	01 / 09 / 1939 م.	هيئة الأمم المتحدة								
	1.5 0.25		الخريطة								
م	ت.م	الإجابة	عناصر								
0.5	0.25 0.25	استخدمت الدول المنتصرة في الح ع 01، مؤتمر الصلح لإذلال الدول المنهزمة التي عادت للانتقام بعد عشرين سنة. فما هي انعكاسات الحربين العالميتين على أوروبا ؟	المقدمة								
03	0.25 0.25 0.25 0.25 0.25 0.25 0.25 0.25 0.25 0.25 0.25	<p>انعكاسات المواجهة العسكرية الأولى والثانية :</p> <ul style="list-style-type: none"> - تغير الخريطة الجيو- سياسية لأوروبا (ظهور دول، تغير الحدود ...) و العالم. - زوال الأنظمة الديكتاتورية و احتلال ألمانيا و تقسيمها الى مناطق نفوذ. - خسائر بشرية (09 م قتيل) و حدوث خلل في الهرم السكاني لأوروبا. - تدهور الوضع الاجتماعي (البطالة، ندرة السلع، كثرة الديون ...) - حدوث انهيار اقتصادي (تدمير المنشآت الصناعية، تخريب البنية التحتية ...) - فقدان أوروبا للزعامة الدولية بسبب تراجع مكانة الدول الاستعمارية). - إستفادة الو م أ إقتصاديا من الحرب (80 % من الذهب) - خروج أوروبا مثقلة بالديون و في حالة تبعية لأحد العملاقين (الو.م.أ – الإ.س) - ظهور النظام الشيوعي سنة 1917م في الإ.س بدلا من روسيا القيصرية. - إنهيار الأنظمة السياسية (إختفاء أربع إمبراطوريات) - تنامي الرغبة في الانتقام (بسبب معاهدة الصلح) لدى الدول المنهزمة في الح ع 1 - إنقسام أوروبا الى شرقية إشتراكية شيوعية و غربية رأسمالية (بوادر الحرب الباردة) - تأسيس عصبة الأمم سنة 1920م و بعدها هيئة الأمم المتحدة 1945م. - خيبة أمل الشعوب العربية المشاركة في الح ع 1. - ظهور الحركة الصهيونية (وعد بلفور 1917م). - تحول الحرب من أوروبية إلى عالمية. - إستخدام المستعمرات (مادي و بشريا). - إنتشار موجة التحرر في المستعمرات. 	العرض								
0.5		لم تكن الح ع 01 و 02 إلا فرصة للدول الأوروبية لحل مشاكلها العالقة ضاربة عرض الحائط كل القيم و المبادئ، و لهذا كانت نتائجها وخيمة جدا عليها في جميع الميادين.	الخاتمة								

م	ت.م	الاجابة	المطلب
		 <p>خريطة الجزائر تمثل إقليم الهضاب العليا.</p>	 <p>الرسم + الخريطة</p>
06	01.5	<p>* المساحة : 303.231 كلم².</p> <p>* السكان : 20% (09 م/ن).</p> <p>* ك.س : 10-100 ن/كلم².</p> <p>* عدد الولايات : 14 ولاية.</p>	<p>منحنى بياني يمثل نسبة التساقط في الجزائر</p> <p>1 سم 10 ملم.</p> <p>1 سم شهر.</p>
	02	<p>وثيقة جغرافية ذات طابع إقتصادي في شكل جدول إحصائي يمثل نسبة التساقط في الجزائر. من (النت) ar.climate-data.org</p> <p>**المشكل هو الجفاف.</p> <p>**بناء السدود لاستغلال مياه الامطار</p> <p>**انشاء محطات لمعالجة المياه المستعملة</p> <p>**الإستغلال الأمثل للمياه خاصة الجوفية بتوفير الإمكانيات الضرورية لإستخراجها.</p> <p>**تحلية مياه البحر.</p> <p>**الإقتصاد في الإستعمال.</p>	<p>التعليق</p>
		الاجابة	عناصر
	0.5	0.25	0.25
		<p>تواجه الأقاليم الجزائرية الثلاث الكثير من المشاكل التي تشكل عقبات في وجه التنمية المحلية. فمهما مشاكل الإقليم الصحراوي ؟ و ما دور الدراسة الإقليمية في التخفيف من هذه المشاكل ؟</p>	<p>المقدمة</p>
	03	02	01
		<p>01 / مشاكل الإقليم الصحراوي :</p> <ul style="list-style-type: none"> - الطابع الصحراوي (الجفاف و ندرة الأمطار). - التلوث الجوي الناتج عن المصانع. - انعدام الغطاء النباتي و ضيق المساحة الزراعية. - ارتفاع نسبة الملوحة في الواحات - صعوبة التنمية الاقتصادية و بالتالي استمرار العزلة الجغرافية. - قلة الكثافة السكانية + التهريب + الهجرة السرية + ضعف الخدمات الاقتصادية. - ضعف الهياكل القاعدية و شبكة المواصلات. - صعود المياه خاصة بولاية الوادي و ورقلة أين تشكلت البرك المائية واختلطت مياه الصرف الصحي مع المياه الصالحة للشرب بسبب تصاعد المياه الجوفية. <p>02 / دور الدراسة الإقليمية في التخفيف من هذ المشاكل :</p> <ul style="list-style-type: none"> - التعرف على إمكانيات الإقليم. - إستغلال الجيد لخيرات الطبيعية و البشرية التي يزر بها. - تمييز النشاط الإقتصادي تبعاً للإمكانيات المتاحة (رعوي، زراعي ، صناعي). - وضع تهيئة إقليمية مناسبة بالتركيز على البنى التحتية و تطويرها. 	<p>العرض</p>
	0.5		
		<p>من خلال ما سبق نستنتج أن الإقليم تعاني من مشاكل كثيرة و متنوعة و لا يمكن حلها أو القضاء عليها نهائياً إلا بالإعتماد على الدراسة الإقليمية .</p>	<p>الخاتمة</p>