

المستوى : 3 أف 3 ت إ	إختبار الثلاثي الثاني في التاريخ والجغرافيا	السنة الدراسية : 2016 - 2017
التوقيت : ساعتان		

التاريخ :

الجزء الاول : 06ن

- 1- عرف المصطلحات التالية : القرصنة الجوية - المناطق المحرمة - المحتشدات - الثورة .
- 2 - عرف كل من : شارل ديغول - حسين أيت أحمد - العربي بن مهيدي .
- 3 - أكمل الجدول التالي :

التاريخ	الحدث
1955-08-20
.....	إنعقاد مؤتمر طرابلس
.....	تأسيس الإتحاد العام للعمال الجزائريين
1958-10-23

الجزء الثاني : 04ن

"... كان وصول ديغول الى الحكم يعبر في نفس الوقت عن المأزق الذي وضعت فيه حرب الجزائر الاستعمار الفرنسي , وعن طموح الأوساط المسيرة الفرنسية الى التخلص من التناقضات الداخلية التي تعرقل حلها للمشاكل. كانت سياسة السلطة الديغولية في الجزائر ذات هدف مزدوج , إضعاف القوات المسلحة للثورة بتقوية الحرب واستخلاص فئة بورجوازية صغيرة..."

المطلوب : إنطلاقا من الفقرة و اعتمادا على ما درست اكتب مقالا تاريخيا تبرز فيه :

- 1 - طبيعة المأزق الذي وضعت فيه حرب الجزائر الإستعمار الفرنسي ؟.
- 2 - سياسة ديغول العسكرية المنتهجة لإضعاف الثورة ؟ .

الجغرافيا :

الجزء الاول : 06ن

"... ينتظم المجال الإقليمي للإتحاد الأروبي حول فضاء مركزي يمتد من جنوب شرق انجلترا إلى شمال ايطاليا و الذي ينتج قرابة **الدخل الوطني الخام** للدول الأعضاء في **الإتحاد الأروبي** وهو من اقوي المناطق في العالم مثل الو - م - أ أو **مجمع المدن** في اليابان نجد فيها عاصمتين عالميتين ... "

الكتاب المدرسي ص 107

1- حدد مفهوم المصطلحات التي تحتها خط ؟

2- إليك جدولا يمثل مساهمة بعض دول العالم في الناتج الاقتصادي العالمي لسنة 2012:

اليابان	الصين الشعبية	الوم أ	الاتحاد الأروبي	الدول
4495	11500	15040	15400	القيمة:مليار دولار
6.1%	15.5%	20.3%	20.8%	النسبة العالمية%

موقع فوتيوس، موقع تيودورا، مارس 2013

المطلوب: مثل نسب الجدول بأعمدة بيانية بمقياس رسم : 1سم = 5%

1سم = عمود

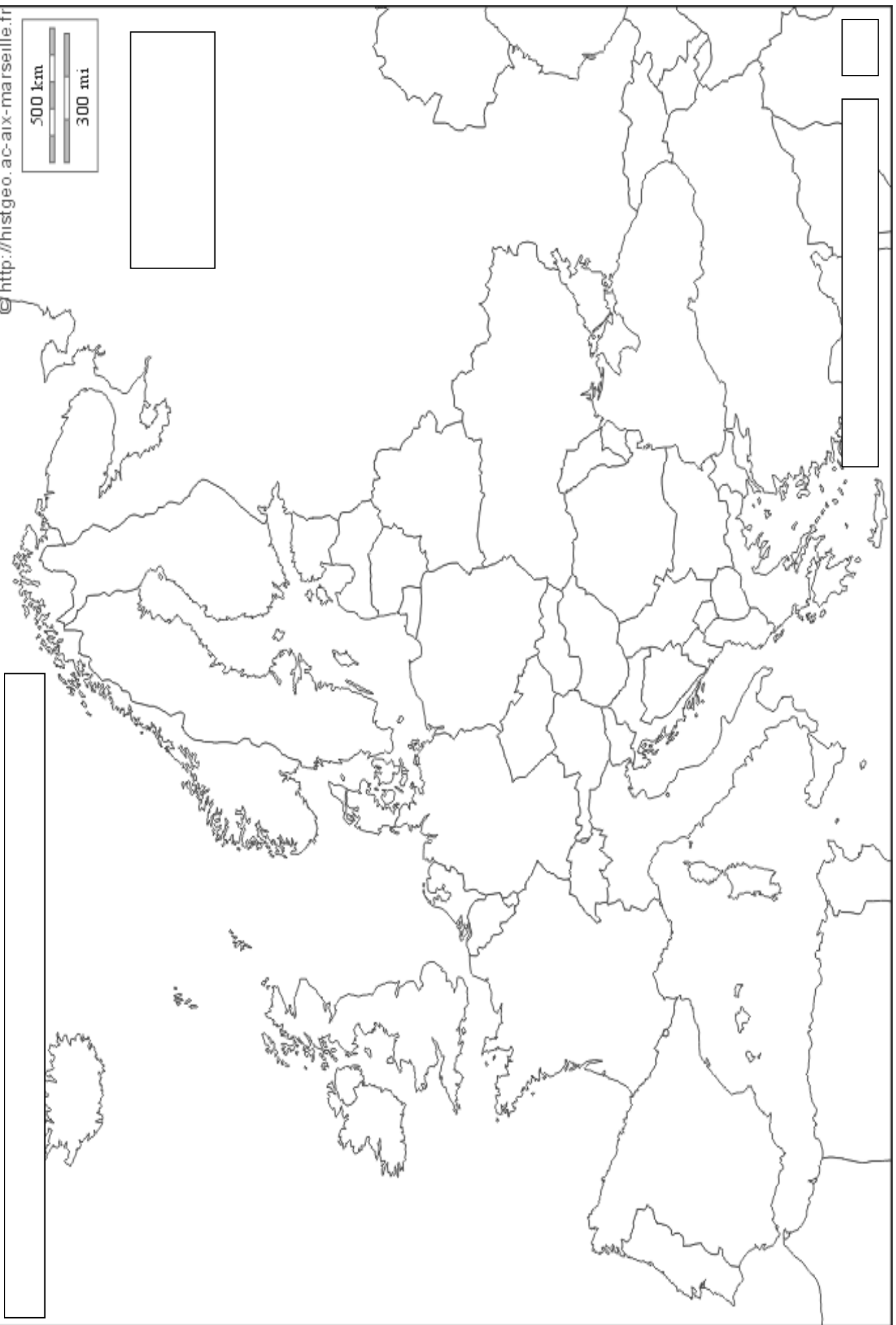




3- على خريطة أوروبا المرفقة وقع دول الإتحاد الأروبي الواقعة ضمن إقليم الراين ؟

الجزء الثاني : 04ن

تمكنت دول شرق وجنوب شرق آسيا من التحكم في الديمغرافيا والاندماج في الاقتصاد العالمي، فتحوّلت دوله إلى ورشة ومخابر العالم وحققت تنمية اقتصادية مستقرة تراوحت نسب النمو الاقتصادي فيها ما بين 7 و10%.

المطلوب : انطلاقا من العبارة واعتمادا على ما درست اكتب مقالا جغرافيا تبرز فيه :

- 1_ عوامل التطور الاقتصادي في المنطقة.
- 2_ تأثير هذا التطور الاقتصادي على السوق العالمية.

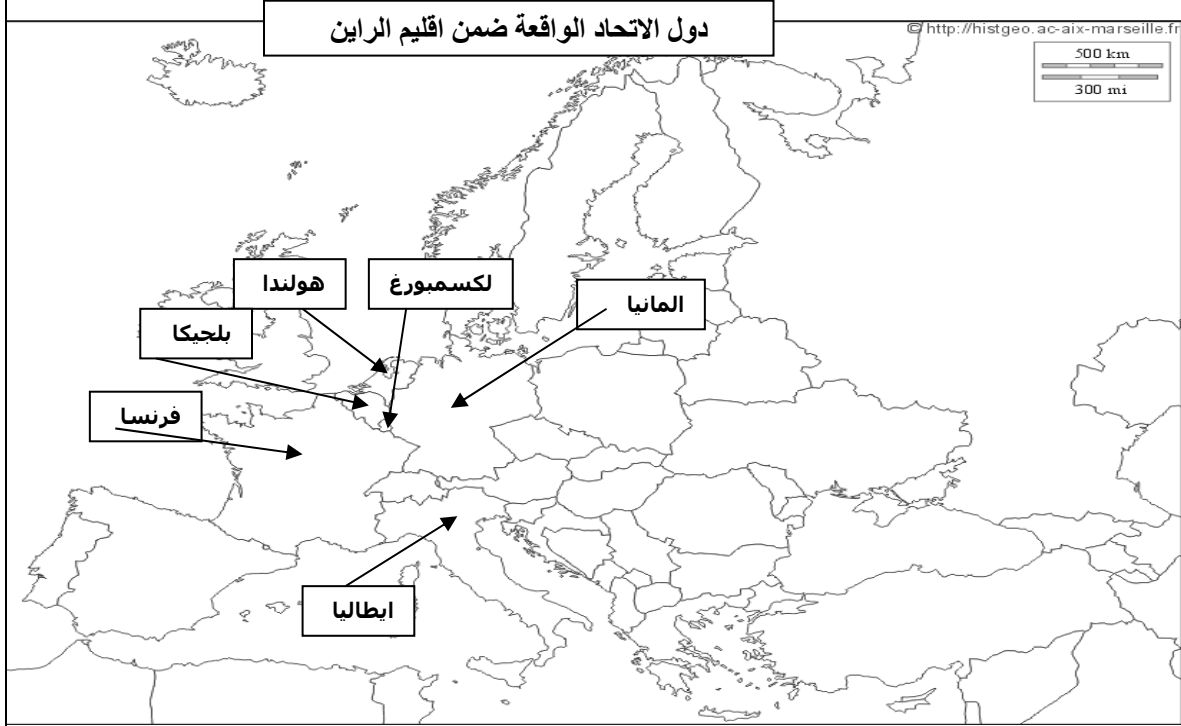


التاريخ :		تصحيح اختبار الثلاثي الثاني		أف + ت + إ
التقييم	المراحل	المضامين		
02	المفاهيم	<p>القرصنة الجوية : اختطاف فرنسا طائرة قادة الثورة الجزائرية الخمسة المتجهة من المغرب الأقصى الى تونس في 22 اكتوبر 1956.</p> <p>المناطق المحرمة : مناطق اعتبرتها فرنسا إستراتيجية بالنسبة لجيش التحرير الوطني خاصة في علاقته بالشعب صنفها الإستعمار كمناطق محرمة أي تمنع الإقامة والسكن فيها . أو حتى عبورها (الحدود, جبال الأوراس, جبال الشمال القسنطيني...)</p> <p>المحتشدات : مناطق مغلقة و محروسة و هي إحدى الوسائل القمعية الرهيبة التي لجأت إليها فرنسا لخنق الثورة.</p> <p>الثورة : هي تغيير جذري للأوضاع السائدة سياسية او اقتصادية أو اجتماعية أو ثقافية</p>		
02	الشخصيات	<p>شارل ديغول : سياسي و جنرال فرنسي مؤسس الجمهورية الفرنسية الخامسة عام 1958 . حاول ضرب الثورة بسياسته التي جمعت بين القمع والإغراء ومحاولة الاختراق وأخيرا وقع اتفاقيات إيفيان مع جبهة التحرير الوطني. مما أنقذ فرنسا. توفي سنة 1970</p> <p>حسين ايت أحمد: مناضل في حزب الشعب وحركة الانتصار, عضو المنظمة الخاصة واللجنة الثورية للوحدة والعمل، عضو مجموعة 22 ولجنة التسعة انتقل إلى القاهرة ضمن الوفد الخارجي للثورة اعتقل في حادثة اختطاف الطائرة 1956.</p> <p>العربي بن مهيدي 1923-1957 : قائد الولاية الخامسة - وهران - أشرف على إضراب السبعة أيام بالعاصمة ، ألقى عليه القبض في 23 فيفري 1957 بمدينة الجزائر أستشهد بالسجن تحت التعذيب يوم 03 مارس 1957</p>		
02	اكمال الجدول	الحدث		
		تاريخه		
		20 - 08 - 1955	هجومات الشمال القسنطيني	
		26 ماي - 04 جوان 1962	إنعقاد مؤتمر طرابلس	
02	اكمال الجدول	24 - 02 - 1956	تأسيس الاتحاد العام للعمال الجزائريين	
		23 - 10 - 1958	سلم الشجعان	
0.5	مقدمة	ظروف وصول ديغول الى السلطة 1958 و سياسته اتجاه الثورة التحريرية ؟		
01.5	العرض	<p>- طبيعة المأزق :</p> <p>- الانقسام داخل الأوساط الفرنسية السياسية والعسكرية حول كيفية مواجهة الثورة .</p> <p>- فشل كل الخطط و الاستراتيجيات الفرنسية في مواجهة الثورة.</p> <p>- أحداث 13 ماي 1958 ونتائجها (الاستقرار السياسي...)</p>		
01.5		<p>- سياسة ديغول العسكرية لإضعاف الثورة :</p> <p>- مضاعفة عدد القوات .</p> <p>- وضع مخططات عسكرية.</p> <p>- القيام بعمليات عسكرية مكثفة (المنظار , التاج , الحزام)</p> <p>- تجنيد المزيد من الحركي</p>		
0.5	الخاتمة	رغم مخططات ديغول العسكرية والسياسية والاقتصادية الا أنه فشل في اخماد نار الثورة.		

الجغرافيا :

0.5	المصطلحات	<p>الدخل الوطني الخام : هي الثروة المنتجة في البلاد خلال سنة واحدة .</p>		
0.75		<p>الإتحاد الأوروبي : تجمع اقتصادي إقليمي قاري شكلته ست دول في روما بتاريخ 23-03-1957 ليرتفع عدد أعضائه في 01-01-2007 الى 27 دولة و كان الإتحاد الأروبي يعرف سابقا قبل التسمية المعتمدة في 01-11-1993 بموجب معاهدة مايس تريخت بالسوق الأوروبية المشتركة او المجموعة الأوروبية الاقتصادية.</p>		
0.75		<p>مجمع المدن : يعرف بالميجالوبوليس و هو تجمع حضري يتكون من عدة ملايين من السكان يمتد على مجال جغرافي واسع ويتضمن عدد من المدن الضخمة المتصلة ببعضها البعض .</p>		
01	التمثيل البياني :	<p>أعمدة بيانية تمثل مساهمة بعض دول العالم في الناتج الإقتصادي العالمي سنة 2012</p>		
0.5		<p>الإنتاج</p>		
0.5		<p>العنوان</p> <p>المقياس</p>		

3- التوقيع على الخريطة:



02

0.5

استطاعت دول منطقة شرق وجنوب شرق اسيا احداث توازن بين النمو الديمغرافي والاقتصادي مما مكنها أن تتحول إلى قطب إقتصادي عالمي .

مقدمة

عوامل التطور الإقتصادي في المنطقة :

1.5

- تأهيل اليد العاملة التي تتميز بالمرودية العالية و الأجر المنخفض . - تخصيص ميزانية مرتفعة للتعليم
- تشجيع البحث العلمي . - استغلال الوزن الديمغرافي (كسوق استهلاكية واسعة لتحفيز الاقتصاد) .
- حركة الهجرة و دورها في تدفق رؤوس الأموال (خاصة الصين) - تشجيع الادخار
- الموازنة بين النمو السكاني و النمو الاقتصادي . - اضافة الى عوامل طبيعية (الموقع , المناخ ,....) وسياسية (الاستقرار....)

العرض

تأثير هذا التطور على السوق العالمية :

1.5

- تعتبر أقطاب الثالث العالمي . - تعدد أقطابها الاقتصادية
- احتكار المنطقة أكثر من ربع الثروة العالمية (تساهم بـ 28.9% من الناتج العالمي)
- امتلاكها 30 % من أسطول التجاري العالمي .
- اندماج المنطقة في الاقتصاد العالمي و انفتاحها على الاستثمارات الأجنبية .
- احتكار المنطقة أكثر من ربع المبادلات العالمية (28.1% سنة 2013)
- غزو سلعها و فروع شركاتها في مختلف دول العالم . - قوة أسواقها المالية

0.5

يُعرف القرن 21 بالقرن الآسيوي حيث يتزايد دور المنطقة في الاقتصاد العالمي بشكل مستمر مما يُنبأ بانتقال مركز القوة الاقتصادية العالمية من الواجهة الأطلسية إلى المحيط الهادي

الخاتمة

1.5		
0.5		الخاتمة