



الجمهورية الجزائرية الديمقراطية الشعبية

مديرية التربية لولاية النعامة
المدة 3 ساعات
دورة: فيفري 2021

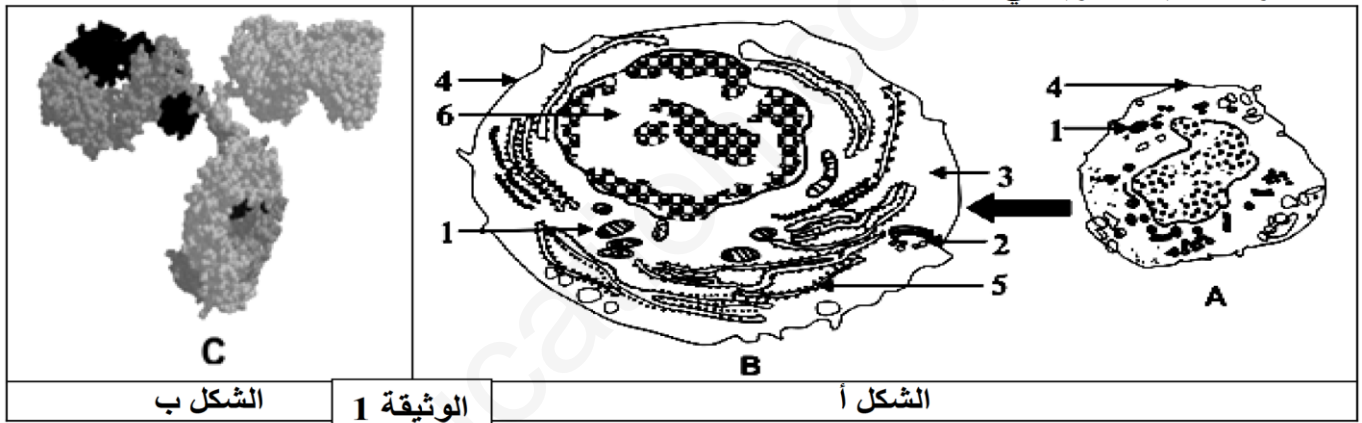
وزارة التربية الوطنية
اختبار الفصل الأول
الشعبة: الثالثة علوم تجريبية

اختبار في مادة علوم الطبيعة والحياة

التمرين الأول: (05 نقاط)

يخضع دخول بعض المستضدات إلى العضوية على إنتاج عناصر دفاعية ذات طبيعة بروتينية تساهم في إقصائها، وذلك لا يتم الا بتدخل خلايا متخصصة ، ولمعرفة شروط إنتاج هذه العناصر نقترح الدراسة التالية :

يمثل الشكل (أ) من الوثيقة (1) تطور أحد أنواع الخلايا المناعية على مستوى طحال فأر بعد فترة من حقنه بمستخلصات الجدار الخلوي للبكتيريا، بينما يمثل الشكل (ب) من نفس الوثيقة البنية ثلاثية الابعاد لاحد العناصر الدفاعية السارية في مصله .



بالمقابل تسمح إضافة نفس المستخلصات من الجدار الخلوي لهذه البكتيريا إلى مزرعة بما خلايا مناعية مأخوذة من طحال الفأر السابق بتسجيل الملاحظات التالية :

- أ- غنى الوسط بالعناصر (C) الممثلة في الشكل (ب)
- ب- زيادة كتلة الـ ADN عند بعض الخلايا المناعية .
- ت- زيادة كتلة الـ ARN عند بعض الخلايا المناعية .
- ث- تغيرات بنيوية للخلايا المناعية كما في الشكل (أ) من الوثيقة (1)

1. أ- تعرف على البيانات المرقمة من 1 إلى 6 وعلى العناصر (A-B-C)

ب- رتب الملاحظات المسجلة في وسط الزرع وفق تسلسلها الزمني .

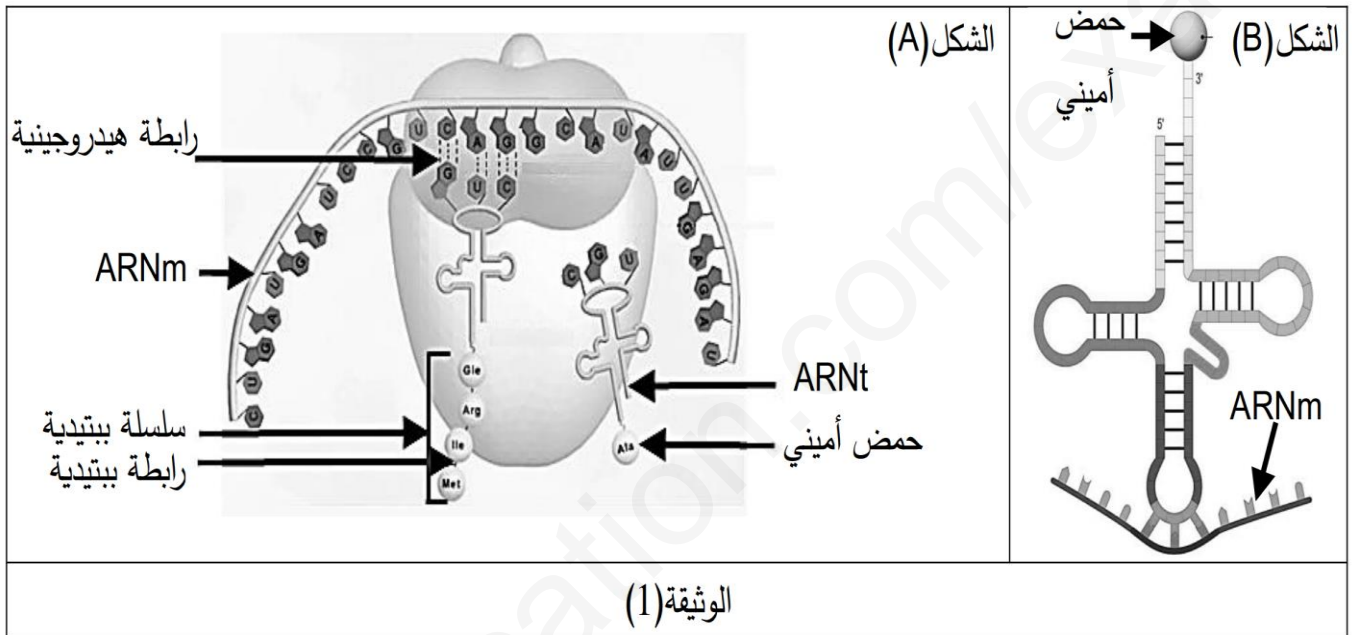
2. اعتمادا على مكتسباتك و مما سبق قدم نص علمي تبرز فيه عن العلاقة البنوية والوظيفية للعناصر (A-B-C) لحدوث الاستجابة المناعية ذات الوساطة الخلطية .

التمرين الثاني: (07 نقاط)

يتطلب تركيب البروتين في الخلية تواجد وسائل خلوية نوعية يؤدي كل منها عمله بكفاءة عالية، تضمن هذه الوسائل تشكل بروتين كامل ووظيفي داخل الخلية. لمعرفة أحد هذه الوسائل وأهميتها في تركيب البروتين نقترح الدراسات التالية:

الجزء الأول:

تم تحضير أشكال الوثيقة (1) التي تمثل تفاصيل مرحلة هامة من مراحل تركيب البروتين في الخلية تدعى الترجمة ويظهر تواجد وسائل ضرورية لحدوث هذه المرحلة في الخلية حقيقة النواة.



1. انطلاقاً من الوثيقة (1)، اشرح العلاقة الوظيفية بين جزيئات الشكلين (A) و(B).
2. استناداً إلى الخصائص البنوية لجزيئة الشكل (B)، وضح الدور المزدوج لجزيئة ARNt الذي تلعبه أثناء تركيب البروتين في الخلايا حقيقية النواة.

الجزء الثاني:

تركب الخلايا الانشائية كريات الدم (الهيموغلوبين) فهي بذلك غنية بالوسائل المتدخلة في الخطوة المشار لها في الوثيقة (1)، للحصول على هذه الوسائل نحضر مستخلصات خلوية مختلفة من خلايا انسان وخلايا كائن وحيد الخلية هو **Tetrahymena**، حيث نقوم بتفجير الخلايا وتنخلص من البقايا الخلوية بالطرد المركزي ثم نعالج السائل الطافي بإنزيم الريبونيكلياز الذي يخرب ARNm وبالتالي نتحصل على وسط حيوي غني بالوسائل قيد الدراسة.

- ثم ننجز تجربة توضح الوثيقة (2-أ) خطواتها ونتائجها.

دراسة تتعلق بالكائن وحيد الخلية Tetrahymena		دراسة تتعلق بالخلايا الانشائية لكريات الدم الحمراء
التجربة 1	التجربة 2	التجربة 3
إضافة ARNm خاص Tetrahymena من مستخلص خلوي من وحيد الخلية	إضافة ARNm خاص Tetrahymena من مستخلص خلوي الانشائية	إضافة ARNm خاص Tetrahymena من مستخلص خلوي الانشائية قليلا من هيولى Tetrahymena منزوع الريبوزومات
تركيب بروتين كامل به 134 حمض أميني	تركيب قطع ببتيدي بها 3 احماض أمينية	تركيب بروتين كامل به 134 حمض أميني
الوثيقة (2-أ)		

بينما توضح الوثيقة (2-ب) بداية ونهاية سلسلة بروتين الكائن وحيد الخلية **Tetrahymena** وكذا تسلسل النكليوتيدات الموافقة له (تظهر النتائج أن الليوسين **Leu** هو آخر حمض أميني في البروتين).

1	2	3	4	5	131	132	133	134	135
Met	Tyr	Val	Gln	Ala	Cys	Thr	Gln	Leu	
AUG	UAU	GUC	UAG	GCA	UGU	ACA	UAA	UUA	UGA
بداية السلسلة البروتينية لبروتين الـ Tetrahymena					نهاية السلسلة البروتينية لبروتين الـ Tetrahymena				
الوثيقة (2-ب)									

1. انطلاقا من معارفك المكتسبة، اشرح سبب كون جهاز الترجمة (المستخلص الخلوي) للخلايا الانشائية لكريات الدم الحمراء غير قادر على تركيب بروتين الكائن وحيد الخلية في التجربة 2.
2. انطلاقا من الوثيقة (2-ب) ومن مقارنتك للتجربتين 2 و 3 في الوثيقة (2-أ)، ناقش سبب اختلاف نتائج التجربتين محددا العنصر الهام الغائب في التجربة 3.

التمرين الثالث: (08 نقاط)

تعمل الانزيمات على سير التفاعلات في الانظمة الحية وتمتاز بالفعالية والسرعة بالإضافة الى التخصص الكبير في العمل مما يجعلها مركبات ذات اهمية كبيرة.

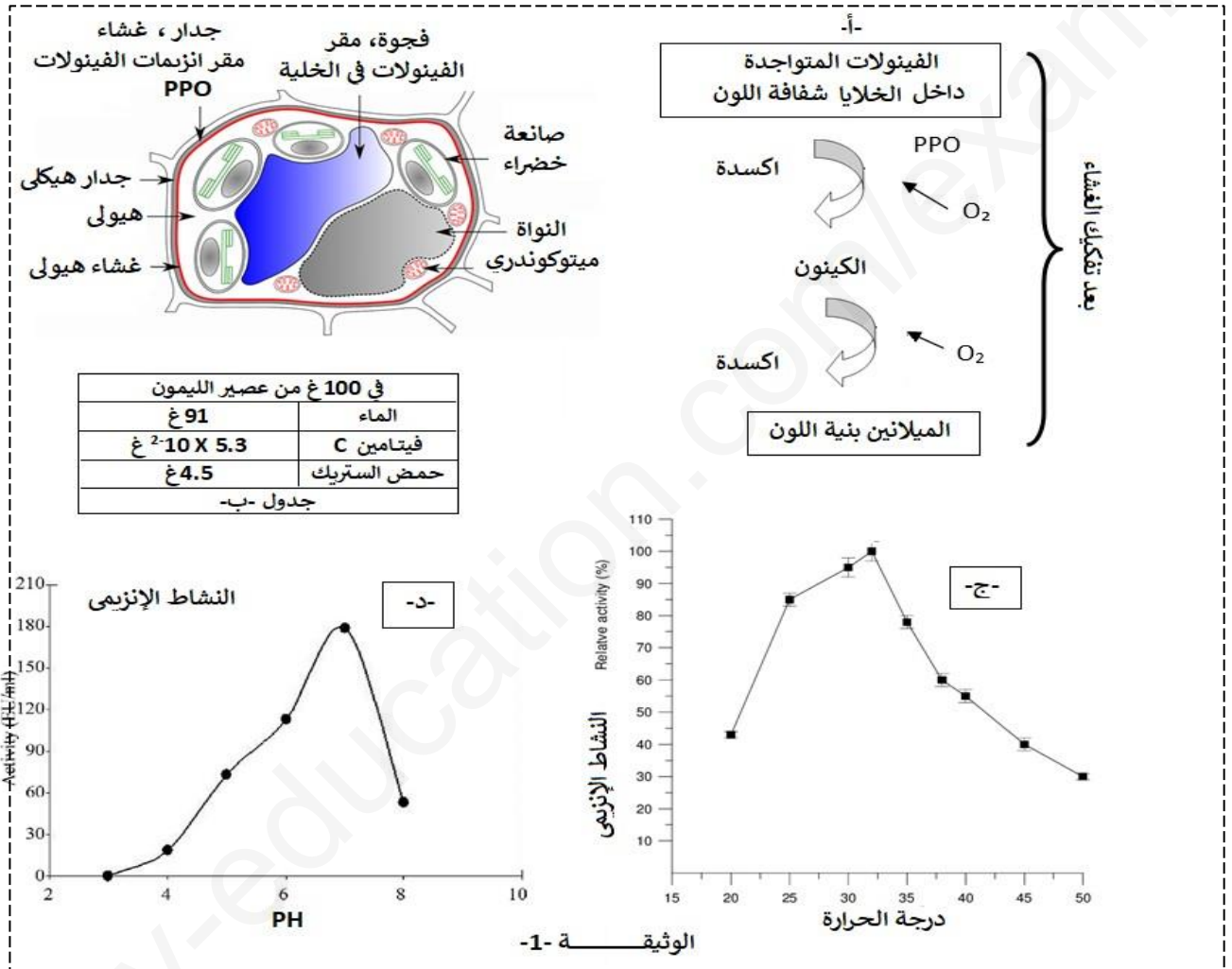
الجزء الأول:

عند قطع تفاحة وتركها معرضة للهواء يتحول لون سطحها الى اللون البني ويتغير قوامها، يحدث هذا ظاهرة تعرف بـ الاسمرار الانزيمي **Brunissement enzymatique** ، لفهم هذه الظاهرة نقترح عليك الدراسة التالية:



تتميز الخضرا والفواكه باحتوائها على مركبات تعرف بالفينولات تتواجد داخل فجوات الخلايا بينما يتواجد انزيم بوليفينول اوكسيداز PPO المسئول عن اوسدها خارجها، يفصل بينهما جدار وغشاء رقيق فعند قطع التفاح مثلا يتم كسر او تفكيك الغشاء ويبدأ الانزيم في التفاعل مع الفينولات كما هو موضح في الوثيقة (1-أ) التي تبين مراحل الاسمرار الانزيمي.

ينصح اخصائي الطهي إثر قطع التفاح بإضافة عصير الليمون للجزء المعرض للهواء للحد من ظاهرة الاسمرار الانزيمي ، تظهر الوثيقة (1-ب) جدول يبين بعض المكونات الكيميائية للليمون. كما يظهر كل من الشكلي (ج-د) النشاط الانزيمي لإنزيم PPO لنبات البرقوق بدلالة تغيرات في درجة pH الوسط وكذا درجة الحرارة .



1. بعد تحليلك للوثيقة (1) اقترح فرضية تفسر فيها سبب استعمال عصير الليمون للحد من ظاهرة الاسمرار الانزيمي.

الجزء الثاني :

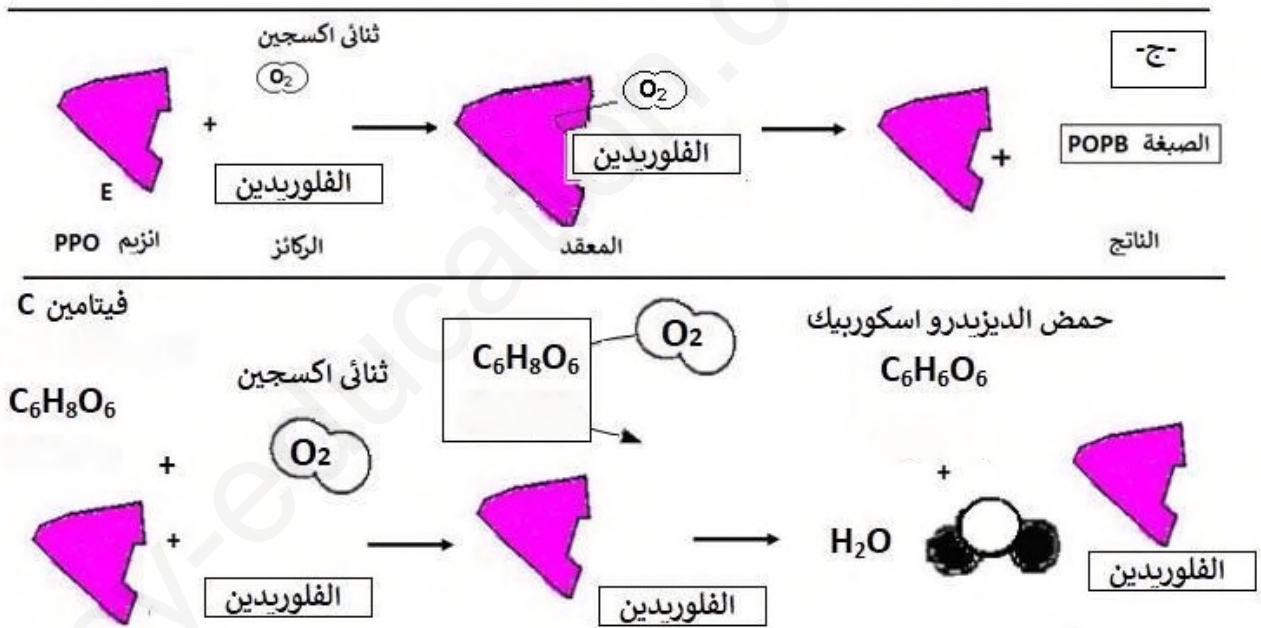
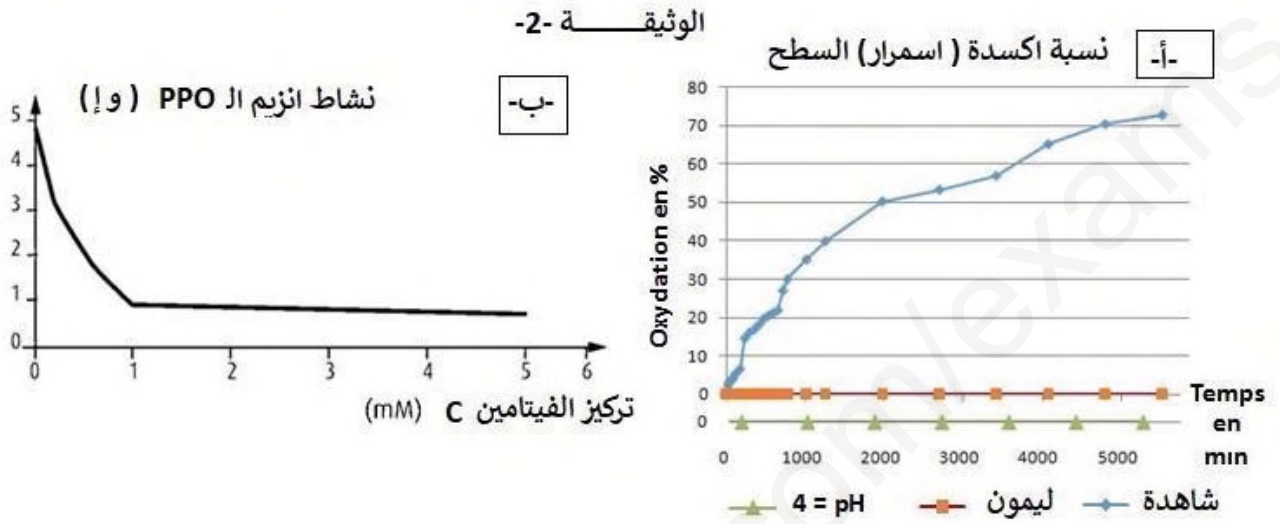
لفهم الية تأثير عصير الليمون على ظاهرة الاسمرار الانزيمي واختبار مدى صحة الفرضية السابقة ننجز التجارب التالية:

❖ التجربة 1- : نأخذ 3 علب بتري نضع:

- في العلب الأولى (شاهدة) : قطعة من التفاح تترك للهواء .
- في العلب الثانية: قطعة من التفاح + عصير الليمون تترك للهواء .
- في العلب الثالثة: قطعة تفاح + سائل درجة حموضته pH=4 تترك للهواء.

تم قياس النسبة المئوية لسطح التفاح المؤكسد النتائج مدونة في الوثيقة (2-أ).

❖ التجربة 2- تم قياس نشاط انزيم PPO في وجود الفيتامين C الذي يعرف أيضا بـ حمض الأسكوربيك المتواجد في الليمون ، النتائج موضحة في الوثيقة (2-ب) . بينما تمثل الوثيقة (2-ج) نمذجة لتفاعل انزيم PPO في غياب الفيتامين C و في وجوده علما ان الفلوريدين نوع من أنواع الفينولات وهي خاصة بالتفاح.



1. باستغلالك للوثيقة (2) بر نصيحة اخصائي الطهي مبينا تأثير الليمون على ظاهرة الاسمرار الإنزيمي مع مراقبة الفرضية.

الجزء الثالث:

انطلاقا من الدراسة اقترح حلين آخرين للحد من ظاهرة الاسمرار الإنزيمي في حالة عدم توفر عصير الليمون.

بالتوفيق

"أساتذة المادة"