

الجمهورية الجزائرية الديمقراطية

وزارة التربية و التعليم

بكالوريا تجريبي (بيضاء)

الشعبة: كل الشعب

نموذج رقم :5(2020)

اختبار في مادة التاريخ و الجغرافيا

اعداد الأستاذ عبد الرؤوف سوادي

المدة: 03سا و 30 د

التاريخ:

الجزء الاول: 6 نقاط

(..... اللجنة الثورية للوحدة و العمل(23مارس 1954) التي حاولت التوفيق بين أطراف الصراع في حركة انتصار الحريات الديمقراطية عقب الازمة التي وقعت 1953 ثم مضت قدما لتنظيم الثورة مؤسسوها أعضاء المنظمة الخاصة التي عرفت لاحقا بلجنة 22...)

الكتاب المدرسي-وزارة التربية الوطنية-2000-2001

- 1- اشرح المصطلحات التي تحتها خط في النص
- 2- عرف بالشخصيات التالية: حسيبة بن بو علي- جواهر لال نهرو- جيمي إيرل كارتر- برجنيف
- 3- حدد المعالم الزمنية التالية: تأسيس الحكومة الجزائرية المؤقتة- مبدأ جدانوف – مؤتمر باندونغ

الجزء الثاني: 4 نقاط

الصراع بين الشرق و الغرب حول أوروبا الى ميدان لبور التوتر

المطلوب:

انطلاقا من العبارة و اعتمادا على مادرت، اكتب مقالا تبرز فيه

- 1- أسباب التآزم في العلاقات الدولية
- 2- انعكسات الصراع بين المعسكرين على أوروبا

الجغرافيا

الجزء الأول: 6 نقاط

1- عرف المصطلحات التالية:

البريكس – أوروبا الخضراء-الأسيان

2- اليك جدول الممثل لخمس دول الأولى المستهلكة للبتترول

الدول	الوم ا	الصين	اليابان	الهند	روسيا
الاستهلاك (مليون برميل يوميا)	18	10	4	3.6	3.3

المرجع: احصائيات بترول يوم جوان، 2014

أ- علق على الجدول

ب- عين على الخريطة الدول المدرجة في الجدول

الجزء الثاني: 4 نقاط

الوم ا و ال اتحاد الاروبي القوى الاقتصادية تعتبر اقطاب كبرى تسيطر على الاقتصاد العالمي

1- أهداف تأسيس الإتحاد الأوروبي

2- أثر قوة الوم ا على العالم

الموضوع الثاني

الجزء الأول: 6 نقاط

((.... واعتبار الولايات المتحدة الأمريكية المسؤولة عن وضع المعايير و التنظيمات ومراقبتها باسم

الشرعية الدولية، التي لا تنطبق عليها هي، ولا على حلفائها الأقربين في الحلف الأطلسي و ربيبتها

إسرائيل في الوقت الذي تحت فيه بلدان العالم الثالث و دول المنظومة الاشتراكية - سابقا على تفكيك

القطاع العام و تسريع الخصخصة في جميع مرافق الاقتصاد إن التقييم الأول للممارسات الأحادية

القطبية يشير الى ان معظم بلدان العالم الثالث تشهد عودة الهيمنة الامبريالية ...)

المرجع: د. محمد العربي ولد خليفة - النظام العالمي الجديد - العالم السياسي 1998/10/24

1- اشرح ما تحته خط في النص

2- عرف بالشخصيات التالية: مليكة قايد- عيسات إيدير- جمال عبد الناصر- بولغانين

3- وقع على الخريطة 3 دول شيوعية في أوروبا الشرقية و 3 دول خارج القارة الأوروبية

الجزء الثاني: 4 نقاط

في ظل الانتصارات التي حققتها الثورة 1954-1958 جعلت فرنسا تستنجد بديغول قصد القضاء على

الثورة

المطلوب: اعتمادا على الفقرة و مدارس اكتب مقالا تبرز فيه ما يلي

1-النجاحات التي حققتها الثورة 1954-1958

2-مشاريع ديغول الاغرائية للقضاء على الثورة

الجغرافيا

الجزء الأول: 6 نقاط

وكان الاعتقاد السائد أنه بإمكان البلدان الفقيرة أن تشرع في النمو الاقتصادي اذا ما اعتمدت أساليب التحكم و التسيير القائمة على استقرار المؤسسات الاقتصادية الكبرى و تحرير الأسواق و اتباع الخصخصة ، ويؤدي ذلك النمو بدوره الى التحسن الواسع في مجال الصحة و التعليم و التغذية و السكن و الاستفادة من الهياكل القاعدية...)

1- اشرح ماتحته خط في النص

2- اليك الخمسة دول الأولى المصدرة و المستوردة للغاز في العالم 2012

الدول المصدرة	الكمية بمليون طن	الدول المستوردة	الكمية بمليون طن
قطر	72.2	اليابان	87.8
ماليزيا	24.7	كوريا الجنوبية	40.9
استراليا	22.2	الصين	18.6
اندونيسيا	17	الهند	12.8
نيجريا	16.9	اسبانيا	9.4

المصدر: الاتحاد العالمي للغاز، وكالة معلومات الطاقة الامركية و 2013

المطلوب:

1- مثل معطيات الجدول في اعمدة بيانية بمقياس 1 سم = 5 طن

1سم = عمود

2- عين على الخريطة ثلاث دول مصدرة و ثلاث دول مستوردة

الجزء الثاني: 6 نقاط

يعتبر البترول مصدر كثير من الدول بإرتفاعه ينتعش اقتصادها و بتراجع اسعاره تدخل في ركود

المطلوب:

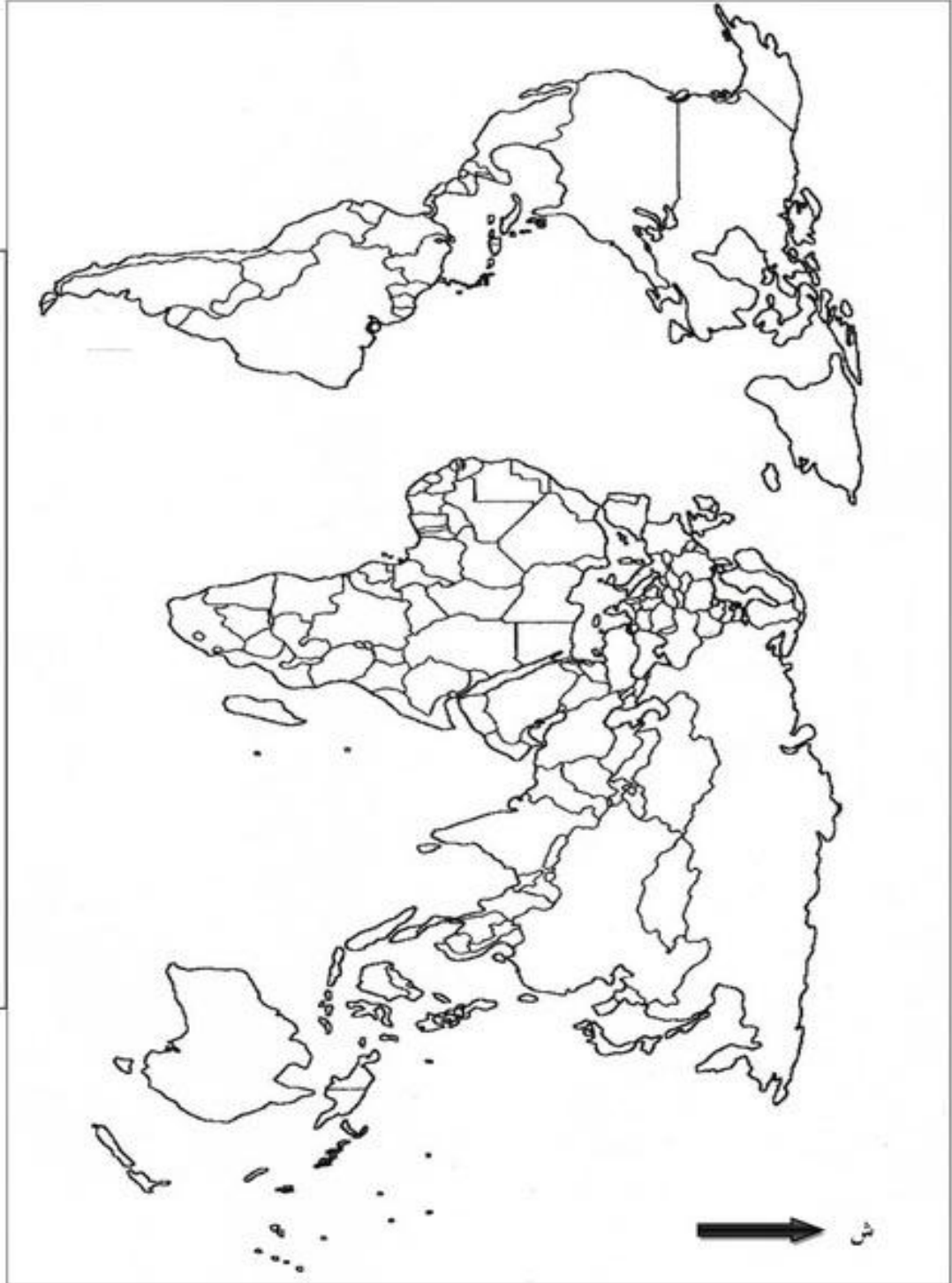
من خلال الفقرة و مكتسباتك القبلية اكتب مقالا تبرز فيه

1-أسباب ارتفاع أسعار البترول

2-انعكسات انخفاض أسعار البترول على الدول المصدرة

اعداد الاستاذ عبد الرؤوف سوادري

خريطة العالم (ملحق خاص بالموضوع الأول)



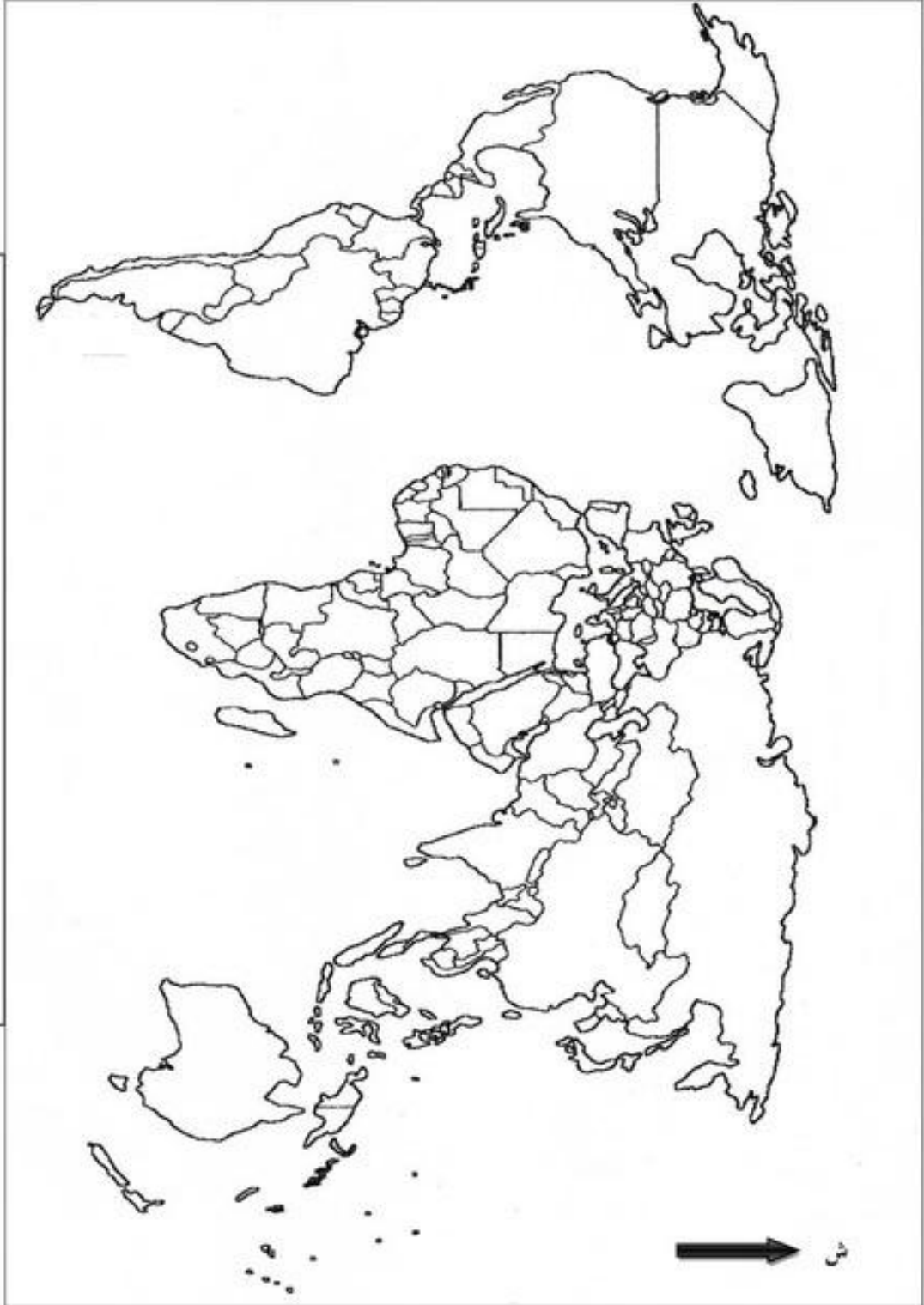
ينجز العمل المطلوب على الخريطة وتعاد مع أوراق الإجابة

خريطة أوروبا (ملحق خاص بالموضوع الثاني)



ينجز العمل المطلوب على الخريطة وتعاد مع أوراق الإجابة

خريطة العالم (ملحق خاص بالموضوع الثاني)



ينجز العمل المطلوب على الخريطة وتعاد مع أوراق الإجابة

العلامة	مجزأة	عناصر الإجابة								
6		<p style="text-align: center;">التاريخ</p> <p style="text-align: right;">الجزء الأول</p> <p style="text-align: right;">1) اشرح المصطلحات التالية:</p> <p>* حركة انتصار الحريات الديمقراطية: حزب أسسه مصالي الحاج نوفمبر 1946 بعد قانون العفو الشامل الذي أصدرته فرنسا وكان يدعو الى الاستقلال التام على فرنسا الى انه تفكك بسبب صراع داخل الحزب بين المصالحين و المركزين</p> <p>* الثورة : رد فعل شمولي عسكري و سياسي من قبل الشعب الجزائري بقيادة جبهة التحرير الوطني بهدف الاستقلال و استرجاع السيادة</p> <p>* لجنة 22: وهم اعضاء اللجنة الثورية للوحدة و العمل حضرو اجتماع يوم 23 جوان 1954 بمنزل السيد الياس دريش لتعجيل في تفجير الثورة و انبثقت عنها مجموعة الخمسة (مصطفى بن بولعيد-ديدوش مراد -رابح بيطاط - العربي بن مهدي محمد بوضياف) و اعضاء الستة اعضاء اعضاء الخمسة + كريم بالقاسم</p> <p style="text-align: right;">2) عرف بالشخصيات التالية:</p> <p>* حسيبة بن بو علي: مناضلة و ثورية جزائرية كانت طبيبة ثم اصبحت تصنع المتفجرات للفدائين ثم استشهدت بعد رفضها للاستسلام</p> <p>* جواهر لال نهرو: سياسي وزعيم و اول رئيس وزراء هندي من 1947 حتى 1964 ابرز قادة المؤتمر الوطني الهندي صديق غاندي حضر مؤتمر باندونغ من بين مؤسسين للحركة عدم الانحياز</p> <p>* جيمي كارتر: سياسي و رئيس الوم 1977-1981 وقع معاهدة السلام كامب دايفيد بين مصر و اسرائيل واجها مشكلة الثورة الاسلامية الايرانية وقع معاهدة سالت 2 1979 و دعم سياسة التعايش السلمي</p> <p>* ليونيد ايليتش بريجنيف: سياسي و رئيس الاس 1964 حتى 1982 صاحب نظرية السيادة المحدودة تدخل في ربيع براغ و وقع اتفاقية سالت (1) سنة 1972 و سالت (2) سنة 1979</p> <p style="text-align: right;">3) حدد المعالم الزمنية</p> <table border="1" style="width: 100%; border-collapse: collapse;"> <thead> <tr> <th>التاريخ</th> <th>الحدث</th> </tr> </thead> <tbody> <tr> <td>19 سبتمبر 1958</td> <td>تأسيس الحكومة المؤقتة</td> </tr> <tr> <td>22 سبتمبر 1947</td> <td>مبدأ جدانوف</td> </tr> <tr> <td>18 حتى 24 افريل 1955</td> <td>مؤتمر باندونغ</td> </tr> </tbody> </table>	التاريخ	الحدث	19 سبتمبر 1958	تأسيس الحكومة المؤقتة	22 سبتمبر 1947	مبدأ جدانوف	18 حتى 24 افريل 1955	مؤتمر باندونغ
	التاريخ	الحدث								
	19 سبتمبر 1958	تأسيس الحكومة المؤقتة								
	22 سبتمبر 1947	مبدأ جدانوف								
	18 حتى 24 افريل 1955	مؤتمر باندونغ								
		الجزء الثاني: 4 نقاط								

<p>4ن</p> <p>1.5ن</p> <p>1.5ن</p> <p>0.5ن</p> <p>1ن</p> <p>1ن</p> <p>1ن</p> <p>6ن</p>	<p>بعد نهاية الحرب العالمية الثانية في أوروبا و العالم سنة 1945 ظهر صراع جديد نتج عنه العديد من التصادم و التآزم في العلاقات الدولية هددت الامن و السلم العالمي فماهي أسبابه ؟ و كيف انعكس على القارة الأوروبية؟</p> <p>*أسباب التآزم في العلاقات الدولية*</p> <p>-الإختلاف الإيديولوجي بين المعسكرين</p> <p>-السباق نحو مناطق النفوذ</p> <p>-رغبة كل طرف في الهيمنة على العالم وفرض مذهبه</p> <p>-زوال مبررات التحالف الظرفي ورغبة كل طرف في القضاء على الطرف الأخر</p> <p>-السباق نحو التسلح (تهديد أمن الطرف الأخر)</p> <p>*انعكسات الصراع بين المعسكرين على أوروبا*</p> <p>-انقسام أوروبا إيديولوجيا (شرقي شيوعي غربي للبيرالي)</p> <p>-أزمة برلين 1 و أزمة برلين 2</p> <p>-تغيير الخريطة السياسية (المانيا الغربية الفدرالية الراسمالية و المانيا الشرقية الاشتراكية)</p> <p>-سياسة الأحلاف (حلف وارسو معسكر شرقي حلف الناتو معسكر غربي)</p> <p>-سياسة المشاريع و التكتلات الاقتصادية (مشروع مرشال الكتلة الغربية منظمة الكومكون معسكر غربي)</p> <p>وفي الأخير أرى ان هذا الصراع فرض على المعسكرين سياسة جديدة للعلاقات الدولية تقوم على مبدأ قبول تعدد المذاهب السياسية و الإيديولوجيا و انهاء الأزمات الدولية بطرق سلمية لتفادي حرب ساخنة (عالمية3)</p> <p>جغرافيا</p> <p>الجزء الاول:6نقاط</p> <p>1)شرح المصطلحات</p> <p>البريكس:كلمة مركبة من الحروف الأولى ل 5 دول (البرازيل -روسيا -الهند-الصين-جنوب افريقيا) عبارة عن تكتل تأسس سنة2006و بالتحاق جنوب افريقيا سنة 2011 اصبحت تعقد كل سنة اجتماع هي دول صاعدة ذات وزن ديمغرافي تهدف الى تحويل النظام العالمي من الاحادية القطبية الى متعدد الاقطاب و التعاون و التبادل التجاري بينها</p> <p>أوروبا الخضراء:سياسة فلاحية مشتركة ظهرت سنة 1957 اتبعها الاتحاد لتطوير الفلاحة</p> <p>الاسيان:تكتل إقتصادي اقليمي تأسس سنة 1967 وهو اتحاد دول جنوب شرق آسيا من أجل تنمية المنطقة (تايلندا -أندونيسيا - ماليزيا -سنغافورة -الفلبين)</p> <p>2)علق على الجدول:</p>	<p>4ن</p> <p>1.5ن</p> <p>1.5ن</p> <p>0.5ن</p> <p>1ن</p> <p>1ن</p> <p>1ن</p> <p>6ن</p>
---	---	---

- وثيقة جغرافيا اقتصادية عبارة عن جدول يمثل خمسة دول الأولى للبترو
- تباين في حجم استهلاك البترول بين الدول الواردة في الجدول
- ضخامة استهلاك الو م للبترو
- كل دول الواردة في الجدول متقدمة و صاعدة و صناعية
- بروز الو م كقطب صناعي الأول في العالم لذلك هي أكبر دولة مستهلكة للبترو

تعيين على الخريطة: العنوان 0.25 المفتاح 0.25 التعيين 0.25*5

الجزء الثاني: 4 نقاط

يعتبر اقتصاد الاتحاد الأوروبي و الو م ا قوة عظمى للامكانيات و القدرات التي تملكها و الاستراتيجية المتبعة منها لتحقيق هدفها مما جعل لها أثر كبير على الساحة الدولية فما هي أهداف تشكيل الاتحاد الأوروبي؟ و ما أثر قوة الو م ا على ال اقتصاد العالمي؟

أهداف تأسيس الاتحاد الأوروبي:

- تحقيق التكامل الإقتصادي و المكانة العالمية

- التخلص و التقليل من التبعية الاقتصادية

- استرجاع القوة و القيادة العالمية

- اقامة سوق مشتركة نقدية فلاحية صناعية و حتى امنية

أثر قوة الو م ا على الاقتصاد العالمي

- سيطرة الدولار الأمريكي على المبادلات التجارية.

- التحكم في المؤسسات المالية العالمية (صندوق النقد الدولي و البنك العالمي)

- الضغط على دول العالم الثالث للخضوع للقرارات السياسية

- تحكم في دول العالم الثالث لحماية مصالحها النفطية

- امتلاكها للشركات احتكارية جعلها تحتكر العديد من السلع

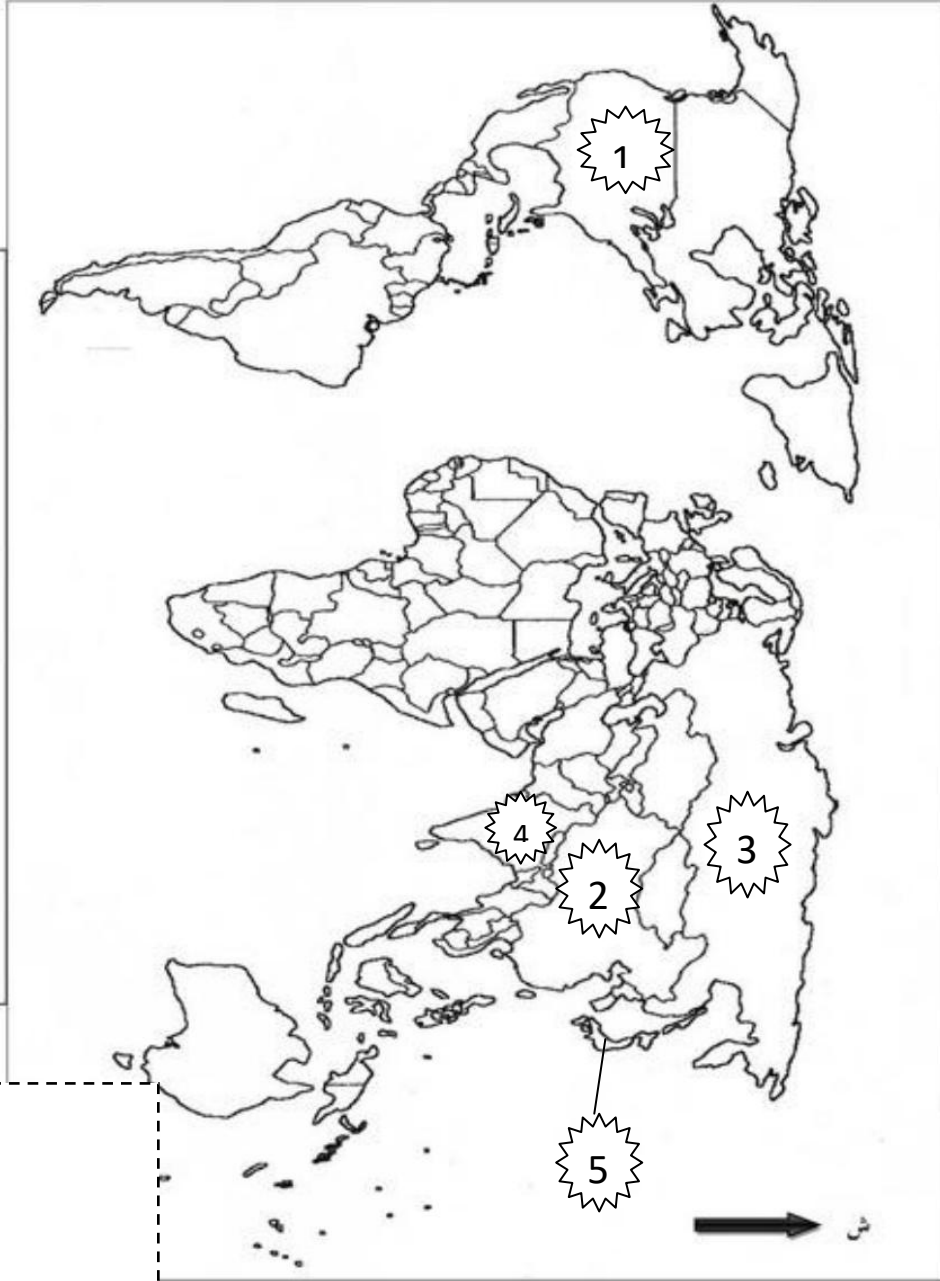
في الاخير آرى ان رغم قوة الاتحاد الاوروبي و الو م ا الى ان دول شرق وجنوب

شرق اسيا تبقى تنافس هذين القطبين وهي في المرحلة الاخيرة للتفوق عليهم اقتصاديا

اعداد الأستاذ عبد الرؤوف سوادي

خريطة تمثل الدول الخمسة الأولى المستهلكة للبتترول

خريطة العالم (ملحق خاص بالموضوع الأول)



ينجز العمل المطلوب على الخريطة وتعاد مع أوراق الإجابة

المفتاح

1الوم ا

2الصين

3روسيا

4 الهند

5اليابان

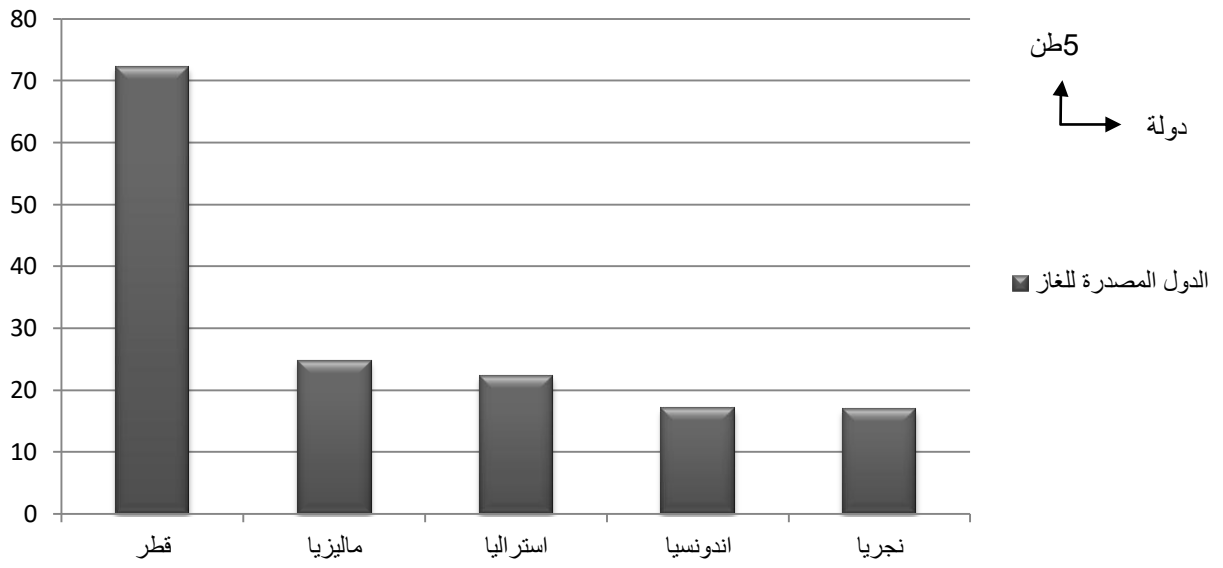
حل الموضوع الثاني

العلامة	مجزأة	عناصر الإجابة
		التاريخ
		الجزء الأول: 6 نقاط
		1المصطلحات
	0.5ن	الشرعية الدولية:التزام بالقوانين و التقيد بالقرارات الصادرة من الهيئات و المنظمات الدولية
	0.5ن	الحلف الأطلسي:تكتل عسكري تأسس بتاريخ 4 افريل 1949 مقره بروكسل بالجيكا يضم العديد من الدول (ال و م ا بريطانيا - فرنسا).هدفه الدفاع المشترك ضد اي عدوان من المعسكر الشرقي و تطويقه
	0.5ن	الهيمنة الإمبريالية:هو نوع من انواع الاستعمار المباشر او الغير مباشر سياسي او اقتصادي اي هيمنة دولة قوية على دولة ضعيفة
		2عرف الشخصيات التالية:
	1ن	مليقة قايدى:مناضلة و ثورية جزائرية ولدت سنة 1933 كانت ممرضة ومكلفة بصنع القنابل و تعليم المجاهدين استشهدت و هي حاملة للسلاح و العلم الوطني
	0.5	عيسات ايدير: مناضل وسياسي جزائري ولد بتزي وزو سنة 1919 انضم الى حركة انتصر الحريات الديمقراطية مؤسس الاتحاد العام للعمال الجزائريين 24 فيفري 1956 سجن عدة مرات جمال عبد الناصر:سياسي ورئيس مصر من 1956 حتى 1970 قاد الثورة المصرية مع الضباط الاحرار أمم قناة السويس 1956 ومن بين مؤسسين حركة عدم الانحياز سنة 1961
	1ن	بولغانين:(نيقولا ألكسندروفيتش) سياسي و عسكري سفياتي في فترة الحرب الباردة ووزير للدفاع ثم رئيس وزراء وأحد القيادة الثلاثية بعد وفاة سنة 1953
		وقع على الخريطة:
	2	المفتاح 0.25 العنوان 0.25 التوقيع 0.25*6
		الجزء الثاني: 4 نقاط
6ن	0.5	منذ اندلاع الثورة من 1954 رغم صعوبات التي واجهتها من نقص العتاد و الحصار المفروض عليها وتردد بعض الجزائريين في التحاق بها الى انها استطاعت ان تلحق خسائر بشرية و مادية بفرنسا فأجبرت فرنسا على الاستنجد بشارل ديغول الذي انقضهم في الحرب ع 2 فماهي نجاحات التي حققتها الثورة من 1954 حتى 1958 وماهي وسائل الاغرائية التي اتبعها ديغول
	1.5	–النجاحات التي حققتها الثورة من 1954 حتى 1958
		*اندلاع الثورة 1 نوفمبر 1954
		*هجمات الشمال القسطيني 20 أوت 1955

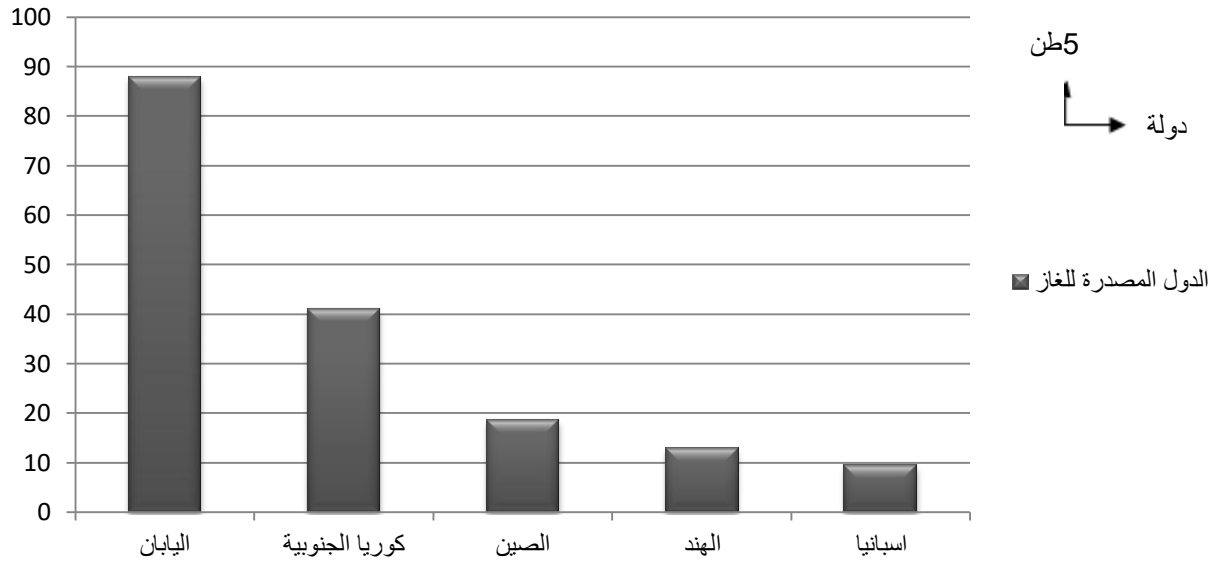
<p>4ن</p>	<p>1.5</p>	<p>*تدوين القضية الجزائرية في الجمعية العامة للأمم المتحدة 30 سبتمبر 1955 *اضراب الطلبة الجزائريين و التحاقهم بالثورة 19 ماي 1956 و اضراب 8 ايام 1957 *عقد مؤتمر الصومام 20 اوت 1956 *تأسيس الحكومة المؤقتة 1958 <u>مشاريع ديغول الاغرائية للقضاء على الثورة</u> *مشروع قسنطينة 3 اكتوبر 1958 اصلاحات اغرائية لعزل الشعب عن الثورة *مشروع سلم الشجعان 1958 لتراجع الثوار و تسليم السلاح و التفاوض *طرح مشروع تقرير المصير (مناورة من ديغول تهدف الى جعل الجزائر اتحاد فدرالي مع فرنسا) *دعوة الجزائريين للتفاوض ومحاولة المناورة عن طريق انشاء القوة الثالثة و التحدث باسمهم 0.5 في الاخير نستنتج ان كل محاولة ديغول فشلت امام وعي و اسرار الجزائريين و لتمسك بمبادئ بيان نوفمبر و هو الاستقلال التام عن فرنسا.</p>
<p>6ن</p>	<p>0.5 0.75 0.5</p>	<p>جغرافيا</p> <p>الجزء الأول: 6 نقاط</p> <p><u>1 اشرح المصطلحات التالية:</u></p> <p>0.5 البلدان الفقيرة: هي البلدان المتخلفة تعاني من العجز و الركود في كل المجالات و تعاني من المديونية و عدم التحكم و استغلال الامثل لمواردها</p> <p>0.75 تحرير السوق: الغاء الحواجز و القيود الجمركية المفروضة على السلع و الخدمات من اجل تشجيع التبادل التجاري</p> <p>0.5 الخصخصة: نقل الملكية من المشروعات من القطاع العام الى القطاع الخاص من اجل زيادة المردودية و الانتاجية</p> <p>(2) تمثيل المعطيات في اعمدة بيانية العنوان 0.5 المفتاح 0.25 المقياس 0.25 الانجاز 1.5</p> <p>(3) تعيين على الخريطة العنوان 0.25 المفتاح 0.25 تعيين على الخريطة 0.25*6</p> <p>الجزء الثاني: يعتبر البترول اهم مصدر طاقوي للدول شمال و يوفر العملة الصعبة للعالم الجنوب فكلما ارتفع سعره استفادة منه دول المتخلفة و تضررت منه الدول المتقدمة و العكس فماهي العوامل المتحكممة في سعره؟ و ما هي انعكسات انخفاضه على الدول المصدرة؟</p> <p>0.5 أسباب ارتفاع اسعار البترول</p> <p>1.5 *تخفيض العرض و زيادة الطلب يؤدي الى ارتفاع اسعاره</p>

		<p>*الصراعات و الحروب في مناطق الانتاج (نقص الانتاج) *ضعف الأوبىك (صراعات داخل المنظمة) *الكوارث الطبيعية و العوامل المناخية</p>
4ن	1.5	<p><u>انعكسات انخفاض أسعار البترول على الدول المصدرة</u> *افلاس الخزينة و تجميد المشاريع *زيادة المديونية و التبعية *الضغط من صندوق النقد الدولي و تحكم في السياسات الداخلية *البطالة و الفقر و التضخم *ظهور الاضرابات و المظاهرات</p>
	0.5	<p>وفي الاخير نستنتج رغم محاولة دول المصدرة للبترول من خلال الاوبىك لتحديد سقف الانتاج ورفع سعر البرميل الى انها تعاني من معوقات تجعلها تتخبط و تعاني من احتكار الشركات متعددة الجنسيات</p>

اعمدة بيانية للدول الخمسة الأولى المصدرة للغاز 2012

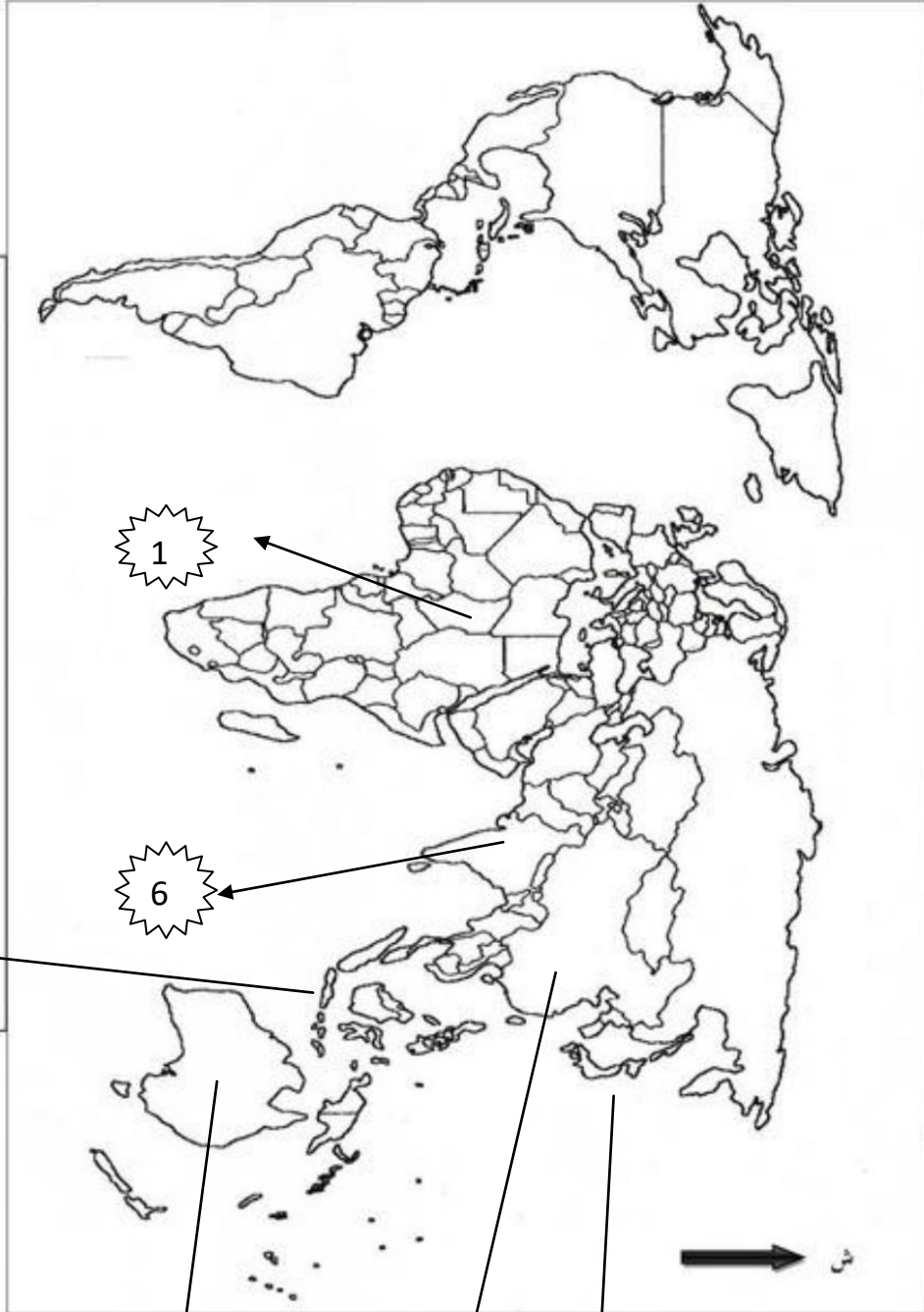


اعمدة بيانية للدول الخمسة الأولى المستوردة للغاز 2012



خريطة تمثل 3 دول مستوردة للغاز و 3 دول مصدرة

خريطة العالم (ملحق خاص بالموضوع الثاني)



ينجز العمل المطلوب على الخريطة وتعاد مع أوراق الإجابة

المفتاح (المصدر)	المفتاح (المستوردة)
1 إنجلترا	4 اليابان
2 اندونيسيا	5 الصين
3 استراليا	6 الهند

3 دول شيوعية داخل أوروبا

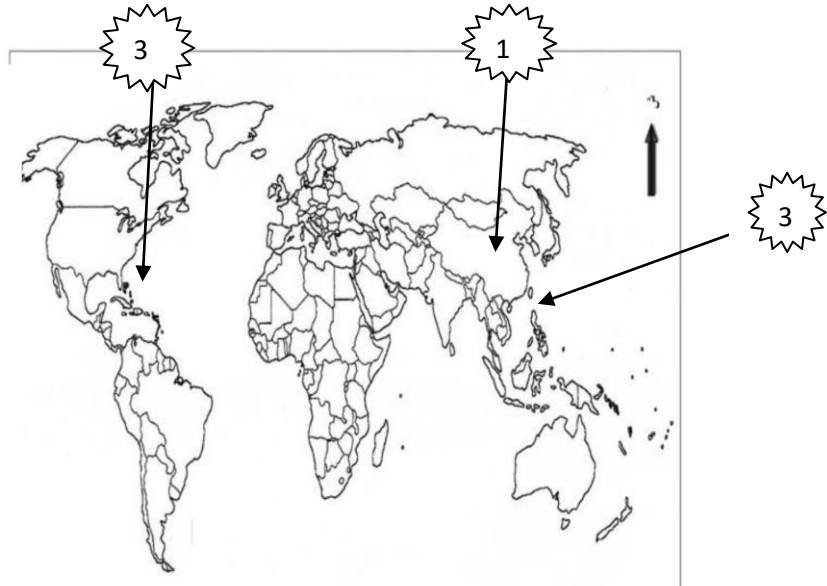
خريطة أوروبا (ملحق خاص بالموضوع الثاني)



- المفتاح
1الاس
2بلونيا
3المانيا الشرقية

ينجز العمل المطلوب على الخريطة وتعاد مع أوراق الإجابة

خريطة تمثل ثلاث دول شيوعية خارج اوروبا



- المفتاح
1الصين
2كوريا الشمالية
3كوبا