

المستوى: 3، 3، 3	الإختبار الأول في مادة العلوم الفيزيائية	ثانوية فاطمة الزهراء * تبسة *
المدة: ساعتان (2)	07/12/2017	الأساتذة: ديلي س، بويع

### التمرين الأول:

عند اللحظة  $t=0$  وفي درجة حرارة ثابتة ، نشكل مزيجاً من محلول ( $S_1$ ) لبيروكسو ديكبريتات البوتاسيوم ( $2K^+(aq)+S_2O_8^{2-}(aq)$ ) حجمه  $V_1$  وتركيزه  $C_1$  و محلول ( $S_2$ ) ليود البوتاسيوم ( $K^+(aq)+I^-(aq)$ ) حجمه  $V_2$  وتركيزه  $C_2$  حيث  $C_2=2C_1$  .

حجم المزيج الكلي  $V=1.00L$  يحتوي على كمية مادة ابتدائية  $n_{01}=10mmol$  لشاردة البيروكسو ديكبريتات ( $S_2O_8^{2-}(aq)$ ) و كمية مادة ابتدائية  $n_{02}=20mmol$  لشاردة اليود ( $I^-(aq)$ ).

تعطى الثنائيات مرجع/ مؤكسد المشاركة في التفاعل (1) المنمذج للتحويل التام و البطيء :  $S_2O_8^{2-}(aq)/SO_4^{2-}(aq)$  ;  $I_2(aq)/I^-(aq)$  :

1- أكتب معادلة التفاعل (1) الحادث .

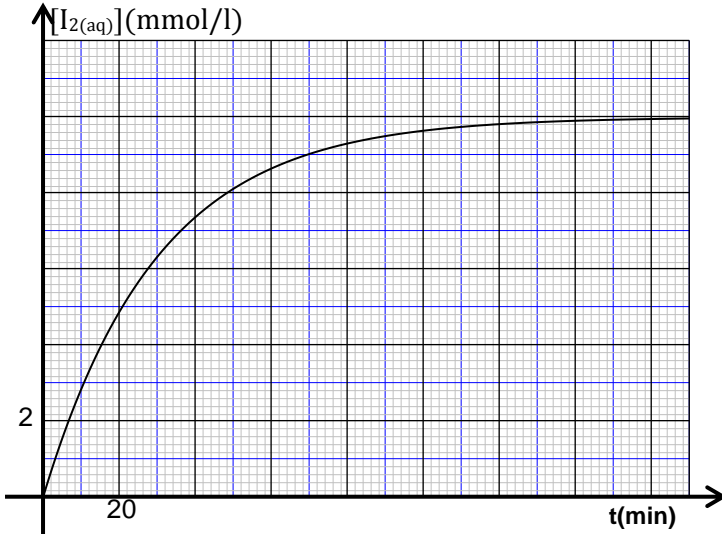
2-

أ- أنجز جدول تقدم التفاعل (1).

ب- حدد التركيز الابتدائي في المزيج للشاردين المتفاعلتين  $[S_2O_8^{2-}(aq)]_0$  و  $[I^-(aq)]_0$  و استنتج كل من التركيزين  $C_1$  و  $C_2$  .

3- بعد المزج نقسم المزيج على 10 أجزاء متساوية في كؤوس بيشر لنبدأ في معايرة ثنائي اليود المتشكل في كل بيشر عند لحظات زمنية محددة مسبقاً بحيث عند اللحظة الزمنية  $t$  المختارة نضيف الماء البارد لمحتوى البيشر وبسحاحة نسكب عليه قطرة قطرة محلول لثيوكبريتات الصوديوم ( $2Na^+(aq)+S_2O_3^{2-}(aq)$ ) تركيزه  $C_3=4 \times 10^{-2} mol/L$  إلى أن يبلغ التكافؤ.

تعطى معادلة تفاعل المعايرة (2) :  $2S_2O_3^{2-}(aq)+I_2(aq) \longrightarrow 2I^-(aq)+S_4O_6^{2-}(aq)$



أ- لماذا نضيف الماء البارد ؟

ب- ما العوامل الحركية البارزة في هذه العملية ؟

4- تمكننا من الحصول على منحى تطور تركيز

$[I_2(aq)]$  لثنائي اليود المتشكل .

أ- أوجد الحجم ( $V_3(40min)$ ) من المحلول المعاير

( $2Na^+(aq)+S_2O_3^{2-}(aq)$ ) اللازم لتحقيق التكافؤ عند

اللحظة  $t_2=40min$  .

ب- أحسب التركيز النهائي لثنائي اليود  $[I_2(aq)]_f$  هل

تطابق القيمة التجريبية ؟ علل.

ج- عرف السرعة الحجمية المتوسطة للتفاعل و أحسبها بين

اللحظتين  $t_1=0s$  و  $t_2=40min$  .

د- عرف سرعة التفاعل و أحسبها عند اللحظة

$t_2=40min$  .

5- عرف وحد  $t_{1/2}$  زمن نصف التفاعل .

هل يزداد زمن نصف التفاعل لو أجرينا التفاعل السابق في درجة حرارة أقل و بنفس التراكيز الابتدائية للمتفاعلات ؟ علل .

### التمرين الثاني:

في تفاعل الإنشطار تقذف نواة اليورانيوم 235 بنيترن بطيء ينتج عنه عدة تفاعلات ممكنة ، الأكثر حدوثاً هي التي تنتج نواتي الزركينيوم 95 و التيلور 138 و عدة نيترونات . يشتغل مفاعل نووي باليورانيوم 235 المشع إذ يستخدم وقود مكون من 3% من اليورانيوم 235 و 97% من اليورانيوم 238 .

1- أكتب معادلة التفاعل الحادث .

2- أحسب الطاقة المحررة عن التفاعل بـ MeV.

3- أحسب الطاقة المحررة عن إنشطار 1.00 g من اليورانيوم 235 .

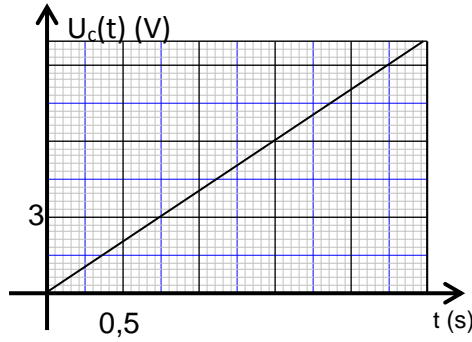
- 4- احسب كتلة البترول التي تحرر نفس الطاقة . ماذا تستنتج ؟ المكافئ الطاقوي لـ 1Kg من البترول هو 42,00 MJ .  
 5- اليورانيوم 238 غير قابل للإنشطار غير انه يمكن له أن يلتقط نيوترون بطيء معطيا نواة X مشعة تتفكك بدورها تفككين متتاليين  $\beta^-$  لتنتج نواة قابلة للإنشطار . حدد النواة الناتجة X و اكتب معادلتى التفكك موضعا الأنوية الناتجة .

التورنيوم Th (Z= 90) البروأكتينيوم Pa (Z=91) ; النبتنيوم Np (Z= 93) ; البلوتونيوم Pu (Z=94)

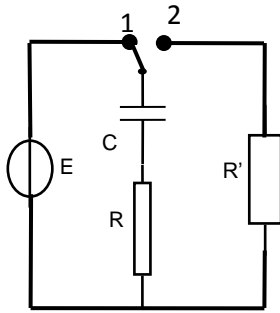
	النيوترون $m_n$
$1 u = 1,6605 \cdot 10^{-27} \text{ kg}$	1,00866 u
$N_A = 6,022 \cdot 10^{23}$	سرعة الضوء C
$1 \text{ eV} = 1,602 \cdot 10^{-19} \text{ J}$	$2,998 \cdot 10^8 \text{ m/s}$

النواة	Uranium U235	Zirconium Zr95	Tellure Te138
العدد الذري	92	40	يطلب تعيينه
الكتلة (u)	234,993	94,8860	137,901

### التمرين الثالث:



- I. لتعيين سعة مكثفة C تشكل تركيبا تجريبيا مكننا من الحصول على البيان  $U_C(t) = f(t)$  باستخدام مولد للتيار يشده  $I = 40 \mu A$   
 1- ارسم التركيب التجريبي الذي يمكنك من الحصول على البيان  $U_C(t) = f(t)$  (الشكل (01)).  
 2- أ- أكتب العبارة الرياضية للبيان  $U_C(t) = f(t)$  .  
 ب- حدد سعة المكثفة C .  
 3- أحسب التوتر عند اللحظة  $t = 4s$  .



- II. تشكل الدارة المكونة من مولد للتوتر مثالي قوته المحركة الكهربائية E و مكثفة سعتها C و ناقلين أوميين  $R = R' = 2K\Omega$  و بادلة . (الشكل (2))

- 1- عند اللحظة  $t = 0$  نضع البادلة على الوضع (1) .  
 ✓ اعد رسم الدارة موضعا كيفية ربط راسم الإهتزاز المهبطي لمعاينة منحنى التوتر بين طرفي المكثفة  $U_C(t)$  و التوتر بين طرفي المولد  $U_G$  .  
 ✓ أوجد المعادلة التفاضلية للتوتر  $U_R$  بين طرفي الناقل الأومي R .  
 2- يعطى الحل من الشكل  $U_R = Ae^{-t/\beta}$  حيث A و  $\beta$  ثوابت .  
 ✓ تحقق منه مبينا عبارة كل من A و  $\beta$  بدلالة مميزات الدارة .

3- بين أن :  $t = \tau \cdot \ln \frac{E}{E - U_C(t)}$

- 4- يعطى منحنى التوتر  $U_C(t)$  .

✓ ما هي الظاهرة الحادثة في الدارة .

✓ حدد كل من E القوة المحركة الكهربائية للمولد .

✓ حدد ثابت الزمن  $\tau_1$  موضعا الطريقة المتبعة في ذلك .

✓ استنتج C .

- 5- تعتبر المكثفة مشحونة من أجل توتر مطبق بين طرفيها يساوي 99.3% من القوة المحركة الكهربائية للمولد. حدد  $t_c$  مدة شحن المكثفة .

6- نضع البادلة على الوضع (2) . أحسب ثابت الزمن  $\tau_2$  .

7- نريد ربط مكثفة مع المكثفة السابقة لخفض مدة الشحن إلى النصف. حدد طريقة الربط و سعة المكثفة المضافة .

