

السنة الدراسية: 2011/ 2012

المستوى: 3 ع ر

المدة: 3 ساعات.

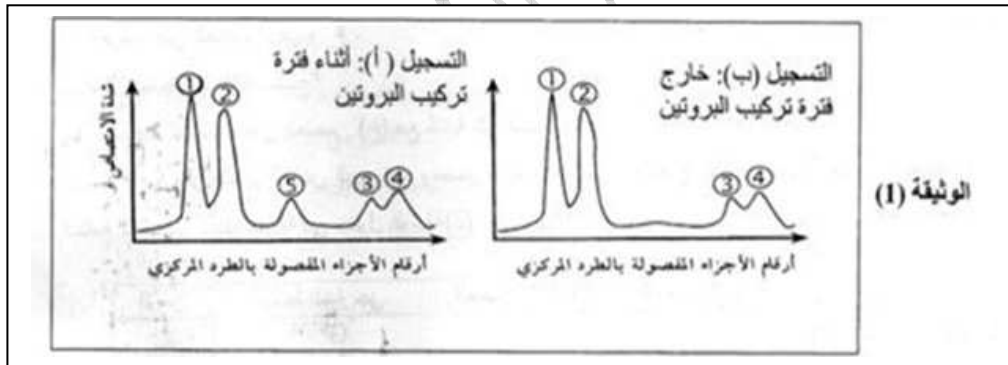
إختبار الفصل الأول في مادة العلوم الطبيعية :

الموضوع الأول:

التمرين الأول : (12 نقطة)

لإظهار مختلف أنماط ARN في الهيولى المتدخلة في تركيب البروتين ، أنجزت التجارب التالية :

- 1 _ التجربة الأولى : زرعت خلايا بنكرياسية في وسط يحتوي على مادة طلائعية هي اليوراسيل المشع ، بعد فصل جزيئات الـ ARN بتقنية الطرد المركزي متبوعة بالهجرة الكهربائية ، قيست كمية الـ ARN أثناء فترة تركيب البروتين وخارجه . النتائج المتحصل عليها ممثلة في الوثيقة (01) .



- _ التجربة الثانية : عولجت خلية أرنب منتجة للهيموغلوبين قبل تركيب البروتين بمادة ألفا أمانتين (مضاد حيوي يوقف عمل إنزيم ARN بوليميراز) ثم أضيف اليوراسيل المشع لوسط الزرع بعد المعايرة تم الحصول في هيولى الخلية على مجموع الـ ARN مماثل لمنحنى التسجيل (ب)

من الوثيقة (01) ، وبعد معالجة الخلية السابقة بإنزيم

ARNase وهو مخرب نوعي لوحظ إختفاء الشوكات 1، 2 و 3 .

1. ما أهمية إضافة اليوراسيل المشع لوسط الزرع في هذه

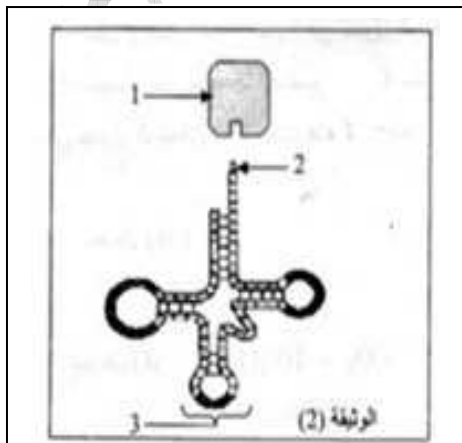
التجربة ؟

2. قدم تحليلا مقارنا لمنحني التسجيلين (أ و ب) الممثلة

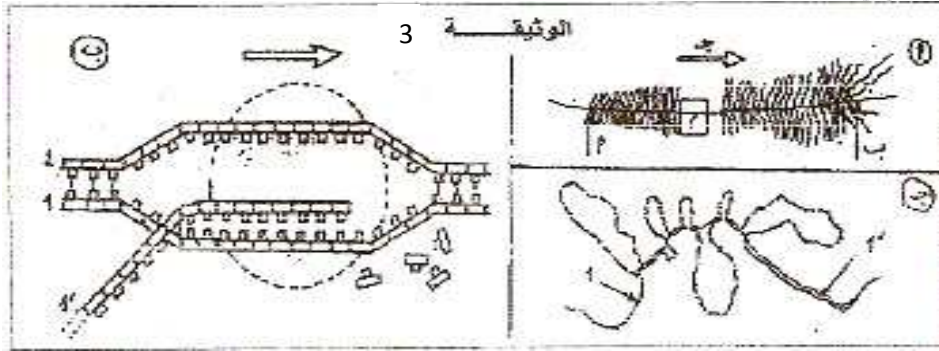
في الوثيقة (01) . ماذا تستنتج ؟

3. الشوكة رقم 4 تمثل نوع من الـ ARN كما هو مبين

في الوثيقة (02) .



- أ. أكتب البيانات المرقمة من 1 إلى 3 .
- ب. إرتباط العنصر 1 بالعنصر 2 يتم بعملية يشارك فيها عناصر أخرى . سم هذه العملية مع ذكر العناصر الأخرى المشاركة .
4. إستخرج أنواع الـ ARN التي تظهرها التجربة والتي تتدخل في تصنيع البروتين .
- II _1_ تمثل الوثيقة (3) رسما تخطيطيا للكروماتين في حالة نشاط عند خلية بنكرياسية .
- أ. سم الظاهرة المعنية، ماذا تمثل الأسهم أ، ب، ج ؟
- 2- لتوضيح هذا النشاط على المستوى الجزيئي نقترح الوثيقة (3 ب) التي تمثل تفسيراً للجزء المؤطر للوثيقة (3) .

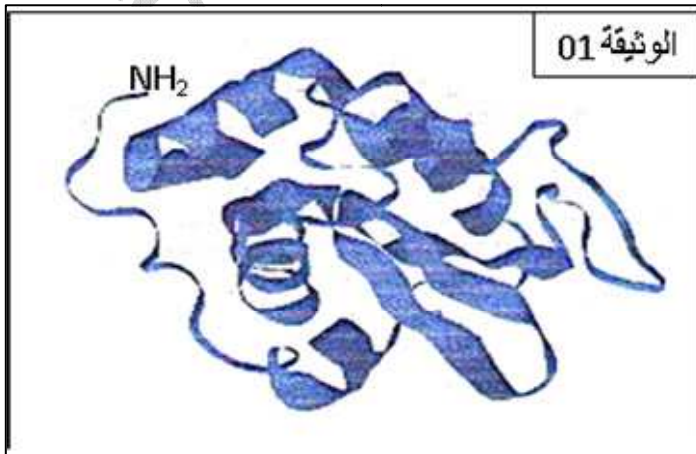


- أ. ضع كل البيانات الممكنة على الوثيقة (3 ب) بعد إعادة نقلها على ورقة الإجابة .
- ب. مثل على نفس الرسم تتالي النكليوتيدات المورثة التي تشرف على الأحماض الأمينية الخمسة الأخيرة للسلسلة β للإنسولين البشري باستعمال المعلومات التالية :

سلسلة الأحماض الرامزات	ثيروزين 26	ثريونين 27	برولين 28	ليزين 29	ثريونين 30
	UAC	ACU	CCU	AAG	ACU

- 3_ تمثل الوثيقة (3ج) نتيجة التهجين الجزيئي بين السلسلتين المشار إليهما ب 1 و 1 في الوثيقة (3 ب) .
- ماهي المعلومة المكملة التي نستخلصها من هذه الوثيقة فيما يخص الآلية المدروسة ؟

التمرين الثاني : (8 نقاط)



- أولاً : تمثل الوثيقة 01 البنية الفراغية لأنزيم الليوزيم ملاحظة ببرنامج راستوب .
- 1 - حدد البنية الفراغية لهذا الأنزيم، مع تعليل إجابتك.
- 2 - تعرف على النموذج الممثل في الوثيقة 01 وأنواع البنيات الثانوية في جزيئة الأنزيم
- ثانياً : عند القيام بالتحليل الكيميائي لأنزيم

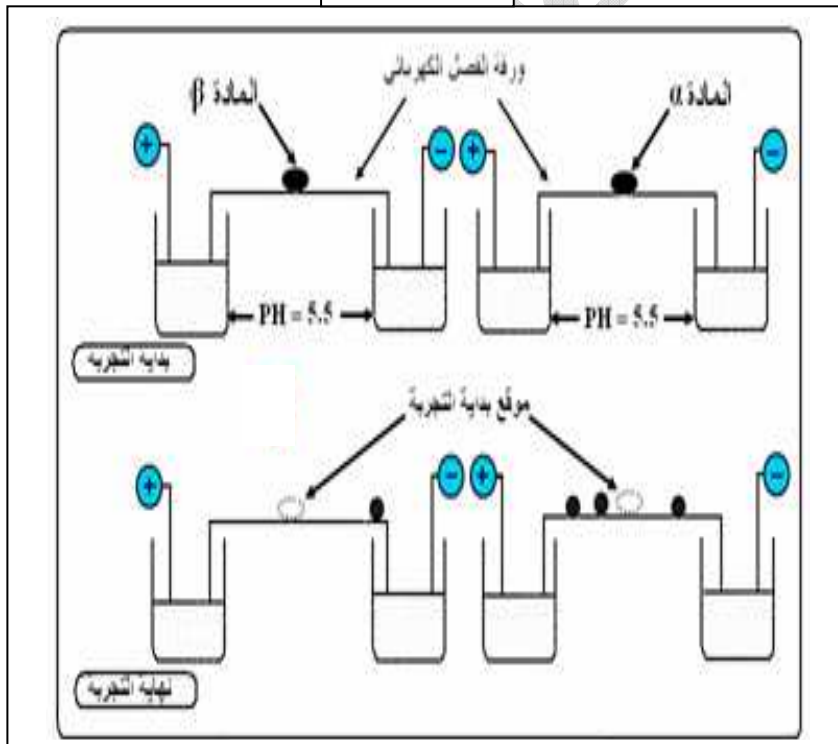
الليزوزيم تم الحصول على العديد من المركبات منها المادتين (β و α) اللتين تتألفان من المركبات العضوية الممثلة في الوثيقة 02 .

$\text{NH}_2\text{-CH-COOH}$ CH_2SH	$\text{NH}_2\text{-CH-COOH}$ CH / \ CH_3 CH_3	$\text{NH}_2\text{-CH-COOH}$ CH_2 COOH	$\text{NH}_2\text{-CH-COOH}$ $(\text{CH}_2)_4$ NH_2
السيستين Phi = 5.06	الفالين Phi = 5.96	حمض الأسبارتيك Phi = 2.77	الليزين Phi = 9.74

الوثيقة 2

- 1 - اقترح تصنيفا لهذه المركبات موضحا الأساس المعتمد في ذلك .
- 2 - أكتب هذه المركبات على شكلها الشاردي في الـ Phi الخاص بها .
- 3 - استنتج الخاصية التي تتميز بها هذه المركبات

الوثيقة 03



ومدى تأثيرها على نشاط الليزوزيم ، مدعما إجابتك برسم تخطيطي يحمل البيانات ثالثا : بهدف التعرف على تركيب المادتين (β و α) نقوم بفصل المركبات العضوية لهما بطريقة الهجرة الكهربائي ، و النتائج موضحة في الوثيقة 03 .

- 1 - اعتمادا على نتائج الفصل الكهربائي ، ما هي المركبات المشكلة لكل من المادتين (β و α) ؟ علل .
- 2 - أكتب الصيغة الكيميائية للمادة (α) .