

الجمهورية الجزائرية الديمقراطية الشعبية

الديوان الوطني للامتحانات والمسابقات

دورة: جوان 2013

وزارة التربية الوطنية

امتحان بكالوريا التعليم الثانوي

الشعبة: آداب و فلسفة

المدة: 04 سا و 30 د

اختبار في مادة: التاريخ و الجغرافيا

على المترشح أن يختار أحد الموضوعين التاليين:

الموضوع الأول

التاريخ:

الجزء الأول: (06 نقاط)

« لقد قامت فرنسا بعمليات إرهابية يائسة نتيجة ما أصابها من إحباط في الميدان العسكري والسياسي، فقامت بـالقرصنة الجوية... كما ظنت أنها باشتراكها في العدوان الثلاثي تستطيع ضرب الثورة ...

وفي الميدان العسكري تم إسناد قيادة الجيش الفرنسي إلى الجنرال شال الذي بدأ في تطبيق مخطط حرب جديد سمي باسمه " مخطط شال " ... وقامت الدبلوماسية الفرنسية بنشاط كبير في الميدان الدولي للحصول على مساعدات أدبية و مادية ...».

د/ صالح فركوس - تاريخ الجزائر - المراحل الكبرى - ص 443 ، ص 494.

المطلوب:

- 1- اشرح ما تحته خط في النصّ.
- 2- عرّف بالشخصيات الآتية: - أحمد بن بلة - أحمد سوكارنو - جاك سوستال - هاري ترومان
- 3- أكمل جدول الأحداث الآتية:

التاريخ	الحدث
1954/ 07/ 20
.....	تأسيس الحكومة المؤقتة للجمهورية الجزائرية
1989 /12/ 04
.....	المؤتمر الرابع لحركة عدم الانحياز

4- على خريطة العالم المرفقة، وقّع مواقع انعقاد مؤتمرات حركة عدم الانحياز الآتية:

- كولومبو - نيو دلهي - الجزائر - هافانا.

الجزء الثاني: (04 نقاط)

بعد انهيار المعسكر الشرقي الشيوعي، ظهر اتجاه جديد في العلاقات الدولية قائم على هيمنة القطب الغربي الرأسمالي بزعامة الولايات المتحدة الأمريكية.
المطلوب:

انطلاقاً من العبارة، واعتماداً على ما درست، اكتب مقالاً تاريخياً تبرز فيه:

- 1- ملامح النظام الدولي الجديد.
- 2- انعكاساته السياسية والاقتصادية على العالم الثالث.

الجغرافيا:

الجزء الأول: (06 نقاط)

« ... للمنظمات الإقليمية دور كبير في تنمية المبادلات والتجارة بين المناطق الكبرى. فأكثر من 70 % من المبادلات التجارية الخارجية في الاتحاد الأوروبي تتم بين الدول الأعضاء... وعليه تساهم الاتفاقيات بين المناطق المختلفة في تسارع التجارة العالمية.
أما المنظمات غير الحكومية ... تعمل على تهيئة الرأي العام العالمي و تحسيسه بأهم القضايا الخطيرة ذات الاهتمام المشترك، مثل البيئة و التلوث و حقوق الإنسان والآثار السلبية للعولمة.»
كتاب الجغرافيا / السنة الثالثة ثانوي. ص 40

المطلوب:

- 1- حدّد مفهوم المصطلحات التي تحتها خط في النصّ.
- 2- الجدول الآتي، يمثّل نسب تطور معدل النمو الاقتصادي للعالم المتقدم والعالم المتخلف بين 2003 و 2008.

السنوات	2003	2004	2005	2006	2007	2008
العالم المتقدم	1.9 %	3.1 %	2.6 %	3 %	2.6 %	00 %
العالم المتخلف	6.1 %	7.7 %	7.3 %	3.1 %	8.5 %	6.1 %

الاقتصاد العالمي رهن الديون الأمريكية والأوروبية العدد 19 / 2011. مركز البحوث والدراسات

أ- مَثّل معطيات الجدول بمنحنيين بيانيين في مجال واحد بمقياس رسم: 1 سم ← 1 %

1 سم ← سنة

ب- علّق على الرسم.

3- على خريطة العالم المرفقة، وقّع الدول المؤسسة لمنظمة الدول المنتجة للبترول (أوبيك).

الجزء الثاني: (04 نقاط)

تعدّ تجارة القمح شريان المبادلات التجارية العالمية بين العالمين المتقدم والمتخلف.

المطلوب:

انطلاقاً من العبارة، واعتماداً على ما درست، اكتب مقالا جغرافيا تبرز فيه:

- 1- أسباب ارتفاع نسبة استيراد القمح في العالم المتخلف.
- 2- انعكاسات انعدام الأمن الغذائي على الدول المستوردة للقمح.

الموضوع الثاني

التاريخ:

الجزء الأول: (06 نقاط)

« ... إنّ تجمع دول عدم الانحياز نعتَ حلف شمال الأطلسي أنه أكد انقسام العالم إلى كتلتين متصارعتين تحكم رياح الحرب الباردة الهوجاء علاقاتهما وكذلك التسابق في التسلح ... لأنه أضعف دور هيئة الأمم المتحدة في الحفاظ على السلام والأمن الدوليين...».

يحي أحمد الكعكي / عدم الانحياز بين النظرية و التطبيق. ص 42

المطلوب:

1- اشرح ما تحته خط في النصّ.

2- عرّف بالشخصيات الآتية:

- جوزيف بروز تيتو - العربي بن مهدي - جيمي كارتر - ميخائيل غورباتشوف.

3- أكمل جدول الأحداث الآتي:

التاريخ	الحدث
1945/09/02
.....	إنشاء الخط الهانفي الأحمر
1989/ 02/ 23
.....	تأسيس اللجنة الثورية للوحدة والعمل.

4- على خريطة أوروبا المرفقة، وّقع دولتين من حلف وارسو و دولتين من حلف شمال الأطلسي.

الجزء الثاني: (04 نقاط)

سعيًا لتجاوز الإدارة الفرنسية، الانسداد السياسي، تشتت الحركة الوطنية؛ انعقد مؤتمر الصومام في 20 أوت 1956 لوضع إستراتيجية تضمن استمرار الثورة ونجاحها.

المطلوب:

انطلاقًا من الفقرة، واعتمادًا على ما درست، اكتب مقالًا تاريخيًا تبرز فيه:

1- مظاهر التحول في إستراتيجية الثورة بعد مؤتمر الصومام.

2- رد فعل الاستعمار على قرارات مؤتمر الصومام بين 1956 و 1958.

الجغرافيا:

الجزء الأول: (06 نقاط)

« عرفت بداية التسعينيات جهودا كبيرة في مجال التنمية سنّتها المؤسسات المالية العالمية والدول الكبرى انطلاقا من فكرة تدعيم الأسواق التي تجعل مجمل البلدان الفقيرة على عتبة النمو الاقتصادي والقدرة على التسيير الذاتي، واعتبرت النظام الدولي الجديد - العولمة - كمحرك جديد للتقدم والرفاه الاقتصادي على المستوى العالمي...».

الكتاب المدرسي / السنة الثالثة ثانوي جغرافيا .ص 154

المطلوب:

1- اشرح ما تحته خط في النصّ.

2- الجدول الآتي يمثّل نسب التبادل التجاري للجزائر سنة 2008.

المناطق	نسبة الصادرات	نسبة الواردات
المغرب العربي	1.69 %	0.99 %
إفريقيا	0.40 %	1.01 %
أوروبا	51.09 %	54.92 %
باقي العالم	46.82 %	43.08 %

وزارة المالية / الإدارة العامة للجمارك الجزائرية

أ- مثّل نسب الصادرات والواردات بأعمدة بيانية بمقياس: 1 سم ← 10 %

1 سم ← عمود

ب- علّق على الرسم.

3 - على خريطة العالم المرفقة، وقّع دول مجموعة الثمانية.

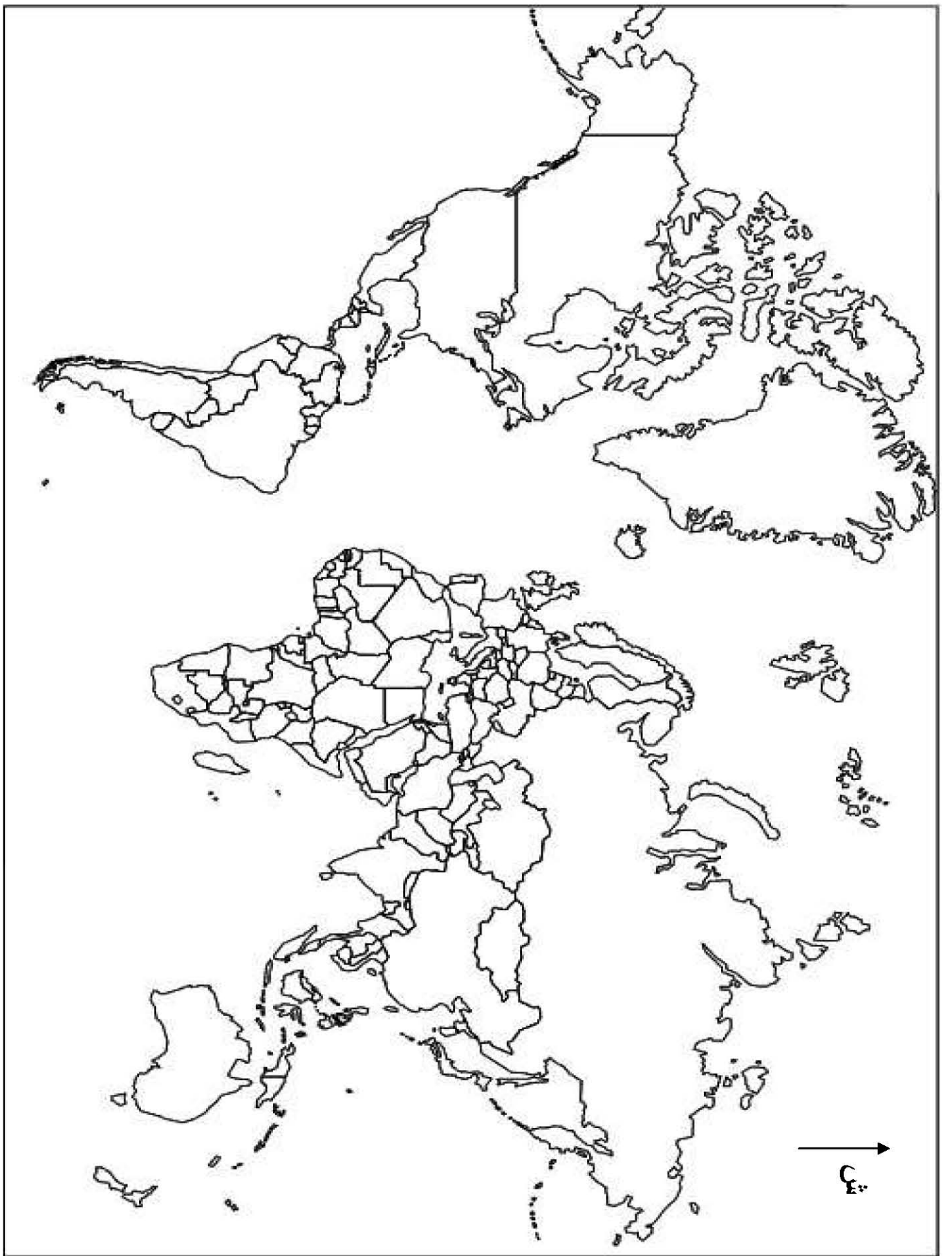
الجزء الثاني: (04 نقاط)

يشهد الفضاء الجغرافي في الإتحاد الأوروبي صعوبات وأزمات تعيق اندماجه، مما يتطلب الاختيار بين أوروبا موحدة أو أوروبا مفككة.

المطلوب: انطلاقا من العبارة، واعتمادا على ما درست، اكتب مقالا جغرافيا تبرز فيه:

1- مظاهر قوة الإتحاد الأوروبي اقتصاديا.

2 - الصعوبات التي تواجه اندماجه.

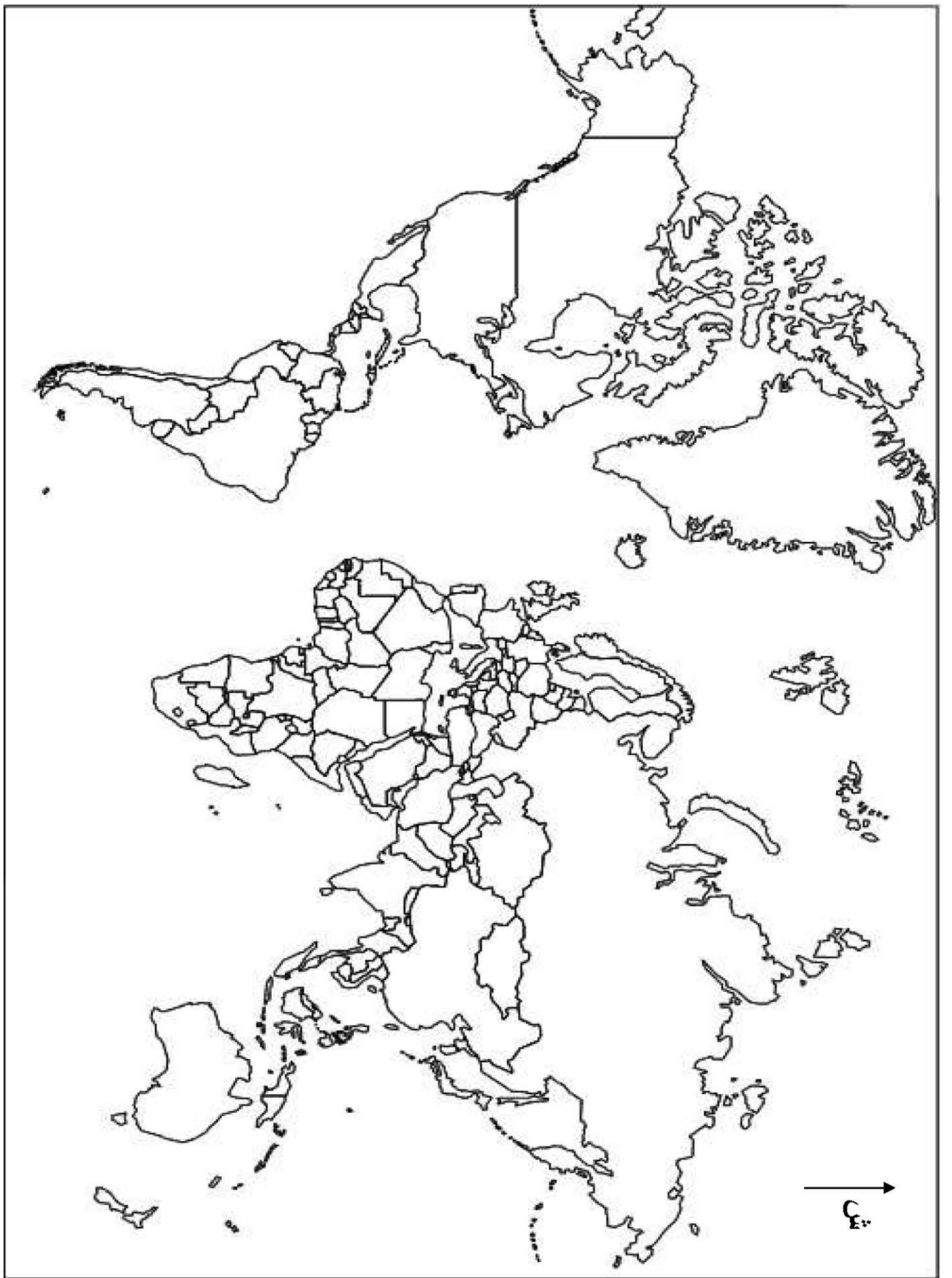


ينجز العمل المطلوب و يعاد مع أوراق الإجابة

خريطة أوروبا قبل توحيد الألمانيين



ينجز العمل المطلوب و يعاد مع أوراق الإجابة



ينجز العمل المطلوب و يعاد مع أوراق الإجابة

الإجابة النموذجية

العلامة		عناصر الإجابة (الموضوع الأول)										
مجزأة	مجموع											
0.5	0.5	<p>التاريخ: الجزء الأول:</p> <p>1- المصطلحات:</p> <p>الفرصة الجوية: اختطاف فرنسا طائرة قادة الثورة الجزائرية الخمسة المتجهة من المغرب الأقصى إلى تونس في 22/10/1956.</p> <p>العدوان الثلاثي: هجومات عسكرية مباغتة قامت بها إسرائيل وفرنسا وبريطانيا ابتداء من 29/10/1956 على مصر.</p> <p>مخطط شال: خطة عسكرية تتمثل في عمليات تمشيطية برية وبحرية وجوية بحثا عن المجاهدين، مثل عملية الشرارة ، عملية الأحجار الكريمة ...</p> <p>الدبلوماسية: مجموعة القواعد والأعراف والمبادئ الدولية التي تهتم بتنظيم العلاقات الدولية والتوفيق بين مصالح الدول المتباينة، وهي فن إجراء المفاوضات وعقد الاتفاقيات.</p>										
0.5	0.5	<p>2- الشخصيات:</p> <p>أحمد بن بلة: (1918 - 2012): ترأس المنظمة الخاصة (1949-1950) شارك في تأسيس جبهة التحرير الوطني، اعتقلته فرنسا بعد اختطاف الطائرة (22 أكتوبر 1956)، أول رئيس للجمهورية الجزائرية من 26/09/1962 إلى غاية 19 جوان 1965 .</p>										
0.25	0.25	<p>أحمد سوكرنو (1901-1970): أول رئيس لاندونيسيا بين 1945 - 1967. من مؤسسي حركة عدم الانحياز .</p>										
0.25	0.25	<p>جاك سوستيل (1912 - 1990): فرنسي عيّن حاكما عاما على الجزائر في 25/01/1955 وهو صاحب المشروع الاغرائي في منطقة الاوراس الذي يعرف باسمه في 15/02/1955.</p>										
0.5	0.5	<p>هاري ترومان (1884 - 1972): رئيس الوم أ بين 1945 و 1953، أحد رموز الحرب الباردة ، أمر بإلقاء القنبلتين الذريتين على اليابان خلال الحرب العالمية الثانية، من مؤيدي الصهيونية. صاحب مبدأ عرف باسمه « مبدأ ترومان ».</p>										
0.25	0.25	<p>3- جدول الأحداث</p> <table border="1" style="width: 100%; border-collapse: collapse; text-align: center;"> <thead> <tr> <th style="width: 50%;">التاريخ</th> <th style="width: 50%;">الحدث</th> </tr> </thead> <tbody> <tr> <td>1954/07/20</td> <td>مؤتمر جنيف الأول</td> </tr> <tr> <td>1958/09/19</td> <td>تأسيس الحكومة المؤقتة للجمهورية الجزائرية</td> </tr> <tr> <td>1973/09/05</td> <td>المؤتمر الرابع لحركة عدم الانحياز</td> </tr> <tr> <td>1989/12/04</td> <td>مؤتمر باريس ونهاية الحرب الباردة</td> </tr> </tbody> </table>	التاريخ	الحدث	1954/07/20	مؤتمر جنيف الأول	1958/09/19	تأسيس الحكومة المؤقتة للجمهورية الجزائرية	1973/09/05	المؤتمر الرابع لحركة عدم الانحياز	1989/12/04	مؤتمر باريس ونهاية الحرب الباردة
التاريخ	الحدث											
1954/07/20	مؤتمر جنيف الأول											
1958/09/19	تأسيس الحكومة المؤقتة للجمهورية الجزائرية											
1973/09/05	المؤتمر الرابع لحركة عدم الانحياز											
1989/12/04	مؤتمر باريس ونهاية الحرب الباردة											
4×0.25	0.25	<p>- التوقيع على الخريطة: الانجاز</p> <p>العنوان</p>										

العلامة		عناصر الإجابة
مجموع	مجزأة	
04	0.5	الجزء الثاني: المقدمة: العلاقات الدولية في ظل الأحادية القطبية بعد 1989 وانعكاساتها على العالم الثالث. العرض: 1 - ملامح النظام الدولي الجديد:
	0.5	- انهيار المعسكر الشرقي وتفكك الاتحاد السوفياتي.
	0.5	- زوال القطبية الثنائية وبروز الأحادية القطبية .
	0.25	- هيمنة الوم أ على المنظمات الدولية والإقليمية و تسخيرها لخدمة مصالحها .
	0.25	- تراجع دور هيئة الأمم المتحدة وحركة عدم الانحياز في القضايا الدولية.
	0.25	2 - انعكاساته السياسية والاقتصادية على العالم الثالث: أ - الانعكاسات السياسية:
	0.25	- تخلي الاتحاد السوفياتي عن دعم دول الجنوب سياسيا.
	0.25	- زيادة الهيمنة والضغط الأمريكي من خلال التدخلات العسكرية وانفرادها بإدارة مجلس الأمن (أفغانستان - العراق) .
	0.25	- عدم الاستقرار السياسي وتغذية الصراعات الداخلية ومعالجة القضايا وفق المنظور الأمريكي.
	0.25	ب - الانعكاسات الاقتصادية : - زيادة الفوارق الاقتصادية بين العالم المتقدم والعالم المتخلف .
	0.25	- التدخل في تسيير الشؤون الاقتصادية من خلال المؤسسات الاقتصادية و المالية العالمية.
	0.25	- تراجع التنمية في العالم المتخلف و تزايد حجم الديون .
	0.5	الخاتمة : خطورة النظام الدولي الجديد ، وضرورة تكتل دول الجنوب لمواجهة التحديات الكبرى .
0.5	0.5	المبادلات التجارية: هي حركة السلع والخدمات وتنقل رؤوس الأموال بين البلدان وتشمل الصادرات والواردات.
0.5	0.5	الاتحاد الأوروبي: تكتل اقتصادي و سياسي يضم مجموعة من الدول الأوروبية عددها 27 دولة.
0.5	0.5	المنظمات غير الحكومية: هي منظمات وهيئات خيرية عالمية غير تجارية متخصصة في العمل التضامني الإنساني . تنشط في كافة الميادين كالبيئة، جهود الإغاثة، الرعاية، الصحة و الطفولة...
0.5	0.5	التلوث: التغيير الفيزيائي أو الكيميائي الذي يحدث على مستوى مكونات البيئة و الذي يغير من خصائصها الطبيعية مما يجعلها غير ملائمة لحياة الكائنات الحية.

العلامة		عناصر الإجابة
مجموع	مجزأة	
06		<p>2- أ - تمثيل الجدول:</p> <p>الإنجاز</p> <p>المقياس</p> <p>العنوان</p> <p>ب - التعليق:</p> <p>- تباين في نسب النمو الاقتصادي بين العالمين.</p> <p>- تذبذب نسبة النمو الاقتصادي في دول العالم المتقدم.</p> <p>- تزايد نسب النمو الاقتصادي في بلدان العالم المتخلف.</p> <p>* تأخر مرحلة الإقلاع الاقتصادي (التنمية) في الدول المتخلفة في الوقت الذي وصل فيه العالم المتقدم إلى الرخاء الاقتصادي.</p> <p>التوقيع على الخريطة: الانجاز: العراق - السعودية - الكويت - إيران - فنزويلا</p> <p>العنوان</p>
	2× 0.5	
	0.25	
	0.25	
	0.25	
	0.25	
	0.25	
	0.25	
	5×0.25	
	0.25	
		الجزء الثاني:
	0.5	<p>مقدمة: العالم المتخلف بين تحديات الأمن الغذائي وهيمنة القوى الكبرى.</p> <p>العرض:</p> <p>1 - أسباب ارتفاع نسبة استيراد القمح في الدول المتخلفة :</p> <p>- انعدام التوازن بين الإنتاج الزراعي والنمو السكاني .</p> <p>- غياب إستراتيجية زراعية قائمة على الرفع من الإنتاج وتحفيز المزارعين .</p> <p>- هيمنة الشركات المتعددة الجنسيات على اقتصاديات الدول المتخلفة وتشجيع الزراعات النقدية.</p> <p>- سوء استغلال الإمكانيات المتاحة وقساوة الظروف الطبيعية .</p> <p>2 - انعكاسات انعدام الأمن الغذائي على الدول المستوردة :</p> <p>- فقدان الدول المستوردة لسيادتها وحرية قرارها السياسي (القمح سلاح أخضر).</p> <p>- عدم الاستقرار السياسي والاجتماعي (المجاعة وسوء التغذية).</p> <p>- التبعية الاقتصادية و تعاظم حجم الديون .</p>
04	0.5	
	0.5	
	0.25	
	0.25	
	0.5	
	0.5	
	0.5	
	0.5	<p>الخاتمة: تحقيق الأمن الغذائي والاكتفاء الذاتي، وتحدي ضغوطات القوى الكبرى مرهون باستغلال دول العالم الثالث لإمكاناتها و التكامل فيما بينها .</p>

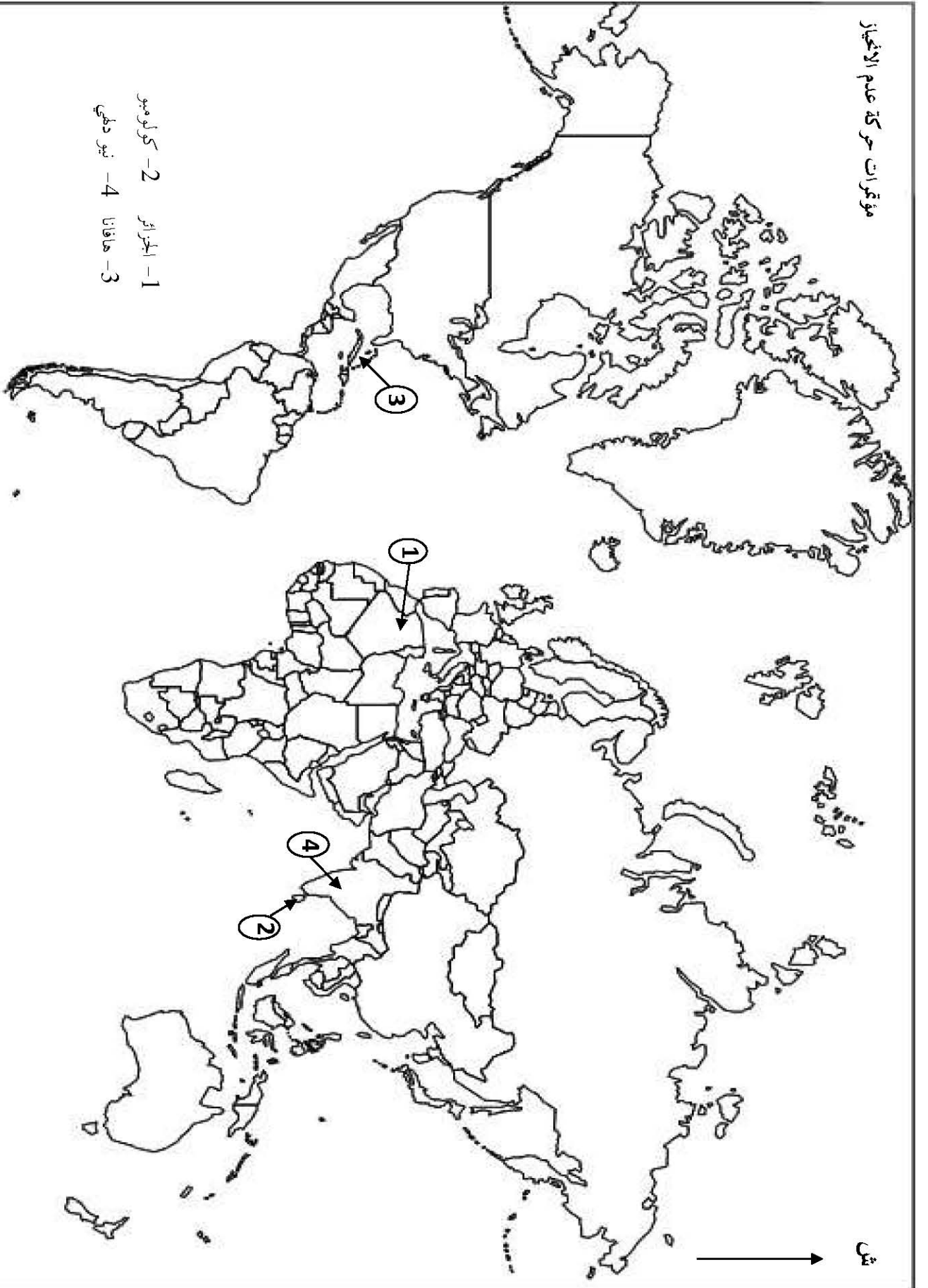
العلامة		عناصر الإجابة (الموضوع الثاني)										
مجموع	مجزأة											
06		التاريخ										
		الجزء الأول:										
		1-المصطلحات:										
	0.5	عدم الانحياز سياسة تقوم على عدم الميل أو الارتباط بأي من الكتلتين المتصارعتين في فترة الحرب الباردة انتهجتها الدول المستقلة حديثا.										
	0.5	حلف شمال الأطلسي: كتل عسكري يضم الولايات المتحدة الأمريكية و كندا و معظم الدول الأوروبية، تأسس في 1949/04/04.										
	0.5	الكتلتين: المعسكر الشرقي الشيوعي بزعامة الاتحاد السوفياتي المعسكر الغربي الرأسمالي بزعامة الولايات المتحدة الأمريكية.										
	0.5	هيئة الأمم المتحدة: منظمة دولية تأسست في 1945/10/24 بهدف المحافظة على السلم و الأمن العالميين.										
		2-الشخصيات:										
	0.25	جوزيف بروز تيتو(1892-1980): قاد حرب العصابات اليوغسلافية ضد القوات الألمانية النازية أثناء الحرب العالمية الثانية أصبح رئيسا ليوغسلافيا إلى غاية وفاته في سنة 1980. من مؤسسي حركة عدم الانحياز .										
	0.5	العربي ابن مهدي: (1923 - 1957) أحد العناصر البارزة في اللجنة الثورية للوحدة والعمل ومجموعة 22 ، ترأس المنطقة الخامسة (الإقليم الوهراني)، ترأس مؤتمر الصومام 1956،اعتقل في فيفري 1957 أستشهد تحت التعذيب في 04 مارس 1957.										
	0.25	جيمي كارتر(1924): الرئيس الأمريكي ال 39 بين 1977-1981. و هو مهندس اتفاقية كامب ديفيد بين مصر و إسرائيل.										
	0.25	ميخائيل غورباتشوف(1931) : رئيس الاتحاد السوفيتي من 1985 إلى 1991 مهندس الإصلاحات (البريسترويكا - الغلاسنوست) أنهى الحرب الباردة مع المعسكر الرأسمالي عام 1989.										
	3- جدول الأحداث											
		<table border="1"> <thead> <tr> <th>التاريخ</th> <th>الحدث</th> </tr> </thead> <tbody> <tr> <td>1945/09/02</td> <td>تأسيس حكومة الفيتنام الشمالية</td> </tr> <tr> <td>1963/06/20</td> <td>إنشاء الخط الهاتفي الأحمر</td> </tr> <tr> <td>1989/02/23</td> <td>دستور الجزائر</td> </tr> <tr> <td>1954/03/23</td> <td>تأسيس اللجنة الثورية للوحدة والعمل</td> </tr> </tbody> </table>	التاريخ	الحدث	1945/09/02	تأسيس حكومة الفيتنام الشمالية	1963/06/20	إنشاء الخط الهاتفي الأحمر	1989/02/23	دستور الجزائر	1954/03/23	تأسيس اللجنة الثورية للوحدة والعمل
التاريخ	الحدث											
1945/09/02	تأسيس حكومة الفيتنام الشمالية											
1963/06/20	إنشاء الخط الهاتفي الأحمر											
1989/02/23	دستور الجزائر											
1954/03/23	تأسيس اللجنة الثورية للوحدة والعمل											
0.25												
0.25												
0.50												
0.5												
4×0.25		1- التوقيع على الخريطة: الانجاز										
0.25		العنوان										

العلامة		عناصر الإجابة (الموضوع الثاني)
مجموع	مجزأة	
04		الجزء الثاني:
	0.5	المقدمة: الثورة التحريرية الكبرى في الجزائر بين التقييم والتنظيم.
	0.5	العرض: 1 - مظاهر التحول في إستراتيجية الثورة بعد مؤتمر الصومام:
	0.25	- تكوين مؤسسات قيادية للثورة على المستوى الوطني (المجلس الوطني للثورة - لجنة التنسيق والتنفيذ،...).
	0.25	- إقرار مبدأ القيادة الجماعية.
	0.25	- إقرار مبدأ أولوية الداخل على الخارج والسياسي على العسكري.
	0.25	- تفعيل دور الدبلوماسية الجزائرية في المحافل الدولية.
	0.25	- تنظيم جيش التحرير على غرار الجيوش النظامية (رتب عسكرية- بزة عسكرية ...) وشمولية الثورة (الولاية السادسة).
		2 - رد فعل الاستعمار على قرارات مؤتمر الصومام بين 1956 - 1958.
	0.5	- تزايد وتيرة العنف والقمع تجاه الشعب الجزائري (المحتشدات - المناطق المحرمة -الخطوط المكهربة ...).
	0.5	- الفرصنة الجوية واعتقال قادة الثورة الخمسة في 22 / 10 / 1956.
	0.25	- مشاركة فرنسا في العدوان الثلاثي على مصر في 29 / 10 / 1956.
	0.25	- قنبلة ساقية "سيدي يوسف" بتونس في 08 / 02 / 1958.
	0.5	الخاتمة: مؤتمر الصومام أرسى دعائم استمرارية الثورة وقوتها ونجاحها.
	الجزء الأول:	
	1- شرح المصطلحات:	
0.5	التنمية: مصطلح اقتصادي يعني مجموع القرارات والإجراءات والمشاريع التي تهدف إلى الاستغلال الأمثل للإمكانات المادية والبشرية بهدف تحقيق التطور الاقتصادي والرفاهية الاجتماعية.	
0.25	المؤسسات المالية: الهيئات التي تنظم حركة النقود والأسهم والسندات، ومنح القروض للدول مثل صندوق النقد الدولي والبنك العالمي.	
0.25	العولمة: معناها الشمولية، أو انتشار نفس النمط الاقتصادي و السياسي و الثقافي في العالم.	
0.25	التقدم : مصطلح للدلالة على وضعية متطورة، و ازدهار في الميادين الاقتصادية والاجتماعية مع بلوغ درجة عالية من الرقي الثقافي و العلمي، و التطور التكنولوجي.	

العلامة		عناصر الإجابة (الموضوع الثاني)
مجموع	مجزأة	
06	2×0.5 0.25 0.25 0.25	<p>أ- تمثيل نسب التبادل التجاري الجزائري مع العالم. الإنجاز: (الصادرات - الواردات) المقياس المفتاح العنوان</p> <p>ب-التعليق: - التفاوت في نسب المبادلات التجارية بين المناطق (التنوع). -ضعف نسب المبادلات مع دول المغرب العربي و إفريقيا (التخلف ، نقص التواصل) - ارتفاع نسب المبادلات مع أوروبا (التطور، العامل التاريخي). - ارتفاع نسب المبادلات مع بقية دول العالم (الانفتاح و التنوع).</p> <p>2- توقيع مجموعة الثمانية على خريطة العالم. - الو.م ، كندا، بريطانيا، اليابان، إيطاليا، ألمانيا، روسيا.</p>
04	0.5 0.5 0.5 0.25 0.25 0.5 0.5 0.25 0.25 0.5	<p><u>الجزء الثاني :</u> المقدمة: الاتحاد الأوربي بين ضرورة التكتل وتحديات الحفاظ على مكانته العالمية. العرض: 1 - مظاهر قوة الاتحاد الأوربي اقتصاديا: - ضخامة الإنتاج الزراعي والصناعي وتنوعه. - قوة الاستثمارات بفضل شركائه المتعددة الجنسيات. - حيوية التجارة الخارجية وغزوها للأسواق العالمية. - قوة عملة الأورو في المبادلات التجارية العالمية.</p> <p>2 - الصعوبات التي تواجه اندماجه: - التباين الإقليمي وتفاوت النمو الاقتصادي بين دوله. - الأزمات الدورية المالية والسياسية. - هجرة وتدفق مواطني أوروبا الوسطى والشرقية العضوة إلى أوروبا الغربية . - هيمنة الدول الكبرى في الاتحاد (ألمانيا - فرنسا - بريطانيا) على بقية الدول الأعضاء</p> <p>الخاتمة: الاتحاد الأوربي قوة اقتصادية وأحد الأقطاب العالمية رغم الصعوبات.</p> <p>- ملاحظة: تقبل كل الإجابات الصحيحة الأخرى.</p>

العلامة		عناصر الإجابة (الموضوع الثاني)																																				
مجموع	مجزأة																																					
		<p>رسم بياني لنسب تطور النمو الاقتصادي للعالم المتقدم و المتخلف ما بين 2008-2003</p> <table border="1"> <caption>بيانات الرسم البياني: نسب تطور النمو الاقتصادي للعالم المتقدم و المتخلف ما بين 2008-2003</caption> <thead> <tr> <th>السنوات</th> <th>العالم المتقدم (%)</th> <th>العالم المتخلف (%)</th> </tr> </thead> <tbody> <tr> <td>2003</td> <td>2</td> <td>6</td> </tr> <tr> <td>2004</td> <td>3</td> <td>7.5</td> </tr> <tr> <td>2005</td> <td>2.5</td> <td>7.2</td> </tr> <tr> <td>2006</td> <td>3</td> <td>3</td> </tr> <tr> <td>2007</td> <td>2.5</td> <td>8</td> </tr> <tr> <td>2008</td> <td>0</td> <td>6.5</td> </tr> </tbody> </table> <p>.....</p> <p>أعمدة بيانية تمثل نسب التبادل التجاري للجزائر سنة 2008</p> <table border="1"> <caption>بيانات الرسم البياني: نسب التبادل التجاري للجزائر سنة 2008</caption> <thead> <tr> <th>المناطق</th> <th>نسبة الصادرات (%)</th> <th>نسبة الواردات (%)</th> </tr> </thead> <tbody> <tr> <td>المغرب العربي</td> <td>2</td> <td>1</td> </tr> <tr> <td>إفريقيا</td> <td>1</td> <td>1</td> </tr> <tr> <td>أوروبا</td> <td>50</td> <td>55</td> </tr> <tr> <td>باقي العالم</td> <td>45</td> <td>40</td> </tr> </tbody> </table>	السنوات	العالم المتقدم (%)	العالم المتخلف (%)	2003	2	6	2004	3	7.5	2005	2.5	7.2	2006	3	3	2007	2.5	8	2008	0	6.5	المناطق	نسبة الصادرات (%)	نسبة الواردات (%)	المغرب العربي	2	1	إفريقيا	1	1	أوروبا	50	55	باقي العالم	45	40
السنوات	العالم المتقدم (%)	العالم المتخلف (%)																																				
2003	2	6																																				
2004	3	7.5																																				
2005	2.5	7.2																																				
2006	3	3																																				
2007	2.5	8																																				
2008	0	6.5																																				
المناطق	نسبة الصادرات (%)	نسبة الواردات (%)																																				
المغرب العربي	2	1																																				
إفريقيا	1	1																																				
أوروبا	50	55																																				
باقي العالم	45	40																																				

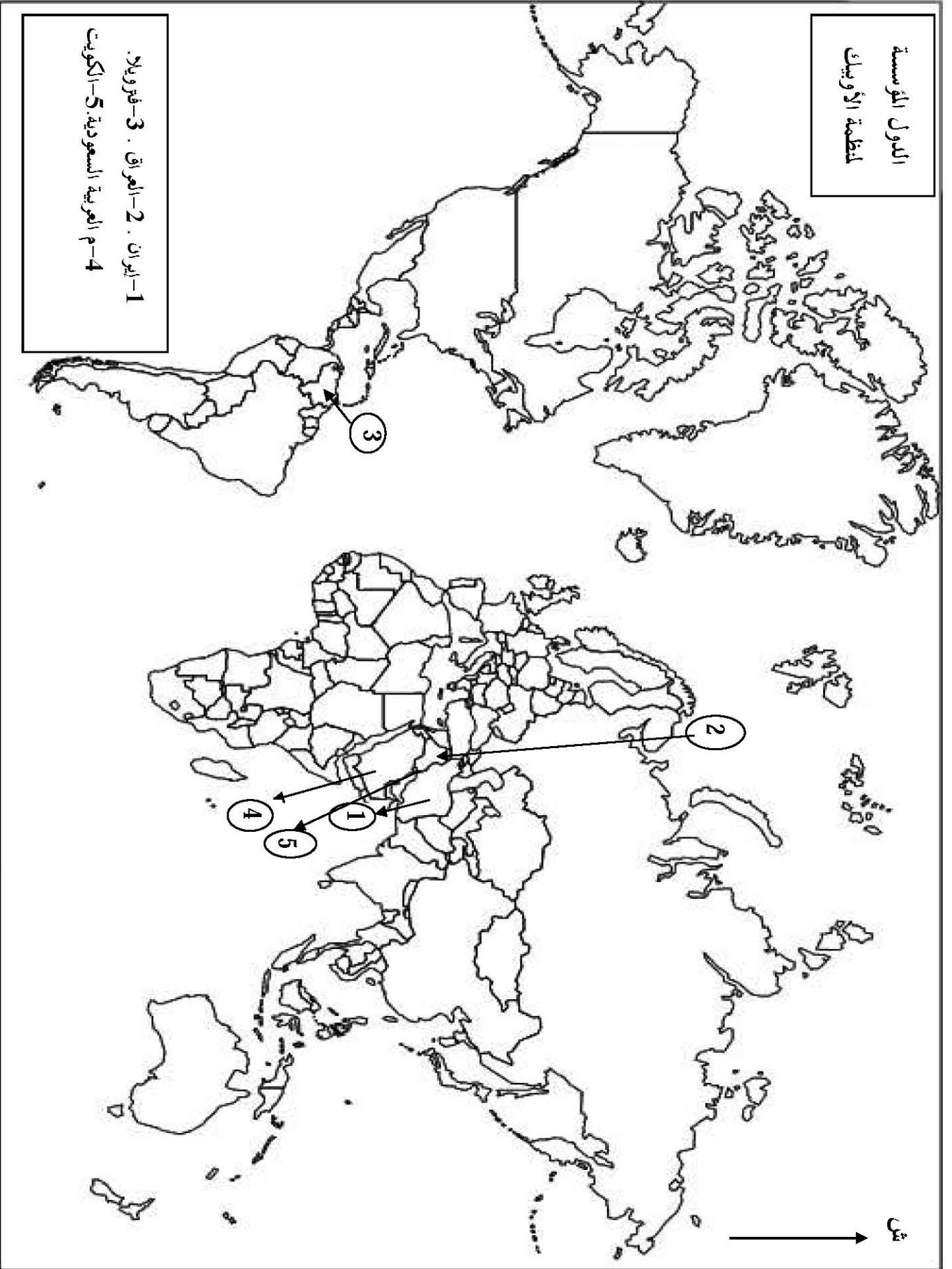
مؤتمرات حركة عدم الانحياز



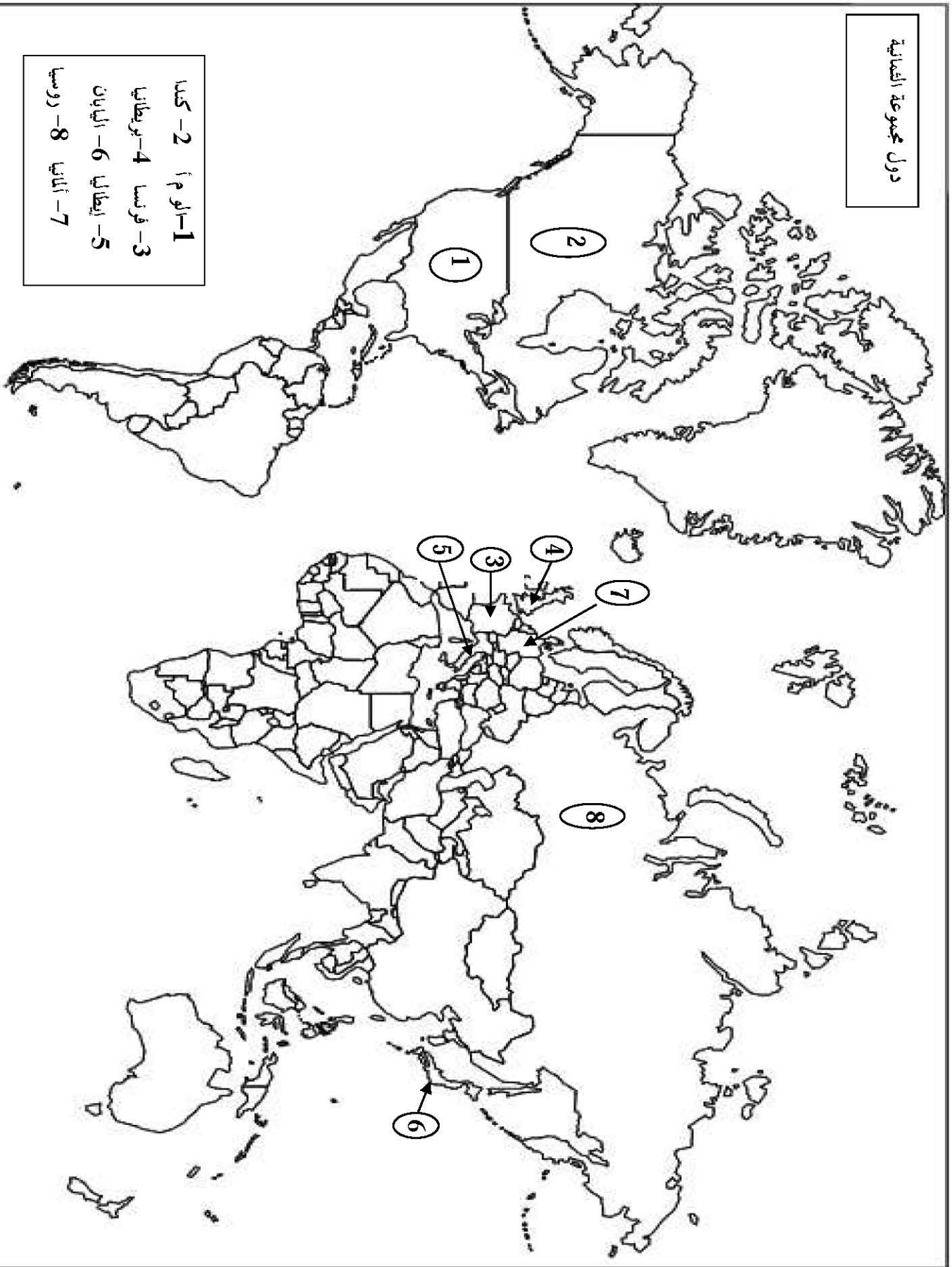
- 1- الجزائر
- 2- كولومبو
- 3- هاغانا
- 4- نيو دلهي

الدول المؤسسة
لنظمة الأوبك

- 1- إيران . 2- العراق . 3- فنزويلا .
- 4- م العربية السعودية . 5- الكويت



دول مجموعة الضمائية



- 1- كندا
- 2- فرنسا
- 3- إيطاليا
- 4- اليابان
- 5- ألمانيا
- 6- روسيا
- 7- أمريكا
- 8- أستراليا

خريطة تمثل بعض الدول من حلف وارسو و حلف شمال الأطلسي



دول أوروبا الغربية
أ- ألمانيا الغربية
ب- فرنسا
ج- إيطاليا

دول أوروبا الشرقية
1- ألمانيا الشرقية
2- بولونيا
3- بلغاريا