



على المترشح أن يختار أحد الموضوعين الآتيين:

الموضوع الأول

يحتوي الموضوع الأول على (03) صفحات (من الصفحة 1 من 6 إلى الصفحة 3 من 6)

التاريخ

الجزء الأول: (06 نقاط)

(1) " بعد أن أظهرت مظاهرات 1960/12/11 لفرنسا وللرأي العام العالمي أنّ جبهة التحرير الوطني هي الممثل الشرعي والوحيد للشعب الجزائري، وبعد تبني الحكومة الفرنسية مبدأ تقرير المصير من خلال نتائج استفتاء 1960/01/08، اقتنعت فرنسا بضرورة الإسراع في المفاوضات...."

المرجع: الكتاب المدرسي السنة الثالثة ثانوي صفحة 206.

المطلوب: اشرح ما تحته خط في النص.

(2) عزّف بالشخصيات التالية:

- ديدوش مراد - هاري ترومان - ميخائيل غورباتشوف

(3) على خريطة العالم المرفقة وقّع ثلاث حركات تحررية واحدة من كل قارة.

الجزء الثاني: (04 نقاط)

أفرزت المواجهة العسكرية الثانية بروز الولايات المتحدة الأمريكية والاتحاد السوفياتي كقوتين جديدتين متناقضتين إيديولوجيا، دخلتا في حرب باردة كانت أوروبا إحدى محطاتها.

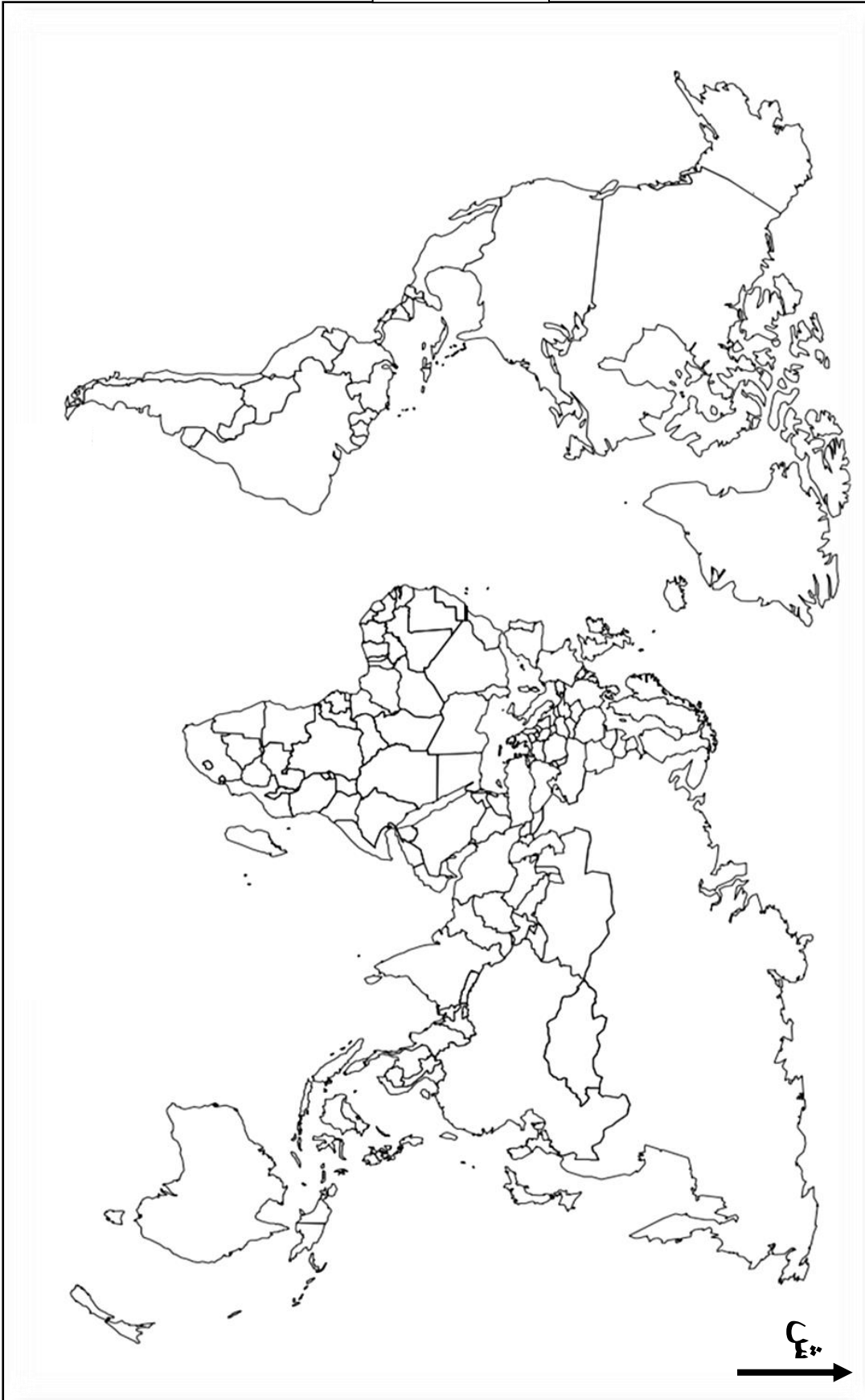
المطلوب: انطلاقا من العبارة واعتمادا على ما درست، اكتب مقالا تاريخيا تبيّن فيه:

(1) أسباب الحرب الباردة.

(2) نتائجها على قارة أوروبا.



خريطة العالم



ينجز العمل المطلوب على الخريطة وتعاد مع أوراق الإجابة



الجغرافيا

الجزء الأول: (06 نقاط)

1) "يعتبر الاتحاد الأوروبي عنصرا فاعلا أساسيا في العولمة وقد ينسج علاقات وطيدة مع دول الجنوب وهو من أول المساعدين على التنمية بتلك الدول. يمكن اعتبار الاتحاد الأوروبي نموذجا للعديد من المناطق في العالم، حيث نجد دولا لا تقوى على الاندماج في مسار العولمة ... وهي لا تعرف تعاونا فيما بينها إلا من خلال مناطق التبادل الحر".

المرجع: الكتاب المدرسي السنة الثالثة ثانوي صفحة 106.

المطلوب: اشرح ما تحته خط في النص.

2) إليك جدولا يمثل نسب مساهمة القوى الاقتصادية الكبرى في التجارة العالمية عام 2013.

القوى الاقتصادية	الو.م.أ	الاتحاد الأوروبي	الصين	اليابان	بقية العالم
نسبة الصادرات	9%	35%	11%	5%	40%
نسبة الواردات	13%	36%	9%	5%	37%

المرجع: الاتحاد الأوروبي/ صفحة 107 - جون بيندر - وسامون أشروود. ترجمة: عاكف غريب علي.

المطلوب: أ) مثل نسب الجدول بدائرتين نسبيتين. المقياس: (نق = 4 سم).
ب) علق على الجدول.

الجزء الثاني: (04 نقاط)

رغم ما يعترض الاتحاد الأوروبي من معوقات إلا أنه يبقى قطبا اقتصاديا ينافس الأقطاب الأخرى بفعل سياسة التكتل التي شرع فيها منذ معاهدة روما 1957.

المطلوب: انطلاقا من العبارة واعتمادا على ما درست، اكتب مقالا جغرافيا تبين فيه:

1) دور التكتل في تحقيق المكانة الاقتصادية.

2) المعوقات الداخلية التي تعترضه.



الموضوع الثاني

يحتوي الموضوع الثاني على (03) صفحات (من الصفحة 4 من 6 إلى الصفحة 6 من 6)

التاريخ:

الجزء الأول: (06 نقاط)

1) "... ورغم حدّة الخلافات التي ظهرت بين أنصار الحياد الإيجابي من جهة وأنصار الانحياز إلى الكتل والأحلاف المختلفة من جهة أخرى، فقد تمّ التوصل.... في البيان الختامي لمؤتمر بانديونغ على وجوب احترام حق كل دولة في الدفاع عن نفسها...".

المرجع: حركة عدم الانحياز في العلاقات الدولية 1961-1981 /ص 167/ مختار مزراق.

المطلوب: اشرح ما تحته خطّ في النّص.

2) عرّف بالشخصيات التالية:

- بن يوسف بن خدة - جوزيف ستالين - جمال عبد الناصر

3) أكمل الجدول التالي:

التاريخ	الحدث
	بناء جدار برلين
1947/09/20	
	اندلاع الثورة المصرية

الجزء الثاني: (04 نقاط)

لم يكن استعمال السلاح الوسيلة الوحيدة التي استعملتها الجزائر في ثورتها على الاستعمار الفرنسي، وإنما كان النشاط الدبلوماسي والإعلامي وسيلة أخرى لإحباط مخططات فرنسا.

المطلوب: انطلاقاً من العبارة واعتماداً على ما درست، اكتب مقالا تاريخيا تبين فيه:

1) النشاط الدبلوماسي والإعلامي خلال الثورة التحريرية.

2) رد فعل الاستعمار الفرنسي على ذلك النشاط.



الجغرافيا

الجزء الأول: (06 نقاط)

1) "...لقد نجحت الدول الآسيوية، في تطوير نمو اقتصادياتها... مما جعل الأنظار تتجه إليها باعتبارها دولا تلعب دورا فعّالا في المبادلات التجارية العالمية، كما أقيمت في المنطقة تكتلات اقتصادية لعلّ أبرزها رابطة دول جنوب شرق آسيا (الآسيان)".

المرجع: مجلة اقتصاديات شمال إفريقيا صفحة 82 / العدد 6.

المطلوب: اشرح ما تحته خط في النص.

2) إليك جدولا يمثل نسبة البطالة في بعض دول الاتحاد الأوروبي بين 2013/2014.

البلد	فرنسا	إسبانيا	إيطاليا	ألمانيا	البرتغال	هولندا
2013	%10.4	%26.6	%12.2	%5.3	%7.5	%4.2
2014	%10.2	%24.5	%12.8	%5.8	%13.9	%4.3

المرجع: التقرير الاقتصادي السنوي. صفحة 192 2015 / statics Eurostat

المطلوب:

أ) علّق على الجدول.

ب) على خريطة أوروبا المرفقة وقّع البلدان الواردة في الجدول.

الجزء الثاني: (04 نقاط)

تتحكم في إنتاج القمح جملة من العوامل، تسعى دول العالم لاستغلالها أحسن استغلال قصد الرفع من إنتاجه، لما له من أهمية بالغة في الاقتصاد العالمي.

المطلوب: انطلاقا من العبارة واعتمادا على ما درست، اكتب مقالا جغرافيا تبين فيه:

1) أهمية القمح في اقتصاد الدول.

2) العوامل المتحكمة في إنتاجه.



خريطة أوروبا



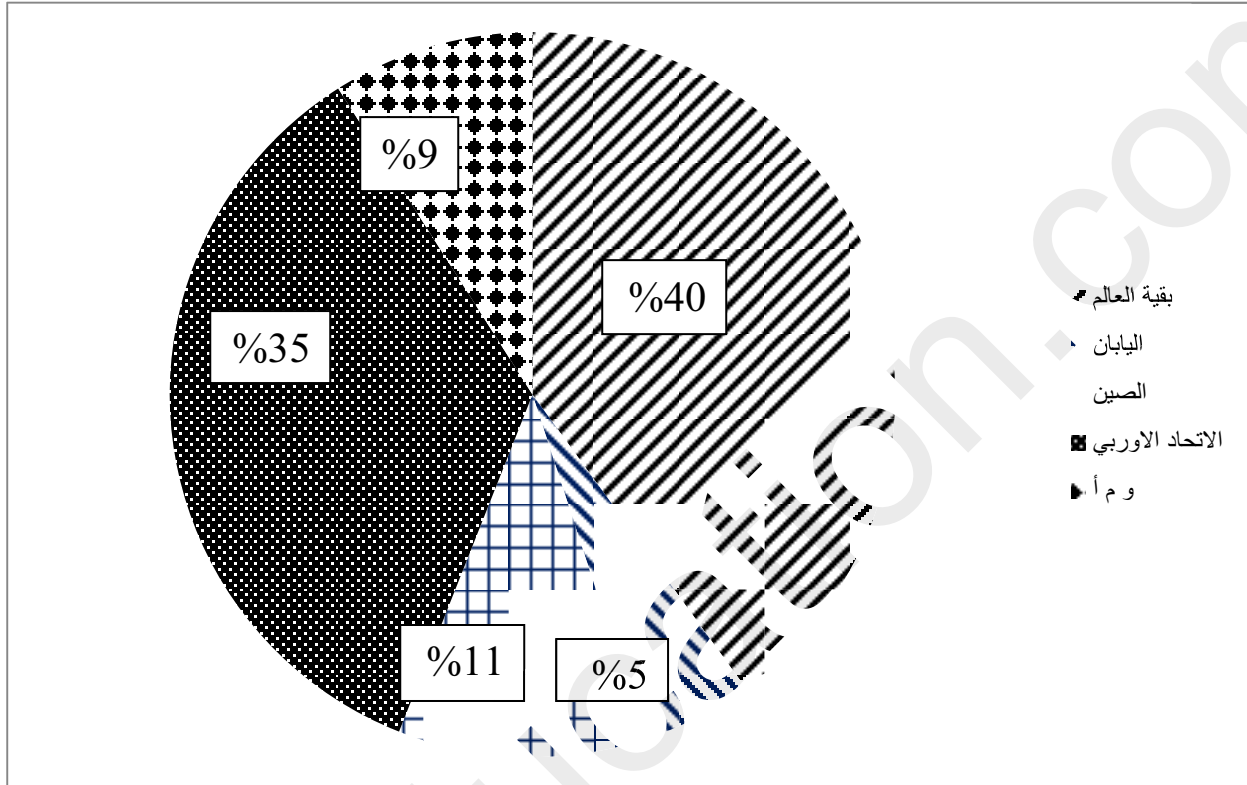
ينجز العمل على الخريطة وتعاد مع أوراق الإجابة

انتهى الموضوع الثاني

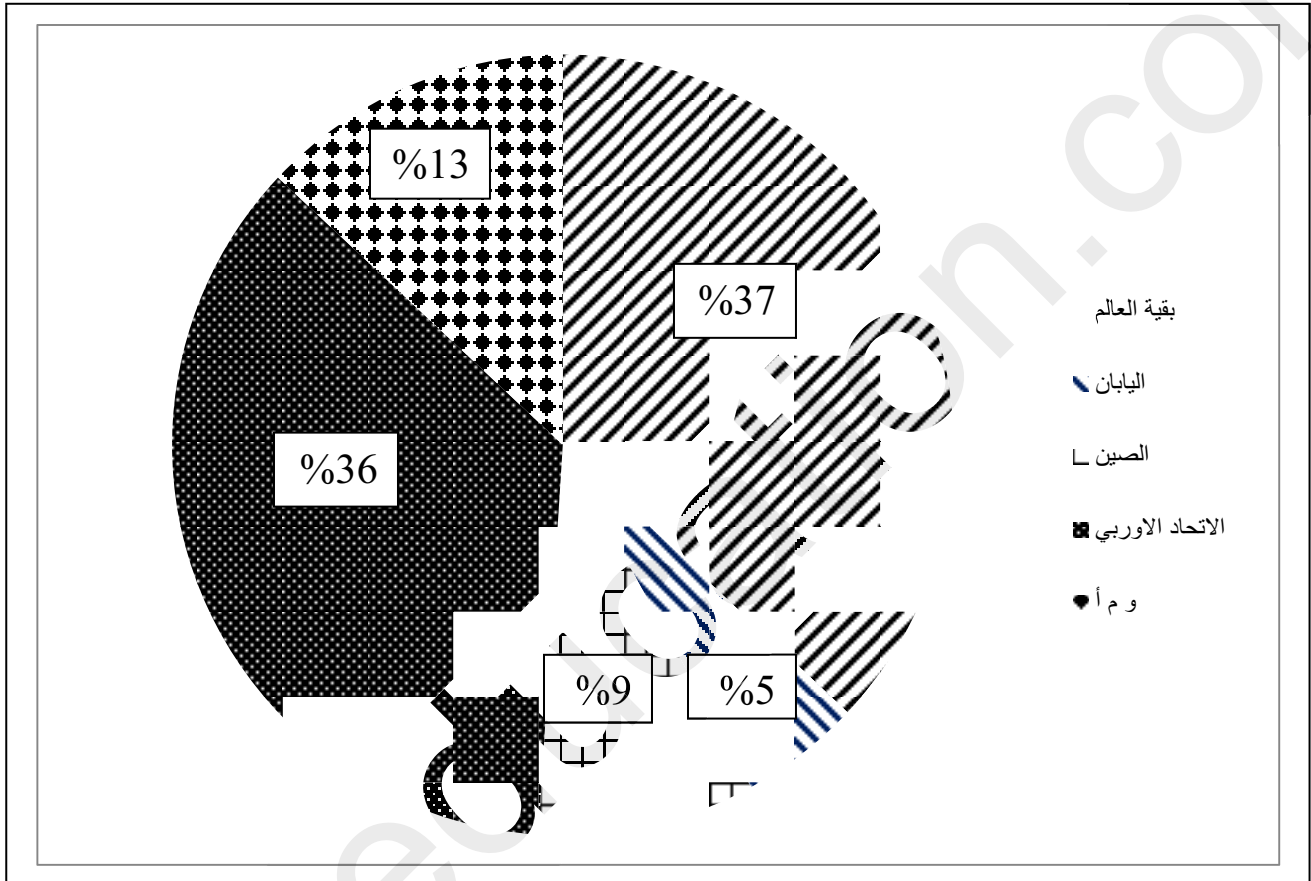
العلامة		عناصر الإجابة (الموضوع الأول)
مجموع	مجزأة	
06		تاريخ : الجزء الأول : (1) شرح ما تحته خط في النص: - جبهة التحرير الوطني: تنظيم سياسي تأسس خلال اجتماع 1954/10/23 قاد الثورة المسلحة في الجزائر وهو الممثل الشرعي والوحيد للشعب الجزائري خلال المفاوضات. - تقرير المصير: حق تكفله القوانين والمنظمات الدولية يقوم على حق الشعوب في التحرر من الاستعمار بكل أشكاله والسيادة على أراضيها وثرواتها... - المفاوضات: جلوس طرفين متنازعين على طاولة واحدة واجراء محادثات قصد حل المشاكل العالقة بينهما مثل: مفاوضات ايفيان.. (2) التعريف بالشخصيات التالية: - ديدوش مراد:(1927- 1955) أحد شهداء الثورة الجزائرية كان عضو في حزب الشعب، المنظمة الخاصة، اللجنة الثورية للوحدة والعمل، مجموعة 22، مجموعة 06، قائد المنطقة الثانية . - هاري ترومان: (1884 - 1972) رئيس الولايات المتحدة الأمريكية، وافق على استخدام القنبلة الذرية على اليابان، تدخل في كوريا عسكريا، ساهم في قيام دولة اسرائيل، له مبدأ باسمه 1947. - ميخائيل غورباتشوف: (1933 - ...) رئيس الاتحاد السوفياتي، صاحب إصلاحات بروترويك، غلاسنوست، حضر قمة مالطا 1989، في عهده انتهت الحرب الباردة وسقط الاتحاد السوفياتي... (3) التوقيع على خريطة العالم ثلاث حركات تحريرية واحدة من كل قارة: * الانجاز: 01.50 * المفتاح: 0.25 * العنوان: 0.25
	0.75	
	0.50	
	0.75	
	0.75	
	0.75	
	0.50	
	0.50	
	0.75	
	0.25	
04		الجزء الثاني : مقدمة : الحرب الباردة وأثرها على قارة أوروبا. (تقبل كل مقدمة وظيفية) (1) أسباب الحرب الباردة: - الاختلاف الإيديولوجي بين الاتحاد السوفياتي والولايات المتحدة الأمريكية. - انتشار الشيوعية خارج أوروبا (آسيا...) - نهاية التحالف الذي كان قائما بينهما خلال الحرب.ع.2 وتبين وتضارب المصالح بين الدولتين. - سيطرة الاتحاد السوفياتي على أوروبا الشرقية. - السباق نحو التسلح النووي بينهما. - خروج الولايات المتحدة الأمريكية والاتحاد السوفياتي كقوتين منتصرتين من الحرب.ع.2. (2) نتائجها على قارة أوروبا: - انقسام أوروبا إلى قسمين: شرقية شيوعية وغربية رأسمالية وتراجع مكانتها في العلاقات الدولية... - انقسام ألمانيا إلى دولتين: ألمانيا الشرقية وألمانيا الغربية. - إقامة أحلاف وقواعد عسكرية على أراضيها (حلف وارسو وحلف الاطلسي). - ربط القارة الأوروبية اقتصاديا بواسطة مشروع مارشال (الو.م.أ) ومنظمة الكوميكون (ا.السوفياتي)... خاتمة: حول صراع العملاقين قارة أوروبا إلى تابع لهما. (تقبل كل خاتمة وظيفية)
	0.50	
	0.50	
	0.25	
	0.25	
	0.25	
	0.25	
	0.50	
	0.50	
	0.50	

	06	<p>الجغرافيا:</p> <p>(1) شرح ما تحته خط في النص:</p> <p>0.75 - الاتحاد الأوروبي: تكتل إقليمي تأسس عام 1957 ب06 دول تحت اسم السوق الأوروبية المشتركة ثم بدأ في التوسع ليتحول اسمه بعد معاهدة ماستريخت عام 1992 إلى الاتحاد الأوروبي يضم حاليا 28 دولة وهو أحد الأقطاب الاقتصادية العالمية...</p> <p>0.75 - دول الجنوب: مصطلح اقتصادي يطلق على الدول التي يقع معظمها في النصف الجنوبي من الكرة الأرضية والتي تتميز بالتخلف الاقتصادي....</p> <p>0.75 - مناطق التبادل الحر: مناطق تتم فيها المبادلات التجارية (الصادرات والواردات) دون فرض رسوم جمركية تكون بين دولتين أو أكثر مثل: الاتحاد الأوروبي....</p>
	03	<p>(2) تحويل النسب المئوية إلى دائرتين نسبيتين (الصادرات والواردات).</p> <p>* الإنجاز: 02.00 * العنوان: 0.5 * المفتاح: 0.5</p> <p>(3) التعليق على معطيات الجدول الذي يمثل مساهمة القوى الاقتصادية الكبرى في التجارة العالمية</p> <p>0.25 - تباين نسبة مساهمة القوى الاقتصادية الكبرى وهيمنة الاتحاد الأوروبي على التجارة العالمية.</p> <p>0.25 - هيمنة هذه القوى على الصادرات العالمية بنسب 60% وعلى الواردات بنسبة 63%</p> <p>0.25 - تفوق الواردات على الصادرات في الولايات المتحدة الأمريكية ومتساوية في اليابان.</p>
	04	<p>الجزء الثاني:</p> <p>0.50 مقدمة: التكتل وسيلة من وسائل التطور والتقدم. (تقبل كل مقدمة وظيفية)</p> <p>(1) دور التكتل في تحقيق المكانة الاقتصادية:</p> <p>0.25x6 - وضع سياسات مشتركة في الزراعة والصناعة والتجارة....</p> <p>- الاستفادة المشتركة من الامكانيات الطبيعية والبشرية لدول الاتحاد الأوروبي.</p> <p>- اتساع السوق الاستهلاكية أكثر من 400 مليون....</p> <p>- وفر اليد العاملة بانضمام دول أوروبا الشرقية....</p> <p>- ساهم في حرية انتقال الأشخاص والأموال.</p> <p>- توفير مناخ ملائم لاستقطاب رؤوس الأموال الأجنبية....</p> <p>(2) المعوقات الداخلية التي تعترضه:</p> <p>0.25x6 - تفاوت مستوى التقدم بين دول الاتحاد الأوروبي.</p> <p>- تعرضه لأزمات مالية مثل: الأزمة اليونانية.</p> <p>- ارتفاع نسبة الشيخوخة والبطالة....</p> <p>- عدم انضمام كل دول الاتحاد الأوروبي لمنطقة الأورو.</p> <p>- شروع بريطانيا في إجراءات الانسحاب من الاتحاد الأوروبي.</p> <p>- عدم احترام مبدأ أولوية التعامل التجاري....</p>
	0.50	<p>- خاتمة: رغم ما يعترض الاتحاد الأوروبي من معوقات داخلية إلا أنه يبقى نموذجا ناجحا للتكتل.</p> <p>(تقبل كل خاتمة وظيفية)</p> <p>ملاحظة: (تقبل كل الإجابات الصحيحة الأخرى)</p>

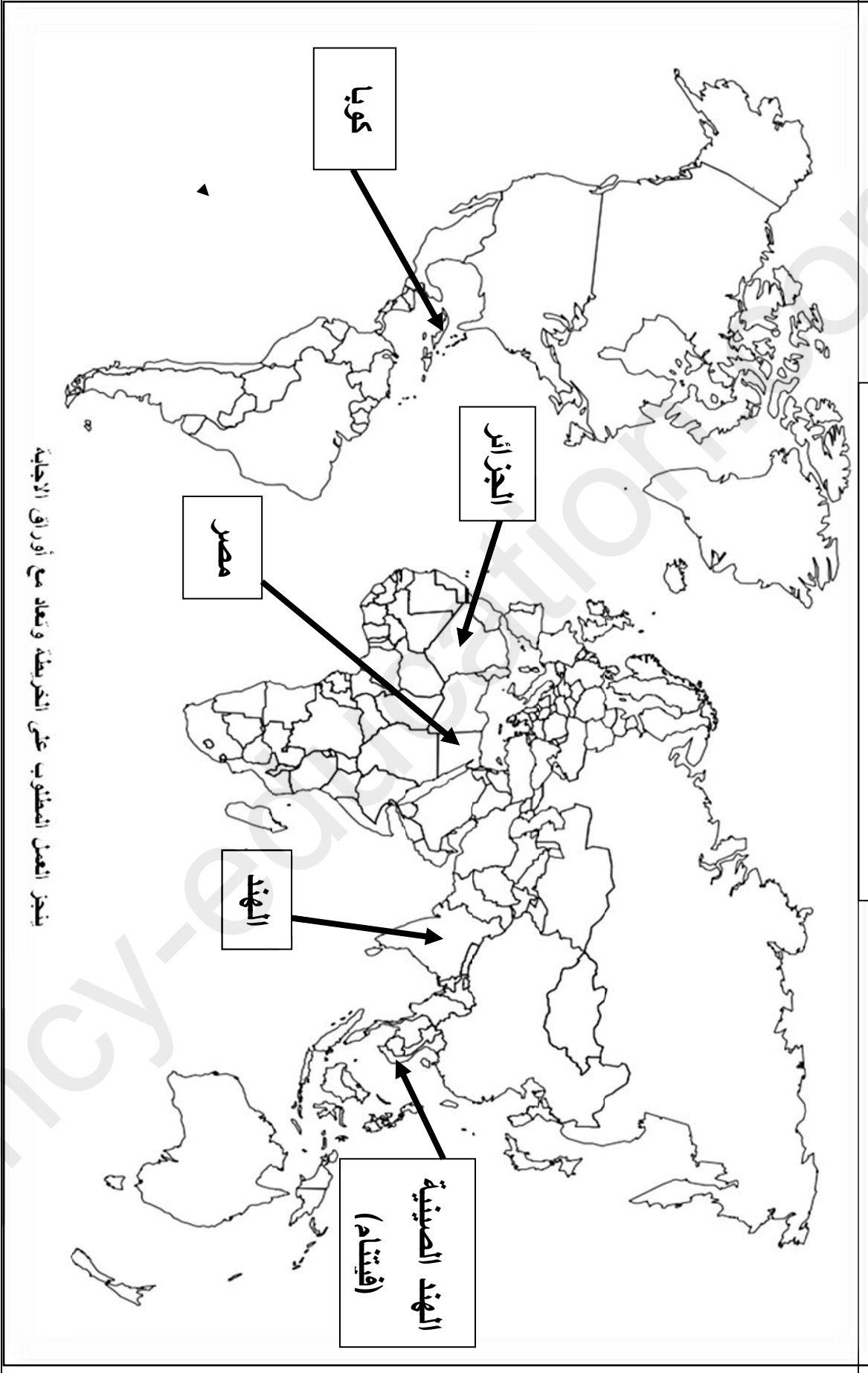
دائرة نسبية تمثل نسبة مساهمة صادرات القوى الاقتصادية الكبرى في التجارة العالمية
عام 2013



دائرة نسبية تمثل نسبة مساهمة واردات القوى الاقتصادية الكبرى في التجارة العالمية
عام 2013



خريطة الحركات التحررية في العالم



يُنجز العمل المطلوب على الخريطة وتعاد مع أوراق الإجابة

ملاحظة: يختار المترشح حركة تحريرية واحدة من كل قارة

العلامة		عناصر الإجابة (الموضوع الثاني)								
مجموع	مجزأة									
		<p>التاريخ:</p> <p>الجزء الأول:</p> <p>1) شرح ما تحته خط في النص:</p> <p>- الحياض الايجابي: سياسة دعا لها رئيس وزراء الهند نهرو، وتبنتها دول حركة عدم الانحياز تقوم على عدم الميل لأي من الكتلتين، والعمل على مناصرة حركات التحرر وحل الأزمات الدولية بالطرق السلمية.</p> <p>- الأحلاف: استراتيجية عسكرية تبناها المعسكران تقوم على إنشاء كتلتين عسكريتين دفاعية مثل حلف الأطلسي ووارسو.</p> <p>- مؤتمر بانونغ: مؤتمر أفرو آسيوي انعقد بإندونيسيا من 18 إلى 24 أفريل 1955 لدعم حركات التحرر ووضع مبادئ حركة عدم الانحياز...</p> <p>تعريف بالشخصيات:</p> <p>- بن يوسف بن خدة: (1920 - 2003) شخصية وطنية جزائرية، قيادي في اللجنة المركزية لحركة الانتصار للحريات الديمقراطية، وزير الشؤون الاجتماعية في الحكومة المؤقتة، ثم رئيسا لها 1961-1962</p> <p>- جوزيف ستالين: (1879 - 1953) رئيس الاتحاد السوفياتي، الأمين العام للحزب الشيوعي، كان متشددا في سياسته مع الغرب، عرفت فترة حكمه أزمات عديدة، برلين، كوريا....</p> <p>- جمال عبد الناصر: (1918 - 1970) سياسي مصري من حركة الضباط الأحرار، أحد قادة الثورة المصرية ورئيس جمهوريةها المستقلة، مؤمم قناة السويس ومن مؤسسي حركة عدم الانحياز حضر مؤتمر بانونغ....</p> <p>3) اكمال جدول الأحداث التاريخية التالية:</p> <table border="1" style="margin-left: auto; margin-right: auto;"> <thead> <tr> <th>التاريخ</th> <th>الحدث</th> </tr> </thead> <tbody> <tr> <td>1961/08/13</td> <td>بناء جدار برلين</td> </tr> <tr> <td>1947/09/20</td> <td>دستور الجزائر (القانون الخاص)</td> </tr> <tr> <td>1952/07/23</td> <td>اندلاع الثورة المصرية</td> </tr> </tbody> </table>	التاريخ	الحدث	1961/08/13	بناء جدار برلين	1947/09/20	دستور الجزائر (القانون الخاص)	1952/07/23	اندلاع الثورة المصرية
التاريخ	الحدث									
1961/08/13	بناء جدار برلين									
1947/09/20	دستور الجزائر (القانون الخاص)									
1952/07/23	اندلاع الثورة المصرية									
06	0.75									
	0.75									
	0.50									
	0.75									
	0.75									
	0.50									
	0.50									
	0.75									
	0.75									
	0.75									
	0.50									
	0.50									
	0.25x4									

	<p>(ب) النشاط الإعلامي:</p> <ul style="list-style-type: none"> - إصدار ميثاق الثورة(التعريف بها، الأسباب، الأهداف، الوسائل...). - إصدار جريدة المجاهد لسان حال جبهة التحرير الوطني. - إنشاء إذاعة صوت الجزائر ووكالة الأنباء الجزائرية. - الكتابات الحائطية، والنشاط المسرحي....
0.25x4	<p>(2) رد فعل الاستعمار الفرنسي على ذلك النشاط:</p> <ul style="list-style-type: none"> - التعتيم الإعلامي في الصحافة داخليا وخارجيا.
0.25x4	<p>اختطاف الطائرة 1956 التي كانت تقل الوفد الخارجي، رفض تدويل القضية الجزائرية في المحافل الدولية.</p> <ul style="list-style-type: none"> - المشاركة في العدوان الثلاثي على مصر 1956 لاحتضانها نشاط الوفود الجزائرية.
0.50	<p>منع بث إذاعة صوت الجزائر، مصادرة الصحف... خاتمة: الدبلوماسية والإعلام وسيلتان هامتان في إنجاح الثورة الجزائرية.</p>
	<p>(تقبل كل خاتمة وظيفية) ملاحظة : (تقبل الإجابات الصحيحة الأخرى).</p>
	<p>الجغرافيا: الجزء الأول:</p>
0.50	<p>(1) شرح ما تحته خط في النص:</p>
0.75	<ul style="list-style-type: none"> - المبادلات: حركة التبادل التجاري للسلع والبضائع والخدمات بين الدول في شكل صادرات وواردات. - كتكتلات اقتصادية: كتكتلات اقليمية تضم مجموعة من الدول لتنشيط اقتصادها بوضع واجراءات تحفيزية
0.75	<p>لتسهيل المبادلات وحرية انتقال الأشخاص والأموال بينها.... الآسيان : كتكتلا إقليمي اقتصادي يتشكل من عشر دول من جنوب شرق آسيا ، تأسس في تايلاندا</p>
0.50x4	<p>عام 1967 وهدفه تنشيط اقتصاديات دول المنطقة. (2) التعليق على الجدول الذي يمثل نسبة البطالة في بعض دول الاتحاد الأوربي في سنتي 2013/2014:</p>
	<ul style="list-style-type: none"> - تباين نسبة البطالة في دول الاتحاد الأوربي. - استقرار نسبة البطالة في السنتين في كل من فرنسا، ألمانيا، إيطاليا، هولندا. - زيادة نسبة البطالة في البرتغال عام 2014. - تراجع نسبة البطالة في اسبانيا 2014.
02	<p>(3) تحديد الدول الواردة في الجدول على خريطة أوربا المرفقة: *الانجاز: 01.50*العنوان: 0.25</p>
	<p>*المفتاح: 0.25</p>

0.50	<p>الجزء الثاني:</p> <p>مقدمة: أهمية القمح والعوامل المتحكممة في انتاجه. (تقبل كل مقدمة وظيفية)</p>
0.25	<p>(1) أهمية القمح في اقتصاد الدول:</p>
0.25	<p>- مادة أولية يدخل في العديد من الصناعات...</p>
0.50	<p>- يساهم في الدخل القومي (التصدير).</p>
0.25	<p>- مصدر غذاء أساسي... يوفر الأمن الغذائي للدول ويجنبها التبعية.</p>
0.25	<p>- يوفر مناصب شغل (الزراعة، الصناعة)</p>
	<p>- تستعمله بعض الدول كسلاح أخضر.</p>
	<p>(2) العوامل المتحكممة في انتاجه:</p>
0.50x3	<p>- الطبيعية: ملائمة المناخ، التربة، المياه، الحرارة، السهول....</p> <p>- البشرية: اليد العاملة، توفير رؤوس الأموال، المكننة، البحث العلمي (تحسين الانواع)، الأسمدة، التخزين....</p>
0.50	<p>- الاقتصادية: سيطرة كارتل القمح على الانتاج خضوعه لقانون العرض والطلب....</p>
	<p>خاتمة: يبقى القمح الغذاء الأساسي للإنسان وسلاح تستعمله القوى الكبرى لتحقيق مصالحها.</p>
	<p>(تقبل كل خاتمة وظيفية)</p>
	<p><u>ملاحظة:</u> (تقبل الإجابات الصحيحة الأخرى)</p>

خريطة أوروبا للدول الواردة في الجدول

