



الجمهورية الجزائرية الديمقراطية الشعبية
وزارة التربية الوطنية



دورة: 2019

الديوان الوطني للامتحانات والمسابقات
امتحان بكالوريا التعليم الثانوي
الشعبة: آداب وفلسفة

المدة: 04 سا و 30 د

اختبار في مادة: التاريخ والجغرافيا

على المترشح أن يختار أحد الموضوعين الآتيين:
الموضوع الأول

التاريخ:

الجزء الأول: (06 نقاط)

(1) "... ونتيجة لهذا الصراع الإيديولوجي تدعّمت حركات التحرير والاستقلال بما كان يعرف بالدول النامية أو المتخلفة، فكان استقلال الهند ... بداية لأفول عصر الاستعمار التقليدي لبريطانيا وفرنسا... وجاءت حرب السويس 1956 فوجّهت ضربة موجعة للاستعمار القديم...".

المرجع: النّظام الاقتصادي الدولي المعاصر
د. حازم الببلاوي (سلسلة عالم المعرفة) ص 68.

المطلوب: - اشرح ما تحته خطّ في النصّ.

(2) عرّف بالشخصيات التالية:

- نيكيتا خروتشوف - أحمد مصالي الحاج - أحمد سوكرانو

(3) على خريطة العالم المرفقة وّقع الدول الواردة في النصّ.

الجزء الثاني: (04 نقاط)

لم تكن الأهداف المعلنة التي نادى بها الولايات المتحدة الأمريكية عند إعلانها قيام نظام دولي جديد عام 1989 سوى وسيلة أخفت بها أهدافا أخرى ظهرت آثارها السلبية خاصة على العالم الثالث.

المطلوب: انطلاقا من العبارة واعتمادا على ما درست، اكتب مقالا تاريخيا تبين فيه:

(1) الأهداف المعلنة للنظام الدولي الجديد التي نادى بها الولايات المتحدة الأمريكية عام 1989.

(2) آثاره السلبية على العالم الثالث.



الجغرافيا:

الجزء الأول: (06 نقاط)

1) "... لا يُعدّ تحقيق التّمية الاقتصادية وتحسين مستويات المعيشة بالمهمة السهلة على حكومات الدول النّامية، كما أنّ تحقيق تلك المهام يُشكّل تحدياً مهماً في هذه الدول دون ضمان تدفق رؤوس الأموال من الخارج، وكانت أغلب الدول النّامية قد تبنتّ مناهج جديدة نحو التّمية تعتمد فيها تحرير الاقتصاد ومحاولة الاندماج في الاقتصاد العالمي..."

المرجع: تحليل أثر التدفقات المالية الدولية في التّمية الاقتصادية

ص 08 كلية بغداد للعلوم الاقتصادية العدد 19. 2000.

المطلوب: - اشرح ما تحته خطّ في النصّ.

2) إليك جدولاً يمثّل كمية إنتاج الولايات المتحدة الأمريكية لبعض المحاصيل الزراعية ونسبة

مساهمتها ومرتبتهما في الإنتاج العالمي سنة 2016.

المحاصيل	كمية الإنتاج (مليون طن)	نسبة المساهمة في الإنتاج العالمي	المرتبة العالمية
القمح	62.8	08.3 %	05
الذرة	384.7	36.2 %	01
الصوجا	117.2	35 %	01
القطن	03.6	13.7 %	03
قصب السكر	33.4	12 %	03
الحمضيات	10	08.6 %	03

المصدر: تقرير منظمة الأغذية والزراعة 2017. Beef2 live.com

المطلوب: أ- مثل نسب المساهمة في الإنتاج العالمي بأعمدة بيانية. بمقياس رسم: 1سم=عمود، 1سم=5%

ب- علّق على المعطيات الواردة في الجدول.

الجزء الثاني: (04 نقاط)

تسعى الجزائر في إطار الانفتاح الاقتصادي الذي تبنته منذ بداية تسعينيات القرن العشرين إلى تنويع شركائها التجاريين، إلا أنّ النّصيب الأكبر من مبادلاتها التجارية مازال يتمّ مع الاتحاد الأوروبي.

المطلوب: انطلاقاً من العبارة واعتماداً على ما درست، اكتب مقالا جغرافيا تبين فيه:

1) طبيعة المبادلات التجارية للجزائر مع الاتحاد الأوروبي.

2) عوامل بقاء الاتحاد الأوروبي أول شريك تجاري للجزائر.

انتهى الموضوع الأول



الموضوع الثاني

التاريخ:

الجزء الأول: (06 نقاط)

(1) " ... بعد الحرب العالمية الثانية نالت الكثير من دول العالم الثالث استقلالها السياسي فوجدت نفسها أمام مشاكل لا حدود لها في شتى الميادين وكان أخطرها مشكل التبعية الاقتصادية حيث كانت الشركات الاحتكارية التابعة للدول الاستعمارية تستغل موارد دول العالم الثالث، إضافة إلى ذلك تدرك أنّ استقلالها السياسي لن يكون كاملا إلا إذا تحررت اقتصاديا لهذا اتحدت هذه الدول لتدعيم استقلالها الاقتصادي ..."

المرجع: دور الجزائر في حركة عدم الانحياز من خلال المؤتمر الرابع 1973 مذكرة تخرج جامعة بسكرة - كلية العلوم الانسانية والاجتماعية 2014-2015

المطلوب: - اشرح ما تحته خط في النص.

(2) عرّف بالشخصيات التالية:

- دوايت ايزنهاور - محمد بوضياف - الجنرال جياب

(3) أكمل الجدول التالي:

التاريخ	الحدث
.....	23 أكتوبر 1954
مبدأ ترومان
.....	26 جويلية 1956

الجزء الثاني: (04 نقاط)

في ظل الانتصارات السياسية الداخلية والخارجية التي ما فتئت تُحققها الثورة الجزائرية، دخلت فرنسا مرغمة في مفاوضات تُوجت بالتوقيع على اتفاقيات إيفيان وإعلان قيام الدولة الجزائرية المستقلة.

المطلوب: انطلاقا من العبارة واعتمادا على ما درست، اكتب مقالا تاريخيا تبيّن فيه:

(1) الانتصارات السياسية الداخلية والخارجية التي أرغمت فرنسا على التفاوض.

(2) نقاط القوة التي حققتها الجزائر من اتفاقية إيفيان.



الجغرافيا:

الجزء الأول: (06 نقاط)

(1) " ... ما إن تأكد فشل بلوغ نموذج التنمية الاقتصادية المتبع خلال (1970-1990) استوجب الانتقال بخطى متسارعة من الاقتصاد المخطط إلى اقتصاد تحكمه آليات السوق الحرة... فقامت الجزائر بوضع برنامج للإصلاح الاقتصادي... بهدف إحداث إصلاحات هيكلية في الاقتصاد الوطني تحاول من خلالها إرساء قواعد اقتصاد السوق وذلك بتحرير تجارتها الخارجية وفتح أسواقها للسلع والخدمات..."

المرجع: التدفقات الدولية لرؤوس الاموال وتأثيرها على التنمية الاقتصادية في الجزائر ص 128

أ/د محفوظ جبار (جامعة سطيف) د/ سامية عمر عبدة (جامعة عنابة)

المطلوب: - اشرح ما تحته خط في النص.

(2) إليك جدولاً يمثل معدّل مؤشر التنمية البشرية في بعض دول العالم عام 2015:

الدولة	أستراليا	ألمانيا	الو.م.أ	البرازيل	الجزائر	الهند
معدّل التنمية البشرية	0.939	0.926	0.920	0.754	0.745	0.624

المصدر: تقرير التنمية البشرية - 2016 - ص 32.

المطلوب:

أ- علّق على المعطيات الواردة في الجدول.

ب- على خريطة العالم المرفقة وقّع الدول الواردة في الجدول.

الجزء الثاني: (04 نقاط)

بُغية تحقيق أهدافها في التنمية الاقتصادية والاجتماعية، اتبعت الهند منذ 1950 سياسة تنموية تقوم على الاستغلال الأمثل لإمكاناتها الطبيعية والبشرية، إلا أنّها تواجه العديد من المعوقات.

المطلوب: انطلاقاً من العبارة واعتماداً على ما درست، اكتب مقالا جغرافيا تبين فيه:

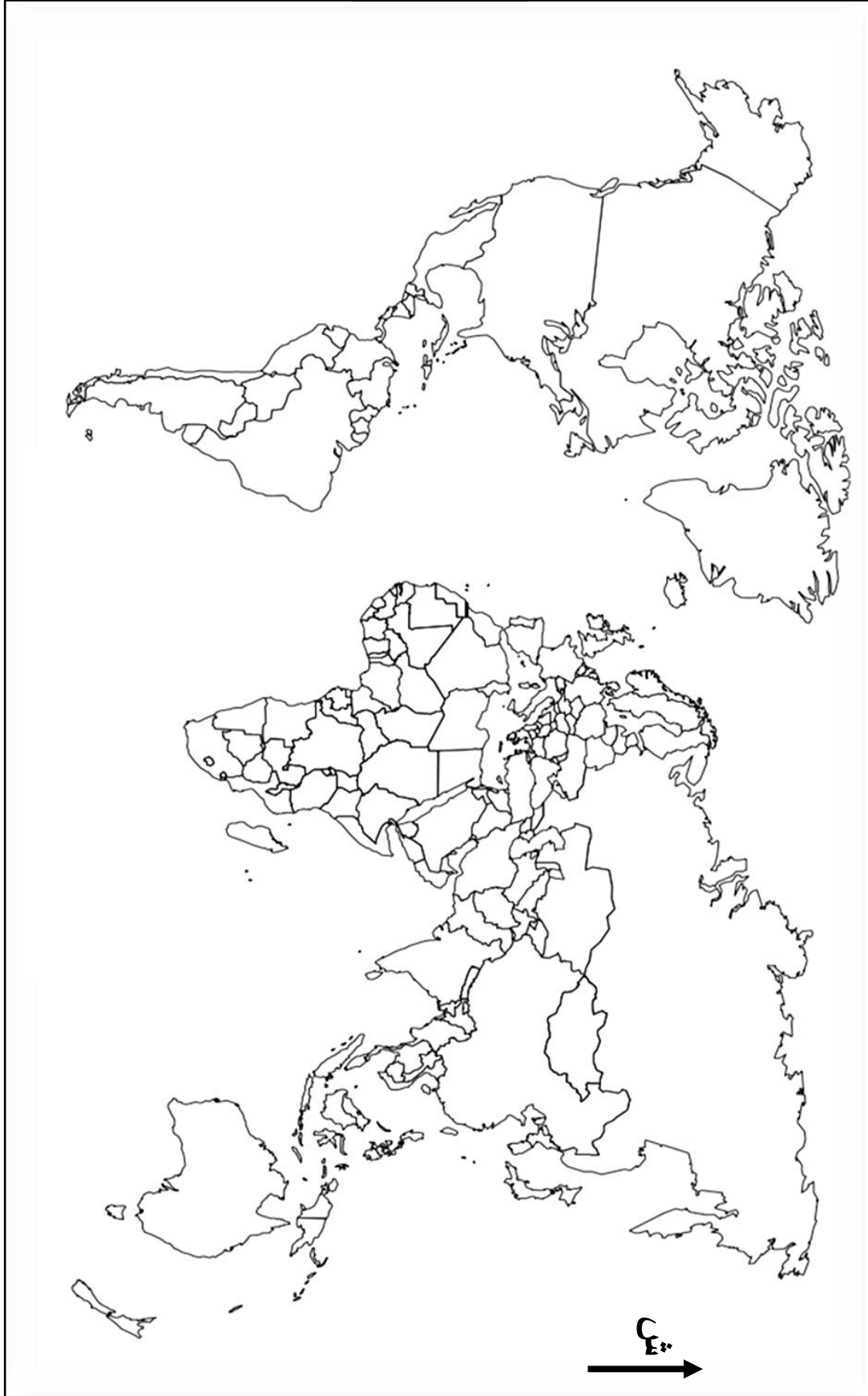
(1) أسس السياسة التنموية في الهند.

(2) المعوقات التي تعترض سياستها التنموية.

انتهى الموضوع الثاني



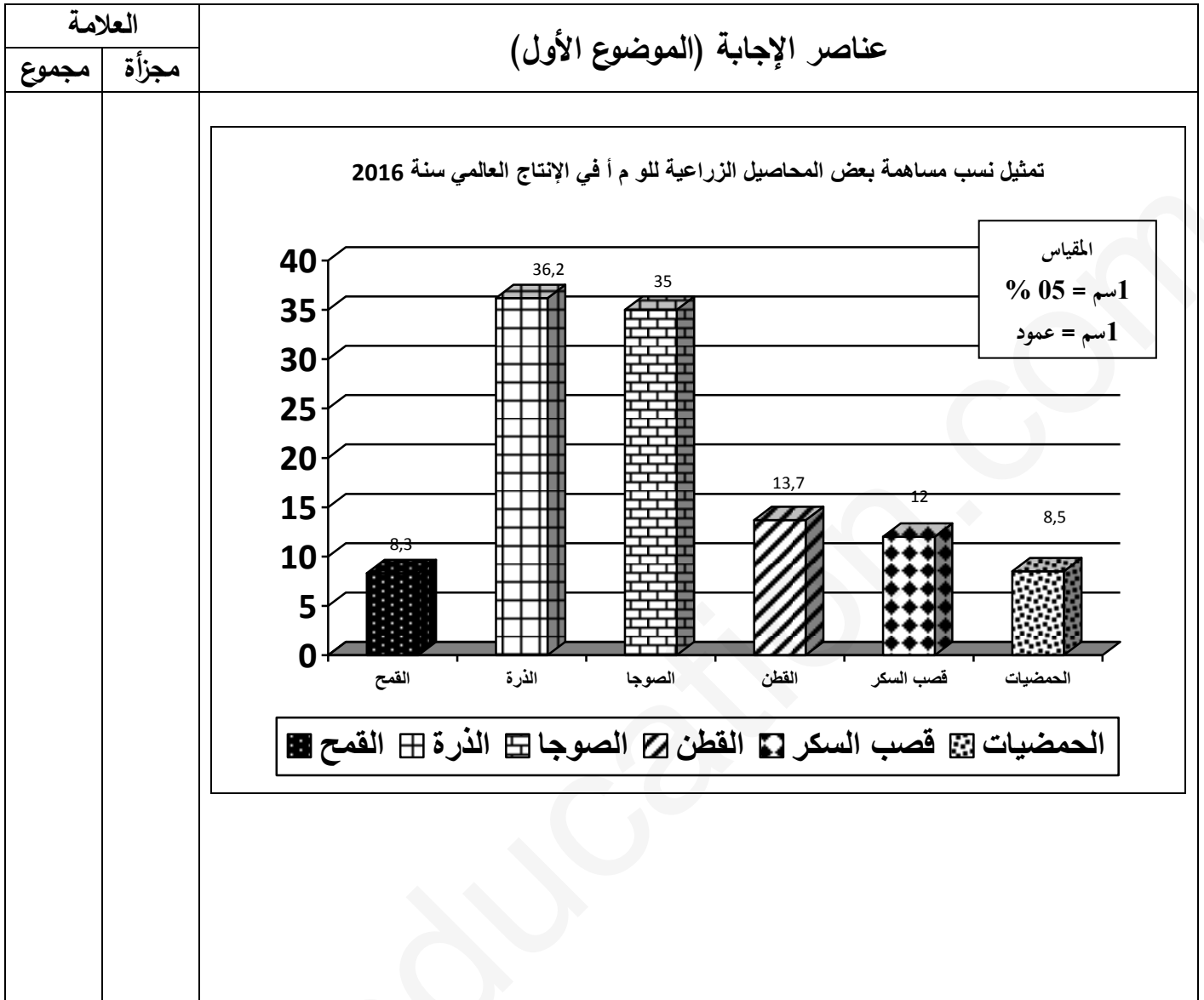
خريطة العالم

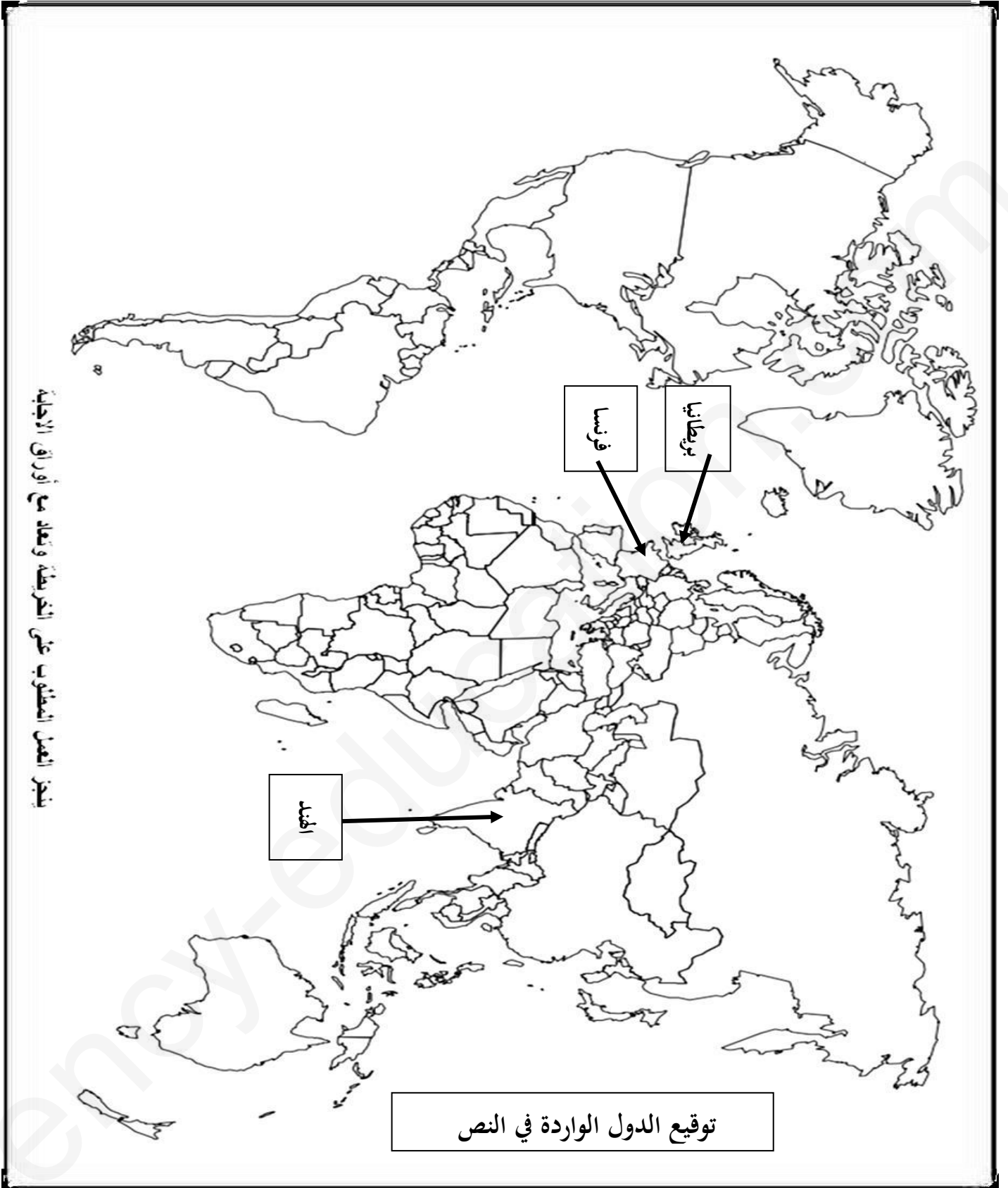


ينجز العمل المطلوب على الخريطة وتعاد مع أوراق الإجابة

العلامة		عناصر الإجابة (الموضوع الأول)	التاريخ
مجموع	مجزأة		
06		الجزء الأول (06ن)	
		1) شرح ما تحته خط في النص.	
	0.50	• الصراع الإيديولوجي: صراع فكري عقائدي مذهبي ميّز العلاقات الدولية بعد الحرب العالمية الثانية (0.25) بين الشرق والغرب، سعى كل طرف إلى نشر مذهبه وإضعاف الخصم (0.25)	
	0.50	• حركات التحرير: رد فعل شعوب المستعمرات على الوجود الاستعماري بمختلف أشكاله (0.25)، بهدف تحقيق الاستقلال واستعادة السيادة. (0.25)	
	0.50	• الاستعمار التقليدي: يقصد به الاستعمار الأوربي الذي ظهر خلال القرن 18 (0.25)، مثلته العديد من الدول الأوربية، منها فرنسا وبريطانيا، استعملت القوة العسكرية للسيطرة والنفوذ (0.25).	
		2) التعريف بالشخصيات التالية:	
	0.50	• نيكيتا خروتشوف: سياسي سوفياتي أمين عام الحزب الشيوعي، رئيس الاتحاد السوفياتي 1958 - 1964، (0.25) صاحب مبادرة التعايش السلمي عرف عهده أزمت أهمها (كوبا وقناة السويس).	
	01	• أحمد مصالي الحاج: سياسي جزائري وزعيم التيار الثوري الاستقلالي، مؤسس نجم شمال أفريقيا 1926 وحزب الشعب الجزائري 1937 (0.50) وحركة الانتصار الحريات الديمقراطية 1946 (0.50)	
	0.50	• أحمد سوكارنو: سياسي إندونيسي، أسس الحزب الوطني الإندونيسي 1927، قاوم الوجود الهولندي (0.25)، رئيس اندونيسيا 1949، مهندس مؤتمر باندونغ، أحد مؤسسي حركة عدم الانحياز. (0.25)...	
	02.50	3) توقيع الدول الواردة في النص على الخريطة: (الهند، بريطانيا، فرنسا). • التوقيع $3 \times 0.50 = 01.50$ + المفتاح 0.50 ن + العنوان 0.50 ن	
04		الجزء الثاني (04ن)	
	0.50	مقدمة: النظام الدولي الجديد بين أهدافه المعلنة وآثاره على العالم الثالث. (تقبل كل مقدمة وجبهة)	
	0.50	1) الأهداف المعلنة للنظام العالمي الجديد التي نادى بها الولايات المتحدة الأمريكية:	
	0.25	• إقامة بناء عالم خال من الحروب (تحقيق السلم والأمن العالميين).	
	0.25	• نشر الديمقراطية والقضاء على الأنظمة الديكتاتورية.	
	0.25	• نشر الليبرالية الاقتصادية (الرأسمالية).	
	0.25	• احترام حقوق الانسان والأقليات وفق ميثاق الأمم المتحدة.	
	0.25	• احترام الشرعية الدولية.	
	0.50	2) آثاره السلبية على العالم الثالث:	
	0.25	• انتشار الاضطرابات الداخلية والنزاعات الإقليمية والحروب...	
0.25	• تزايد تدخلات الدول الكبرى في الشؤون الداخلية لدوله.		
0.25	• تفاقم حجم المديونية على دوله.		
0.25	• طرح حلول للقضية الفلسطينية بما يتماشى ومصالح اليهود		
0.50	• تزايد تبعية دول العالم الثالث للشمال ماليا، تكنولوجيا و غذائيا.		
	خاتمة: تباين سياسة (الوم أ) بين الأقوال والأفعال. (تقبل كل خاتمة وجبهة)		

العلامة		عناصر الإجابة (الموضوع الأول)	الجغرافيا:
مجموع	مجزأة		
06		الجزء الأول: (06ن)	
	0.50	1) شرح المصطلحات التي تحتها خط في النص:	
	0.75	• التنمية الاقتصادية: هي مجموع القرارات والإجراءات والتدابير التي تقوم بها الدولة للاستغلال الأمثل للإمكانيات الاقتصادية (0.25) بهدف تحقيق التطور الاقتصادي والرفاهية الاجتماعية (0.25)	
	0.50	• رؤوس الأموال: هي كل الوسائل التي تدخل في العملية الإنتاجية (أراضي، آلات، أموال...) • تحرير الاقتصاد: سياسة اقتصادية تتبناها الدول ومنها دول العالم النامي، تقوم على الانفتاح على الاقتصاد العالمي (0.25) ، والعمل بقانون العرض والطلب والمنافسة الحرة. (0.25)	
		2) تمثيل النسب الواردة في الجدول بأعمدة بيانية:	
		الانجاز: 01.50 + المقياس: 0.25 + المفتاح: 0.25 + العنوان: 0.25	
	02.25	3) التعليق:	
	0.50	• تباين نسبة مساهمة الو. م. أ في الإنتاج العالمي لبعض المحاصيل الزراعية.	
	4x	• احتلالها مراتب أولى عالمية في العديد من المحاصيل.	
		• تنوع المحاصيل الزراعية للو. م. أ بين غذائية وتجارية.	
		• هيمنة الو. م. أ على الإنتاج العالمي لبعض المحاصيل مثل الذرة والصوجا.	
04		الجزء الثاني: (04ن)	
	0.50	مقدمة: الجزائر بين السعي لتنويع شركائها التجاريين و ارتباط مبادلاتها التجارية بالاتحاد الأوروبي.	
		1) طبيعة المبادلات التجارية للجزائر مع الاتحاد الأوروبي:	
		• الصادرات:	
		✓ مواد أولية: معدنية (الفوسفات...) وطاقوية (بتترول وغاز) (0.50).	
	0.75	✓ مواد زراعية: تمر، بعض الخضر... (0.25)	
		• الواردات:	
	0.75	✓ منتجات مصنعة (آلات، أجهزة.) ونصف مصنعة (قطع الغيار.)، وسائل تكنولوجية (0.25)	
		✓ مواد غذائية: القمح، الحليب... (0.25)	
		✓ الخدمات: (0.25)	
		2) عوامل بقاء الاتحاد الأوروبي أول شريك للجزائر:	
	0.50	• العامل الجغرافي: قرب الجزائر من دول الاتحاد الأوروبي، (0.25) سهولة الملاحة البحرية. (0.25)	
	0.50	• عامل تاريخي: الاستعمار الفرنسي والعلاقات التاريخية مع بلدانه... (0.50)	
	0.25	• عامل اقتصادي: ضعف اقتصاد الجزائر (صناعة، تجارة، خدمات...) (0.25)	
	0.25	• اتفاق الشراكة: الموقع عام 2002 (0.25)	
	0.50	خاتمة: حتمية تنويع الشركاء للتخلص من التبعية ... (تقبل كل خاتمة وجيهة) تقبل كل إجابة صحيحة	





العلامة		التاريخ: عناصر الإجابة (الموضوع الثاني)		
مجموع	مجزأة			
06	0.50	الجزء الأول: (06ن) 1) شرح المصطلحات التي تحتها خط في النص: الاستقلال السياسي: هو التحرر واسترجاع السيادة من السيطرة (0.25) الذي حققته المستعمرات نتيجة حركاتها التحررية... (0.25) التبعية الاقتصادية: هو بقاء دول العالم الثالث المستقلة حديثا مرتبطة اقتصاديا مع القوى الاقتصادية الكبرى (0.50) من خلال نشاط شركاتها الاحتكارية... (0.25) العالم الثالث: مصطلح اقتصادي وسياسي أطلقه "ألفريد سوفي" عام 1952 على الدول المستقلة حديثا... 2) جدول الأحداث: -اجتماع لجنة الستة الأخير 23 أكتوبر 1954 (01) مبدأ ترومان 12 مارس 1947 (0.50) تأميم قناة السويس 26 جويلية 1956 (0.50) 3) التعريف بالشخصيات: • ايزنهاور (دوايت): رئيس الوم أ 1952-1961، صاحب مشروع ايزنهاور (مساعدات مالية قدمها لدول الشرق الأوسط) ... • محمد بوضياف: شخصية وطنية جزائرية، مناضل في حزب الشعب ثم (ح إ ح د) عضو بالمنظمة الخاصة، قاد اللجنة الثورية للوحدة والعمل، عضو في مجموعة 22 (0.50)، منسق بين الداخل والخارج ، من مفجري الثورة ، (0.50). • الجنرال جياب: قائد عسكري فيتنامي قاد المقاومة المسلحة ضد فرنسا، مهندس معركة ديان بيان فو... الجزء الثاني (04ن) مقدمة: الانتصارات السياسية الداخلية والخارجية للثورة، ودورها في إجبار فرنسا على التفاوض والتوقيع على اتفاقية إيفيان. 1) الانتصارات السياسية الداخلية والخارجية: أ) الداخلية: • تمكن الثورة من تعبئة الجماهير وتجنيدها للانتفاف حول الثورة (التنظيم الجماهيري...) وانضمام الشخصيات الوطنية للثورة. • عقد مؤتمر الصومام ودوره في تنظيم الثورة بعد 1956سياسيا (وضع مؤسسات الثورة). • نجاح الإضرابات (إضراب 08 أيام 1957-ومظاهرات 11-12-1960) ب) الخارجية: • مشاركة الجزائر في مؤتمر باندونغ وتأييد الدول الأفرو - آسيوية لها. • طرح القضية الجزائرية في الامم المتحدة (1956) • اعتراف العديد من الدول بالحكومة المؤقتة للجمهورية الجزائرية. 2) نقاط القوة التي حققتها الجزائر من اتفاقية إيفيان: • جبهة التحرير الوطني الممثل الشرعي والوحيد للشعب الجزائري. • الاستقلال التام. • الوحدة الترابية ووحدة الشعب. خاتمة: قوة الثورة أرغمت فرنسا على التفاوض وحققت مطالب الشعب الجزائري في الاستقلال. (تقبل كل خاتمة وجيهة) ملاحظة: (تقبل كل الإجابات الصحيحة الأخرى)		
		04	0.75	
	0.25			
	x3			
	3x0.5			
	0.50			

العلامة		عناصر الإجابة (الموضوع الثاني)
مجموع	مجزأة	
06	0.50	الجغرافيا: الجزء الأول: (06ن) 1) شرح المصطلحات التي تحتها خط في النص: ● الاقتصاد المخطط: هو الاقتصاد الذي تتدخل الدولة في توجيهه في شكل مخططات اقتصادية (0.25) حيث تسيطر على كل النشاط الاقتصادي دون السماح للمبادرة الفردية... (0.25)
	0.50	● اقتصاد السوق: هو اقتصاد يقوم على عدم تدخل الدولة في توجيهه (0.25) برفع كل القيود والحواجز أمام الأنشطة وفسح المجال للمبادرة الشخصية وقانون المنافسة... (0.25)
	0.50	● الخدمات: هي الأنشطة المكملة للنشاط الاقتصادي مثل النقل، التجارة... 2) التعليق على معطيات الجدول:
	4×0.5	● يشير الجدول إلى معدل مؤشر التنمية البشرية في بعض دول العالمين المتقدم والمتخلف. ● التفاوت في معدل التنمية البشرية بين دول العالم المتقدم ودول العالم المتخلف. ● ارتفاع وتقارب في معدل مؤشر التنمية في الدول المتقدمة. ● انخفاض معدل مؤشر التنمية في دول العالم المتخلف.
04	02.50	3) التوقيع على الخريطة-الانجاز: 6×0.25 المفتاح: 0.50-العنوان: 0.50 الجزء الثاني: (04ن)
	0.50	مقدمة: السياسة التنموية في الهند والمعوقات التي تعترضها. (تقبل كل مقدمة وجاهية) 1) في أسس السياسة التنموية الهند:
	×6 0.25	● الإصلاح الزراعي 1950 (القضاء على الإقطاعية، منح القروض للفلاحين...) ● الثورة الخضراء 1965 (تأميم الأراضي، تحديث الزراعة، توسيع المساحة المسقية، المكننة...). ● وضع سياسة سكانية للتحكم في النمو السكاني. ● الاهتمام بالبحث العلمي والتكنولوجي. ● الشروع في تصنيع البلاد (ميكانيكية، فضائية، أسلحة، إلكترونية...). وظهور مدن صناعية مثل مدينة بنغالور.
	0.50	● الانفتاح على الاقتصاد العالمي بتشجيع الاستثمارات الداخلية والخارجية. 2) المعوقات التي تعترض السياسة التنموية في الهند:
0.25	● الانفجار السكاني الذي تعاني منه الهند.	
0.25	● تعرض الهند للكوارث الطبيعية (الفيضانات، الجفاف).	
0.25	● التركيبة البشرية وما ينتج عنها من مشاكل عرقية.	
0.25	● التفاوت الطبقي وانتشار الفقر على نطاق واسع.	
0.25	● التلوث البيئي وانتشار البيوت القصدية.	
0.50	خاتمة: تسعى الهند جاهدة لتخطي المعوقات التي تعترض سياستها التنموية. تقبل كل خاتمة وجاهية ملاحظة: (تقبل كل الإجابات الصحيحة الأخرى).	

