

على المترشح أن يختار أحد الموضوعين التاليين:

الموضوع الأول

ملاحظة:

- يحتوي الموضوع الأول على 03 صفحات (من الصفحة 1 من 7 إلى الصفحة 3 من 7)
- الصفحة 4 من 7 فارغة.

التاريخ :

الجزء الأول: (06 نقاط)

1- "... يمكن اعتبار مؤتمر باندونغ أول انتصار دولي لدبلوماسية جبهة التحرير الوطني ... وأنه أوصى بعرض القضية الجزائرية على هيئة الأمم المتحدة ... التي افتتحت الدورة في 30 سبتمبر 1955 غداة هجوم جيش التحرير الوطني على الشمال القسنطيني... أعقبه انسحاب الوفد الفرنسي من الجلسة احتجاجا على هذا القرار... نتيجة للصدى الذي حققته القضية الجزائرية على الصعيد الدولي ورغبة منها في تفعيل العمل الدبلوماسي، أعلنت جبهة التحرير الوطني عن تأسيس حكومة مؤقتة بالمنفى، كمرحلة جديدة في مسار الكفاح التحرري، حيث كان هذا الحدث بمثابة قفزة نوعية في دبلوماسية جبهة التحرير الوطني... ".
المرجع: مجلة الجيش/نوفمبر 2011 العدد 580 ، ص31.

أ - اشرح ما تحته خط في النص.

ب- حدّد تواريخ الأحداث التالية والواردة في النص: مؤتمر باندونغ، هجوم جيش التحرير الوطني على الشمال القسنطيني، تأسيس حكومة مؤقتة.

2- "... في تلك الفترة الزمنية ومع انهيار النظام الاستعماري ونضال شعوب إفريقيا وآسيا وأمريكا اللاتينية من أجل الاستقلال، طرح زعماء دول آسيا وإفريقيا وأوروبا فكرة تأسيس حركة... أبرزهم الهندي جواهر لال نهرو والمصري جمال عبد الناصر واليوغسلافي جوزيف بروز تيتو، من دون إغفال الدور الهام الذي لعبه الزعيم الأندونيسي أحمد سوكارنو في تأسيس هذه الحركة... ".
المرجع: عدم الانحياز... بين الأمس واليوم/أبو ظبي.

- عرّف بالشخصيات التي تحتها خط.

الجزء الثاني: (04 نقاط)

قال الجنرال فون ناجوين جياب: "...إننا لسنا أقوىاء لإخراج نصف مليون جندي أمريكي من الجنوب، لكننا نريد كسر شوكة الحكومة الأمريكية عبر استخدام قوتنا البشرية الصغيرة في مواجهة آلة الحرب الأمريكية العملاقة...".

المطلوب: انطلاقاً من العبارة، واعتماداً على ما درست، اكتب مقالا تاريخيا تبيّن فيه:

- 1- أسلوب التحرر في الهند الصينية.
- 2- الاستراتيجيات المنتهجة من قبل الولايات المتحدة الأمريكية في المنطقة.

الجغرافيا:

الجزء الأول: (06 نقاط)

جاء في تقرير خبراء بنك "باركليز"؛ البريطاني:

"... إن توجهات الاستهلاك والاستثمار في الولايات المتحدة تبدو اليوم مشابهة لما كانت عليه قبل تأزم الاقتصاد الأمريكي الذي يعتبر القوة الرأسمالية الأهم عالمياً. ولا تزال البيانات الواردة من أوروبا تؤكد تنامي الانتعاش الاقتصادي وتوافر ظروف اقتصادية مواتية نتيجة التحسّن المستمر لقطاع الائتمان... ويوصي التقرير أيضاً بخفض حصة النقد والسندات ذات آجال الاستحقاق القصيرة... مما يتيح تحرير الأموال للاستفادة من تراجع أسعار الأسهم في الأسواق المتقدمة. وأوصى البنك بالاستفادة من النقد لحيازة أصول عالية الجودة بأسعار منصفة وبالتحديد: أسهم الأسواق المتقدمة التي توفر نقطة دخول مناسبة للمستثمرين...".

المرجع: "باركليز": الاقتصاد الأمريكي سيدفع عجلة النمو العالمي.

1- اشرح ما تحته خط في النص.

2- إليك جدولاً لتطور التجارة الخارجية في الجزائر للفترة: (2005-2014) القيمة: مليار دولار أمريكي

| السنوات | 2005 | 2006 | 2007 | 2008 | 2009 | 2010 | 2011 | 2012 | 2013 | 2014 |
|----------|--------|--------|--------|--------|--------|--------|--------|--------|--------|--------|
| الصادرات | 45.036 | 54.613 | 60.163 | 79.298 | 45.194 | 57.053 | 73.489 | 71.866 | 65.917 | 62.956 |
| الواردات | 20.048 | 21.456 | 27.631 | 39.479 | 39.294 | 40.473 | 47.247 | 47.490 | 54.852 | 58.330 |

المرجع: المركز الوطني للإعلام الآلي و الإحصاء التابع للجمارك.

المطلوب:

أ- مثل أرقام الجدول بمنحنيين بيانيين في معلم واحد بمقياس:

1سم ← 10 مليار دولار.

1سم ← 1 سنة.

ب- علّق على الرسم.

الجزء الثاني: (04 نقاط)


ينذر الانهيار الكبير لسعر النفط في السوق العالمية بعواقب اقتصادية واجتماعية كبيرة على العديد من الحكومات، وقد يهدد هذا التطور السلم الاجتماعي الذي استثمرت فيه السلطات عائداتها البترولية لضمان الاستقرار وحكمها أيضا.

المطلوب:

انطلاقا من الفقرة، واعتمادا على ما درست، اكتب مقالا جغرافيا تبين فيه:

- 1- العوامل المتحكمة في تجارة البترول.
- 2- أثر انخفاض أسعار البترول على العلاقات الدولية.

انتهى الموضوع الأول



الموضوع الثاني

يحتوي الموضوع الثاني على 03 صفحات (من الصفحة 5 من 7 إلى الصفحة 7 من 7)

التاريخ:

الجزء الأول: (06 نقاط)

«... صحيح أنّ احتمالات قيام حرب عالمية ثالثة تضاءلت في ظل توازن الرعب النووي والذي بدا جليا في أزمة كوبا لكن هذا لم يمنع العملاقين من المراهنة على استعراض قدرتيهما النووية، وهو ما جعل حظوظ النجاح في التعايش السلمي محدودة أو منعدمة ...».

المرجع: الكتاب المدرسي، تاريخ العالم المعاصر، السنة 3 ثانوي، ص172.

- 1- اشرح ما تحته خط في النص.
- 2- عرّف بالشخصيات التالية: هوشي منه - نيكيتا خروشوف - محمد بوضياف.
- 3- عيّن على خريطة العالم المرفقة مقرات المنظمات والمؤتمرات الدولية الآتية:
حلف وارسو - مؤتمر باندونغ - هيئة الأمم المتحدة .

الجزء الثاني: (04 نقاط)

لم ينتظر قادة الثورة الجزائرية انقضاء حولين بعد تفجير ثورة نوفمبر الخالدة حتى استقر رأيهم على عقد مؤتمر يضع للثورة إطارا تنظيميا ومنهجيا سياسيا محكما.

المطلوب:

انطلاقا من الفقرة، واعتمادا على ما درست، اكتب مقالا تاريخيا تبين فيه:

- 1- أسباب اختيار منطقة الصومام.
- 2- التنظيمات السياسية والعسكرية المنبثقة عن مؤتمر الصومام.

الجغرافيا:

الجزء الأول: (06 نقاط)

« تهيمن على الاقتصاد العالمي الشركات متعددة الجنسيات بما فيها شركات الثالوث الاقتصادي الذي هو موطن 85 % من بين مائة شركة في العالم حيث تعود حصة الأسد في الاستثمار الأجنبي للدول المتقدمة على حساب الدول المتخلفة...»

مؤتمر الأمم المتحدة للتجارة والتنمية 2006.

1- اشرح ما تحته خط في النَّص.

2- إليك جدولاً يمثل نسب مساهمة القطاعات الاقتصادية في الدخل الوطني الخام للولايات المتحدة الأمريكية:

| القطاع | نسبة المساهمة % |
|---------|-----------------|
| الزراعة | 02 |
| الصناعة | 23 |
| الخدمات | 75 |

الكتاب المدرسي السنة الثالثة ثانوي - ص 46.

المطلوب:

أ- مثل معطيات الجدول بدائرة نسبية (نصف قطرها 3 سم).

ب- علق على الرسم.

الجزء الثاني: (04 نقاط)

يعد القمح الغذاء الرئيسي لمعظم سكان المعمورة ويكتسي أهمية بالغة في المبادلات التجارية العالمية.

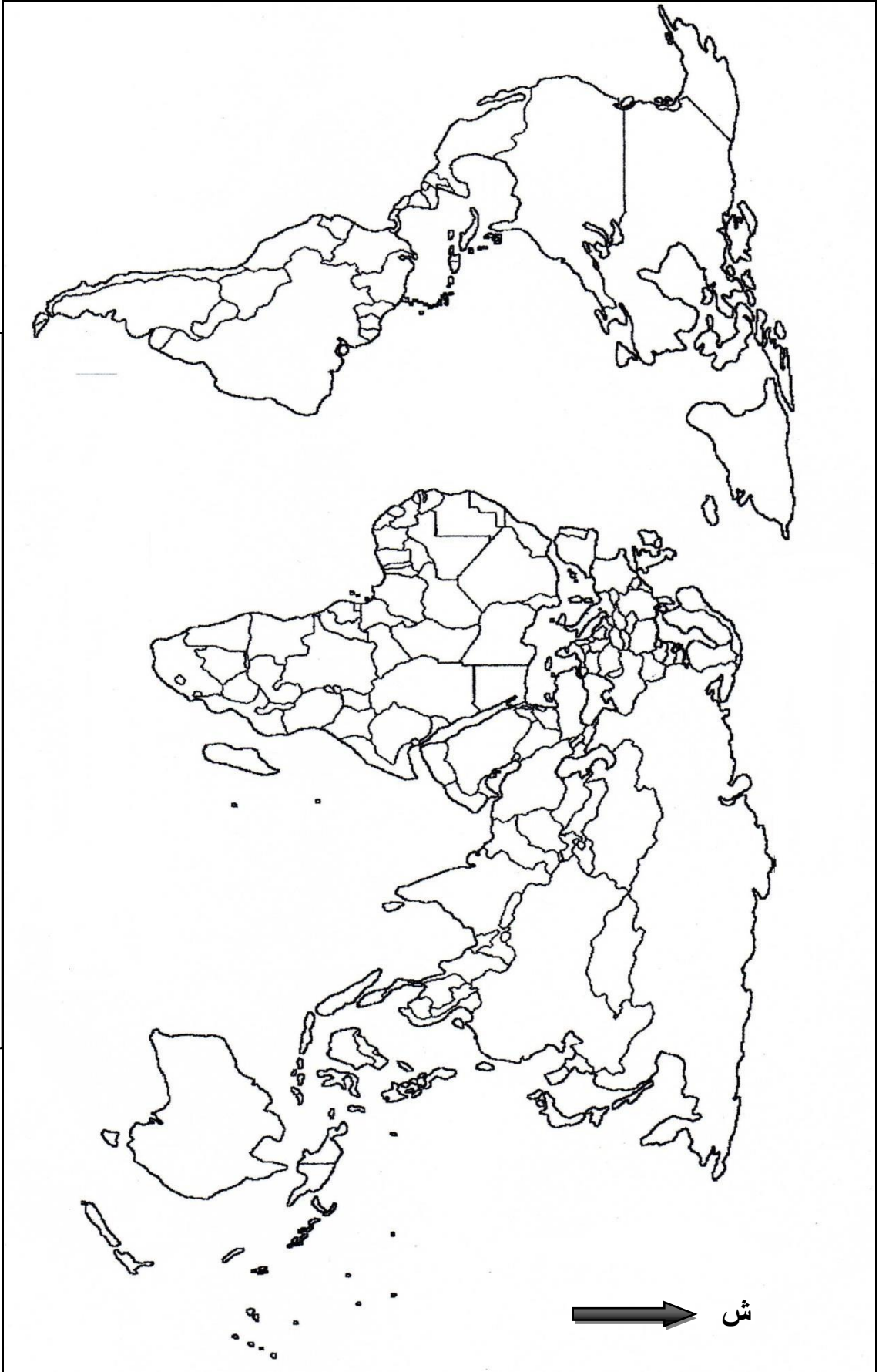
المطلوب:

انطلاقاً من العبارة، واعتماداً على ما درست، اكتب مقالا جغرافيا تبين فيه:

1- أهمية القمح.

2- أثر احتكار الدول المصدرة لهذه المادة على العالم المتخلف.

خريطة العالم



ينجز العمل المطلوب على الخريطة وتعد مع أوراق الإجابة

انتهى الموضوع الثاني

| العلامة | | عناصر الإجابة (الموضوع الأول) | | | | | | | | |
|------------|------------------------------------------------------------------------------------------------------------------------------------------------------------------------------------------------------------------------|-----------------------------------------------------------------------------------------------------------------------------------------------------------------------------------------------------------------------------------------------------------------------------------------------|---------|-------|---------------|---------------|------------|-----------------------|------------|-----------------------|
| مجموع | مجزأة | | | | | | | | | |
| 06 | | التاريخ : الجزء الأول | | | | | | | | |
| | | 1-أ- شرح ما تحته خط: | | | | | | | | |
| | 0.75 | * - جبهة التحرير الوطني: الجناح السياسي للثورة التحريرية تم تأسيسها في 1954/10/23 أعلن عنها رسميا في 1954/11/01. | | | | | | | | |
| | 0.75 | * - هيئة الأمم المتحدة: تنظيم دولي يضم جميع الدول المستقلة تأسس في 1945/10/24 بغرض الحفاظ على السلم والأمن العالميين وتنظيم العلاقات الدولية، مقرها نيويورك. | | | | | | | | |
| | 0.75 | * - العمل الدبلوماسي: كل نشاط سياسي خارج الدولة ويقصد به هنا النشاط السياسي لجبهة التحرير الوطني خلال الثورة بغرض التعريف بالقضية الوطنية في مختلف المحافل الإقليمية والدولية. | | | | | | | | |
| | | 1- ب- الأحداث التاريخية: | | | | | | | | |
| | | <table border="1"> <thead> <tr> <th>التاريخ</th> <th>الحدث</th> </tr> </thead> <tbody> <tr> <td>1955/04/24-18</td> <td>مؤتمر باندونغ</td> </tr> <tr> <td>1955/08/20</td> <td>هجوم الشمال القسنطيني</td> </tr> <tr> <td>1958/09/19</td> <td>تأسيس الحكومة المؤقتة</td> </tr> </tbody> </table> | التاريخ | الحدث | 1955/04/24-18 | مؤتمر باندونغ | 1955/08/20 | هجوم الشمال القسنطيني | 1958/09/19 | تأسيس الحكومة المؤقتة |
| | التاريخ | الحدث | | | | | | | | |
| | 1955/04/24-18 | مؤتمر باندونغ | | | | | | | | |
| | 1955/08/20 | هجوم الشمال القسنطيني | | | | | | | | |
| 1958/09/19 | تأسيس الحكومة المؤقتة | | | | | | | | | |
| 0.50 | | | | | | | | | | |
| 0.50 | | | | | | | | | | |
| 0.50 | | | | | | | | | | |
| | 2- التعريف بالشخصيات: | | | | | | | | | |
| 0.75 | * - جمال عبد الناصر (1918-1970): من الضباط الأحرار، رئيس الجمهورية المصرية، مؤمم قناة السويس، من مؤسسي حركة عدم الانحياز. | | | | | | | | | |
| 0.75 | * - جوزيف بروز تيتو (1892-1980): مؤسس جمهورية يوغسلافيا ورئيسها بعد الحرب العالمية الثانية، أحد زعماء حركة عدم الانحياز، من مناصري حركات التحرر. | | | | | | | | | |
| 0.75 | * - أحمد سوكارنو (1901-1970): رئيس أندونيسيا (1949/1967) ترأس مؤتمر باندونغ الذي احتضنته بلاده عام 1955 للتضامن الأفرو آسيوي، أحد مؤسسي حركة عدم الانحياز. | | | | | | | | | |
| 0.75 | الجزء الثاني: | | | | | | | | | |
| | المقدمة: الهند الصينية بين المد التحرري وتكالب القوى الخارجية. | | | | | | | | | |
| 0.50 | 1- أسلوب التحرر في الهند الصينية: | | | | | | | | | |
| | <ul style="list-style-type: none"> • الدمج بين الكفاح المسلح والنضال السياسي. • اعتماد حرب العصابات. • الاعتماد على الإمكانيات الذاتية والخارجية. • الاستمرارية في المواجهة. | | | | | | | | | |
| 3×0.50 | | | | | | | | | | |
| | ملاحظة: الأخذ بعين الاعتبار ثلاث إجابات صحيحة في هذا السؤال. | | | | | | | | | |

| العلامة | | عناصر الإجابة (الموضوع الأول) |
|---------|-------|---------------------------------------------------------------------------------------------------------------------------------------------------------------------------------------------------------------------------------------------------------------------------------------------------------------------------------------------------------------------------------------------------------------------------------------------------------------------------------------------------------------------------------------------------------------------------------------------------------------------------------------------------------------------------------------------------------------------------------------------------------------------------------------------------------------------------------------------------------------------------------------------------------------------------------------------------------------------------------------------------------------------------------------------------------------------------------------------------------------------------------------------------|
| مجموع | مجزأة | |
| 04 | 3×0.5 | <p>2- الإستراتيجيات المنتهجة من قبل الولايات المتحدة الأمريكية في المنطقة:</p> <ul style="list-style-type: none"> • دعم الأحزاب الليبرالية والحكومات الموالية (باوداي). • رفض قرارات مؤتمر جنيف 1954 من طرف الو.م.أ. • إنشاء حلف جنوب شرق آسيا 1954. • التدخل العسكري الأمريكي في الفيتنام في إطار سياسة ملء الفراغ 1964. <p>ملاحظة: الأخذ بعين الاعتبار ثلاث إجابات صحيحة في هذا السؤال.</p> <p>الخاتمة: رغم تشبث القوى الاستعمارية بمصالحها إلا أن إرادة الشعوب أقوى ولا تقهر.</p> |
| | 0.50 | <p>الجغرافيا:</p> <p>الجزء الأول:</p> <p>1- شرح ما تحته خط:</p> <ul style="list-style-type: none"> • الرأسمالية: هي نظام اقتصادي يعتمد على الملكية الفردية لوسائل الإنتاج والمنافسة والحرية الاقتصادية (قانون السوق). • الانتعاش الاقتصادي: الانتقال من وضعية الركود والانكماش الاقتصادي إلى وضعية النمو الإيجابي. • الأسهم: قيم مالية تمثل حصص المستثمرين في رأسمال شركة مساهمة يتعرض مالكوها للربح والخسارة والمساهمة في التسيير. <p>2- أ- الرسم البياني:</p> <ul style="list-style-type: none"> • الإنجاز. • العنوان. • المفتاح. • المقياس. <p>2- ب- التعليق على الرسم:</p> <p>نلاحظ من خلال الرسم البياني الخاص بتطور التجارة الخارجية للجزائر ما بين 2005-2014 ما يلي:</p> <ul style="list-style-type: none"> • تذبذب قيم الصادرات والواردات بحكم الأسواق العالمية وقيمة الدولار. • التطور الإيجابي بين 2005-2008. • تراجع قيمة الصادرات سنة 2009 بـ 34 مليار دولار بسبب الأزمة المالية العالمية. • تفوق قيم الصادرات على قيم الواردات (فائض الميزان التجاري). |
| 06 | 2×0.5 | |
| | 0.25 | |
| | 0.25 | |
| | 0.25 | |

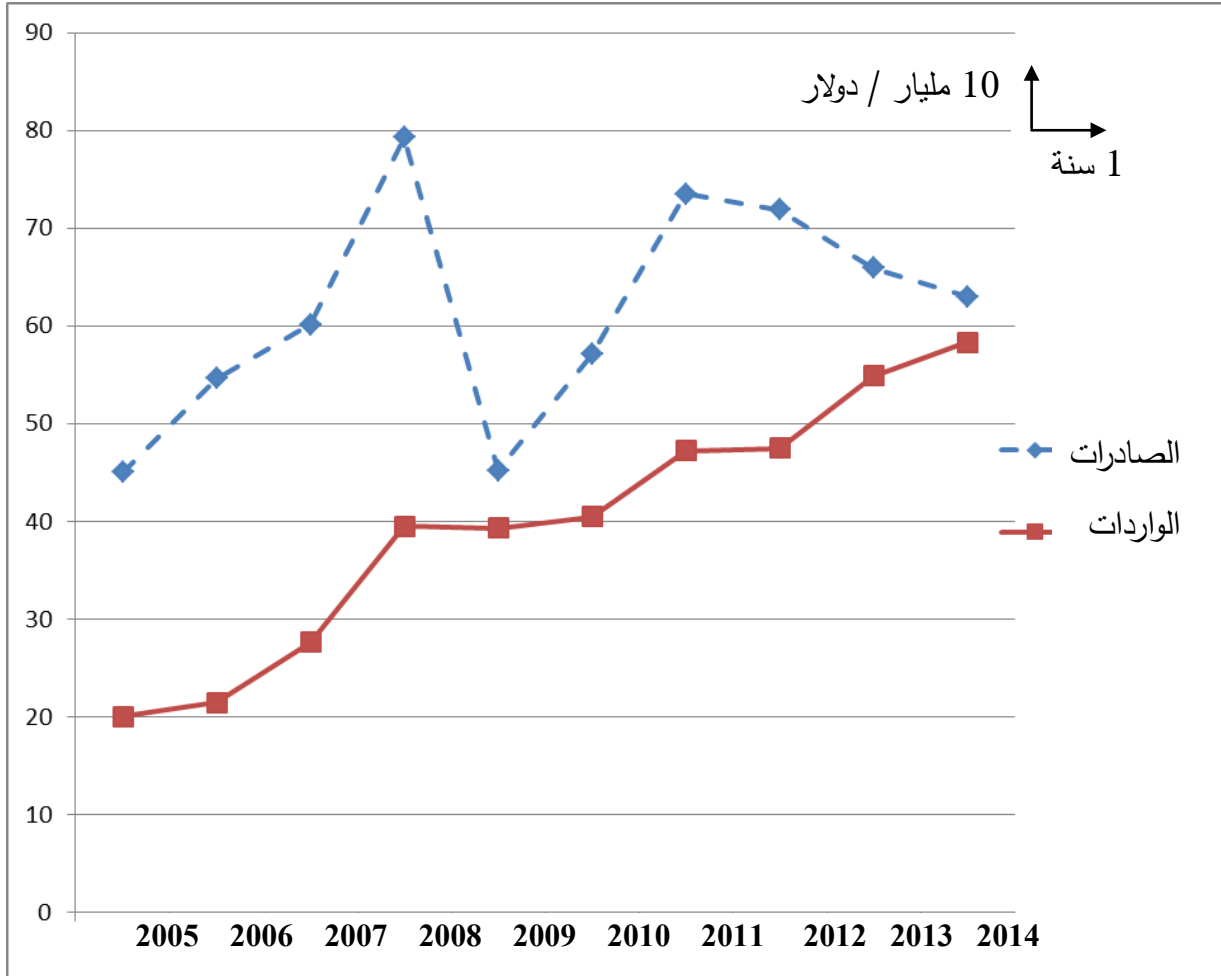
| العلامة | | عناصر الإجابة (الموضوع الأول) |
|---------|--------|---------------------------------------------------------------------------------------------------------------------------------------------------------------------------------------------------------------------------------------------------------------------------------------------------------------------------------------------------------------------------------------------------------------------------------------------------------------------------------------------------------------------------------------------------------------------|
| مجموع | مجزأة | |
| 04 | 0.50 | <p>الجزء الثاني:</p> <p>المقدمة: تجارة البترول بين تضارب المصالح وإستراتيجية المادة.</p> <p>1- العوامل المتحكمة في تجارة البترول:</p> <ul style="list-style-type: none"> - قانون العرض والطلب (تشبع السوق). - الأزمات السياسية والاقتصادية (العراق، ليبيا، سوريا ونيجيريا). - الاحتكارات (الشركات متعددة الجنسيات والوكالة الدولية للطاقة). - المضاربة في الأسواق. - انضباط وعدم انضباط الدول المنتجة (الأوبك) بحصصها. - تقلبات أسعار الدولار. |
| | 6×0.25 | <p>2- أثر انخفاض أسعار البترول على العلاقات الدولية:</p> <ul style="list-style-type: none"> - الضغوطات الداخلية والخارجية على الدول المصدرة للبترول. - تراجع الاستثمارات في مجال التنقيب والاستخراج. - فرض إجراءات اقتصادية صارمة في حق الدول المصدرة من طرف صندوق النقد الدولي (التقشف والترشيد). - الاضطرابات السياسية والمهنية. - احتدام الصراع بين الشركات الاحتكارية والدول المنتجة المصدرة حول نسب الفوائد والاستثمار. - الخلافات والصراعات داخل منظمة الأوبك، وبينها وباقي الدول المصدرة. |
| | 6×0.25 | <p>الخاتمة: البترول ثروة امتلكتها الشعوب وتحكمت فيها الشركات الاحتكارية.</p> |
| | 0.50 | <p>ملاحظة: تقبل كل الإجابات الصحيحة الأخرى.</p> |

الإجابة النموذجية لموضوع امتحان البكالوريا دورة: 2016

اختبار مادة: التاريخ والجغرافيا الشعبة: علوم تجريبية، رياضيات، تقني رياضي المدة: 03 سا و30د

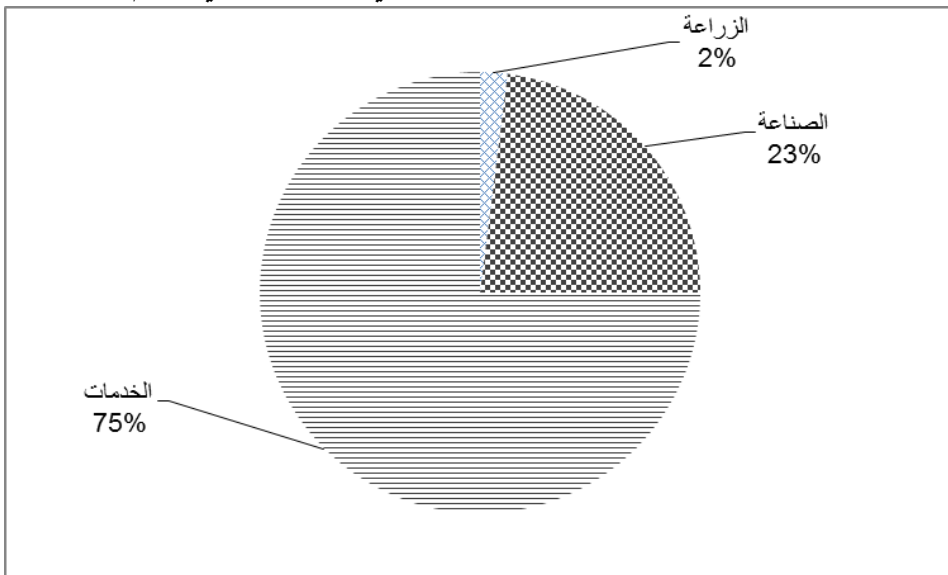
| | | |
|---------|-------|-------------------------------|
| العلامة | | عناصر الإجابة (الموضوع الأول) |
| مجموع | مجزأة | |

تطور التجارة الخارجية للجزائر ما بين 2005-2014



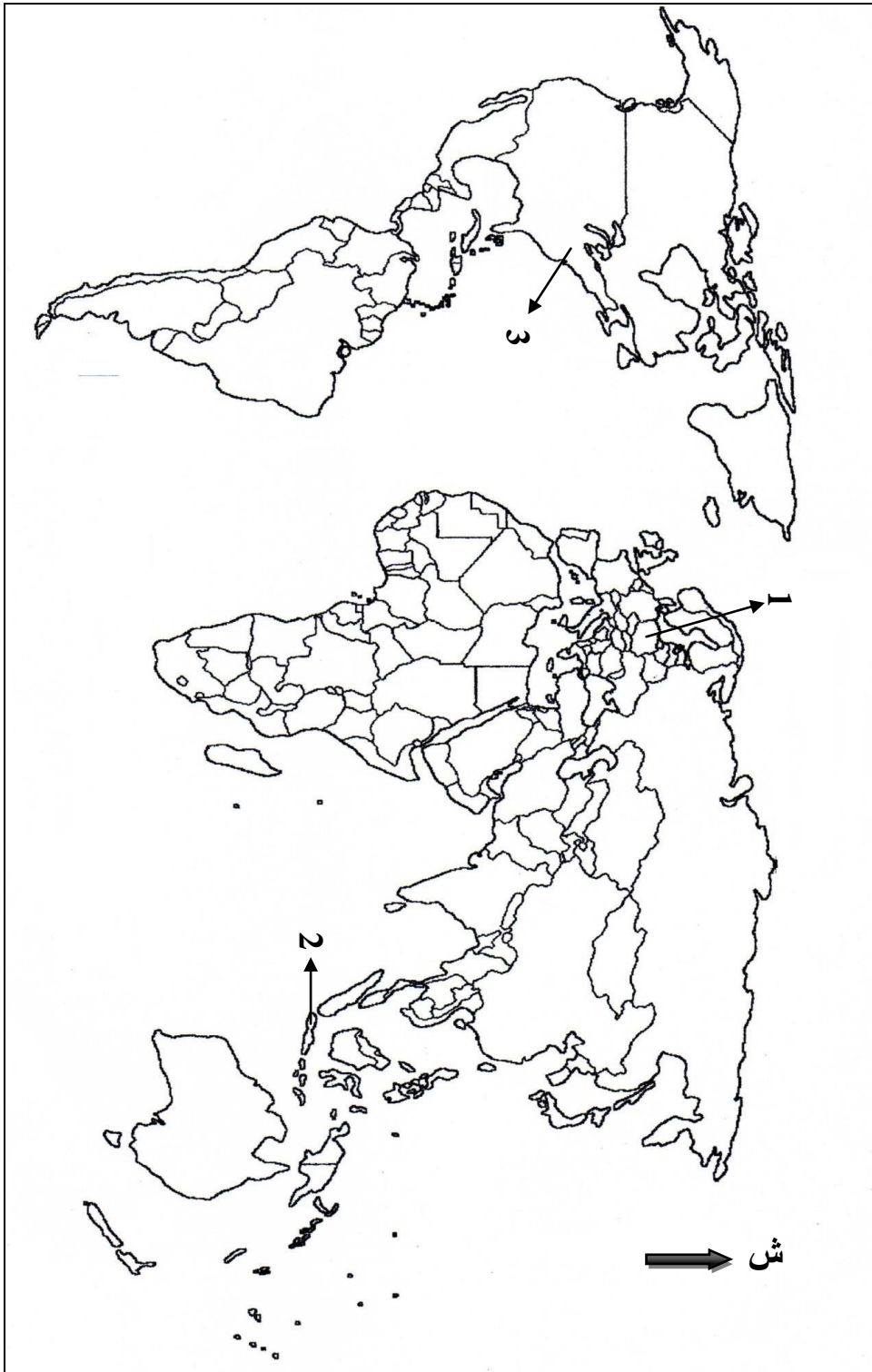
| العلامة | | عناصر الإجابة (الموضوع الثاني) |
|---------|-------|--------------------------------------------------------------------------------------------------------------------------------------------------------------------------------------------------------------------------------------------------------------------------------------------------------------------------------------------------------------------------------------------------------------------------------------------------------------------------------------------------------------------------------------------------------------------------------------------------------------------------------------------------------------------------------------------------------------------------------------------------------------------------------------------------------------------------------------------------------------------------------------------------------------------------------------------------------------------------------------------------------------------------------------------------------------------------------------------------------------------------------------------------------------------------------------------------------------------------------------------------------------------------------------------------------------------------------------------------------------------------------------------------------------------------------------------------------------------------------------------------------|
| مجموع | مجزأة | |
| 06 | | <p>التاريخ: الجزء الأول:</p> <p>1- شرح ما تحته خط:</p> <p>- توازن الرعب النووي: يقصد به التكافؤ في ميزان القوة النووية بين الاتحاد السوفياتي والولايات المتحدة الأمريكية واقتناع الطرفين بخطورة المواجهة العسكرية المباشرة.</p> <p>- العماقين: يقصد بهما القوتين العظميين (الولايات المتحدة والاتحاد السوفياتي) المتصارعتين في إطار الحرب الباردة.</p> <p>- التعايش السلمي: سياسية جديدة في العلاقات الدولية تؤمن بتعدد الايديولوجيات في المجتمع الدولي، أساسها التفاهم والتقارب بين الكتلتين، وقد تبناها رئيس الاتحاد السوفياتي نيكيتا خروتشوف سنة 1956.</p> <p>2- التعريف بالشخصيات :</p> <p>- هوشي منه (1890 - 1969): مؤسس الحزب الشيوعي الفيتنامي ثم (الفيت منه) قاد حربا ناجحة ضد الوجود الفرنسي (1946-1954) ثم ضد الحكومة العميلة والو.م.أ في الجنوب منذ 1960، مؤسس حكومة الفيتنام الشمالي في هانوي.</p> <p>- نيكيتا خروتشوف (1894-1971): حكم الاتحاد السوفياتي من 1953 إلى 1964، الأمين العام للحزب الشيوعي السوفييتي، صاحب فكرة التعايش السلمي، عرف عهده بحدوث عدة أزمات منها أزمة صواريخ كوبا.</p> <p>- محمد بوضياف (1919-1992): عضو حزب الشعب الجزائري، حركة الانتصار للحريات الديمقراطية، مسؤول في المنظمة الخاصة وعضو مجموعة الاثني والعشرين، من الأعضاء الست المفجرين للثورة اعتقل في حادث اختطاف الطائرة 56/10/22 لغاية وقف إطلاق النار، رئيس المجلس الأعلى للدولة جانفي 1992 إلى أن تم اغتياله بعنابة في جوان 1992.</p> <p>3- التوقيع على الخريطة :</p> <p>- الإنجاز</p> <p>- المفتاح</p> <p>- العنوان</p> |
| | 0.75 | |
| | 0.75 | |
| | 0.75 | |
| | 0.75 | |
| | 0.75 | |
| | 0.75 | |
| | 0.75 | |
| | 0.25 | |
| | 0.50 | |

| العلامة | | عناصر الإجابة (الموضوع الثاني) |
|---------|--------|-----------------------------------------------------------------------------------------------------------------------------------------------------------------------------------------------------------------------------------------------------------------------------------------------------------------------------------------------------------------------------------------------------------------------------------------------------------------|
| مجموع | مجزأة | |
| 04 | 0.50 | <p>الجزء الثاني:</p> <p>المقدمة:</p> <p>الثورة التحريرية بين التقييم والحاجة الماسة للتنظيم لضمان استمراريتها وإنجاحها.</p> <p>1- أسباب اختيار منطقة الصومام:</p> <p>- منطقة وسط بين المناطق الثورية.</p> <p>- منطقة مؤمنة طبيعيا.</p> <p>- تكذيب إدعاءات فرنسا أن منطقة القبائل تحت سيطرتها.</p> |
| | 3×0.5 | <p>2- التنظيمات السياسية والعسكرية المنبثقة عن مؤتمر الصومام:</p> <p>أ - السياسية:</p> <p>- تأسيس المجلس الوطني للثورة (34 عضو).</p> <p>- إنشاء لجنة التنسيق والتنفيذ.</p> <p>- تقسيم الجزائر إلى 06 ولايات.</p> |
| | 3×0.25 | <p>ب - العسكرية:</p> <p>- إنشاء مصالح تابعة لجيش التحرير الوطني (صحية، اجتماعية، دعائية).</p> <p>- هيكله جيش التحرير الوطني (مسؤوليات، تقسيم، رتب).</p> <p>- إنشاء قيادتين للعمليات العسكرية على الحدود الشرقية والغربية.</p> <p>- تقسيم البلاد إلى ولايات حربية.</p> |
| | 3×0.25 | <p>الخاتمة:</p> <p>استراتيجية الثورة بعد مؤتمر الصومام أفشلت كل المخططات الاستعمارية الفرنسية وأجبرتها على البحث عن مخرج مشرف.</p> |
| | 0.50 | |
| | | <p>الجغرافيا:</p> <p>الجزء الأول:</p> <p>1 - شرح ما تحته خط:</p> <p>الشركات متعددة الجنسيات: شركات عملاقة ذات رؤوس أموال ضخمة وإمكانيات تكنولوجية هائلة، لها فروع في مختلف أنحاء العالم متعددة الوظائف والجنسيات، تسيطر على الأسواق العالمية ويتعدى نشاطها المجال الاقتصادي.</p> <p>الثالوث الاقتصادي: هو الاقطاب الاقتصادية المتحكمة في الاقتصاد العالمي وتتمثل في الو.م.أ والاتحاد الأوروبي والقطب الآسيوي (دول شرق وجنوب شرق آسيا).</p> |
| | 0.75 | |
| | 0.75 | |

| العلامة | | عناصر الإجابة (الموضوع الثاني) |
|---------|-------|-------------------------------------------------------------------------------------------------------------------------------------------------------------------------------------------------------------------------------------------------------------------------------------------------------------------------------------------------------------------------------------------------------------------------------------------------|
| مجموع | مجزأة | |
| | 0.75 | <p>الدول المتخلفة: تسمية تطلق على الدول المستقلة حديثا من إفريقيا وآسيا وأمريكا اللاتينية والتي تعاني من التخلف الاقتصادي والتأخر الاجتماعي والثقافي وضعف التحكم في التكنولوجيا.</p> <p>2- أ- التمثيل البياني:</p> <p>نسب مساهمة القطاعات الاقتصادية في الدخل الوطني الخام</p>  <p>الزراعة 2%</p> <p>الصناعة 23%</p> <p>الخدمات 75%</p> |
| 06 | 0.50 | <p>- تحويل النسب إلى درجات:</p> $\left\{ \begin{array}{l} 100\% \leftarrow 360^\circ \\ 1\% \leftarrow \text{س} \end{array} \right.$ <p>ومنه: $\text{س} = \frac{360 \times 1}{100} = 3,6^\circ$</p> <p>الزراعة: $7,2^\circ = 3,6 \times 2$</p> <p>الصناعة: $82,8^\circ = 3,6 \times 23$</p> <p>الخدمات: $270^\circ = 3,6 \times 75$</p> |
| | 0.75 | - الإنجاز |
| | 0.25 | - العنوان |
| | 0.25 | - المفتاح |
| | | 2- ب- التعليق على الرسم: |
| | | نلاحظ من خلال الرسم البياني الخاص بنسب مساهمة القطاعات الاقتصادية في الدخل الوطني الخام ما يلي: |
| | 0.50 | - التباين الكبير في نسب مساهمة القطاعات الثلاثة. |
| | 0.50 | - تسجيل القطاع الزراعي لأدنى مساهمة 02 %. |
| | 0.50 | - قوة مساهمة القطاع الخدماتي 75 %. |
| | 0.50 | - تواضع نسبة مساهمة القطاع الصناعي. |

| العلامة | | عناصر الإجابة (الموضوع الثاني) |
|---------|--------|---------------------------------------------------------------------------------------------------------------------------------------------------------------------------------------------------------------------------------------------------------------|
| مجموع | مجزأة | |
| 04 | 0.50 | الجزء الثاني: المقدمة: القمح بين القيمة الغذائية والأهمية الاستراتيجية في المبادلات التجارية العالمية . |
| | 6×0.25 | 1 - أهمية القمح: - الغذاء الأساسي لمعظم سكان العالم. - توفير مناصب الشغل. - ضخامة العائدات المالية للدول المصدرة له. - مادة أولية للصناعات الغذائية. - مادة استراتيجية وأداة ضغط (السلح الأخضر). - القابلية للتخزين لمدة أطول. |
| | 3×0.5 | 2 - أثر احتكار الدول المصدرة لهذه المادة على العالم المتخلف : - تأثر الوضع السياسي والاجتماعي (الاضطرابات الاجتماعية - المجاعات - سوء التغذية) - التبعية الغذائية وتعاضم حجم الديون. - رهن الدول المستوردة لسيادتها و حرية قراراتها السياسية. |
| | 0.5 | الخاتمة: الأمن الغذائي مرهون بحسن استغلال الإمكانيات المتاحة وتفعيل التعاون الدولي. ملاحظة: تقبل كل الإجابات الصحيحة الأخرى. |

خريطة مقرات المنظمات والمؤتمرات الدولية



| المفتاح | | |
|--------------------|--------------|-----------|
| 3 | 2 | 1 |
| هيئة الأمم المتحدة | مؤتمر بانكوك | حلف وارسو |