

على المترشح أن يختار أحد الموضوعين التاليين:

الموضوع الأول

يحتوي الموضوع الأول على 03 صفحات:

- من الصفحة 1 من 6 إلى الصفحة 2 من 6.

- الصفحة 5 من 6 (خريطة العالم).

التاريخ:

الجزء الأول: (06 نقاط)

"... بدأت الولايات المتحدة تبني إستراتيجيتها على قاعدة حصار الاتحاد السوفييتي و الكتلة الشرقية وذلك ببناء جدار من الأحلاف العسكرية وتضمن مبدأ ترومان رسم سياسة جديدة للولايات المتحدة هدفها الوصول إلى الشرق الأوسط، ومنع وصول الاتحاد السوفييتي إلى المنطقة. واستكمال دائرة الحصار الذي بدأ من الغرب بتشكيل الحلف الأطلسي، ومن الشرق حلف جنوب شرقي آسيا، بإقامة حلف يضم دول المنطقة الهدف منه منع دولها من الاعتماد على الذات. ومع قيام الثورة في مصر، بدأ جدياً التفكير بالوقوف في وجه هذه الاندفاعية الوطنية بإقامة حلف يضم دول المنطقة أصبح يعرف فيما بعد بحلف بغداد الذي يرمي في النهاية إلى حماية إسرائيل....".

المرجع: حامد البني. صحيفة النور الالكترونية العدد 704 بتصرف 2015.

1- اشرح المصطلحات التي تحتها خط في النص.

2- على خريطة العالم المرفقة وقّع الدول التي تقع بها مقرات الأحلاف العسكرية الواردة في النص.

3- عرّف بالشخصيات التالية: جون كينيدي - هواري بومدين - جوزيف ستالين.

الجزء الثاني: (04 نقاط)

أدركت الثورة الجزائرية منذ اندلاعها بأنّ الإعلام يعد أحد الوسائل الرئيسية والأسلحة الفاعلة في مواجهة

الاستعمار إلى جانب قوة السلاح لربح المعركة بشكل يعطي للثورة الجزائرية حقها.

المطلوب: انطلاقاً من الفقرة واعتماداً على ما درست، اكتب مقالا تاريخيا تبين فيه:

1- مظاهر النشاط الإعلامي للثورة.

2- أثر هذا النشاط على تطور مسار الثورة.

**الجغرافيا:**

**الجزء الأول: (06 نقاط)**

"... شهدت الصين منذ الإصلاحات الموجهة نحو السوق في أواخر السبعينات مجموعة معقدة ومتشابكة من التغيرات من الاقتصاد الموجه إلى **اقتصاد السوق**؛ ومن الريفي إلى الحضري، ومن الزراعة إلى **الصناعة التحويلية** والخدمات، ومن أنشطة اقتصادية غير نظامية إلى أنشطة اقتصادية نظامية، ومن مجموعة مجزأة من الاقتصاديات القروية التي تتمتع بمستوى من **الاكتفاء الذاتي** إلى اقتصاد أكثر تكاملا ومن الاقتصاد المنعزل عن العالم إلى قوة تجارية دولية..."

**المرجع:** واقع ومستقبل التنمية في الجنوب - قراءة في تقرير التنمية البشرية 2013.

1- اشرح المصطلحات التي تحتها خط في النص.

2- إليك جدولاً للدول الخمس الأولى المصدرة والمستوردة للغاز الطبيعي في العالم سنة 2012.

الوحدة: مليون طن سنويا.

الدول المصدرة	الكمية بمليون طن	الدول المستوردة	الكمية بمليون طن
قطر	77.2	اليابان	87.8
ماليزيا	24.7	كوريا الجنوبية	40.9
استراليا	22.2	الصين	18.6
أندونيسيا	17	الهند	12.8
نيجيريا	16.9	اسبانيا	9.4

**المصدر:** الاتحاد العالمي للغاز، وكالة معلومات الطاقة الأمريكية و SHI 2013

**المطلوب:**

أ- مَثِّلْ معطيات الجدول بأعمدة بيانية بمقياس: 1 سم ← 5 مليون طن.

1 سم ← عمود.

ب- على خريطة العالم المرفقة وقِّع أسماء ثلاث دول مصدرة وثلاث دول مستوردة وارده في الجدول.

**الجزء الثاني: (04 نقاط)**

التكثف الاقتصادي أصبح سلوكاً عالمياً لمواجهة التحديات الراهنة والمستقبلية، والاتحاد الأوروبي نموذج حقيقي لهذا التوجه.

**المطلوب:** انطلاقاً من الفقرة واعتماداً على ما درست، اكتب مقالا جغرافيا تبين فيه:

1- دوافع تأسيس الاتحاد الأوروبي.

2- النتائج التي حققها هذا التكثف.

انتهى الموضوع الأول

## الموضوع الثاني

يحتوي الموضوع الثاني على 03 صفحات:

- من الصفحة 3 من 6 إلى الصفحة 4 من 6.

- الصفحة 6 من 6 (خريطة أوروبا).

التاريخ:

الجزء الأول: (06 نقاط)

"... الحرب الباردة هي حالة العداء والتوتر الشديد الذي عرفته العلاقات بين المعسكرين من 1947-1989، وظهر ذلك في وسائل الضغط كالحرب الإعلامية ... وتساعد أخطار سباق التسلح في سعي كلا القطبين نحو إقامة أحلاف وتكتلات عسكرية ... مع نهاية الثمانينات أخذت الاشتراكية في الانهيار بأوروبا الشرقية، وتفكك الاتحاد السوفيتي وبالتالي ظهرت بوادر النظام العالمي الجديد..."

المرجع: الصين القطبية القادمة .. قطبيات التاريخ/ هيثم البشلاوي.

1- اشرح ما تحته خط في النص.

2- عرّف بالشخصيات التالية: كريم بلقاسم - شارل ديغول - فيدال كاسترو.

3- أكمل جدول الأحداث التالي:

التاريخ	الحدث
.....	الحلف الأطلسي
17 أكتوبر 1961	.....
.....	تأميم قناة السويس

الجزء الثاني: (04 نقاط)

نهاية الحرب العالمية الثانية كانت بداية لصراع جديد بين المعسكرين لم يقتصر أثره عليهما فقط بل امتد إلى العالم الثالث.

المطلوب: انطلاقا من الفقرة واعتمادا على ما درست، اكتب مقالا تاريخيا تبين فيه:

1- أسباب الصراع بين المعسكرين.

2- الانعكاسات السلبية لهذا الصراع على العالم الثالث.



**الجغرافيا:**

**الجزء الأول: (06 نقاط)**

« تعمل الجزائر حاليا على تنويع صادراتها بما في ذلك منتجاتها النفطية من خلال (المكتب الجزائري لتشجيع التجارة الخارجية) وأعلن وزير التجارة الجزائري في 26/02/2005 أن الجزائر تأمل بالانضمام إلى منظمة التجارة العالمية قبل نهاية 2005، وقال أن الجزائر تخلت عن الاقتصاد الموجه وفتحت السوق للمنافسة وألغت السعر الأدنى للتصدير...».

1- اشرح ما تحته خط في النص.

2- إليك جدولا يمثل نسب البطالة في دول الاتحاد الأوروبي الأكثر تقدما سنة 2013

الدول	ألمانيا	فرنسا	بريطانيا	ايطاليا	منطقة اليورو	الاتحاد الأوروبي
النسب %	5.2	10.3	7.2	10.7	12.00	10.8

المصدر: الموسوعة الحرة " البطالة في الاتحاد الأوروبي سنة 2014

**المطلوب:**

أ- علق على الجدول.

ب- على خريطة أوروبا المرفقة، وقع الدول المؤسسة للاتحاد الأوربي الواردة في الجدول.

**الجزء الثاني: ( 04 نقاط )**

رغم أن تخلف العالم الثالث تقف وراءه الكثير من العوامل الداخلية المرتبطة بسوء استغلال الامكانيات المتاحة، إلا أن مسؤولية العالم المتقدم في تعميق هذا الوضع مؤكدة.

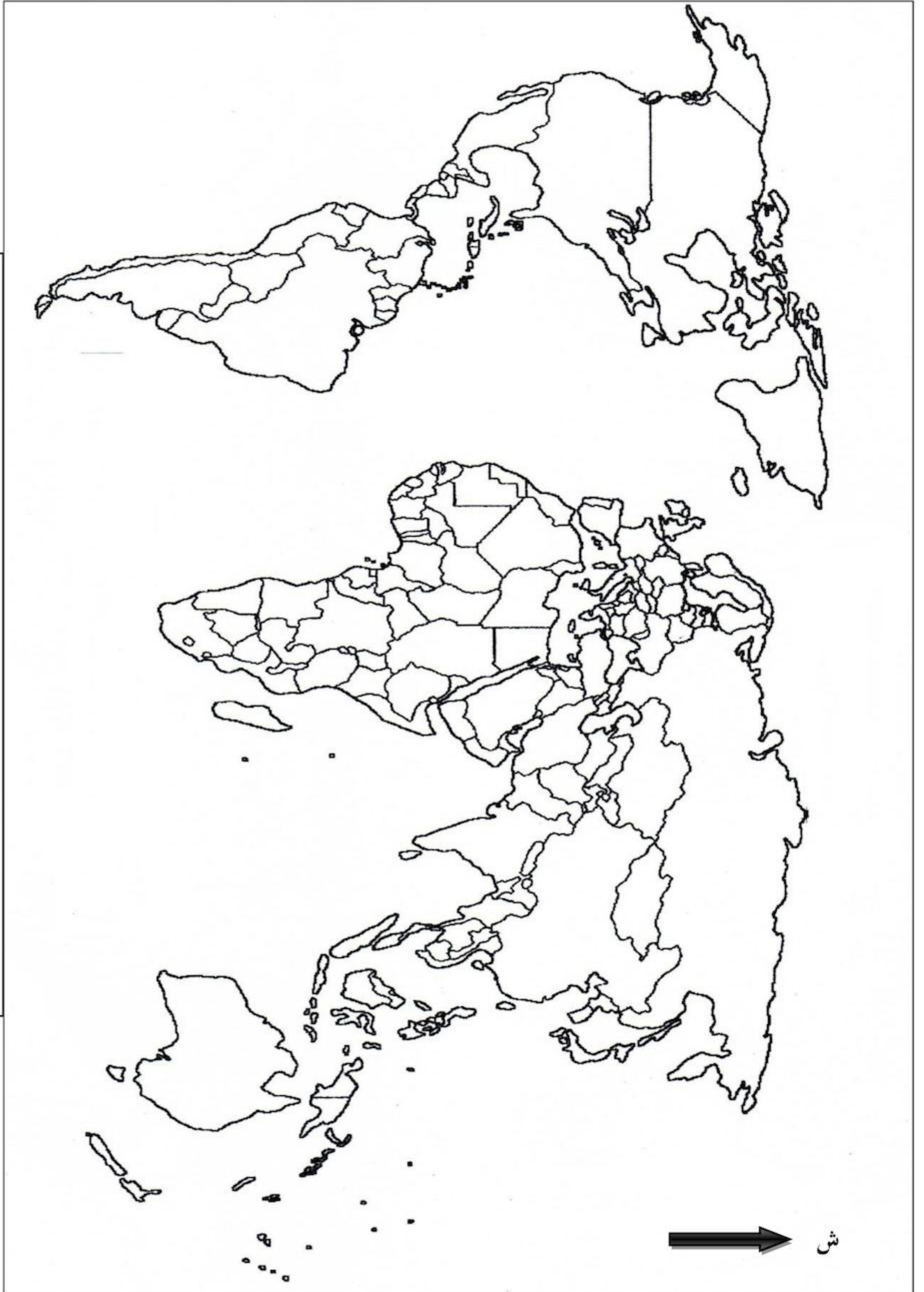
المطلوب: انطلاقا من العبارة، واعتمادا على ما درست، اكتب مقالا جغرافيا تبين فيه:

1- مظاهر تخلف العالم الثالث.

2- مسؤولية العالم المتقدم في تخلف العالم الثالث.

انتهى الموضوع الثاني

خريطة العالم (ملحق خاص بالموضوع الأول)



ينجز العمل المطلوب على الخريطة وتعاد مع أوراق الإجابة



خريطة أوروبا (ملحق خاص بالموضوع الثاني)



ينجز العمل المطلوب على الخريطة وتعاد مع أوراق الإجابة

العلامة		عناصر الإجابة ( الموضوع الأول )
مجموع	مجزأة	
06		<u>التاريخ</u>
		<u>الجزء الأول :</u>
		1- <u>شرح المصطلحات :</u>
	0.75	• <u>الكتلة الشرقية :</u> مجموعة الدول التي تبنت النظام الاشتراكي السائدة في فلك الاتحاد السوفياتي ( المعسكر الشرقي ) سياسيا اقتصاديا وعسكريا تقع شرق خط 11 شرقا.
	0.75	• <u>الأحلاف العسكرية :</u> تكتلات ذات طابع عسكري ، أنشئت بموجب معاهدات ثنائية أو جماعية بغرض الدفاع المشترك ، أفرزها الصراع القائم بين المعسكرين ما بين 49-55.
	0.75	2- <u>ميدا ترومان :</u> مشروع جاء به الرئيس الأمريكي هاري ترومان 12/03/1947 تضمن مجموعة من المساعدات العسكرية والاقتصادية لكل من تركيا واليونان يهدف إلى تحقيق التوغل الأمريكي في أوروبا ووضع حد للمد الشيوعي .
		3- <u>التوقيع على الخريطة:</u>
	01	• الإنجاز.
	0.25	• العنوان .
	0.25	• المفتاح.
		3- <u>التعريف بالشخصيات :</u>
	0.75	• <u>جون كينيدي:</u> رئيس و.م ا(1961-1963) عرف بمناهضة سياسة التمييز العنصري ضد السود.
	0.75	• <u>هواري بومدين:</u> مناضل ، قائد الأركان للثورة 1960 ، وزير الدفاع بعد الاستقلال ، رئيسا للجزائر (1965- 1978 ) .
	0.75	• <u>جوزيف ستالين :</u> رئيس الاتحاد السوفياتي 1924-1953 عرف بمواقفه المعادية للغرب.
	<u>الجزء الثاني:</u>	
0.50	<u>المقدمة :</u> الثورة الجزائرية بين التنوع في أساليب المواجهة واستمرار التعنت الفرنسي.	
	1- <u>مظاهر النشاط الإعلامي للثورة :</u>	
0.25	• البيانات والبلاغات ( نداء أول نوفمبر ، بيانات المجلس الوطني للثورة والحكومة المؤقتة ... ) .	
0.25	• الصحف والنشريات (المقاومة ، المجاهد...الخ).	
0.25	• الوفود: رياضية ، نقابية ، ثقافية دبلوماسية.	

الإجابة النموذجية لموضوع امتحان البكالوريا دورة: 2016

اختبار مادة: التاريخ والجغرافيا الشعبة: علوم تجريبية، رياضيات، تقني رياضي المدة: 03 سا و30د

العلامة		عناصر الإجابة ( الموضوع الأول )
مجموع	مجزأة	
04	0.25	• استحداث وزارة الإعلام في الحكومة المؤقتة.
	0.25	• البث الإذاعي (صوت العرب، الجزائر المكافحة، الجزائر الحرة...).
	0.25	• إقرار مؤتمر الصومام الحرب النفسية والإعلامية.
		2- <u>اثر هذا النشاط على تطور مسار الثورة:</u>
	0.50	• تعبئة الرأي العام الداخلي والتفافه حول الثورة.
	0.50	• تنفيذ الادعاءات الفرنسية ومحاولات التشويه .
	0.50	• التعريف بالقضية الجزائرية وإبراز عدالتها للرأي العام العالمي .
	0.50	- <u>الخاتمة:</u> النشاط الإعلامي للثورة وقف ندا للند في وجه الإدعاءات الفرنسية وتشويه الثورة.
		<u>جغرافيا :</u>
		<u>الجزء الأول:</u>
		1- <u>شرح المصطلحات:</u>
06	0.75	• اقتصاد السوق: اقتصاد حر يعتمد على قانون العرض والطلب (الحرية الاقتصادية).
	0.75	• الصناعة التحويلية: صناعة أساسية تعتمد على تحويل المواد الخام إلى منتجات مصنعة أو نصف مصنعة.
	0.75	• الاكتفاء الذاتي: قدرة الدولة على توفير حاجيات سكانها اعتمادا على الإمكانيات المحلية
		2- <u>الرسم البياني والخريطة :</u>
		أ- الرسم البياني:
	1.50	• الإنجاز.
	0.25	• العنوان .
	0.25	• المفتاح.
	0.25	• المقياس.
		ب - الخريطة:
	01	• الإنجاز.
	0.25	• العنوان .
	0.25	• المفتاح.



الإجابة النموذجية لموضوع امتحان البكالوريا دورة: 2016

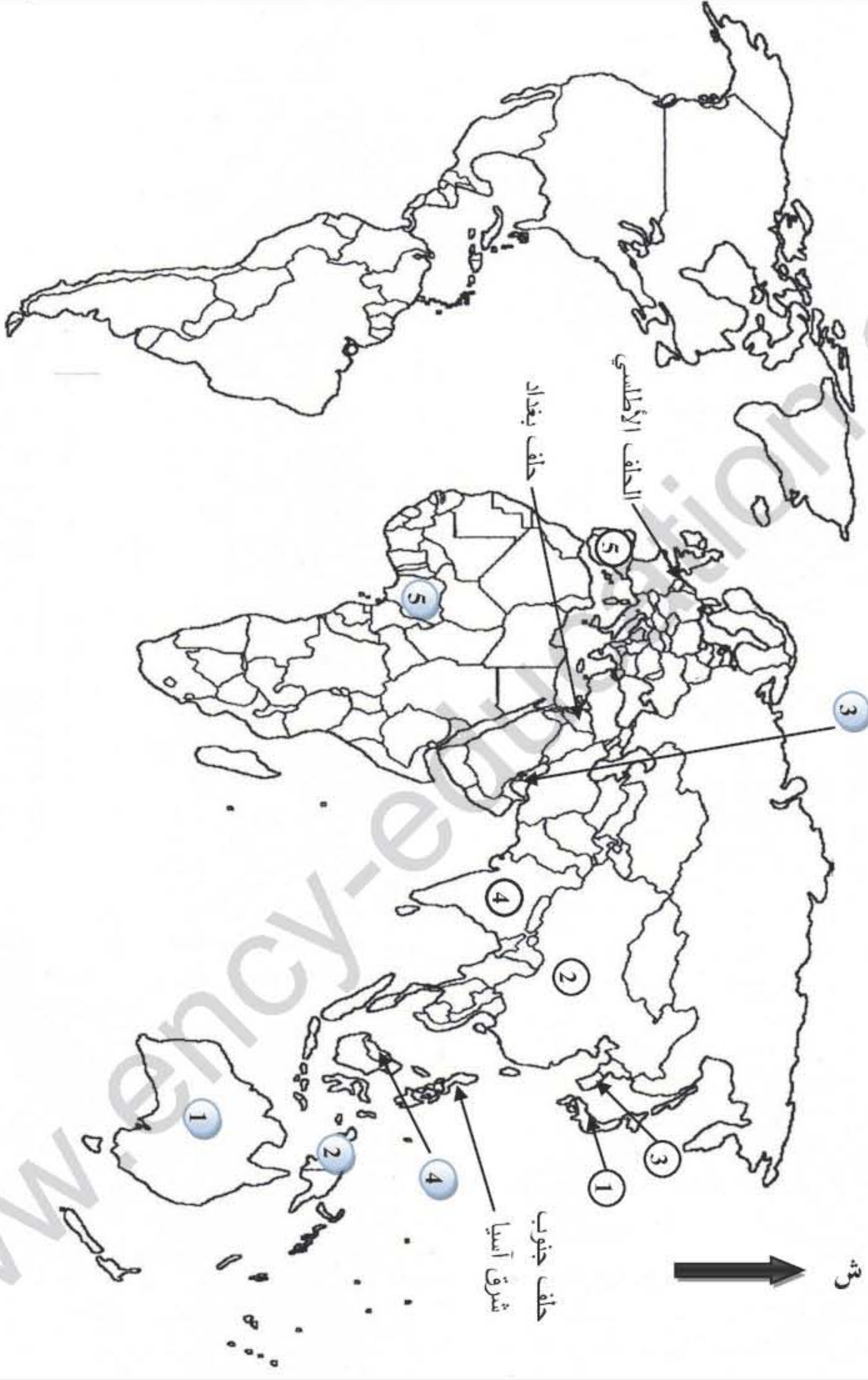
اختبار مادة: التاريخ والجغرافيا الشعبة: علوم تجريبية، رياضيات، تقني رياضي المدة: 03 سا و30د

العلامة		عناصر الإجابة ( الموضوع الأول )
مجموع	مجزأة	
		<b>الجزء الثاني:</b>
	0.50	<b>المقدمة:</b> اقتنع الأوروبيون أن مواجهة تداعيات الحرب العالمية الثانية لا يكون بشكل منفرد (تقبل أية مقدمة وظيفية).
04	0.50	<b>1- دوافع تأسيس الاتحاد الأوروبي:</b>
	0.50	• تجاوز آثار الحرب العالمية الثانية ومحو الأحقاد التاريخية.
	0.50	• محاولة استعاد مكانتها الدولية.
	0.50	• تحقيق النهضة الاقتصادية والاجتماعية.
		<b>2- النتائج التي حققها هذا التكتل:</b>
	0.25	• التخلص من الهيمنة الأمريكية.
	X	• قطب فعال في العلاقات الدولية.
	6	• التفوق الاقتصادي ( تساهم بثلاث المبادلات التجارية العالمية).
	• القوة المالية (قوة الأورو ، البورصات ، البنوك ....).	
	• الرفاهية الاجتماعية ( ارتفاع الدخل الفردي ).	
	• تحقيق حلم أوروبا الموحدة.	
	0.50	<b>الخاتمة:</b> الاتحاد الأوروبي أثبت فعاليته ونجاحه ( أو أي خاتمة وظيفية).

الإجابة النموذجية لموضوع امتحان البكالوريا دورة: 2016

اختبار مادة: التاريخ والجغرافيا الشعبة: علوم تجريبية، رياضيات، تقني رياضي المدة: 03 سا و30د

العلامة		عناصر الإجابة ( الموضوع الأول )
مجزأة	مجموع	



الدول المصدرة:

- 1 أستراليا
- 2 أندونيسيا
- 3 قطر
- 4 ماليزيا
- 5 نيجيريا

الدول المستوردة:

- 1 اليابان
- 2 الصين
- 3 كوريا الجنوبية
- 4 الهند
- 5 إسبانيا

دول مصدرة ودول مستوردة للغاز الطبيعي (يختار المترشح ثلاث مصدرة وثلاث مستوردة)

مقرات الأحلاف العسكرية



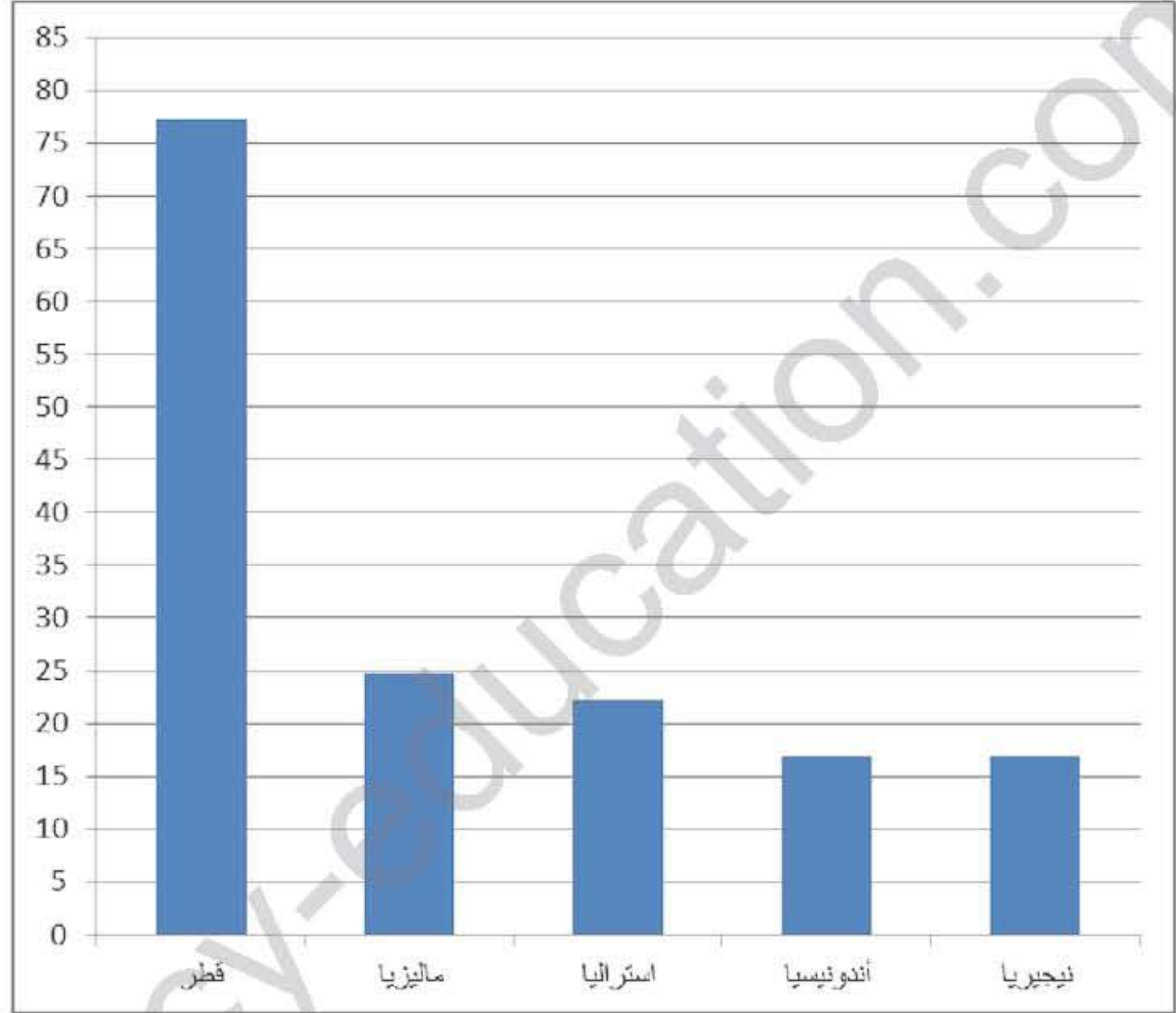
الإجابة النموذجية لموضوع امتحان البكالوريا دورة: 2016

اختبار مادة: التاريخ والجغرافيا الشعبة: علوم تجريبية، رياضيات، تقني رياضي المدة: 03 سا و30د

العلامة	
مجزأة	مجموع

عناصر الإجابة ( الموضوع الأول )

الدول الخمس الأولى المصدرة للغاز الطبيعي في العالم سنة 2012



المقياس:

1 سم ← 5 مليون طن

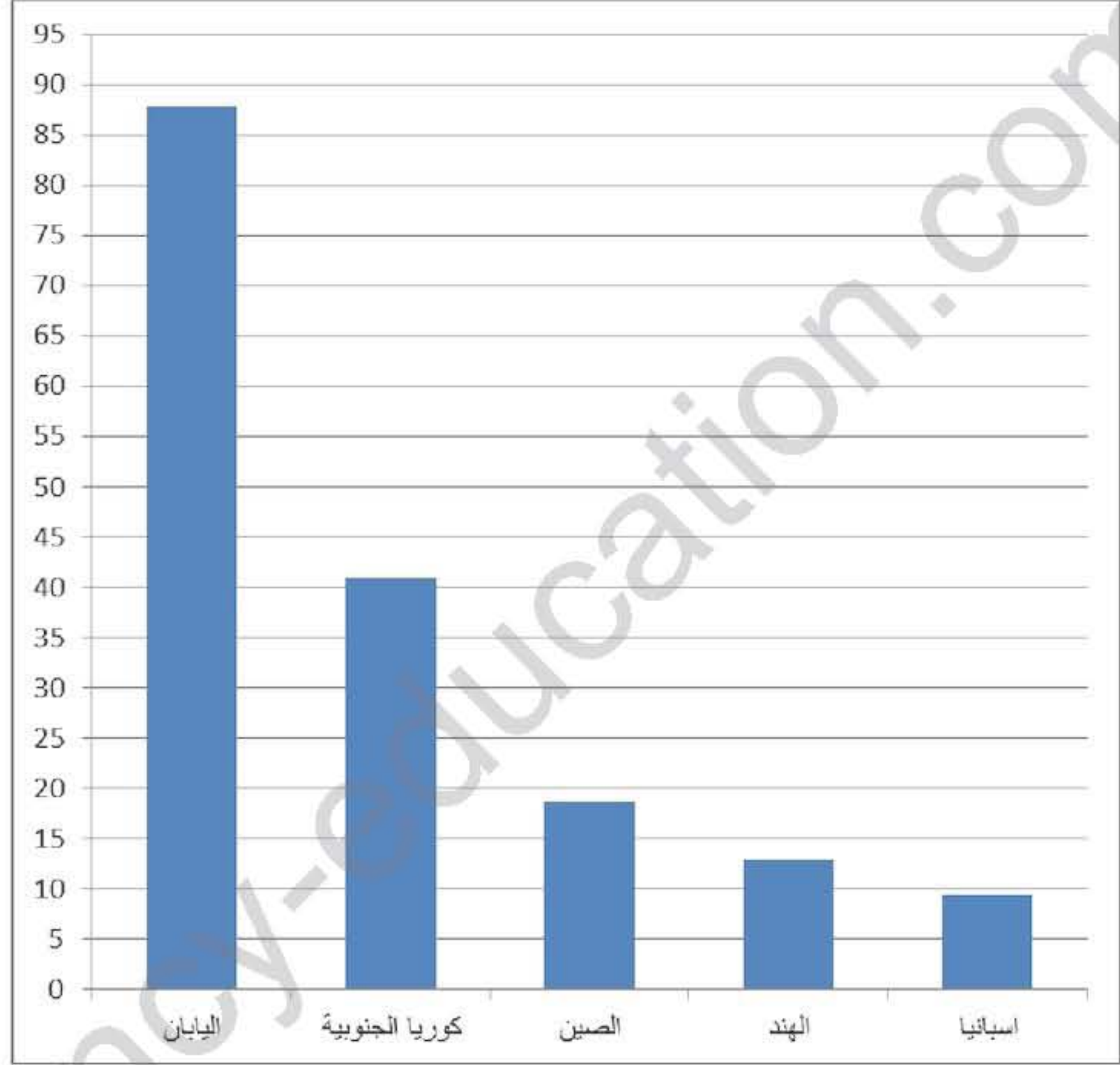
1 سم ← عمود

الإجابة النموذجية لموضوع امتحان البكالوريا دورة: 2016

اختبار مادة: التاريخ والجغرافيا الشعبة: علوم تجريبية، رياضيات، تقني رياضي المدة: 03 سا و30د

العلامة	عناصر الإجابة ( الموضوع الأول )
مجموع	

الدول الخمس الأولى المستوردة للغاز الطبيعي في العالم سنة 2012



المقياس:

1 سم ← 5 مليون طن

1 سم ← عمود



العلامة		عناصر الإجابة (الموضوع الثاني)								
مجموع	مجزأة									
		<b>التاريخ</b>								
		<b>الجزء الأول:</b>								
		<b>1- شرح المصطلحات :</b>								
	0.75	• الحرب الإعلامية : (الدعاية المغرضة)، مختلف الوسائل السمعية البصرية والمكتوبة تستعمل كأداة للمواجهة من قبل الكتلتين.								
	0.75	• النظام العالمي الجديد: مفهوم برز بعد لقاء مالطا 1989 وانهيار المعسكر الشيوعي، طرح أمريكي يقوم على أساس توسيع مفهوم العولمة والليبرالية وفرض منطق الهيمنة الأمريكية على العالم.								
	0.75	• سباق التسلح : التنافس الحاد بين المعسكرين الشرقي والغربي لامتلاك أكبر ترسانة عسكرية بهدف الحماية والتهديد ضمن الحرب الباردة.								
		<b>2- التعريف بالشخصيات :</b>								
06	0.75	• كريم بلقاسم : مناضل في حركة الانتصار للحريات الديمقراطية ،من مفجري الثورة، قائد الولاية الثالثة، عضو في لجنة التنسيق و التنفيذ، رئيس الوفد المفاوض في إيفيان.								
	0.75	• شارل ديغول : جنرال فرنسي قاد المقاومة ضد ألمانيا (1940-1945) رئيس الجمهورية الفرنسية الخامسة، عرف بمناوراته ومشاريعه للحفاظ على الجزائر فرنسية.								
	0.75	• فيدال كاسترو : قائد الثورة الكوبية ، رئيسها 1959 تميزت فترته بأزمة الصواريخ الكوبية 1962.								
		<b>3- جدول الأحداث المعلمية :</b>								
	0.50	<table border="1" style="width: 100%; text-align: center;"> <thead> <tr> <th>التاريخ</th> <th>الحدث</th> </tr> </thead> <tbody> <tr> <td>1949/04/04</td> <td>حلف الشمال الأطلسي</td> </tr> <tr> <td>1961/10/17</td> <td>مظاهرات الجالية الجزائرية في فرنسا</td> </tr> <tr> <td>1956/07/26</td> <td>تأميم قناة السويس</td> </tr> </tbody> </table>	التاريخ	الحدث	1949/04/04	حلف الشمال الأطلسي	1961/10/17	مظاهرات الجالية الجزائرية في فرنسا	1956/07/26	تأميم قناة السويس
التاريخ	الحدث									
1949/04/04	حلف الشمال الأطلسي									
1961/10/17	مظاهرات الجالية الجزائرية في فرنسا									
1956/07/26	تأميم قناة السويس									
	0.50	0.50								
		<b>الجزء الثاني :</b>								
	0.50	المقدمة : عرف العالم بعد الحرب العالمية الثانية صراعا كان العالم الثالث مسرحا له								
		<b>1- أسباب الصراع بين المعسكرين :</b>								
	0.50	• الاختلاف الإيديولوجي بين المعسكرين .								
	0.50	• زوال مبررات التحالف بعد نهاية الحرب العالمية الثانية .								

الإجابة النموذجية لموضوع امتحان البكالوريا دورة: 2016

اختبار مادة: التاريخ والجغرافيا الشعبة: علوم تجريبية، رياضيات، تقني رياضي المدة: 03 سا و30د

العلامة		عناصر الإجابة (الموضوع الثاني)
مجموع	مجزأة	
04	0.25	• انتشار الشيوعية خارج أوروبا .
	0.25	• تصادم المصالح بين الطرفين .
	0.50	<b>2- الانعكاسات السلبية لهذا الصراع على العالم الثالث :</b>
	0.25	• تحول العالم الثالث إلى بؤر توتر (السويس ، كوريا ...).
	0.25	• الخسائر المادية والبشرية .
	0.50	• تجزئة الوحدات السياسية للدول (كوريا، الفيتنام .....).
06	0.50	• الهيمنة العسكرية والاقتصادية ( حلف بغداد ، مشروع إيزنهاور ) .
	0.50	<b>الخاتمة:</b> تبني دول العالم الثالث لسياسة الحياد الايجابي لمواجهة هذا الاستقطاب الحاد كان ضرورة ملحة ( تقبل أية خاتمة وظيفية ) .
	0.50	<b>الجغرافيا :</b>
	0.50	<b>1- شرح المصطلحات :</b>
	0.75	• تنويع الصادرات : سياسة اقتصادية تقوم على تنويع الدولة لمصادر دخلها .
	0.75	• منظمة التجارة العالمية : منظمة دولية تأسست بمراكش 1994 بدأت نشاطها عام 1995 مقرها جنيف هدفها تنظيم المبادلات التجارية .
06	0.75	• الاقتصاد الموجه: الاقتصاد الذي توجهه الدولة عن طريق المخططات الاقتصادية (الاقتصاد الاشتراكي) .
	0.50	<b>2- التعليق على الجدول والتوقيع على الخريطة :</b>
	0.50	<b>أ- التعليق على الجدول :</b>
	0.50	• ارتفاع نسبة البطالة في الاتحاد الأوروبي 10.8% وفي منطقة اليورو 12.00%.
	0.50	• التفاوت في نسبة البطالة في دول الاتحاد الأوروبي.
	0.50	• احتلال إيطاليا المرتبة الأولى 10.7% وفرنسا المرتبة الثانية ب 10.3% (هشاشة الاقتصاد الإيطالي والمهاجرين في فرنسا).
06	0.50	• أضعف نسبة سجلت في ألمانيا 5.2% (قوة الاقتصاد الألماني).
	1.50	<b>ب- التوقيع على الخريطة :</b>
	0.25	• الانجاز
	0.25	• العنوان
0.25	• المفتاح	



الإجابة النموذجية لموضوع امتحان البكالوريا دورة: 2016

اختبار مادة: التاريخ والجغرافيا الشعبة: علوم تجريبية، رياضيات، تقني رياضي المدة: 03 سا و30د

العلامة		عناصر الإجابة (الموضوع الثاني )
مجموع	مجزأة	
04		<b>الجزء الثاني :</b>
	0.50	مقدمة : تخلف العالم الثالث بين العوامل الذاتية وجور النظام الاقتصادي العالمي ( تقبل أية مقدمة وظيفية) .
		<b>1- مظاهر التخلف :</b>
	0.25	• -عدم الاستقرار السياسي ( حروب، نزاعات داخلية ....) .
	X	• التخلف التكنولوجي.
		• عدم تحقيق الاكتفاء الذاتي.
	6	• انخفاض الدخل الفردي والدخل القومي
		• ارتفاع المديونية.
		• الاعتماد على المورد الواحد كمصدر للدخل.
		<b>2- مسؤولية العالم المتقدم في تخلف العالم الثالث:</b>
0.25	• -احتكار التكنولوجيا وعدم التحويل الفعلي لها.	
0.50	• -التحكم في المؤسسات التجارية والمالية ( منظمة التجارة، ص.ن.د، البنك العالمي ....).	
	• -الشركات المتعددة الجنسيات ( استنزاف الثروات ) .	
0.25	• العمل على خفض أسعار المواد الأولية مما يقلص مداخيل العالم الثالث .	
0.50	<b>الخاتمة :</b> تخلف العالم الثالث ليست حتمية بل يمكن تجاوز هذا الوضع بالاستغلال الأمثل	
0.50	للإمكانيات المتاحة ( تقبل أية خاتمة وظيفية )	
	( تقبل جميع الإجابات المتوقعة الصحيحة )	

الإجابة النموذجية لموضوع امتحان البكالوريا دورة: 2016

اختبار مادة: التاريخ والجغرافيا الشعبة: علوم تجريبية، رياضيات، تقني رياضي المدة: 03 سا و30د

العلامة	عناصر الإجابة (الموضوع الثاني)
مجزأة مجموع	



دول مؤسسة للاتحاد الأوروبي