

الجمهورية الجزائرية الديمقراطية الشعبية

وزارة التربية الوطنية

الديوان الوطني للامتحانات والمسابقات

امتحان بكالوريا التعليم الثانوي

دورة: جوان 2013

الشعب: علوم تجريبية، رياضيات ، تقني رياضي

اختبار في مادة: التاريخ والجغرافيا

المدة : 03 سا و 30 د

على المترشح أن يختار أحد الموضوعين التاليين:

الموضوع الأول

التاريخ:

الجزء الأول: (06 نقاط)

"... إن مرحلة الحرب الباردة قد اتسمت بالتوتر الشديد بين القطبين وبين المعسكرين الشرقي والغربي... وتزايدت حدة الحملات الدعائية التمهيرية المتبادلة وحدة السباق نحو التسليح على المستويين التقليدي والنووي... كما شهدت هذه المرحلة تزايد حدة سياسات الاستقطاب الدولي لاجتذاب أكبر عدد من دول العالم الثالث حديثة الاستقلال بعد أن نجح في اقتسام القارة الأوروبية بينهما..."

د. ممدوح منصور و د. أحمد وهبان/ التاريخ الدبلوماسي 1815-1991 ص 209

1- اشرح ما تحته خط في النصّ.

2- عرّف بالشخصيات التالية:

- جمال عبد الناصر - نيكيتا خروتشوف - رابح بيطاط.

3- على خريطة أوروبا المرفقة، وقّع أربع دول من المعسكر الشرقي وأربع دول من المعسكر الغربي.

الجزء الثاني: (04 نقاط)

شهدت القضية الجزائرية أحداثا وتطورات هامة في المحافل الدولية والإقليمية، أثرت على مكانة فرنسا الخارجية، مما جعلها ترضخ للنفاوض.

المطلوب: انطلاقا من الفقرة، واعتمادا على ما درست، اكتب مقالا تاريخيا تبين فيه:

1- الأساليب التي استخدمتها الثورة على المستوى الخارجي.

2- انعكاسات هذه الأساليب على مكانة فرنسا الخارجية.

الجغرافيا:

الجزء الأول: (06 نقاط)

1- «... ترى نظرية ارتباط التخلف بظهور الرأسمالية والاستعمار: إن العالم الثالث لم يكن متخلفا قبل أن تستولي عليه أوربا الاستعمارية... إن نهب ثروات المستعمرات أدى إلى نمو الصناعة والزراعة في أوربا... ووجهت اقتصاديات بلدان العالم الثالث لخدمة الاقتصاد الاستعماري الرأسمالي وفرض الاستعمار التقسيم الدولي للعمل أين تخصص العالم الثالث في إنتاج وتصدير المواد الأولية والمحاصيل الزراعية النقدية كالقطن في مصر والكروم في الجزائر، القصدير في بوليفيا، البن في البرازيل، قصب السكر في كوبا، الكاكاو في غانا والشاي في الهند... أما المركز الرأسمالي فيحولها إلى مواد مصنعة ويعيد بيعها إلى بلدان العالم الثالث بأسعار عالية...»
راجح لونيبي/البديل الحضاري ص 53

المطلوب:

أ- اشرح ما تحته خط في النصّ.

ب- على خريطة العالم المرفقة، وقّع أربع دول وردت في النصّ.

2- الجدول التالي يمثل صادرات الصين سنة 2002 :

البلد أو المنطقة	القيمة (مليون دولار)	% من مجموع الصادرات
الولايات المتحدة الأمريكية	69950	21,5
أوربا	659226	18,2
اليابان	48437	14,8
آسيا	121878	37,5
باقي العالم	26074	08,0

صور اقتصادية 2006

المطلوب: علق على معطيات الجدول.

الجزء الثاني: (04 نقاط)

عمل قادة أوربا الغربية منذ 1957 على أن تكون القارة الأوروبية البيت الأوروبي الموحد،

وتجلى ذلك في عدد الدول المشكلة للإتحاد الأوروبي سنة 2007.

المطلوب: انطلاقا من الفقرة، واعتمادا على ما درست، اكتب موضوعا جغرافيا تبين فيه:

1- أهداف التكتل الأوروبي.

2- مظاهر القوة والضعف في الإتحاد الأوروبي.

الموضوع الثاني

التاريخ:

الجزء الأول: (06 نقاط)

1- «... مثلت حركة التحرر في الهند الصينية مظهرا من مظاهر انحسار وتصفية الاستعمار التقليدي وظهور الاستعمار الجديد المجسد في القوى العظمى التي أفرزتها الحرب العالمية الثانية وعلى رأسها الولايات المتحدة الأمريكية التي اشتهرت بسياسة ملء الفراغ الإيديولوجي في المنطقة عقب انسحاب فرنسا...».

تاريخ العالم المعاصر، ص: 233

المطلوب:

أ- اشرح ما تحته خط في النصّ.

ب- على خريطة العالم المرفقة، وقّع أسماء المناطق والدول الواردة في الوثيقة.

2- عرّف بالشخصيات التالية :

- هو شي منه - الجنرال جياب - أحمد سوكارنو.

الجزء الثاني: (04 نقاط)

رغم تباين شعوب المستعمرات من حيث الموقع الجغرافي والوضع السياسي والاقتصادي والاجتماعي والرصيد التاريخي، إلا أنها اشتركت في بعض خصائصها التحررية.

المطلوب: انطلاقا من الفقرة، واعتمادا على ما درست، اكتب مقالا تاريخيا تبرز فيه:

1- الخصائص المشتركة للحركات التحررية.

2- نتائج الحركات التحررية في إفريقيا.

الجغرافيا:

الجزء الأول: (06 نقاط)

1- حدّد مفهوم المصطلحات التالية:

- التنمية المستدامة - الشراكة - العولمة.

2- الجدول التالي يمثل كمية إنتاج واستهلاك الاتحاد الأوروبي للموارد الطاقوية والمعدنية لسنة

: 2004

المادة	الفحم	البتروول	الحديد	الغاز الطبيعي
الإنتاج م/طن	340	165	14.8	250 مليار م ³
الاستهلاك م/طن	307	750	141	420 مليار م ³

المنظمة العالمية للتجارة 2005

المطلوب: علق على معطيات الجدول.

3- على خريطة آسيا المرفقة، وقّع التنبينات الأربعة.

الجزء الثاني: (04 نقاط)

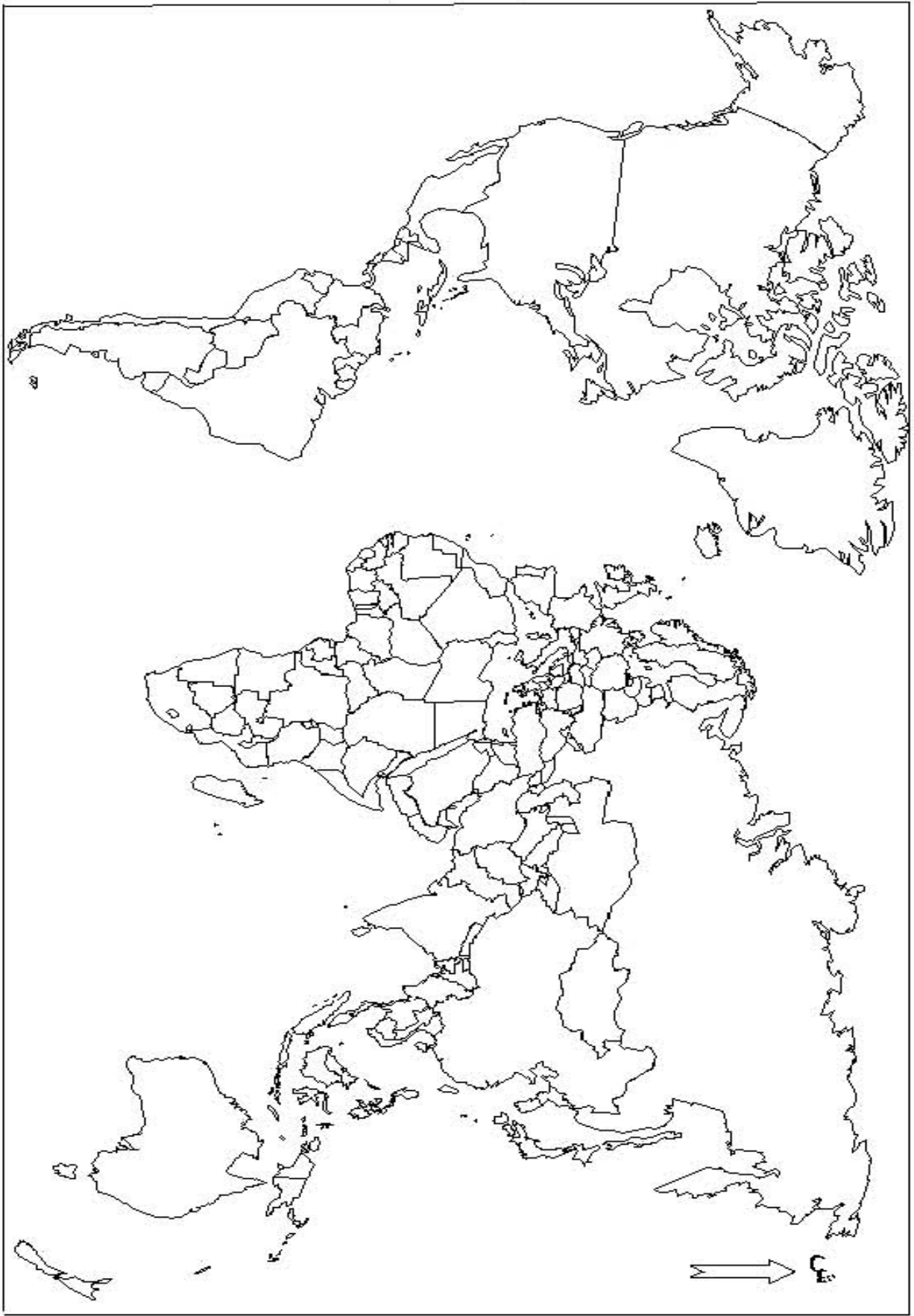
يعرف العالم تزايدا هائلا في مبادلات السلع والخدمات، وتنقلا واسعا لرؤوس الأموال والإعلام.

المطلوب: انطلاقا من الفقرة، واعتمادا على ما درست، اكتب موضوعا جغرافيا تبين فيه:

1- خصائص أسواق المواد الإستراتيجية (الغذاء والطاقة).

2- انعكاسات واقع المبادلات على العالم المتخلف.

خريطة العالم



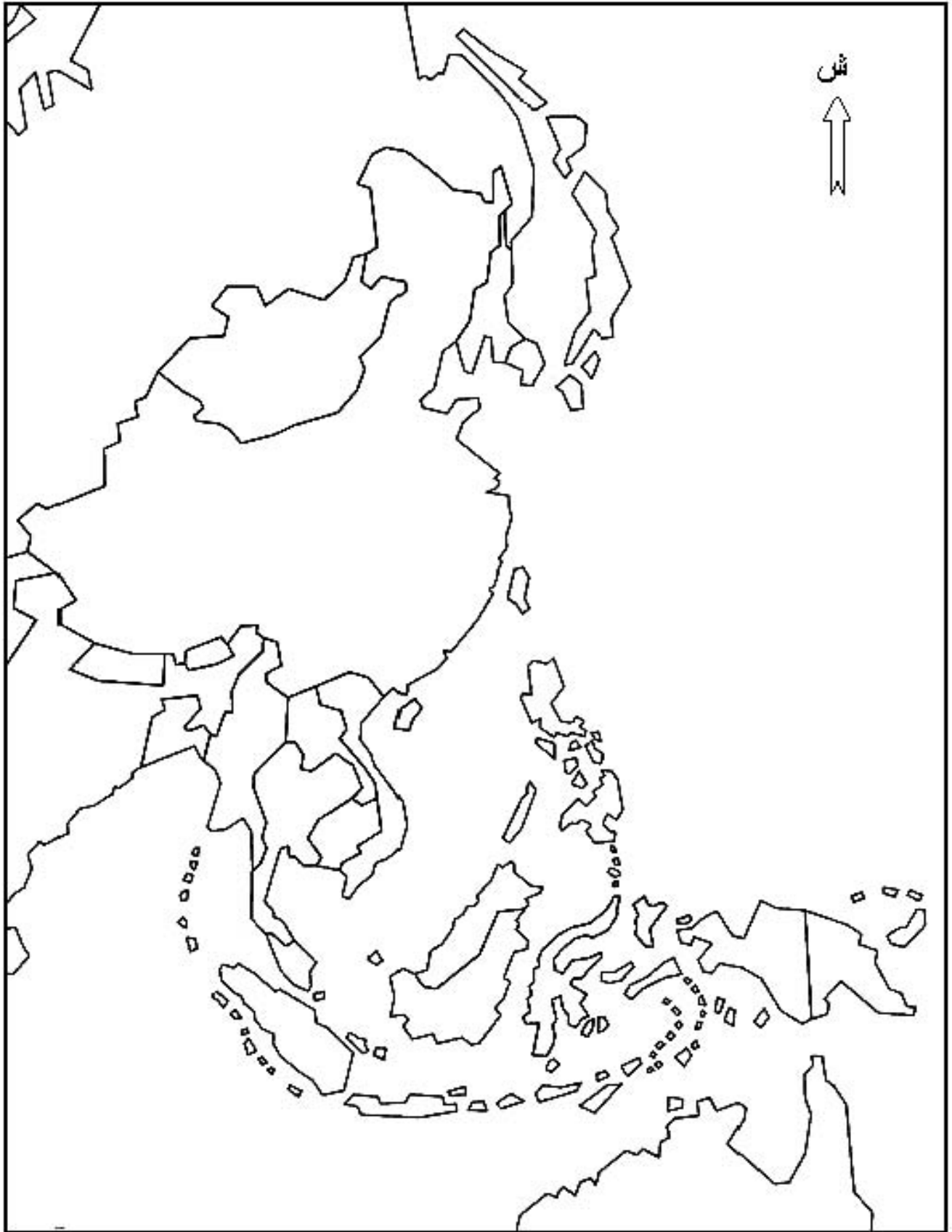
ينجز العمل المطلوب على الخريطة وتعدا مع أوراق الإجابة

خريطة أوروبا



ينجز العمل المطلوب على الخريطة وتعاد مع أوراق الإجابة

خريطة شرق وجنوب شرق آسيا



ينجز العمل المطلوب على الخريطة وتعاد مع أوراق الإجابة

دورة: جوان 2013

الإجابة النموذجية لموضوع امتحان : البكالوريا

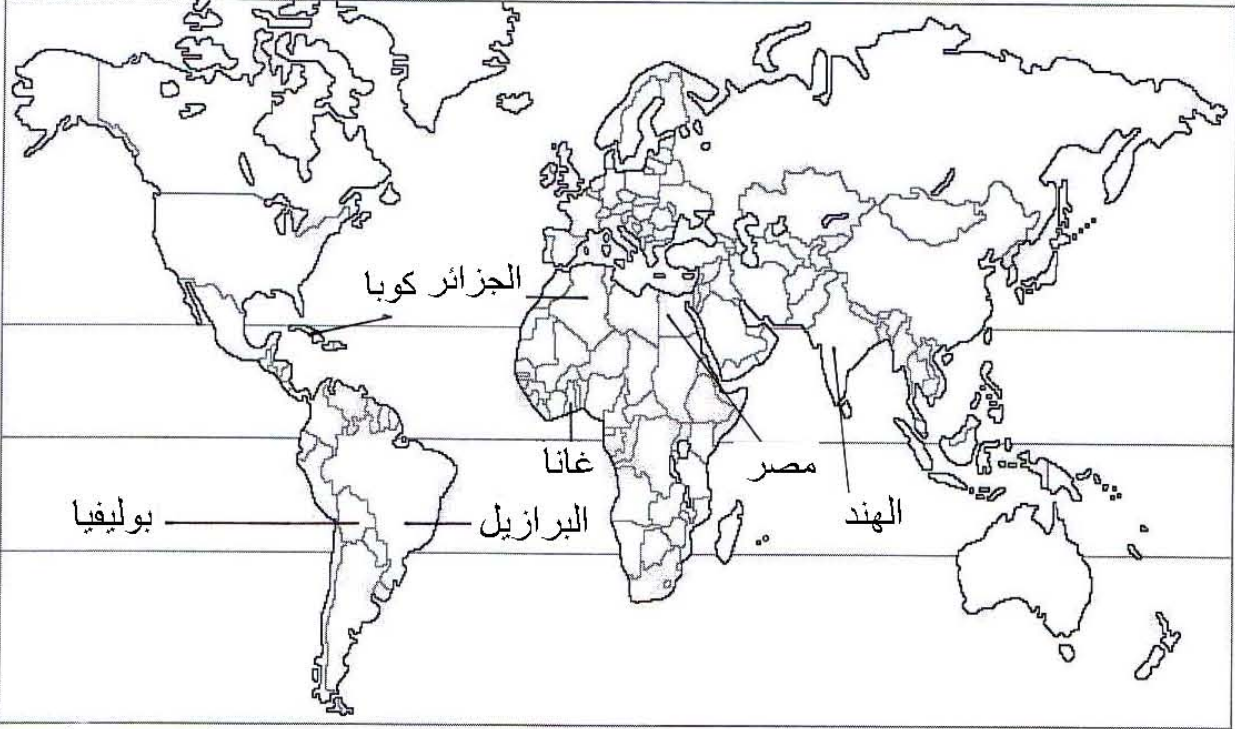
اختبار مادة: التاريخ والجغرافيا الشعبة: علوم تجريبية، رياضيات وتقني رياضي المدة: 03 سا و 30 د

الإجابة النموذجية وسلم التنقيط

العلامة		عناصر الإجابة	محاوّر الموضوع
المجموع	مجزأة		
06		الموضوع الأول	
		التاريخ:	
		الجزء الأول: (6 نقاط)	
		1- شرح ما تحته خط:	
	0.75	- الحرب الباردة: صراع إيديولوجي بين الاتحاد السوفيتي والولايات المتحدة الأمريكية ظاهرها حربا بين الشيوعية والرأسمالية وحقيقتها صراع مصالح.	
	0.75	- المعسكرين: دول المعسكر الشيوعي (الاتحاد السوفيتي، دول وسط وشرق أوروبا الصين، الفيتنام ، كوبا ...) ودول المعسكر الرأسمالي (الولايات المتحدة كندا، اليابان ، دول أوروبا الغربية ...)	
	0.75	- الاستقطاب الدولي: سعي كل كتلة إلى جذب دول من العالم إلى صفها من خلال عضوية: الأحلاف، المعاهدات الدفاعية المشتركة، المشاريع الاقتصادية ...	
		2- التعريف بالشخصيات:	
	0.75	* - جمال عبد الناصر: 1918-1970، زعيم الثورة المصرية 1952، رئيس جمهورية مصر 1954-1970، أحد مؤسسي حركة عدم الانحياز.	
	0.75	* - نيكيتا خروتشوف: (1894-1971)، رجل دولة سوفياتي خلف ستالين سنة 1953، ساهم في إرساء دعائم التعايش السلمي، أبعاد عن السلطة في سنة 1964.	
0.75	* - رابح بيطاط: 1925-2000، مناضل في حزب الشعب وحركة الانتصار للحريات الديمقراطية، عضو اللجنة الثورية للوحدة والعمل أول رئيس للمجلس الشعبي الوطني.		
	3- التوقيع على خريطة أوروبا:		
4×0.25	- الإنجاز.		
0.25	- العنوان.		
0.25	- المفتاح.		


العلامة		عناصر الإجابة	محاوَر الموضوع
المجموع	مجزأة		
		<p>تعيين دول من المعسكر الشرقي وأخرى من المعسكر الغربي:</p> <p>المفتاح:</p> <p>دول المعسكر الشرقي:</p> <p>1- ألمانيا الشرقية</p> <p>2- بولندا</p> <p>3- المجر</p> <p>4- الاتحاد السوفياتي</p> <p>دول المعسكر الغربي:</p> <p>أ- إيطاليا</p> <p>ب- ألمانيا الغربية</p> <p>ج- فرنسا</p> <p>د- بريطانيا</p>	

العلامة		عناصر الإجابة	محاوَر الموضوع
المجموع	مجزأة		
		الجزء الثاني: (4 نقاط)	
	0.50	المواجهة مع الاستعمار الفرنسي كانت داخلية وخارجية، عسكرية وسياسية.	المقدمة
	6×0.25	1- الأساليب التي استخدمتها الثورة على المستوى الخارجي: - إنشاء إذاعة صوت الجزائر بالقاهرة. - إرسال وفود إلى مختلف الدول للتعريف بالقضية الجزائرية. - تفعيل النشاط الدبلوماسي في الخارج. - إنشاء الحكومة الجزائرية المؤقتة. - طرح القضية الجزائرية في مختلف المحافل الدولية والإقليمية. - نقل الثورة إلى داخل فرنسا.	العرض
04	0.50	2- انعكاسات هذه الأساليب على مكانة فرنسا الخارجية: - اهتزاز مكانة فرنسا دوليا وتراجع دورها.	
	0.50	- تزايد الضغوط الخارجية على الدولة الفرنسية.	
	0.50	- اتساع المواجهة وتزايد حدتها في المستعمرات الفرنسية.	
	0.50	نجاح الدبلوماسية الجزائرية وتدويل القضية فرض على فرنسا التسليم بمبدأ حق تقرير المصير	الخاتمة
		الجغرافيا: الجزء الأول: (06 نقاط)	
		1- أ - مفهوم المصطلحات:	
	0.75	- العالم الثالث: تسمية أطلقت على دول إفريقيا ، آسيا وأمريكا اللاتينية التي لم تتكفل في سياق الحرب الباردة وهو مصطلح مرادف للعالم المتخلف أو الدول النامية أو السائرة في طريق النمو.	
06	0.75	- التقسيم الدولي للعمل: توزيع إجمالي للأدوار بين الدول المتقدمة والدول المتخلفة بحيث تقوم الدول المتخلفة بتصدير خامات الموارد الأولية بينما تقوم الدول المتقدمة بتحويلها إلى مواد مصنعة و تصديرها.	
	0.75	- المركز الرأسمالي: الدول المتقدمة أو الشركات متعددة الجنسيات من خلال (الاستثمار، القروض، النشاط الزراعي و الصناعي والخدمات).	
	4×0.25	ب - التوقيع على خريطة العالم : الدول الواردة في الوثيقة .	
	0.5	*- الإنجاز: *- العنوان:	
		2- التعليق على الجدول:	
	0.75	*- تفاوت في نسب التبادل التجاري الصيني من منطقة إلى أخرى.	
	0.50	*- تعدد التعامل التجاري الصيني .	
	0.50	*- ضخامة نسبة التعامل مع العالم المتقدم 54.5% .	
	0.50	*- أكثر من نصف معاملاتها مع الدول الآسيوية.	

العلامة		عناصر الإجابة	محاور الموضوع
المجموع	مجزأة		
		خريطة بعض الدول المصدرة للمواد الأولية والمحاصيل الزراعية النقدية	
			
	0.50	<p>الجزء الثاني: (04 نقاط) تعتبر معاهدة روما 1957 النواة الأساسية لتشكيل الاتحاد الأوروبي</p> <p>1- أهداف التكتل: الاقتصادية :</p> <ul style="list-style-type: none"> - تشكيل قوة اقتصادية كبرى لاسترجاع المكانة الدولية المفقودة - التخلص من التبعية الأجنبية المالية الأمريكية و الطاقوية والمعدنية - إقامة سوق مشتركة بين الدول الأعضاء لتوفير السلع وتوحيد السعر - تحقيق الاكتفاء الذاتي والأمن الغذائي وتوفير الرفاهية لشعوبهم <p>السياسية :</p> <ul style="list-style-type: none"> - تقوية علاقات الصداقة والتعاون بين الدول الأعضاء - توحيد المواقف الأوروبية تجاه القضايا الدولية <p>2 - مظاهر القوة والضعف:</p> <p>○ القوة:</p> <ul style="list-style-type: none"> - المساحة والقوة البشرية - القوة الاقتصادية (الشركات الكبرى والمؤسسات المالية) - الموقف السياسي والاقتصادي الموحد في إطار المفاوضات الأوروبية <p>○ الضعف:</p> <ul style="list-style-type: none"> - نقص المواد الأولية لاسيما الطاقة - التلوث البيئي نتيجة ضخامة التصنيع - المنافسة الخارجية لاسيما من طرف اليابان ، الولايات المتحدة والصين 	المقدمة :
	0.25		
	0.25		
	0.25		
	0.25		
	0.25		
	0.25		
	0.25		
	0.25		
	0.25		
	0.25		
	0.25		
	0.50	الدول الأوروبية ضعيفة بمفردها قوية بتكتلها .	الخاتمة:

04

العلامة		عناصر الإجابة	محاوَر الموضوع
المجموع	مجزأة		
06		الموضوع الثاني	
		التاريخ:	
		الجزء الأول: (06 نقاط)	
		أ - مفهوم المصطلحات:	
	0.75	* - حركة التحرر: هو رد الفعل النضالي الوطني الذي قامت به شعوب المستعمرات في كل من إفريقيا وآسيا وأمريكا اللاتينية ضد الاستعمار الأوروبي من أجل التحرر والانعقاد.	
	0.75	* - الاستعمار التقليدي: يطلق على الحركة الاستعمارية التي ظهرت بعد الكشوفات الجغرافية والثورة الصناعية، تزعمتها كل من بريطانيا، فرنسا، هولندا والبرتغال، استعملت فيها عدة أساليب لفرض الهيمنة على شعوب إفريقيا وآسيا وأمريكا اللاتينية.	
	0.75	* - ملء الفراغ: سياسة استعمارية جديدة تبنتها الو.م. أ في عهد إيزنهاور بعد تراجع القوى الاستعمارية التقليدية وطبقتها في الهند الصينية بعد انسحاب الاستعمار الفرنسي منها.	
	1.25	ب - التوقيع على خريطة العالم المناطق والدول الواردة في الوثيقة:	
	0.25	* - الإنجاز:	
		* - العنوان:	
	2- التعريف بالشخصيات:		
0.75	* - هوشي منه: زعيم سياسي فيتنامي قاد حركة التحرر في بلاده رئيس جمهورية فيتنام الشمالية 1945.		
0.75	* - الجنرال جياب: فان غويان جياب: بطل معركة ديان بيان فو 1954 وصاحب مقولة الاستعمار تلميذ غبي لا يفهم إلا بتكرار الدرس.		
0.75	* - أحمد سوكارنو: 1901-1970، سياسي وزعيم اندونيسي، تزعم تحرير بلاده من الاستعمار الهولندي، رئيس اندونيسيا 1951-1967، ساهم في تأسيس حركة عدم الانحياز من خلال مؤتمر باندونغ 1955.		

العلامة		عناصر الإجابة	محاوّر الموضوع
المجموع	مجزأة		
			
04	0.5	<p style="text-align: center;">الجزء الثاني: (04 نقاط)</p> <p>الحركات التحررية بين الخصائص المشتركة والأهداف المحققة.</p>	المقدمة:
	0.25	1- الخصائص المشتركة :	العرض:
	0.50	- وحدة العدو: الاستعمار بأشكاله المختلفة.	
	0.25	- وحدة الهدف: الاستقلال.	
	0.25	- الشمولية والشعبية.	
	0.25	- التضامن والوطنية.	
0.25	- التزامن.		
0.50	2- نتائج الحركات التحررية في إفريقيا:	الخاتمة:	
0.25	- حصول أغلب الدول على الاستقلال وتراجع الإمبراطوريات الاستعمارية		
0.25	- ظهور التضامن الأفروآسيوي.		
0.50	- القضاء على الأنظمة العميلة .		
0.50	- تزايد قوة الدول المستقلة وتكتلها في منظمات إقليمية (الوحدة الإفريقية سابقا وحركة عدم الانحياز) .		
0.50	تمكنت الحركات التحررية من تحرير الشعوب إلا أنها لم تتمكن من تحريرها من التخلف		

العلامة		عناصر الإجابة	محاوَر الموضوع
المجموع	مجزأة		
06		الجغرافيا: الجزء الأول: (06 نقاط)	
		1- مفهوم المصطلحات:	
	0.75	*- التنمية المستدامة: هي التنمية التي تلبي حاجيات الحاضر دون المساس بمستقبل الأجيال القادمة.	
	0.75	*- الشراكة: التعاون بين دولتين أو أكثر بموجب اتفاقيات ،تهدف إلى تبادل الخبرات والمنفعة لتحقيق مصالح مشتركة .	
	0.75	*- العولمة: ظاهرة فرضت نفسها منذ الثمانينات ،تتميز بتوزيع أنماط سياسية اقتصادية وثقافية ،أنتجها الشمال المتقدم	
		2 - التعليق على معطيات الجدول:	
	0.50	- التفاوت الكبير في الإنتاج باستثناء الفحم.	
	0.50	- طاقة إنتاجية كبيرة وقوة استهلاكية.	
	0.25	- الاستهلاك أكبر من الإنتاج دليل على الحركية الصناعية والتبعية للخارج.	
	0.50	- استهلاك الفحم أقل من الإنتاج بسبب الاعتماد على البترول والغاز والطاقات البديلة.	
	0.25	- استهلاك الحديد يفوق الإنتاج بحوالي 10 مرات وهذا مظهر من مظاهر النشاط الصناعي الواسع.	
	0.25	- استهلاك الغاز ضعف الإنتاج بسبب النشاط الاقتصادي وكذلك الظروف المناخية (البرودة)	
		3 - التوقيع على خريطة آسيا:	
	4×0.25	- الإنجاز - توقيع التينينات الأربعة.	
0.25	- المفتاح.		
0.25	- العنوان.		

العلامة		عناصر الإجابة	محلور الموضوع
المجموع	مجزأة		
		<p>تعيين التكتينات الآسيوية الأربعة: كوريا الجنوبية، هونغ كونغ، تايوان، سنغفورة.</p>	

العلامة		عناصر الإجابة	محاور الموضوع
المجموع	مجزأة		
04	0.50	الجزء الثاني: (04 نقاط) العولمة التجارية وأثرها على العالم المتخلف.	المقدمة
	0.50	1 – خصائص أسواق المواد الاستراتيجية:	
	0.25	– احتكار العالم المتقدم لتجارة المواد الاستراتيجية	
	0.25	– سيطرة المواد الغذائية والأولية على صادرات العالم المتقدم إلى العالم المتخلف.	
	0.50	– سيطرة المواد الطاقوية والأولية على صادرات العالم المتخلف.	العرض
	0.50	– تحكم العالم المتقدم في الأسواق العالمية: إنتاجا وأسعارا.	
	0.50	2 – انعكاسات واقع المبادلات على العالم المتخلف:	
	0.25	– التبعية التجارية والمالية.	
	0.50	– عجز الموازين التجارية وموازين المدفوعات.	
	0.25	– ارتفاع حجم الديون الخارجية.	
0.50	– استنزاف الثروات وانتشار الأزمات في العالم المتخلف.		
0.50	ضرورة تكتل دول الجنوب والتصدي لظاهرة العولمة وانعكاساتها.	الخاتمة	
		<u>ملاحظة: تقبل الإجابات الصحيحة الأخرى.</u>	