



على المترشح أن يختار أحد الموضوعين الآتيين:

الموضوع الأول

التاريخ

الجزء الأول: (06 نقاط)

(1) "... ولأنّ المسائل المتعلقة بالاستعمار عموما كان يتعيّن مناقشتها... داخل الجمعية العامة ... و ليس في مجلس الأمن، فقد أصبحت بمنأى عن سطوة "الفيثو"، ولذلك لم تتمكن القوى الاستعمارية التقليدية من الوقوف أمام رياح التغيير بل و أصبحت الحرب الباردة وقودا يُعطي مزيدا من القوة لحركات التحرر الوطني والاستقلال..."

المرجع: الامم المتحدة في نصف قرن ص 159

د/ حسن نافعة. عالم المعرفة العدد 202

المطلوب:

- اشرح ما تحته خط في النص.

(2) على خريطة العالم المرفقة وقّع الدول دائمة العضوية في مجلس الأمن و تتمتع بحق «الفيثو»

الجزء الثاني: (04 نقاط)

لعزل الشعب الجزائري عن ثورته ، قدّم الاستعمار الفرنسي مشاريع إغرائية، إلا أنّ وعي الشعب الجزائري حال دون تحقيق أهدافه.

المطلوب: انطلاقا من الفقرة واعتمادا على ما درست، اكتب مقالا تاريخيا تبرز فيه:

(1) المشاريع الإغرائية التي قدّمها الاستعمار لعزل الشعب عن الثورة.

(2) رد فعل الشعب الجزائري على ذلك.



الجغرافيا:

الجزء الأول: (06 نقاط)

(1) "...يُعد التّوجه نحو عالمية الاقتصاد أو ما يعرف باقتصاد السوق... هو التّوجه السائد والمهيمن على اقتصاديات العالم... و تعكس مؤشرات حركة رؤوس الأموال توجّها متزايدا نحو المضاربة في الأسواق المالية الكبرى المتمركزة في دول الشّمال..."
المرجع: الاتحاد الأوربي والتفاعل الدولي في ظل النظام الدولي الجديد ص 141 معن عبد العزيز الرئيس.

المطلوب:

- اشرح ما تحته خطّ في النّص.

(2) إليك جدولا يمثل نسب مساهمة بعض الدول في التّجارة العالمية (الصادرات والواردات) عام 2017

الدول	الو.م أ	الصين	ألمانيا	اليابان	بريطانيا	فرنسا	هونغ كونغ	كوريا الجنوبية
الواردات %	13.40	10.20	06.50	03.70	3.60	03.50	03.30	02.70
الصادرات %	08.70	12.80	08.20	03.90	02.50	03.00	03.10	03.20

المصدر: المنظمة العالمية للتجارة (احصاءات التجارة الدولية 2018)

المطلوب: علّق على المعطيات الواردة في الجدول.

الجزء الثاني: (04 نقاط)

تظافرت مجموعة من العوامل جعلت من الاتحاد الأوربي قوة اقتصادية كبرى، رغم المعوقات التي تعترضه.

المطلوب: انطلاقا من العبارة واعتمادا على ما درست، اكتب مقالا جغرافيا تبرز فيه:

(1) العوامل الطبيعية والبشرية التي جعلت الاتحاد الأوربي قوة اقتصادية كبرى.

(2) المعوقات الخارجية التي تعترضه.

انتهى الموضوع الأول



الموضوع الثاني

التاريخ

الجزء الأول: (06 نقاط)

(1) "... ولكن الهزيمة العسكرية المهيبة التي تلقاها الاستعمار الفرنسي في "ديان بيان فو" لم تكن سوى مرحلة في الكفاح الطويل والشاق ضدّ الإمبريالية، فمنذ الخمسينيات بدأت الولايات المتحدة الأمريكية تتدخل بطريقة مباشرة وغير مباشرة في الفيتنام، كما استعملت حلف جنوب شرق آسيا ... لخلافة الاستعمار الفرنسي..."

المرجع: الثورة الجزائرية معطيات وتحديات (ص 165)

محمد العربي ولد خليفة

المطلوب:

- اشرح ما تحته خط في النص.

(2) أكمل الجدول التالي:

التاريخ	الحدث
1956 - 10 - 22
1962 - 03 - 18
.....	مشروع ايزنهاور

الجزء الثاني: (04 نقاط)

ما إن أُعلن عن نهاية الحرب الباردة حتّى بدأت الكتلة الشرقية تتعرض للتفكك الذي كانت له انعكاسات عديدة خاصة على قارة أوروبا.

المطلوب: انطلاقا من العبارة واعتمادا على ما درست، اكتب مقالا تاريخيا تبين فيه:

(1) أسباب تفكك الكتلة الشرقية.

(2) انعكاسات التفكك على قارة أوروبا.



الجغرافيا:

الجزء الأول: (06 نقاط)

(1) "... لقد شهد العقدان الماضيان زيادة هائلة في تدفقات رؤوس الأموال الدولية، ويرى بعض الاقتصاديين أنّ السبب في ذلك يعود إلى التطورات الكبيرة في قطاع تكنولوجيا المعلومات ونمو الشركات متعددة الجنسيات..."

المراجع: قياس وتحليل أثر التدفقات المالية الدولية

أ. م. د. ابراهيم موسى جامعة بغداد 2009

المطلوب:

- اشرح ما تحته خط في النص.

(2) إليك جدولاً يمثل مساهمة القطاعات الاقتصادية في الناتج الداخلي الخام للولايات المتحدة الأمريكية عام 2017.

النسبة المئوية%	القطاع
80.20	الخدمات
18.90	الصناعة
0.90	الفلاحة

المصدر: إحصائيات البنك العالمي 2018

- مثل معطيات الجدول بدائرة نسبية: نق = 3 سم

الجزء الثاني: (04 نقاط)

يزداد الاستهلاك العالمي للقمح لتزايد الطلب عليه، فإنتاجه يضع البلد في مأمن من الضغوطات والمخاطر، وغيابه يضع البلد تحت رحمة الدول المصدرة له وشركاتها الاحتكارية، وبلدان العالم الجنوب أكثر عرضة لذلك لضعف الإنتاج بها.

المطلوب: انطلاقاً من العبارة واعتماداً على ما درست، اكتب مقالا جغرافيا تبرز فيه:

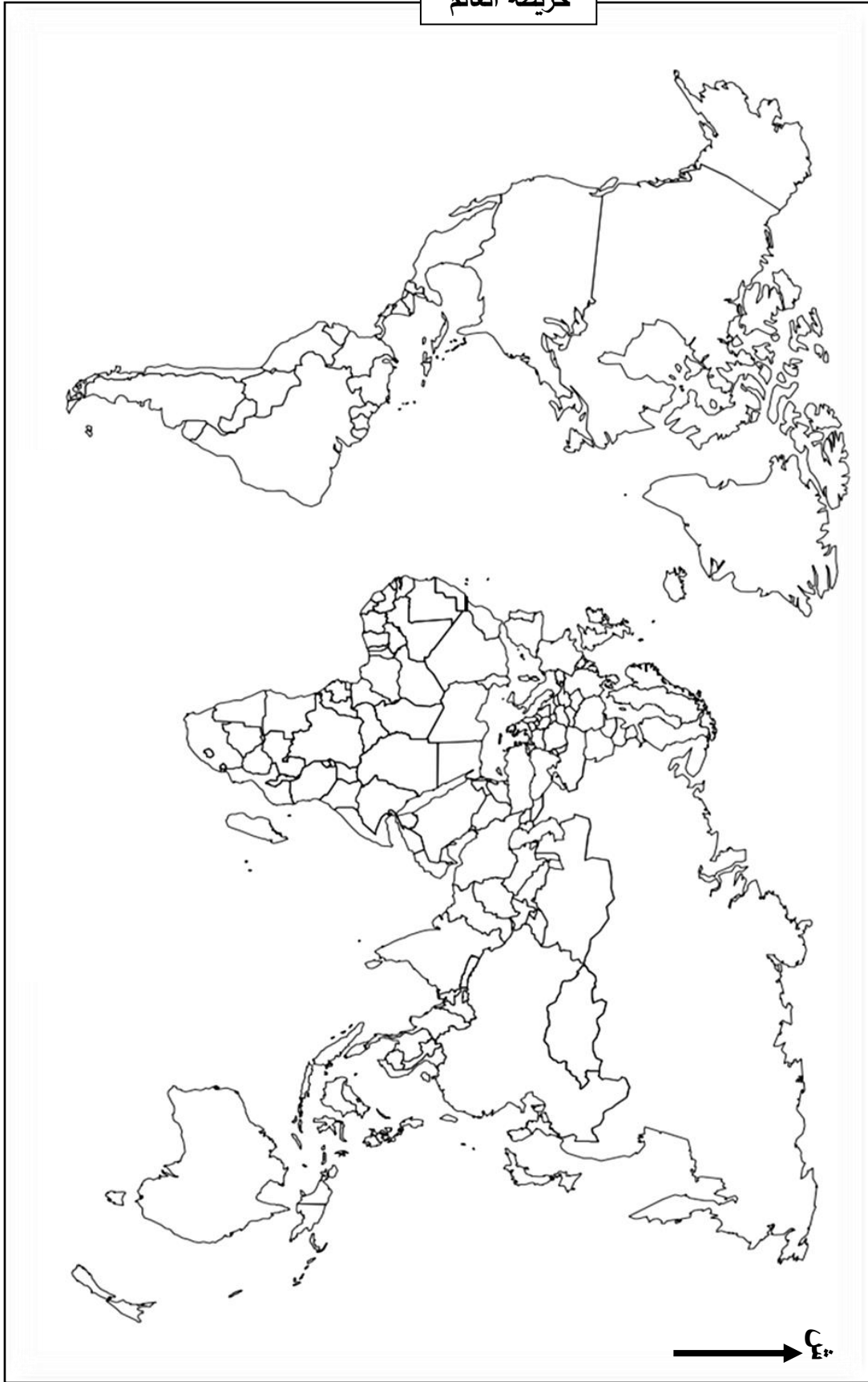
(1) أهمية القمح الاقتصادية والاجتماعية.

(2) انعكاسات ضعف إنتاج القمح على بلدان العالم الجنوب.

انتهى الموضوع الثاني



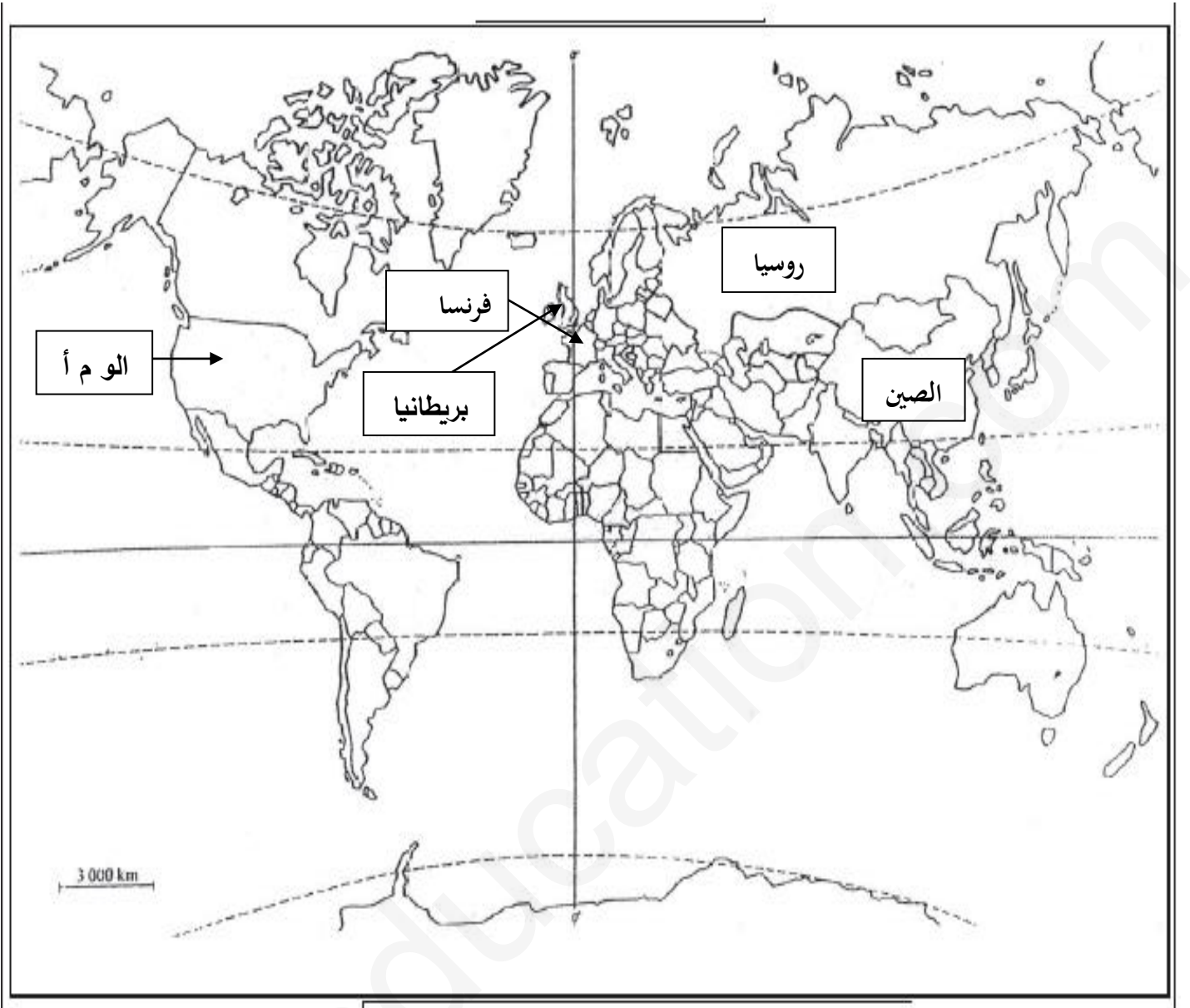
خريطة العالم



ينجز العمل المطلوب على الخريطة وتعاد مع أوراق الإجابة

العلامة		عناصر الإجابة (الموضوع الأول)
مجموع	مجزأة	
06	0.75	<p>الجزء الأول: (06ن) 1) شرح المصطلحات:</p> <ul style="list-style-type: none"> ● مجلس الأمن: أحد أجهزة هيئة الأمم المتحدة وأهمها (0.25)، تكمن مهامه في الحفاظ على السلم والأمن العالميين، يصدر قرارات واجبة التنفيذ (0.25)، يتكون من 15 عضو 05 دائمون و10 ينتخبون لمدة سنتين. (0.25) ● الحرب الباردة: صراع ايديولوجي بين القوتين العظميين ظهر بعد (ح ع 2) (0.50) ، استعملت فيه كل الوسائل ماعدا المواجهة العسكرية المباشرة. (0.50) ● حركات التحرر: رد فعل شعوب المستعمرات في كل من إفريقيا واسيا وامريكا اللاتينية على الوجود الاستعماري (0.25)، اتخذت أشكالا متعددة سياسية، عسكرية. (0.25)، تهدف إلى الاستقلال واسترجاع السيادة الوطنية... (0.25) <p>2) التوقيع على الخريطة الدول دائمة العضوية في مجلس الأمن: الوم أ – روسيا – بريطانيا – الصين فرنسا (0.5) = 5 × 0.5 = 2.5 + 0.25 = المفتاح (0.50) العنوان = (0.50) (</p>
	01	0.50
04	6×0.25	
	0.5	

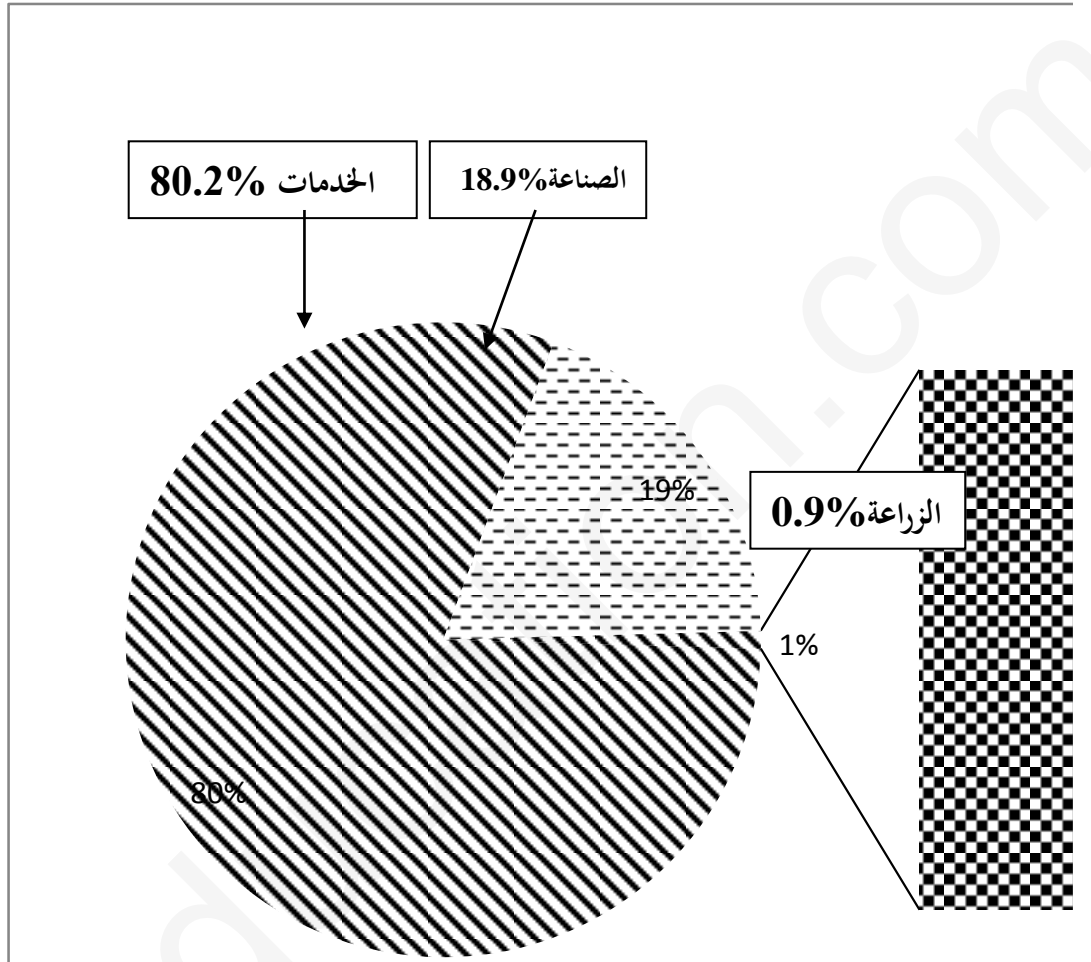
العلامة		عناصر الإجابة (الموضوع الأول)
مجموع	مجزأة	
06		جغرافيا:
		الجزء الأول: (06ن)
		(1) شرح المصطلحات:
	01	<ul style="list-style-type: none"> ● اقتصاد السوق: اقتصاد يقوم على الحرية الاقتصادية للأموال والتجارة والاستثمار (0.50)، يخضع للمنافسة وقانون العرض والطلب (عدم تدخل الدولة في توجيه الاقتصاد) (0.50). ● الأسواق المالية: فضاء تدار فيه العمليات المالية كبيع الاسهم والسندات (0.50)، كما تحدد فيه أسعار العملات، يخضع لقانون العرض والطلب... (0.50) ● دول الشمال: هي الدول التي يقع معظمها في النصف الشمالي للكرة الأرضية (0.50) وتتميز بالتقدم الاقتصادي والتكنولوجي والرفاهية... (0.50)
	01	
	01	
		(2) التعليق على الجدول:
		<ul style="list-style-type: none"> ● تنتمي كل الدول الواردة في الجدول للعالم المتقدم ما عدا الصين. (0.75) ● تباين نسب المساهمة في الصادرات والواردات لهذه الدول. (0.75) ● سيطرة الدول الآسيوية مجتمعة على التجارة العالمية. (0.50) ● الو م أ والصين أكبر قوتين مساهمة في التجارة العالمية في حين مساهمة كوريا الجنوبية ضئيلة (. 0.50) ● هيمنة الدول الكبرى على التجارة العالمية (. 0.50)
	03	
		الجزء الثاني: (04ن)
	مقدمة: الاتحاد الأوروبي قوة اقتصادية عالمية تعترضه معوقات خارجية (تقبل أي مقدمة وجيهة)	
0.50		(1) العوامل الطبيعية والبشرية التي جعلت الاتحاد الأوروبي قوة اقتصادية
		<ul style="list-style-type: none"> ● الطبيعية: <ul style="list-style-type: none"> ■ اتساع المساحة الزراعية وخصوبة التربة واحتوائه على بعض الموارد الطبيعية. ■ تنوع المناخ وملاءمته. ■ إطلاله على واجهات بحرية عديدة واتساع الشبكة الهيدروغرافية. ● البشرية: <ul style="list-style-type: none"> ■ قوة بشرية (سوق استهلاكية واسعة، يد عاملة...) ■ تبني سياسة التكتل في جميع القطاعات (السياسة الزراعية المشتركة، أوربا الزرقاء...) ■ قوة مالية والتقدم التكنولوجي.
3×0.25		
3× 0.25		
		(2) المعوقات الخارجية التي تواجه الاتحاد الأوروبي:
04	0.50	<ul style="list-style-type: none"> ■ المنافسة الخارجية التي يتعرض لها الاتحاد خاصة من الو م أ واليابان والصين في الأسواق العالمية. ■ تبعيته للخارج في المواد الأولية. ■ تعرض بلدانه لظاهرة الهجرة غير الشرعية. ■ تقلص الأسواق الخارجية نتيجة ظهور قوى اقتصادية ناشئة (الهند، البرازيل، تركيا...)
	0.50	
	0.25	
	0.25	
	0.25	
	0.50	
		خاتمة: رغم المعوقات التي تعترض الإتحاد الأوروبي يبقى قوة اقتصادية عالمية.
		(تقبل كل خاتمة وجيهة)
		(تقبل كل الإجابات الأخرى الصحيحة)



خريطة تبين الدول دائمة العضوية في مجلس الأمن.

العلامة		عناصر الإجابة (الموضوع الثاني)
مجموع	مجزأة	
06	01	التاريخ: الجزء الأول(06 نقاط). 1) شرح ما تحته خط في النص: • ديان بيان فو: منطقة تقع في شمال فيتنام وقعت فيها معركة بين قوات الفيتنام بقيادة الجنرال جياب ضد الاستعمار الفرنسي (0.50) امتدت من 13 مارس إلى 7 ماي 1954 (0.25) انتهت بانتصار قوات الفيتنام... (0.25)
	01	• الإمبريالية: سيطرة القوى السياسية الكبرى خاصة الوم أ على العالم (0.50) باستعمال كل الوسائل (الضغوطات، السلاح الأخضر، الديون، الأنظمة، التدخلات، العقوبات)... (0.50) • حلف جنوب شرق آسيا: حلف عسكري تأسس عام 1954 في شرق وجنوب شرق آسيا (0.25) للوقوف في وجه المد الشيوعي (0.25) مقره الفلبين ضم دول المنطقة منها: الفلبين ، بريطانيا ، اليابان (0.25) وهو أحد وسائل الحرب الباردة... (0.25)
	01	2) ربط الأحداث بتواريخها: (القرصنة الجوية 22 - 10 - 1956 - مشروع ايزنهاور 05 - 01 - 1957) (توقيع اتفاقية إيفيان 18 - 03 - 1962)
	3×01	
04	0.50	الجزء الثاني: (04 نقاط). المقدمة: تفكك الكتلة الشرقية وأثره على أوروبا. (تقبل كل مقدمة وجيهة) 1) أسباب تفكك الكتلة الشرقية: ✓ الداخلية: • فشل النظام الشيوعي في بناء اقتصاد منافس للاقتصاد الرأسمالي. • طبيعة الأنظمة الشيوعية المستبدّة. • إصلاحات غورباتشوف (البروسترايكا والglasnost) التي جاءت متأخرة. • بروز الحركات الانفصالية في المعسكر الشيوعي. ✓ الخارجية: • سياسة التطويق التي مارسها المعسكر الغربي. • دور الإعلام الغربي في ذلك. • انعكاسات انسحاب الاتحاد السوفييتي من أفغانستان. • عدم قدرة (الاس) مسايرة (الوم أ) عسكريا (تبني الوم أ "حرب النجوم" في عهد (ريغن)
	×0.25 4	2) انعكاسات التفكك على أوروبا: • توحيد الألمانيتين 1990 وحل منظمة الكوميكون • زوال الأنظمة الشيوعية بأوروبا الشرقية وتبنيها النظام الرأسمالي وانضمام بعضها للحلف الأطلسي • استقلال العديد من دول أوروبا الشرقية عن الاتحاد السوفيتي، وظهور مجموعة الدول المستقلة. • انقسام بعض الدول مثل يوغسلافيا وتشيكوسلوفاكيا وحل حلف وارسو...
	×0.25 4	
	0.25 4×	
	0.50	الخاتمة: تخلص أوروبا من الشيوعية وتوجهها نحو الوحدة الشاملة. (تقبل كل خاتمة وجيهة) (تقبل كل الإجابات الصحيحة الأخرى)

العلامة		عناصر الإجابة (الموضوع الثاني)
مجموع	مجزأة	
06	3×01	<p>الجغرافيا الجزء الأول: (06 نقاط).</p> <p>(1) شرح ما تحته خط في النص:</p> <ul style="list-style-type: none"> • رؤوس الأموال: الملكيات الثابتة (أرض، آلة مصانع.) والمنقولة (النقود.) (0.50) لإقامة نشاط اقتصادي بهدف الربح(0.50) • تكنولوجيا المعلومات: استخدام التطور التقني في المجال التكنولوجي (0.25) لنقل المعلومات (0.25) بسرعة فائقة و غزارة ربحا للجهد والوقت (0.50) • الشركات متعددة الجنسيات: هي شركات عملاقة تقع مقراتها بالدول المتقدمة خاصة الوم أ (0.50) لها فروع في مختلف مناطق العالم تهيمن على مختلف الأنشطة الاقتصادية والخدماتية... (0.50) • تمثيل النسب الواردة في الجدول بدائرة نسبية: <p>الإنجاز: 1.50 -المفتاح: 0.25 -المقياس: 0.25 العنوان: 0.50 العمليات الحسابية 0.50</p>
	03	
	0.50	
04	0.50	<p>الجزء الثاني: (04 نقاط).</p> <p>المقدمة: القمح مادة استراتيجية تؤثر في العلاقات الاقتصادية والسياسية. (تقبل كل مقدمة وجيهة)</p>
	0.50	<p>(1) أهمية القمح الاقتصادية والاجتماعية:</p> <ul style="list-style-type: none"> • مادة أولية للعديد من الصناعات الغذائية. • يساهم في الدخل القومي للدول المنتجة له. • مصدر غذاء أساسي لمعظم شعوب العالم. • يوفر مناصب شغل في القطاعين الزراعي والصناعي. • سلعة أساسية في التجارة الدولية.
	025	
	025	
	0.25	
0.25		
6×0.25		<p>(2) انعكاسات ضعف الانتاج على بلدان عالم الجنوب:</p> <ul style="list-style-type: none"> • ارتفاع فاتورة استيراده. • انتشار المجاعة وسوء التغذية. • تعرض الدول لاضطرابات اجتماعية (مشاكل داخلية/ غياب الاستقرار السياسي) • تعرض الدول للضغوطات الأجنبية والتدخل في سياستها (سلاح أخضر). • تدخل المؤسسات المالية العالمية (صندوق النقد الدولي) في السياسة الاقتصادية لدول الجنوب. • تخبط الدول المستوردة له في مشكل المديونية.
0.50		<p>خاتمة: يبقى القمح مادة أساسية لكل شعوب العالم...</p> <p>(تقبل كل خاتمة وجيهة)</p> <p>(ملاحظة: تقبل كل الإجابات الصحيحة الأخرى)</p>



دائرة نسبية تمثل نسب مساهمة القطاعات الاقتصادية في الدخل القومي للوم أ