



على المترشح أن يختار أحد الموضوعين الآتيين:  
الموضوع الأول

التاريخ

الجزء الأول: (06 نقاط)

1) "...تبنى كنيدي خطة لغزو كوبا... وكان نقطة تحول في سياسة كاسترو اختار بعدها المبدأ الماركسي بصورة نهائية... وتحول الأمر مواجهة بين المعسكرين وتم اتصال بين الرئيسين أدّى إلى حل القضية... وانقضت الحرب دون صدام، واعتبرها الطرفان نصرا له، كنيدي: لأنه أزال تهديد الصواريخ لبلاده، وخروتشوف: لأنه جعل الأمريكيين يفهمون ما معنى أن تكون بلادهم مهدّدة مباشرة..."

المرجع: أحداث القرن العشرين (ص 193-194) - لبيب عبد الساتر

المطلوب: عزّف بالشخصيات التي تحتها خطّ في النصّ.

2) أكمل الجدول التالي:

التاريخ	الحدث
.....	تأسيس الحكومة المؤقتة للجمهورية الجزائرية
19 ماي 1956	.....
.....	تأسيس المنظمة الفرانكفونية

الجزء الثاني: (04 نقاط)

إنّ تزايد القوة التدميرية للقوتين العظميين خلال الحرب الباردة، وضغط كتلة العالم الثالث والرأي العام العالمي، جعل زعماء القوتين يدركون حتمية تجنّب المواجهة العسكرية المباشرة بينهما والعمل على إيجاد صيغ للتقاهم، ما جعل العلاقات الدولية تتّجه نحو الانفراج.

المطلوب: انطلاقا من الفقرة واعتمادا على ما درست، اكتب مقالا تاريخيا تبين فيه:

1) دوافع تجنّب القوتين العظميين المواجهة العسكرية المباشرة بينهما.

2) انعكاسات ذلك على العلاقات الدولية.



## الجغرافيا

### الجزء الأول: (06 نقاط)

1 " ... وقّعت الجزائر في أبريل 2002 اتفاق شراكة مع الاتحاد الأوروبي ... بهدف تعزيز حرية تنقل معظم السلع الصناعية في ما بينهما وإلغاء الحواجز الجمركية... وعموما فإنّ عدم تنوع الصادرات الجزائرية وضعف تدفقات الاستثمارات الأجنبية المباشرة وعدم تطور القطاع الخاص... أدى إلى الإضرار بالجزائر كثيرا ..."

المرجع: مستقبل الانفتاح التجاري في الجزائر ص 07

مراد يونس وعبد الحميد مرغيت جامعة جيجل

المطلوب: اشرح ما تحته خطّ في النصّ.

2 إليك جدولا يمثل نسبة مساهمة الولايات المتحدة الأمريكية في الإنتاج العالمي ومرتبها لبعض المعادن وموارد الطاقة لسنة 2017.

المعادن/الطاقة	الحديد	الرصاص	النحاس	الزنك	الغاز	الفحم	البتترول	الكهرباء
النسبة العالمية	%02	%06.30	%09.20	%05.50	%20	%09.90	%13	%16.7
المرتبة العالمية	07	03	03	04	01	02	03	02

المرجع: global energy statistical year book 2018

المطلوب: علّق على المعطيات الواردة في الجدول

### الجزء الثاني: (04 نقاط)

إنّ ما يجري في سوق النفط من حرب على أسعاره تقودها الدول الكبرى المستوردة ضد "الأوبك" والدول الأخرى المصدرة له، لدليل قاطع على أهمية هذه المادة في الاقتصاد العالمي.

المطلوب: انطلاقا من العبارة واعتمادا على ما درست، اكتب مقالا جغرافيا تبين فيه:

1 أهمية البترول في الاقتصاد العالمي.

2 دور "الأوبك" والدول المصدرة الأخرى في المحافظة على الأسعار.

انتهى الموضوع الأول



## الموضوع الثاني

التاريخ:

### الجزء الأول: (06 نقاط)

1) "... بدأت بواعث حركة عدم الانحياز تظهر منذ مطلع الخمسينيات من القرن الماضي، حيث شهد العالم أكبر حركة تحررية في تاريخه المعاصر، تمثلت في استقلال جزء كبير من المستعمرات في آسيا وإفريقيا وأمريكا اللاتينية، فبدأت هذه الدول تطالب بمكان لها على المسرح العالمي نظرا للصراع الذي كان قائما بين **المعسكرين**، وتسعى لإيجاد أسس جديدة للعلاقات الدولية تضع نهاية للسيطرة الأجنبية بكافة صورها وأشكالها...".

المرجع: دور الجزائر في حركة عدم الانحياز خلال المؤتمر الرابع 1973 (ص 32)

جامعة بسكرة كلية العلوم الإنسانية والاجتماعية 2015/2014.

المطلوب: اشرح ما تحته خط في النص.

2) على خريطة العالم المرفقة، وقّع دولة واحدة عضو في **الحلف الأطلسي** ودولة واحدة عضو في **حلف بغداد** ودولة واحدة عضو في **حلف جنوب شرق آسيا** ودولة واحدة عضو في **حلف وارسو**.

### الجزء الثاني: (04 نقاط)

في ظل الانتصارات التي ما فتئت تُحقّقها الثورة الجزائرية بين 1956 – 1958، عمدت فرنسا إلى الاستتجاد بشارل ديغول قصد القضاء على الثورة والتّخلص من مشاكلها الداخلية.

المطلوب: انطلاقا من الفقرة واعتمادا على ما درست، اكتب مقالا تاريخيا تبيّن فيه:

1) الانتصارات الداخلية التي حققتها الثورة بين 1956 – 1958.

2) مشاريع شارل ديغول السياسية للقضاء على الثورة.



## الجغرافيا

### الجزء الأول: (06 نقاط)

(1) "... لم تتحقق الآمال المعقودة على الجماعة الاقتصادية الأوروبية كون الدول الأعضاء لم يكن لديها الرغبة في التخلي عن سيادتها في المجالات المالية والنقدية، خاصة وأن التضخم والبطالة بقيت من أبرز المشكلات التي تواجه الجهود الأوروبية في التقارب والاندماج، كما تعرضت دول الاتحاد الأوروبي إلى حالة من عدم الاستقرار في أسعار العملات الأوروبية، الأمر الذي أوجد عقبات كثيرة منعت الشركات الأوروبية من الاستثمار في دول أوروبية أخرى..."

المرجع: الاتحاد الأوروبي والتفاعل الدولي في ظل النظام الدولي الجديد -

إعداد معن عبد العزيز الرئيس 2014 - 2015 جامعة الشرق الأوسط - ص 80 .

المطلوب: اشرح ما تحته خط في النص.

(2) إليك جدولاً يمثل نسب التبادل التجاري لبعض المناطق مع الاتحاد الأوروبي عام 2010.

المناطق	أمريكا الجنوبية والوسطى	أمريكا الشمالية	آسيا	الشرق الاوسط	إفريقيا
الصادرات%	07%	28%	04%	11%	13%
الواردات%	06%	14%	38%	05%	09%

المرجع: الاتحاد الاوربي - جون بيندر وسيمون أشرود ص 132

ترجمة خالد غريب علي الطبعة الاولى 2015

المطلوب: مثل النسب الواردة في الجدول بأعمدة بيانية في مجال واحد بمقياس:

$$1 \text{ سم} = 5\% - 1 \text{ سم} = \text{سمك العمود}$$

### الجزء الثاني: (04 نقاط)

تُبرز المؤشرات الاقتصادية لعالم الجنوب أنه يعاني من تخلف اقتصادي كانت له انعكاسات سلبية على شعوبه.

المطلوب: انطلاقاً من العبارة واعتماداً على ما درست، اكتب مقالا جغرافيا تبيّن فيه:

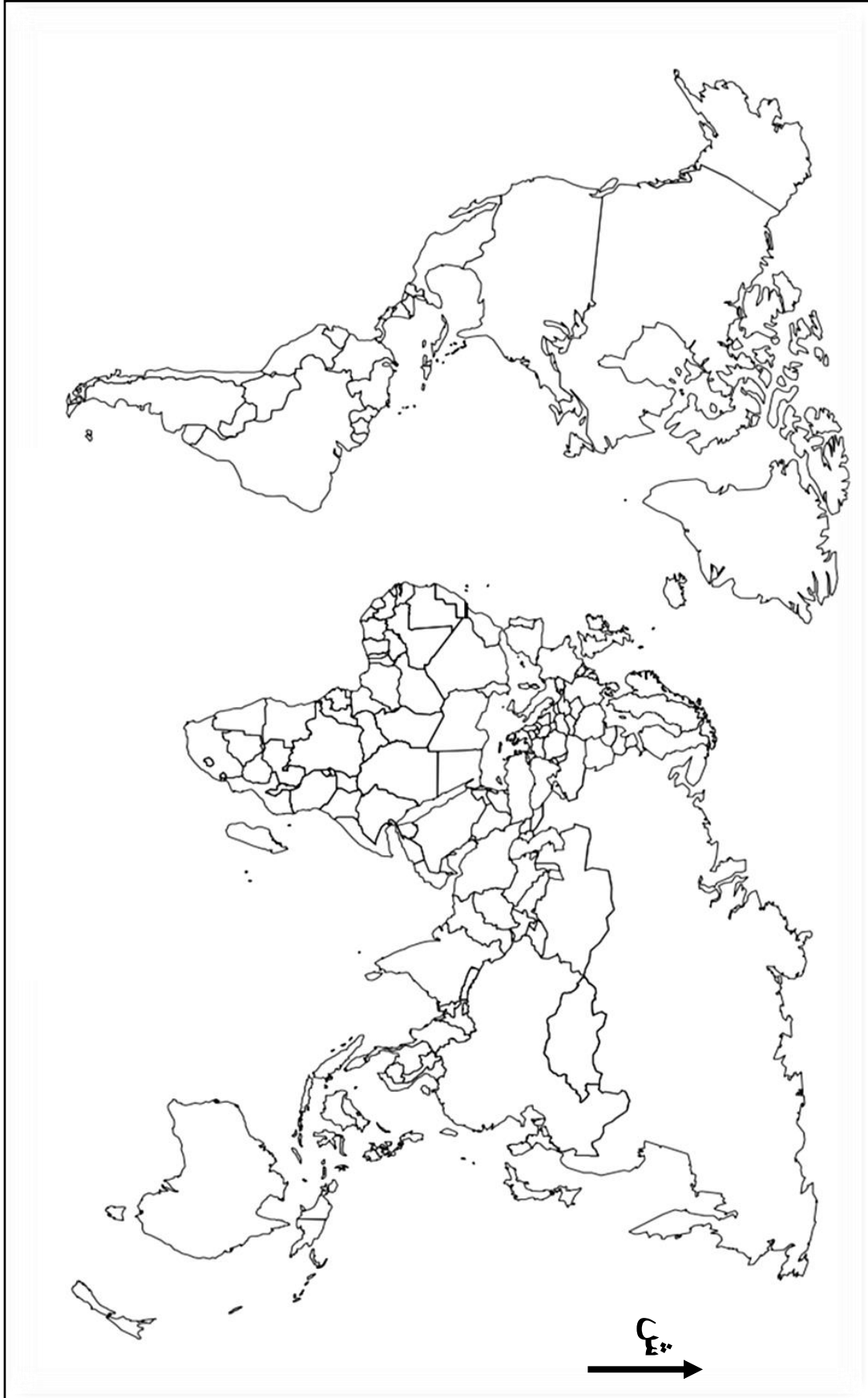
(1) المؤشرات الاقتصادية التي تُبرز تخلف عالم الجنوب.

(2) انعكاسات التخلف الاقتصادي على شعوبه.

انتهى الموضوع الثاني



خريطة العالم



ينجز العمل المطلوب على الخريطة وتعاد مع أوراق الإجابة

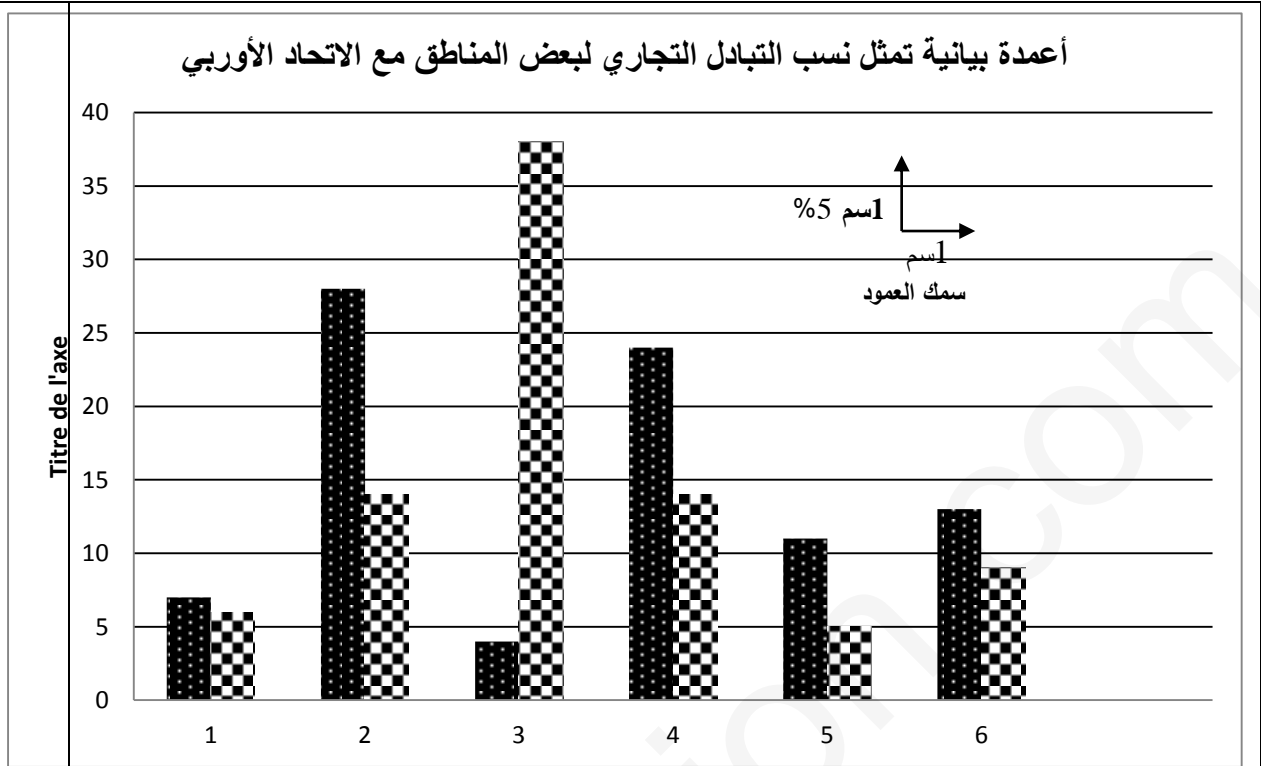
العلامة		عناصر الإجابة (الموضوع الأول) التاريخ								
مجموع	مجزأة									
6	01 01 01	<p><b>الجزء الأول(06ن)</b></p> <p><b>(1) التعريف بالشخصيات:</b></p> <ul style="list-style-type: none"> <li>• جون كينيدي: رئيس الوم أ(63/61) (0.50ن) تميزت فترته بأزمة الصواريخ، اغتيل سنة 1963 0.50ن</li> <li>• فيدال كاسترو: رئيس كوبا وثنائ، قاد الثورة ضد نظام باتستا 1959(0.50ن)، تميزت بداية حكمه بأزمة الصواريخ، أحد زعماء حركة عم الانحياز (0.50ن) ...</li> <li>• خروتشوف: أحد زعماء الاتحاد السوفييتي، صاحب مبادرة التعايش السلمي، (0.50ن) تميزت فترته بأزمة كوبا 1962 وقناة السويس، أول رئيس زار الوم أ (0.50ن).</li> </ul> <p><b>(2) تحديد تواريخ الأحداث التالية:</b></p> <table border="1" style="margin-left: auto; margin-right: auto;"> <thead> <tr> <th>التاريخ</th> <th>الحدث</th> </tr> </thead> <tbody> <tr> <td>19-09-1958</td> <td>تأسيس الحكومة المؤقتة للجمهورية الجزائرية</td> </tr> <tr> <td>19 ماي 1956</td> <td>إضراب الطلبة والتحاقهم بالثورة</td> </tr> <tr> <td>20 مارس 1970</td> <td>تأسيس المنظمة الفرانكفونية</td> </tr> </tbody> </table>	التاريخ	الحدث	19-09-1958	تأسيس الحكومة المؤقتة للجمهورية الجزائرية	19 ماي 1956	إضراب الطلبة والتحاقهم بالثورة	20 مارس 1970	تأسيس المنظمة الفرانكفونية
		التاريخ	الحدث							
		19-09-1958	تأسيس الحكومة المؤقتة للجمهورية الجزائرية							
19 ماي 1956	إضراب الطلبة والتحاقهم بالثورة									
20 مارس 1970	تأسيس المنظمة الفرانكفونية									
4	0.50 0.25 0.25 0.5	<p><b>الجزء الثاني:</b></p> <p><b>مقدمة:</b> القوتان العسكريتان بين خطورة المواجهة العسكرية المباشرة وأثرها على العالم وحتمية التفاهم والتعايش.</p> <p><b>(تقبل كل مقدمة وجيهة)</b></p> <p><b>(1) دوافع تجنب القوتين العظميين المواجهة المباشرة بينهما:</b></p> <ul style="list-style-type: none"> <li>• توازن قوة الردع النووي بين القوتين والتنافس في مجال الفضاء.</li> <li>• الخسائر المادية والاقتصادية للمعسكرين الناجمة عن التدخلات العسكرية.</li> <li>• ضغط الرأي العام العالمي الراض لصراع القوتين.</li> <li>• ظهور كتلة العالم الثالث ورفضها للصراع.</li> <li>• تغير الخطاب السياسي لدى القوتين مع مجيء قيادة سياسية معتدلة.</li> <li>• ظهور بوادر التفكك داخل المعسكرين (توتر العلاقات الصينية السوفياتية والفرنسية الأمريكية)</li> </ul> <p><b>(2) انعكاسات ذلك على العلاقات الدولية:</b></p> <ul style="list-style-type: none"> <li>• انفراج في العلاقات الدولية (تجنب حرب نووية مدمرة).</li> <li>• تسوية بعض النزاعات بين القوتين بالطرق السلمية.</li> <li>• توقيع اتفاقيات الحد من التسلح الاستراتيجي (سالت 1 و2)</li> <li>• ازدياد التقارب بين زعماء الكتلتين من خلال تبادل الزيارات ...</li> <li>• التقارب الأفرة -آسيوي وظهور حركة عدم الانحياز.</li> <li>• تصاعد المد التحرري.</li> </ul> <p><b>الخاتمة:</b> تجنب المواجهة العسكرية المباشرة بين القوتين، ساهم في تحسين العلاقات الدولية.</p> <p><b>(تقبل كل خاتمة وجيهة)</b> <b>(تقبل الإجابات الصحيحة الأخرى)</b></p>								

العلامة		عناصر الإجابة (الموضوع الأول) الجغرافيا
مجموع	مجزأة	
06		<b>الجزء الأول: (06ن)</b> <b>1) شرح المصطلحات التي تحتها خط في النص:</b>
	01	• <b>الشراكة:</b> هي التعاون بين دولتين أو أكثر في مختلف المجالات خاصة الاقتصادية (0.50ن)، لتحقيق أهداف مشتركة مثل توقيع الجزائر لاتفاق الشراكة مع الاتحاد الأوربي عام 2002 (0.50)
	01	• <b>إلغاء الحواجز الجمركية:</b> هو رفع القيود (الضريبة...) التي تفرضها الدولة على وارداتها (0.50) لتعزيز التعاون بين الدول. (0.50)
	01	• <b>القطاع الخاص:</b> هو امتلاك الأشخاص والمؤسسات غير التابعة للدولة لوسائل الإنتاج والخدمات للقيام بأنشطة اقتصادية...
	01	<b>2) التعليق على المعطيات الواردة في الجدول:</b>
	01	• ضخامة الإنتاج وارتفاع نسب مساهمة الوم أ في اذلك. (01ن)
	0.50	• احتلالها مراتب متقدمة في كل الموارد. (01)
	0.50	• تنوع الموارد الطبيعية في الوم أ (معادن + طاقة) (0.50)
	0.50	• تباين نسب المساهمة في الإنتاج العالمي بين الموارد. (0.50)
		<b>الجزء الثاني: (04ن)</b>
0.50	<b>مقدمة:</b> البترول بين أهميته الاقتصادية العالمية وعدم استقرار أسعاره. (تقبل كل مقدمة وجيهة)	
0.50	<b>1) أهمية البترول في الاقتصاد العالمي:</b>	
0.25	• أول وأهم مصدر للطاقة في العالم.	
0.25	• تعدد مجالات استعماله (كثرة مشتقاته).	
0.25	• مصدر أساسي في الدخل القومي للعديد من الدول.	
0.25	• مساهمته في دفع عجلة التنمية الاقتصادية والاجتماعية للدول المصدرة له.	
0.25	• وسيلة لربط علاقات اقتصادية بين الدول، ووسيلة ضغط أثناء الأزمات الاقتصادية.	
0.50	<b>2) دور الأوبك والدول المصدرة الأخرى في المحافظة على أسعاره.</b>	
0.50	• التنسيق بين دول الأوبك والدول المصدرة الأخرى حول العرض في الأسواق العالمية.	
0.50	• العمل على حماية الأسعار بالموازنة بين العرض والطلب. (تحديد حصص الإنتاج)	
0.25	• محاربة الاحتكار وهيمنة الشركات الأجنبية.	
0.25	• التعاون التقني بين دول الأوبك والدول المصدرة الأخرى.	
0.50	<b>الخاتمة:</b> رغم جهود الأوبك والدول المصدرة الأخرى لاتزال أسعار البترول خاضعة لضغوط الاحتكارات العالمية. (تقبل كل خاتمة وجيهة)	
	(تقبل الإجابات الصحيحة الأخرى)	

العلامة		عناصر الإجابة (الموضوع الثاني) التاريخ
مجموع	مجزأة	
06	01	الجزء الأول: (06ن) 1) شرح ما تحته خط في النص. • حركة عدم الانحياز: تنظيم سياسي تأسس بعد انعقاد مؤتمر بلغراد عام 1961 (0.50) يضم دول العالم الثالث المستقلة حديثا، تبنت سياسة الحياد الإيجابي خلال الحرب الباردة (0.50ن) • حركة تحررية: رد فعل شعوب المستعمرات على الوجود الاستعماري (0.50ن)، متخذة أساليب ووسائل مختلفة، تهدف إلى تحقيق الاستقلال واستعادة السيادة (0.50ن). • المعسكرين: يقصد بهما المعسكر الشرقي بزعامة الاتحاد السوفياتي، والمعسكر الغربي بزعامة الو م أ (0.75ن) وذلك في إطار الحرب الباردة (0.25) ...
		2) التوقيع على خريطة العالم دولة واحدة عضو في الحلف الأطلسي ودولة واحدة عضو في حلف بغداد ودولة واحدة عضو في حلف جنوب شرق آسيا ودولة واحدة عضو في حلف وارسو. - التوقيع (0.5 ن لكل دولة) - العنوان (0.5 ن) - المفتاح (0.5 ن)
		الجزء الثاني (04ن) مقدمة: انتصارات الثورة الجزائرية الداخلية في مواجهة مخططات شارل ديغول. (تقبل كل مقدمة وجبهة) 1) الانتصارات الداخلية التي حققتها الثورة بين 1956-1958: ✓ العسكرية: • شمولية الثورة لمختلف ربوع الوطن. • قرارات مؤتمر الصومام: تنظيم جيش التحرير الوطني وتكيفه مع المخططات العسكرية للاستعمار. • إلحاق خسائر بشرية ومادية بالجيش الفرنسي. ✓ السياسية: • تدعيم الثورة بهياكل تنظيمية (قرارات مؤتمر الصومام). (0.25) • نجاح إضرابات 08 أيام 1957. (0.25) • نجاح التنظيم الجماهيري والتفاف الشعب حول الثورة. (التعبئة الشعبية) (0.25)
		2) مشاريع ديغول السياسية للقضاء على الثورة: • عرض مشروع سلم الشجعان في 23 أكتوبر 1958. (0.50) • الاستفتاء على دستور الجمهورية الخامسة 28 سبتمبر 1958 (حول بقاء الجزائر فرنسية) (0.25) • إنشاء قوة ثالثة من العملاء لتمثيل الجزائر ... (0.25) • طرح مشاريع لتقسيم الجزائر (مخطط هرسان) ومخطط تجميع المستوطنين 1961. (0.25) • طرح مشروع تقرير المصير 16 سبتمبر 1959. (0.25)
		الخاتمة: قوة الثورة الجزائرية حال دون تمكن شارل ديغول من تنفيذ مخططاته. (تقبل كل خاتمة وجبهة) (تقبل كل الإجابات الصحيحة)
		0.5
		0.25
		3×
		0.25
		0.50




العلامة		عناصر الإجابة (الموضوع الثاني) الجغرافيا
مجموع	مجزأة	
06	01	<p>الجزء الأول:</p> <p>1) شرح ما تحته خط في النص:</p> <ul style="list-style-type: none"> <li>• البطالة: هي عدم توفر مناصب شغل للفئة القادرة على العمل والطالبة له (0.50) والتي بلغت السن القانوني للعمل... (0.50ن)</li> <li>• الاتحاد الأوروبي: هو كتلة سياسي واقتصادي قاري (0.25) تأسس عام 1957 ب 06 دول تحت اسم السوق الأوروبية المشتركة (0.25) أخذ في التوسع ليتحول بعد معاهدة ماستريخت عام 1992 إلى الاتحاد الأوروبي (0.25) يضم حاليا 28 دولة أوروبية وهو أحد أقطاب الثالوث الاقتصادي العالمي... (0.25)</li> <li>• الاستثمار: هو توظيف رؤوس الأموال في مشاريع مختلفة (0.50) بهدف تحقيق الربح والفائدة. (0.50)</li> </ul> <p>2) تمثيل النسب المئوية للتبادل التجاري لبعض المناطق مع الاتحاد الأوروبي عام: 2010</p> <p>- الإنجاز: 1.50 - العنوان: 0.50 - المفتاح: 0.50 - المقياس: 0.50</p>
	01	<p>الجزء الثاني</p> <p>مقدمة: مؤشرات التخلف الاقتصادي وانعكاساتها على عالم الجنوب. (تقبل كل مقدمة وجيهة)</p> <p>1) المؤشرات الاقتصادية التي تبرز تخلف عالم الجنوب:</p> <ul style="list-style-type: none"> <li>• الاعتماد على تصدير المواد خاما لضعف الصناعة التحويلية.</li> <li>• الاعتماد على الاستيراد لتوفير حاجيات سكانه (ضعف الانتاج الزراعي والصناعي).</li> <li>• قلة رؤوس الأموال وارتفاع حجم المديونية وضعف قيمة عُمَلاته.</li> <li>• ضعف الاستثمارات الداخلية والخارجية.</li> <li>• ضعف التحكم في التكنولوجيا.</li> <li>• ضعف الدخل القومي والفردي...</li> </ul>
	01	<p>2) انعكاسات التخلف الاقتصادي على شعوب عالم الجنوب:</p> <ul style="list-style-type: none"> <li>• انتشار ظاهرة الفقر بين شعوبه ما ترتب عنه: سوء التغذية، المجاعة، الأمراض، ارتفاع نسبة الوفيات والأمية... (ضعف مؤشر التنمية البشرية). (0.50)</li> <li>• ارتفاع نسبة البطالة. (0.50)</li> <li>• النزوح الريفي والهجرة نحو الدول المتقدمة. (0.25)</li> <li>• انتشار الاضطرابات الاجتماعية. (0.25)</li> </ul>
	03	<p>خاتمة: يبقى عالم الجنوب على حاله إذا لم يأخذ بأسباب التقدم.</p> <p>(تقبل كل خاتمة وجيهة)</p> <p>(تقبل كل إجابة صحيحة)</p>
	0.5	
	×0.25	
	6	
	04	
	0.50	
	0.50	
0.25		
0.25		
0.5		




المفتاح

6	5	4	3	2	1
إفريقيا	الشرق الأوسط	أوروبا	آسيا	أمريكا الشمالية	أمريكا الجنوبية

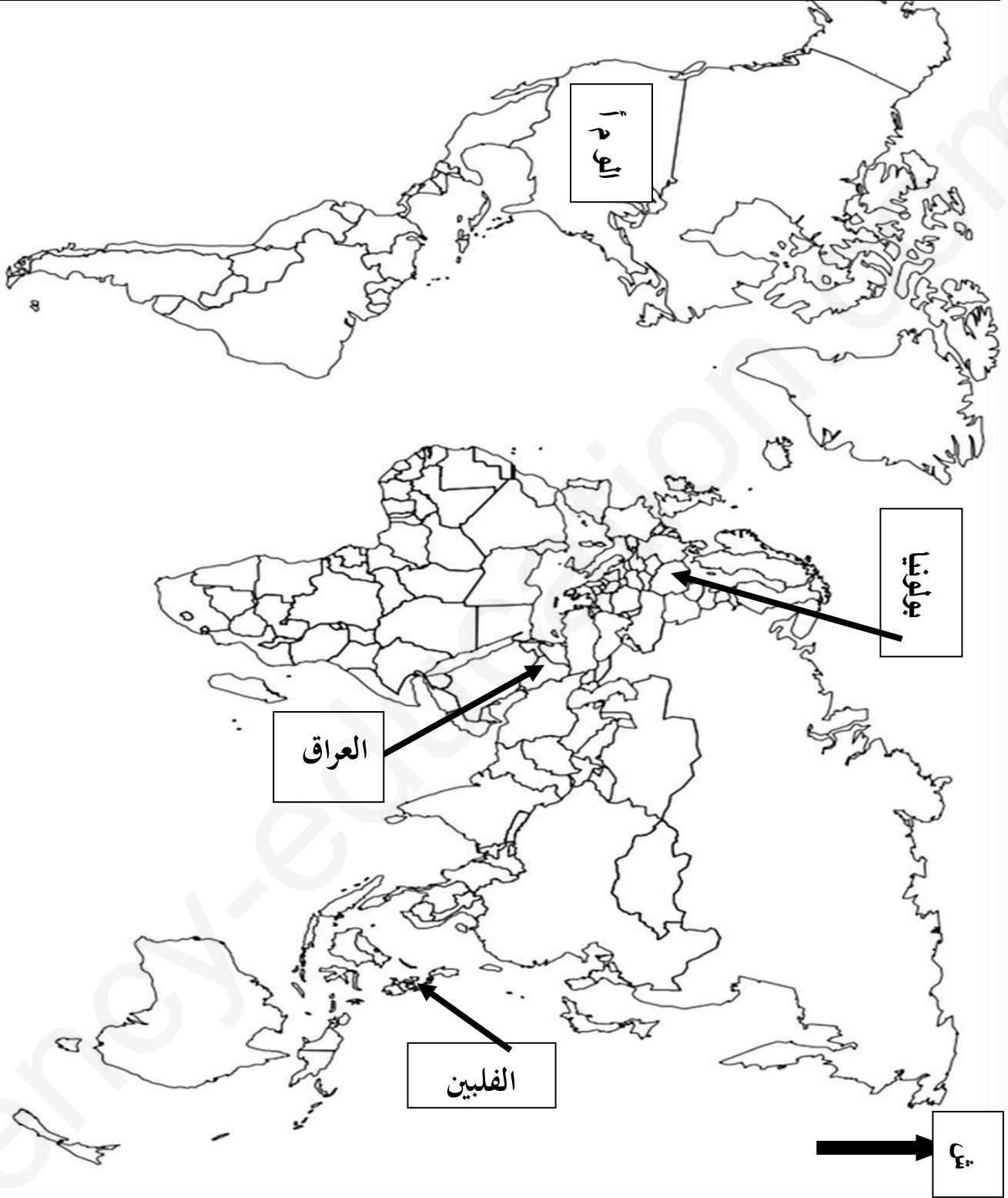


الصادرات



الواردات

الوم أ (الحلف الأطلسي) - بولونيا (حلف وارسو) - الفلبين (حلف جنوب شرق آسيا) - العراق (حلف بغداد)  
ملاحظة: تقبل كل الدول الأخرى العضوة في كل حلف.



العنوان : توقيع دولة واحدة عضو في الحلف الأطلسي و أخرى في حلف ج ش آسيا و أخرى في حلف بغداد و أخرى في حلف وارسو