

الجمهورية الجزائرية الديمقراطية الشعبية

وزارة التربية الوطنية

الديوان الوطني للامتحانات والمسابقات

امتحان بكالوريا التعليم الثانوي

دورة: جوان 2013

الشعبة: تسيير واقتصاد

اختبار في مادة: التاريخ والجغرافيا

المدة: 03 سا و 30 د

على المترشح أن يختار أحد الموضوعين التاليين:

الموضوع الأول

التاريخ:

الجزء الأول: (06 نقاط)

"... العالم اليوم لا ينقسم إلى كتل سياسية كما كان الحال إبان الحرب الباردة، لم يعد هناك معسكر للاشتراكية وآخر للرأسمالية بالإضافة إلى كتلة العالم الثالث، بل إنَّ عالم القرن الواحد والعشرين يواجه انقساماً بنيوياً على المستوى الهرمي وليس على المستوى الأفقي، منذ سقوط جدار برلين وانقضاء عصر القطبية الثنائية، فقد بادر بوش الأب مع مطلع التسعينات إلى ممارسة أول اختبار في حشد معظم دول الأرض الفاعلة، في شن ما يشبه حرباً عالمية ثالثة على العراق ...".

انقسام العالم بين معسكر الرجعية والتقدمية /مطاع الصفدي.

1- حدّد مفهوم المصطلحات التي تحتها خط في الوثيقة.

2- عرّف بالشخصيات الآتية:

- رونالد ريغن - هوشى منه - جمال عبد الناصر.

3- أكمل الجدول بذكر الحدث أو تاريخه:

التاريخ	الحدث
01 جويلية 1962	
	تأسيس حلف وارسو
23 مارس 1954	

الجزء الثاني: (04 نقاط)

إذا كانت الحكومات هي التي تصنع سياستها الخارجية عن طريق دبلوماسيتها، فإنّ الدبلوماسية

الجزائرية سايرت الثورة وساهمت في إعادة بعث الدولة الجزائرية.

المطلوب: انطلاقاً من العبارة، واعتماداً على ما درست، اكتب مقالا تاريخيا تبين فيه:

1- النشاط الدبلوماسي للثورة.

2- رد فعل الاستعمار على هذا النشاط.

الجزء الأول: (06 نقاط)

1- قال جوستين يوفولين النائب الأول لرئيس البنك الدولي لشؤون اقتصاديات التنمية: "...أحدثت الانطلاقة السريعة للاقتصاديات الصاعدة - البرازيل، الهند، أندونيسيا، كوريا الجنوبية - نقلة نوعية من حيث توزيع مراكز النمو الاقتصادي فيما بين بلدان متقدمة وأخرى نامية، إنه بحق عالم متعدد الأقطاب، فالشركات متعددة الجنسيات بالأسواق الصاعدة تغدو قوة فاعلة في إعادة صياغة ملامح الصناعة العالمية من خلال التوسع السريع للاستثمار فيما بين بلدان الجنوب وتدفقات الاستثمار الأجنبي المباشر، ويجب على المؤسسات المالية الدولية أن تتكيف بسرعة لمواكبة هذه التطورات...".

تقرير البنك الدولي/آفاق التنمية العالمية 2011

المطلوب: أ- حدّد مفهوم المصطلحات التي تحتها خط في الوثيقة.

ب- على خريطة العالم المرفقة، وقّع أسماء الدول الواردة في الوثيقة.

2 - إليك جدولاً لمناطق التبادل التجاري للجزائر بين 2010 و2011: الوحدة: مليون دولار

2011		2010		المنطقة
الصادرات	الواردات	الصادرات	الواردات	
37445,3	24616	28598	20430	الإتحاد الأوروبي
19673,2	2424	17152	22419	أمريكا الشمالية
4304,5	4209	2697	2584	أمريكا اللاتينية
1591,5	691	1308	544	المغرب العربي
813	1761	710	1263	باقي الدول العربية
146	578	79	396	إفريقيا
5424,2	9961	4297	9818	آسيا
4365,7	3009	3413	3019	باقي العالم
73763,4	47249	58254	60473	المجموع

الديوان الوطني للإحصائيات 2012

- علق على معطيات الجدول.

الجزء الثاني: (04 نقاط)

إذا كان البترول غذاء الصناعة، فالقمح غذاء الأفراد والشعوب، ويكتسب القمح والبترول أهميتهما الإستراتيجية الكبرى في أوقات الحرب والسلام، إذ لا يقوى حينها أي نظام مهما بلغت قوته وقدرته على الصمود والمقاومة والتحدّي وهو لا يملك كفايته من الغذاء والطاقة.

المطلوب: انطلاقاً من الفقرة، واعتماداً على ما درست، اكتب موضوعاً جغرافياً تبين فيه:

1- واقع التجارة العالمية للقمح والبترول.

2- انعكاسات هذا الواقع على دول العالم الثالث سياسياً.

الموضوع الثاني

التاريخ:

الجزء الأول: (06 نقاط)

"... ضاعفت الحكومة الفرنسية من مناوراتها لتجنب المفاوضات مع جبهة التحرير الوطني حيث قام الجيش الاستعماري من جديد بعمليات واسعة... واستطاع جيش التحرير الوطني أن يواصل نشاطه القتالي المستند إلى حرب العصابات مثبتا مراكزه... ويفشل العمليات العسكرية في تحقيق الأهداف المرسومة لها أصبح الحديث عن سلم الشجعان، وضرورة الإسراع بالتنمية الاقتصادية للجزائر من المحاور البارزة في السياسة الجزائرية لديغول وهكذا جاءت الخطة الاقتصادية التي عرفت باسم مشروع قسنطينة..."

مجلة الجيش ديسمبر 1990/ العدد 329.

1- حدّد مفهوم المصطلحات التي تحتها خط في الوثيقة.

2- عرّف بالشخصيات الآتية:

- أحمد بن بلة - آيت أحمد - محمد بوضياف.

3- أكمل الجدول بذكر الحدث أو تاريخه:

التاريخ	الحدث
22 أكتوبر 1956	
	العدوان الثلاثي على مصر
20 جوان 1963	

الجزء الثاني: (04 نقاط)

يقول برجنسكي مستشار الأمن القومي سابقا في الولايات المتحدة الأمريكية:

"... إن أفول نجم الإتحاد السوفياتي معناه تفرد الولايات المتحدة الأمريكية بمركز الدولة العظمى ذات

المسؤوليات العالمية... وهكذا ستبقى الولايات المتحدة الأمريكية القوة العالمية الوحيدة..."

المطلوب: انطلاقا من الفقرة، واعتمادا على ما درست، اكتب مقالا تاريخيا تبرز فيه:

1- عوامل تفكك الكتلة الشرقية.

2- وسائل الهيمنة الأمريكية في توجيه النظام الدولي الجديد.

الجزء الأول: (06 نقاط)

"... ومع مرور الوقت بدأ المزيد من الاندماج في الشركات والأسواق والتحرير لكثير من الاقتصاديات والتدفقات المتنامية للتكنولوجيا ورؤوس الأموال والمعلومات والسلع والخدمات وتراجع السياسات الحمائية ورفع القيود والحواجز الجمركية أمام هذه التدفقات، وقد دعم هذا التوجه وجود آليات تقوي هذه النزعة نحو العولمة، ولعل من أهمها على الإطلاق،... صندوق النقد الدولي والمنظمة العالمية للتجارة ...".

مجلة اقتصاديات شمال إفريقيا العدد 2 / 2005.

1- حدّد مفهوم المصطلحات التي تحتها خط في الوثيقة.

2- إليك جدولاً للدول العشر الأولى في إنتاج القمح سنة 2010: الوحدة : مليون طن

الدول	الصين	الهند	الو.م.أ	روسيا	فرنسا	ألمانيا	باكستان	كندا	استراليا	تركيا
الإنتاج	115.2	80.7	60.1	41.5	38.2	24.1	23.3	23.2	22.1	19.7

الموسوعة العربية

المطلوب: - مثل المعطيات الواردة في الجدول بأعمدة بيانية بمقياس: 1 سم ← 10 م طن.
1 سم ← دولة.

3- على خريطة العالم المرفقة، عيّن القوى الاقتصادية الكبرى في العالم (الأقطاب الاقتصادية الثلاثة).

الجزء الثاني: (04 نقاط)

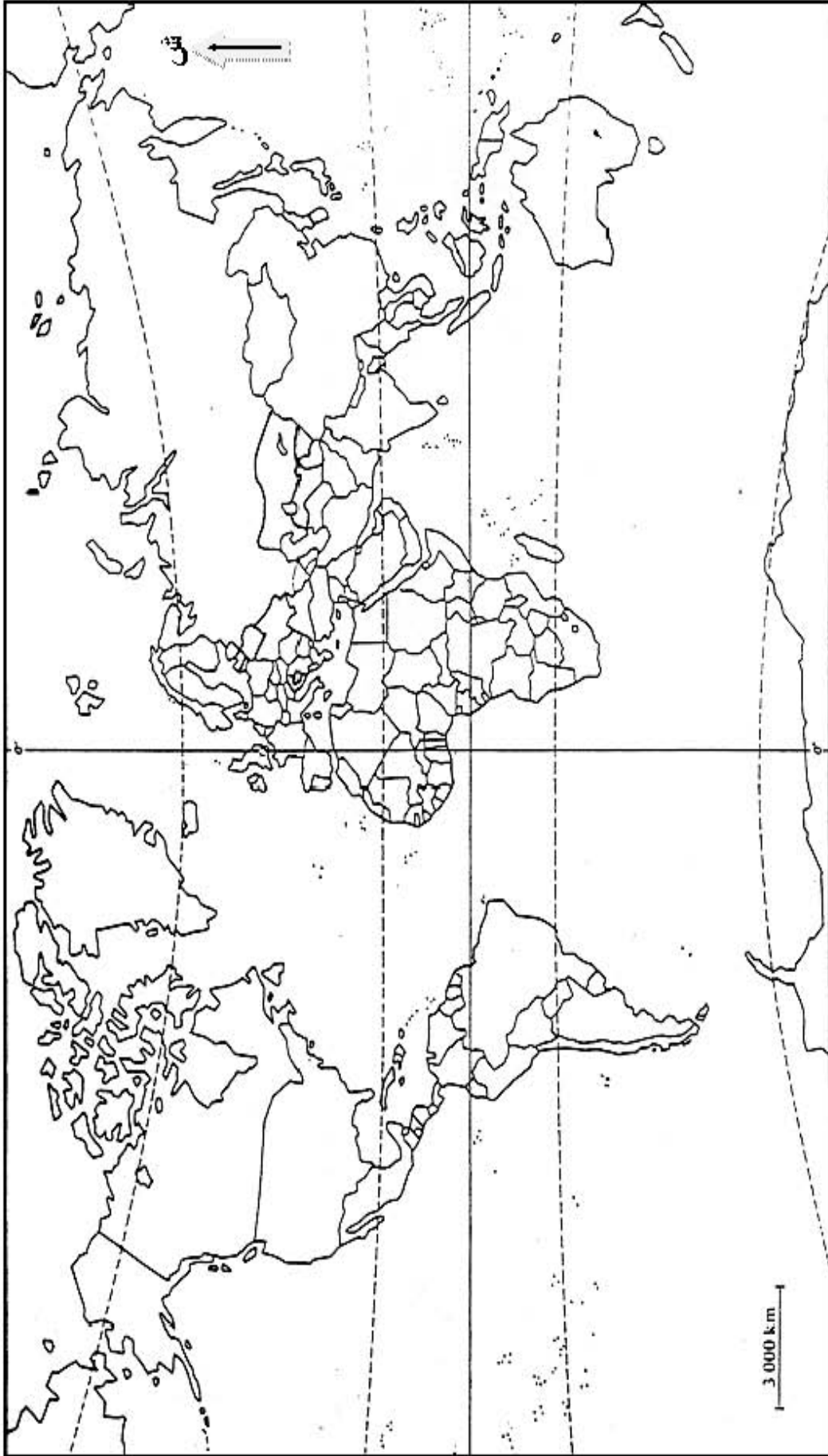
جاء على لسان المستشار الألمانية أنجيلا ميركل في خطابها الأسبوعي:
"... إن البيئة الاقتصادية لسنة 2013 لن تكون سهلة وما زال الطريق طويلاً للتأكد من قدرة الإتحاد الأوروبي على تجاوز الأزمة خلال هذا العام...".

المطلوب: انطلاقاً من الفقرة، واعتماداً على ما درست، اكتب موضوعاً جغرافياً تبين فيه:

1- دور التكتل في تحقيق المكانة الاقتصادية.

2- التحديات الراهنة للإتحاد الأوروبي.

المرفقات: خريطة العالم



ينجز العمل المطلوب على الخريطة وتعاد مع أوراق الإجابة

العلامة		عناصر الإجابة								
مجموع	مجزأة									
06		الموضوع الأول:								
		تاريخ:								
		الجزء الأول: (06 نقاط)								
		1- مفهوم المصطلحات:								
	0.75	* العالم الثالث: مصطلح وضعه المفكر الاقتصادي الفريد سوفي سنة 1952 يقصد به دول الجنوب (كانت خاضعة للاستعمار الأوروبي)، ليميزه عن العالم الأول المعسكر الغربي الرأسمالي والعالم الثاني المعسكر الشرقي.								
	0.75	* جدار برلين: شيده الاتحاد السوفياتي في 13/08/1961 يقسم مدينة برلين إلى شرقية شيوعية وغربية رأسمالية، هدم في 09/11/1989 إيذانا بتوحيد الألمانيتين في أكتوبر 1990.								
	0.75	* القطبية الثنائية: مصطلح ظهر بعد الحرب العالمية الثانية للدلالة على انقسام العالم إلى قوتين متصارعتين ضمن الحرب الباردة بزعامة الولايات المتحدة الأمريكية والاتحاد السوفيتي حتى 1989.								
		2- التعريف بالشخصيات:								
	0.75	* رونالد ريغن (1911-2004): رئيس الولايات المتحدة الأمريكية 1981-1989 تشدد حيال الاتحاد السوفياتي، صاحب مشروع حرب النجوم، شهدت فترته بداية نهاية الصراع بين المعسكرين.								
	0.75	* هوشي منه (1890-1969): مؤسس الحزب الفيتنامي 1930 وجبهة الفيبيت منه أسس الدولة الفيتنامية الشمالية في هانوي، رائد النهضة القومية في الهند الصينية، دخل في حرب مع الاحتلال الفرنسي والأمريكي.								
0.75	* جمال عبد الناصر (1918-1970): أبرز قادة ثورة جويلية 1952، تولى رئاسة الجمهورية المصرية 1954، أمم قناة السويس، تصدى للعدوان الثلاثي 1956 دعم الحركات التحررية، من مؤسسي حركة عدم الانحياز.									
	3- جدول الأحداث :									
		<table border="1"> <thead> <tr> <th>التاريخ</th> <th>الحدث</th> </tr> </thead> <tbody> <tr> <td>01 جويلية 1962</td> <td>استفتاء تقرير المصير</td> </tr> <tr> <td>14 ماي 1955</td> <td>تأسيس حلف وارسو</td> </tr> <tr> <td>23 مارس 1954</td> <td>اللجنة الثورية للوحدة والعمل</td> </tr> </tbody> </table>	التاريخ	الحدث	01 جويلية 1962	استفتاء تقرير المصير	14 ماي 1955	تأسيس حلف وارسو	23 مارس 1954	اللجنة الثورية للوحدة والعمل
التاريخ	الحدث									
01 جويلية 1962	استفتاء تقرير المصير									
14 ماي 1955	تأسيس حلف وارسو									
23 مارس 1954	اللجنة الثورية للوحدة والعمل									
0.50										
0.50										
0.50										

		الجزء الثاني:
	0.50	المقدمة: الدبلوماسية الجزائرية بين القوة والتنوع ومحاولات التصدي الفرنسي لها.
		1- النشاط الدبلوماسي للثورة:
	0.25	*- تدويل القضية الجزائرية وعرضها في المحافل الدولية والإقليمية.
	0.25	*- التعريف بالثورة لدى الدول والشعوب الشقيقة والحليفة.
	0.25	*- تنويع المشاركة في التمثيل (تظاهرات ثقافية ورياضية).
	0.25	*- توسيع دور الإعلام الخارجي (إذاعة، وكالة أنباء، صحف).
	0.25	*- تأسيس الحكومة المؤقتة للجمهورية الجزائرية في 19/09/1958.
	0.25	*- تعيين ممثلين لجبهة التحرير في كثير من بلدان العالم.
		2- رد فعل الاستعمار:
	0.25	*- رفض تدويل القضية الجزائرية.
04	0.25	*- تشويه صورة الثورة والثوار (ثورة أقلية، قطاع طرق... الخ).
	0.25	*- الضغط على بعض الدول والحكومات لمنع دعم الثورة ومحاولة عزلها
	0.25	*- القرصنة الجوية (اختطاف الزعماء الخمس).
	0.25	*- منح الاستقلال لبعض الدول الإفريقية والعربية.
	0.25	*- سعي فرنسا لجعل القضية الجزائرية قضية فرنسية داخلية.
	0.50	الخاتمة: قوة الدبلوماسية الجزائرية أفشلت المخططات الفرنسية للتصدي لها.
		جغرافيا:
		الجزء الأول: (06 نقاط)
		أ - تحديد مفهوم المصطلحات:
	0.75	*- النمو الاقتصادي: مؤشر كمي يقيس عملية الإثراء العامة لبلد معين خلال فترة زمنية محددة (سنة أو سنوات). يمكن قياسه من خلال تطور قيمة الناتج الداخلي الخام أو نسبة نموه السنوي (إيجابيا أو سلبا).
	0.75	*- الشركات متعددة الجنسيات: شركات عملاقة احتكارية متعددة الوظائف، لها فروع في العديد من دول العالم. مقرها الدولة الأم.
	0.75	*- المؤسسات المالية الدولية: مجموعة من المؤسسات ذات الصبغة الدولية تهتم بتنظيم العلاقات الاقتصادية والمالية ممولة من طرف العديد من الدول والشركات، ظهرت بعد الحرب العالمية الثانية (صندوق النقد الدولي، البنك العالمي).
	4×0.25	ب - التوقيع على الخريطة:
	0.50	الإنجاز.
	0.50	العنوان.
		2- التعليق على الجدول:
06	0.50	*- التفاوت في قيمة الصادرات والواردات بين مناطق التبادل.
	0.50	*- ارتفاع قيمة المبادلات التجارية مع العالم المتقدم (الاتحاد الأوروبي وأ. الشمالية آسيا) وانخفاضها مع الدول المتخلفة (العالم العربي، إفريقيا، وأمريكا اللاتينية).
	0.50	*- ارتفاع قيمة الصادرات عن الواردات خاصة سنة 2011.
	0.50	*- استمرار ارتفاع قيمة المبادلات خلال 2011 عن سنة 2010 بصفة عامة.
	0.25	*- عجز بسيط سنة 2010 وتحقيق ميزان تجاري إيجابي (رابح) نسبة 2011

الجزء الثاني:

		<p>المقدمة: البترول والقمح مادتان إستراتيجيتان تحددان طبيعة العلاقات الاقتصادية والسياسية بين دول العالم.</p>
	0.50	
		<p>1- واقع التجارة العالمية للقمح والبترول:</p>
	0.25	<p>*- تحكم الدول المتقدمة في تجارة القمح إنتاجا وتخزينا وتسويقا والبترول استخراجا، تخزينا وتسويقا.</p>
	0.25	<p>*- تحكم الشركات الاحتكارية في أسعار المادتين.</p>
	0.25	<p>*- تبعية دول العالم الثالث للدول المتقدمة في استيراد القمح والعالم المتقدم لدول العالم الثالث المنتجة للبترول.</p>
04	0.25	<p>*- استخدام البترول والقمح كوسيلة ضغط (الحصار الاقتصادي في إيران والسلاح الأخضر).</p>
	0.25	<p>*- تمركز معظم الاحتياطي العالمي للبترول في أماكن محددة من العالم خاصة العالم الثالث.</p>
	0.25	<p>*- إستراتيجية المادتين في التجارة العالمية وحساسيتهما.</p>
		<p>2- انعكاسات هذا الواقع على دول العالم الثالث سياسيا:</p>
	0.25	<p>*- عدم الاستقرار الاجتماعي والسياسي للدول المستوردة (التبعية المفرطة).</p>
	0.25	<p>*- عدم الاستقلال في اتخاذ القرارات والمواقف والخيارات للدول المستوردة.</p>
	0.25	<p>*- التدخل في الشؤون الداخلية للدول وإثارة الفتن والمشاكل بها.</p>
	0.25	<p>*- الهيمنة المفرطة للدول المتحكمة في تجارتهما.</p>
	0.25	<p>*- تراكم أرباح الدول المتحكمة في تجارتهما على حساب الدول المستوردة للقمح والبترول والدول المنتجة للبترول.</p>
	0.25	<p>*- التأثير على سير العلاقات الاقتصادية والسياسية (عدم استقرار الأسعار، قلة العرض أو ارتفاعه).</p>
	0.50	<p>الخاتمة: البترول والقمح نعمة للدول المتحكمة فيهما ونقمة على الدول المستوردة وبعض المنتجة منها.</p>

الموضوع الثاني:

التاريخ:

الجزء الأول: (06 نقاط)

1- تحديد مفهوم المصطلحات:

* **جبهة التحرير الوطني:** الجناح السياسي للثورة تأسست في 1954/10/23 أعلن عنها رسميا في 1954/11/1 ، قادت الكفاح في الجزائر نحو الاستقلال تحولت إلى حزب قاد الجزائر المستقلة.

0.75

* **سلم الشجعان:** يعرف بسلم الأبطال وهو مشروع جاء به الجنرال ديغول في 1958/10/23 يهدف إلى تفويض الثورة عن طريق تسليم السلاح مقابل السلم وعدم المتابعة، رفض من طرف الثوار.

0.75

* **مشروع قسنطينة:** مشروع اقتصادي اجتماعي أعلنه الجنرال ديغول في

0.75

4 أكتوبر 1958 بقسنطينة، يتضمن مشاريع سكنية، تعليمية، توزيع الأراضي وخلق مناصب شغل، هدفه القضاء على الثورة الجزائرية وعزلها عن طريق خلق طبقة برجوازية مرتبطة بفرنسا (سياسة الإغراء).

06

2- التعريف بالشخصيات :

* **أحمد بن بلة 1918 - 2012:** سياسي جزائري، من مناضلي حزب الشعب الجزائري ثم حركة الانتصار للحريات الديمقراطية، خطط للهجوم على بريد وهران، ترأس المنظمة الخاصة ،من مجموعة الثلاث في الخارج ، من بين المختطفين الخمس 1956 أول رئيس للجمهورية الجزائرية المستقلة 1962 - 1965.

0.75

* **حسين آيت أحمد 1926:** سياسي جزائري، من مناضلي حزب الشعب الجزائري، ثاني رئيس للمنظمة الخاصة، من بين المختطفين الخمس 1956، أطلق سراجه بعد وقف إطلاق النار، أسس جبهة القوى الاشتراكية سنة 1963.

0.75

* **محمد بوضياف 1919 - 1992:** سياسي جزائري من مناضلي حزب الشعب، عضو المنظمة الخاصة واللجنة الثورية للوحدة والعمل، منسق لجنة الست، من المختطفين الخمس 1956، شغل منصب وزير دولة في الحكومة المؤقتة، رئيس المجلس الأعلى للدولة اغتيل سنة 1992.

0.75

3 - جدول الأحداث:

التاريخ	الحدث
22 أكتوبر 1956	اختطاف طائرة الزعماء الخمسة
29 أكتوبر 1956	العدوان الثلاثي على مصر
20 جوان 1963	إنشاء الخط الهاتفي الأحمر

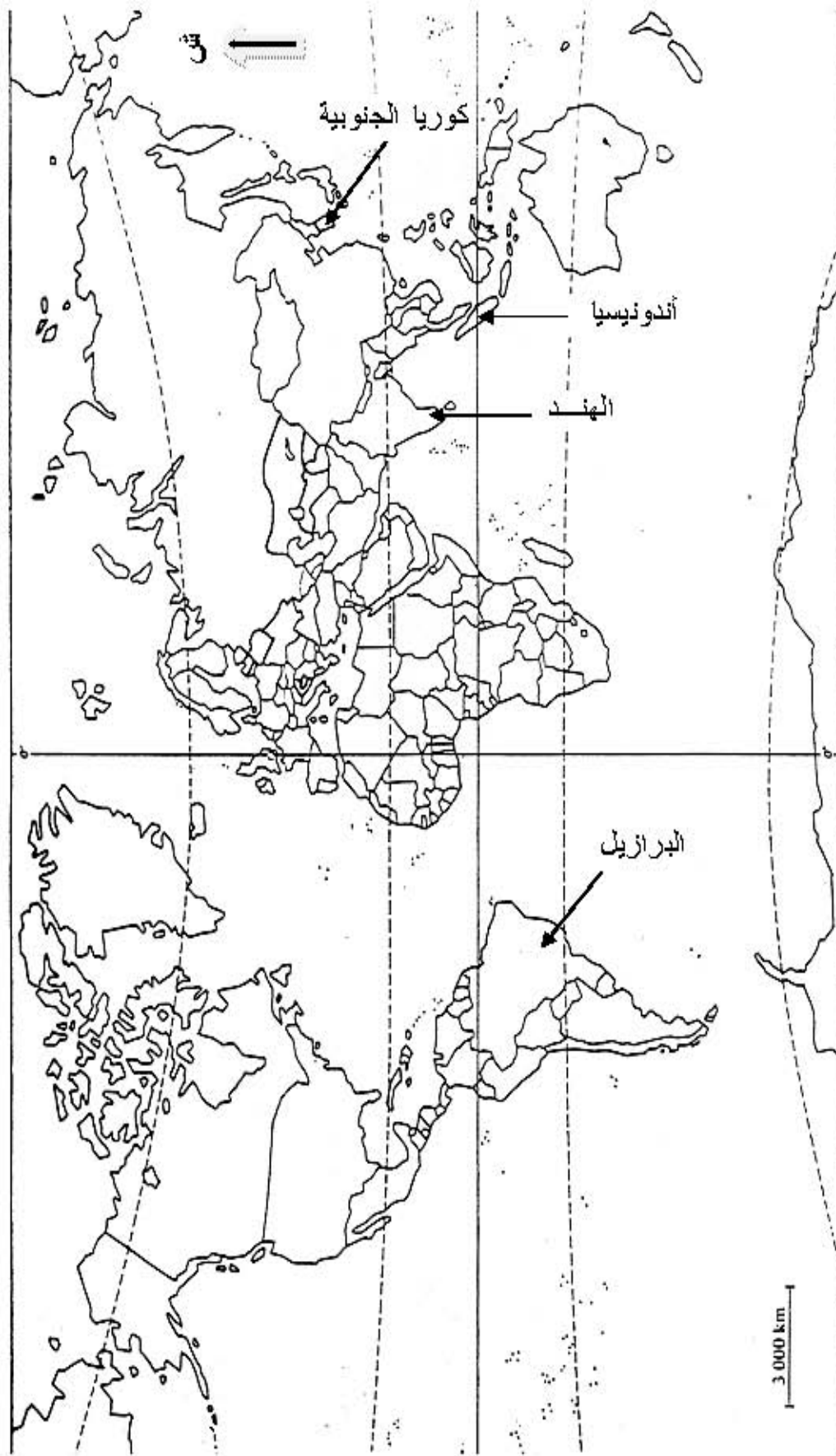
0.50

0.50

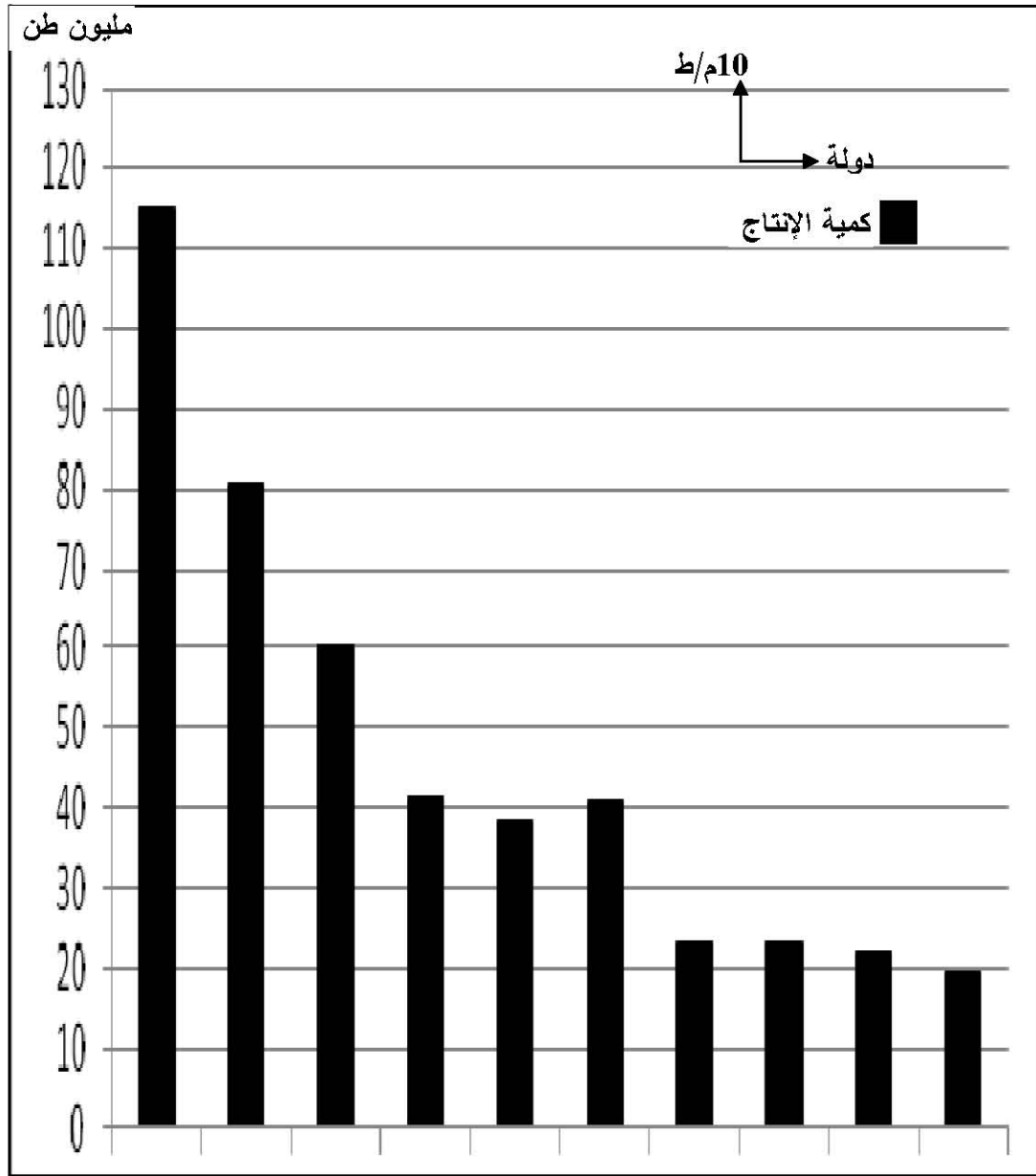
0.50

		الجزء الثاني: (04 نقاط)
	0.50	المقدمة: العلاقات الدولية من الثنائية إلى الأحادية القطبية. 1 - عوامل تفكك الكتلة الشرقية:
	0.25	* - طبيعة الأنظمة وتعدد القوميات والديانات.
	0.25	* - القمع الديموي للحركات السلمية باستخدام الجيش الأحمر السوفيياتي.
	0.25	* - ضعف الاتحاد السوفيياتي وتراجع دوره الريادي في حماية الأنظمة الشيوعية.
	0.25	* - فشل إصلاحات ميخائيل غرباتشوف وانعكاساتها على الإصلاحات في أوروبا الشرقية.
	0.25	* - ظهور منظمات نقابية وسياسية معارضة.
	0.25	* - سياسة التطويق الأمريكية والحملات الإعلامية.
04	0.25	* - الدعم الغربي الرأسمالي للحركات الانفصالية.
		2- وسائل الهيمنة الأمريكية في توجيه النظام الدولي الجديد:
	0.25	* - استخدام الولايات المتحدة الأمريكية هيئة الأمم المتحدة والمنظمات الحكومية وغير الحكومية في إضفاء الشرعية على قراراتها.
	0.25	* - استخدام المنظمات المالية والاقتصادية واستغلال الغذاء والمال كوسيلة ضغط (الحصار).
	0.25	* - تفعيل دور الحلف الأطلسي في تنظيم السلم والأمن العالميين وفق المنظور الأمريكي.
	0.25	* - التدخلات العسكرية ضد الدول المعارضة للسياسة الأمريكية.
	0.25	* - الحملات الإعلامية.
	0.50	الخاتمة: غياب التوازن الدولي سمح بانفراد الولايات المتحدة الأمريكية في إرساء النظام الدولي الجديد حسب توجهاتها.
		الجغرافيا:
		الجزء الأول: (06 نقاط)
		1 - مفهوم المصطلحات:
	0.75	* - التكنولوجيا: قدرة الإنسان على التحكم في القوانين الطبيعية والابتكار واستغلالها لتحقيق الأغراض المختلفة في مختلف المجالات.
	0.75	* - رؤوس الأموال: جميع الوسائل المادية الضرورية لأي نشاط اقتصادي أو ممتلكات الأفراد أو الدولة، منقولة أو ثابتة نقدية أو عينية.
06	0.75	* - العولمة: عملية انصهار اقتصادي واجتماعي تجعل العالم في بوتقة واحدة، أي تحول العالم إلى قرية صغيرة يسيرها نمط سياسي واقتصادي وثقافي موحد مفروض من طرف القوى الكبرى.

	0.75	*- المنظمة العالمية للتجارة: هيئة دولية تأسست في مراكش 1995 خلفا للغات تهدف إلى تنظيم التجارة العالمية وتنمية العلاقات التجارية بين الدول، إلغاء الحواجز الجمركية مقرها جنيف.
	0.50	2- الرسم البياني:
	0.25	- الإنجاز.
	0.25	- المقياس.
	0.25	- المفتاح.
	0.25	- العنوان.
	3×0.5	3 - التوقيع على الخريطة: الأقطاب الاقتصادية الثلاثة.
	0.25	- الإنجاز.
	0.25	- العنوان.
		الجزء الثاني: (04 نقاط)
	0.50	المقدمة: الاتحاد الأوروبي بين مظاهر الوحدة والتحديات الراهنة.
	0.25	1 - دور التكتل في تحقيق المكانة الاقتصادية:
04	0.25	- الاتحاد قطب من الأقطاب العالمية الثلاثة.
	0.25	- تحقيق التفوق الزراعي والصناعي عالميا (مراتب متقدمة في إنتاج الحبوب، الكروم، السيارات والصناعة الفضائية).
	0.25	- تحقيق التفوق التجاري، الأول عالميا كتكتل (35 % من مجموع المبادلات واتساع التجارة
	0.25	البيئية 60%) والفائض في الميزان التجاري.
	0.25	- توحيد العملة اليورو ومناقسته لل عملات الأخرى.
	0.25	- القوة المالية ومكانة البورصات الأوروبية.
	0.25	- بروز شركات كبرى متعددة الجنسيات ذات الأصول الأوروبية.
	0.25	- رائد في مجال البحث العلمي والتكنولوجي. (ثالث قوة مصدرة للتكنولوجيا العالية).
		2- التحديات الراهنة للاتحاد الأوروبي:
	0.25	- رغم عدم تجانس شعوب الاتحاد الأوروبي إلا أن الرخاء الاقتصادي خلق لحمة اقتصادية بين هذه الشعوب.
	0.25	- تعرض الاتحاد لأزمات مالية دفعته إلى وضع خطط وتفعيل دور الصندوق.
	0.25	- الصمود في وجه المنافسة الخارجية للأقطاب الأخرى.
	0.25	- استمرار المساعي لدمج كل دول الاتحاد في العملة الموحدة، رغم رفض البعض لها.
	0.25	- نقص المواد الأولية دفع الاتحاد إلى التخلي على بعض الصناعات، تكثيف عمليات التنقيب والاستخراج، نقل بعض الصناعات إلى خارج الاتحاد (إعادة التوطين).
	0.50	الخاتمة: يبقى الاتحاد الأوروبي قوة اقتصادية وثاني قطب عالمي رغم بعض الصعوبات التي وضعتها أمام تحديات.

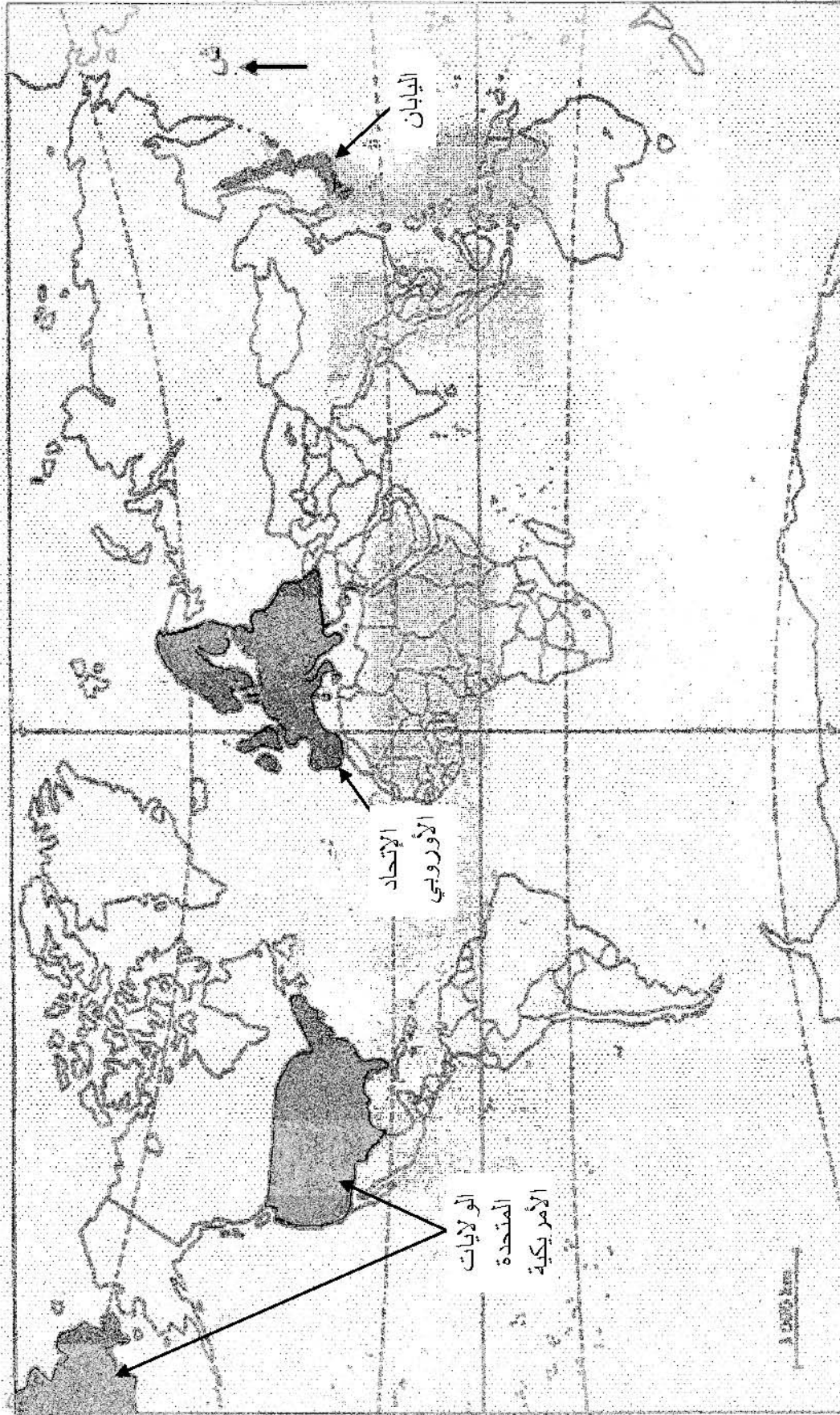


الاقتصاديات الصناعية



تركيا أستراليا كندا باكستان ألمانيا فرنسا روسيا أ.م.أ الهند الصين

الدول العشرة الأولى لإنتاج القمح سنة 2010.



خريطة الأقطاب الاقتصادية الكبرى (القوى الاقتصادية الكبرى في العالم)