

على المترشح أن يختار أحد الموضوعين التاليين:

الموضوع الأول

يحتوي الموضوع الأول على صفتين (الصفحة 1 من 5 والصفحة 2 من 5)

التاريخ:

الجزء الأول: (06 نقاط)

"... سقط جدار برلين رمز (الحرب الباردة)، واتجهت الدول السائرة في فلك (الشيوعية) إلى تبني الخط الديمقراطي الذي طال الاتحاد السوفيتي نفسه. وقد أعلن في قمة مالطا بين جورج بوش الأب وغورباتشوف على انتهاء الصراع بين المعسكرين. نزلت حشود كبيرة إلى شوارع برلين لتشهد الاحتفال بالحدث الذي أعلن فيه عن توحيد ألمانيا الغربية وألمانيا الشرقية سياسيا في دولة واحدة ليبرالية رأسمالية. وزال (الستار الحديدي) الذي فرق بين الأوروبيين..."

المرجع: الكتاب المدرسي / السنة الثالثة ثانوي -ص44-

1- اشرح المصطلحات التي بين قوسين في النص.

2- حدّد التواريخ الزمنية للأحداث التي تحتها خط في النص.

3- عرّف بالشخصيات التاريخية التالية: ميخائيل غورباتشوف - حسين أيت أحمد - هوشي منه.

الجزء الثاني: ( 04 نقاط)

السياسة الخارجية للجزائر بعد الاستقلال كانت استمرارا للنهج التحرري، وتجسيدا لمواثيق الثورة التحريرية.

المطلوب: انطلاقا من الفقرة واعتمادا على ما درست، اكتب مقالا تاريخيا تبين فيه:

1- المبادئ التي قامت عليها السياسة الخارجية للجزائر بعد الاستقلال.

2- مظاهر تجسيد هذه المبادئ فعليا.

**الجغرافيا:**

**الجزء الأول: (06 نقاط)**

"... عرفت فترة الثمانينيات وبداية التسعينيات جهودا كبيرة في مجال التنمية، سنتها المؤسسات المالية العالمية والدول الكبرى،... واعتبرت النظام العالمي الجديد - العولمة - كمحرك جديد للتقدم والرفاه الاقتصادي على المستوى العالمي، وكان الاعتقاد السائد انه بإمكان البلدان الفقيرة أن تشرع في النمو الاقتصادي إذا ما اعتمدت أساليب التحكم في التسيير القائمة على استقرار المؤسسات الاقتصادية الكبرى وتحرير الأسواق، وإتباع الخصخصة. ويؤدي ذلك النمو بدوره إلى التحسن الواسع في مجال الصحة والتعليم والتغذية والسكن والاستفادة من الهيكل القاعدية..."

**المصدر: تقرير عالمي حول التنمية البشرية UNDP 2003**

1- اشرح ما تحته خط في النص.

2- إليك جدولاً للشركاء الخمس الأوائل في المبادلات التجارية للجزائر سنة 2014.

الواردات			الصادرات		
النسبة %	القيمة مليون/دولار	المناطق	النسبة %	القيمة مليون/دولار	المناطق
14,05	8197	الصين	15,43	9 713	اسبانيا
10,87	6342	فرنسا	13,29	8 369	ايطاليا
8,54	4983	ايطاليا	10,71	6 744	فرنسا
8,54	4982	اسبانيا	8,71	5 482	بريطانيا
6,47	3774	ألمانيا	8,07	5 080	هولاندا

**المصدر: المركز الوطني للإعلام الآلي والإحصاء التابع للجمارك.**

**المطلوب:**

أ- مثل النسب المئوية بواسطة أعمدة بيانية بمقياس :

اسم ← 2 %.

اسم ← 1 دولة.

ب- علق على الرسم.

**الجزء الثاني: (04 نقاط)**

قال جان كلود يونكر الرئيس الجديد للمفوضية الأوروبية في بيان أعلنه يوم 11 جانفي 2014:

«حان الوقت لأن نشمر عن سواعدنا ونبدأ العمل...» وأضاف: «... تحديات أوروبا لا يمكن أن تنتظر بدءا من

اليوم سأعمل أنا وفريقي باجتهاد لكي نقدم لأوروبا البداية الجديدة التي تعهدنا بها...».

**المطلوب:** انطلاقا من الفقرة واعتمادا على ما درست، اكتب مقالا جغرافيا تبيّن فيه:

1- مكانة الاتحاد الأوروبي في الاقتصاد العالمي.

2- التحديات التي تواجه الاتحاد الأوروبي حاليا.

انتهى الموضوع الأول

## الموضوع الثاني

يحتوي الموضوع الثاني على 03 صفحات (من الصفحة 3 من 5 إلى الصفحة 5 من 5)

التاريخ:

الجزء الأول: (06 نقاط)

"... وضعت اللجنة الأولى لجيش التحرير الوطني بإنشاء (المنظمة الخاصة) وقد قال محمد بوضياف: "إن المنظمة تعيد الثقة إلى نفوس المضطربين وتضمن عدم الإغراق وعدم التشكيك في الحرب". أما كريم بلقاسم فقال: "هاهم السادة المسؤولون يقرون أخيرا شيئا آخر غير إلقاء الخطب ". وقد أسندت إلى محمد بلوزداد مهمة إنشاء هذه النواة ... وفي فاتح نوفمبر 1954 شن الثوار هجومات تركزت أغلب تلك الهجومات في المنطقة الشرقية في جبال الأوراس والنمامشة، وبلاد القبائل والشمال القسنطيني وبعض النقاط في كل من منطقة الوسط التي شملت العاصمة وبوفاريك والمنطقة الغربية وغيرها... وكل ذلك بالهجوم الجريء للبطل زيغوت يوسف بالشمال القسنطيني 20 أوت 1955. ثم جاء التفكير في وضع إطار يعطى (لجيش التحرير) طابعا تنظيميا وهيكليا جديدا ... في صدور قرارات (مؤتمر الصومام) ...".

المرجع: مجلة الجيش/جويلية 2012 سلسلة خاصة.

- 1- حدّد مفهوم المصطلحات التي بين قوسين في النصّ.
- 2- عرّف بالشخصيات التي تحتها خط الواردة في النصّ.
- 3- أكمل جدول الأحداث التالي:

التاريخ	الحدث
.....	قمة مالطا
19 مارس 1962	.....
.....	مؤتمر باندونغ

الجزء الثاني: (04 نقاط)

منطقة الشرق الأوسط كانت ميداناً حقيقياً لصراع الحرب الباردة بين المعسكرين من أجل اكتساب النفوذ في المنطقة.

المطلوب:

انطلاقاً من الفقرة وعلى ضوء ما درست، اكتب مقالا تاريخيا تبين فيه:

- 1- مظاهر الصراع في المنطقة.
- 2- موقف دول المنطقة من هذا الصراع.



**الجغرافيا:**

**الجزء الأول: (06 نقاط)**

"... على إثر هبوط قيم **الأسهم** في وال ستريت انخفض المؤشر العام للقيم بنسبة 7.1% في فرانكفورت و6.8% في باريس و5.4% في لندن و7.5% في مدريد و3.8% في طوكيو و5.1% في شنغهاي و6% في ساوباولو ... وانتقلت عدوى الأزمة الأمريكية إلى جميع أنحاء العالم مع ملاحظة أن نسبة التراجع لم تكن على وتيرة واحدة. وهبط المؤشر العام حتى في دول لا توجد فيها استثمارات أمريكية في **البورصة** كالسعودية بنسبة تفوق هبوط المؤشر العام في بلدان أخرى لا تضع قيوداً على **الاستثمارات** الأجنبية ومن بينها الأمريكية كأوروبا...".

**المرجع:** خطورة الأزمة المالية الأمريكية على الاقتصاد العالمي/ د. صباح نعوش.

1- اشرح المصطلحات التي تحتها خط في النص.

2- إليك جدولاً لمستخدمي شبكة الانترنت في بعض الدول: مارس 2012.

الدول	الصين	الولايات المتحدة الأمريكية	الهند	البرازيل	اليابان	روسيا	ألمانيا	نيجيريا	بريطانيا	فرنسا
النسبة %	45.04	85.75	20.01	54.02	86.03	59.27	84.00	32.90	87.00	83.00

**المصدر:** الموسوعة الحرة الاتحاد الدولي للاتصالات ماي 2013.

**المطلوب:**

أ- علق على الجدول.

ب- وقع على خريطة العالم المرفقة، أربع دول واردة في الجدول (دولة من كل قارة).

**الجزء الثاني: (04 نقاط)**

علاقات الجزائر التجارية مع الضفة الشمالية لحوض البحر المتوسط تحكمها الكثير من العوامل التي لا يمكن تجاهلها من أجل إقامة شراكة حقيقية يستفيد منها الجميع.

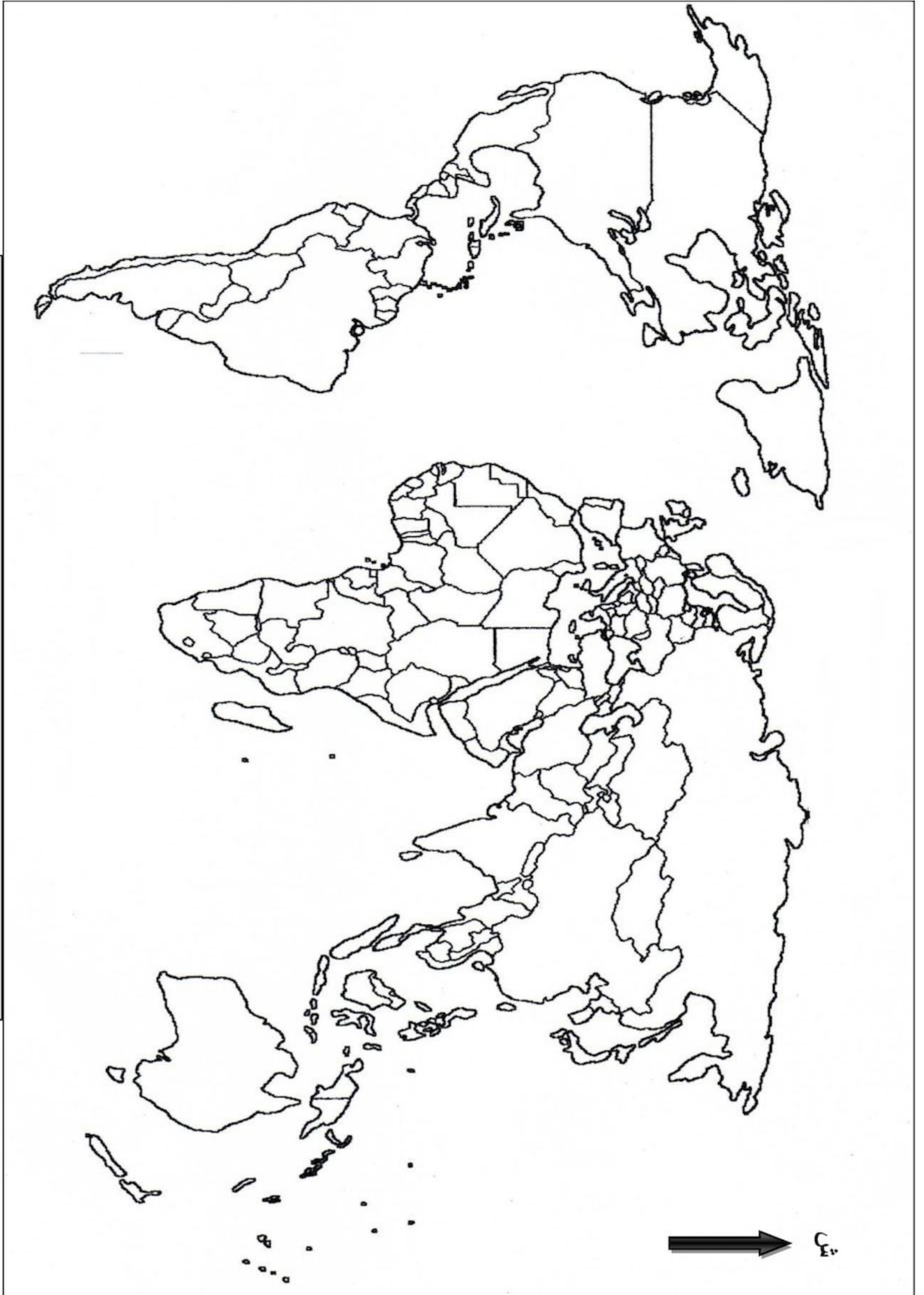
**المطلوب:**

انطلاقاً من الفقرة واعتماداً على ما درست، اكتب مقالا جغرافيا تبيّن فيه:

1- العوامل التي تتحكم في العلاقات التجارية للجزائر مع الضفة الشمالية.

2- مكانة الجزائر في الاقتصاد العالمي.

خريطة العالم



ينجز العمل المطلوب على الخريطة وتعد مع أوراق الإجابة

انتهى الموضوع الثاني



العلامة		عناصر الإجابة ( الموضوع الأول )								
مجموع	مجزأة									
06		<b>التاريخ</b>								
		<b>الجزء الأول:</b>								
		<b>1- شرح المصطلحات التي بين قوسين:</b>								
	0.75	• الحرب الباردة: صراع عقائدي بين المعسكرين الشرقي و الغربي بهدف تحقيق مكاسب مادية ومعنوية اشد بعد نهاية الحرب العالمية الثانية.								
	0.75	• الشيوعية: مذهب سياسي واقتصادي واجتماعي يقوم على الحكم الشمولي والملكية العامة لوسائل الإنتاج وإقامة مجتمع غير طبقي ( قمة الاشتراكية ).								
	0.75	• الستار الحديدي: مفهوم استعمله رئيس وزراء بريطانيا ونستون تشرشل في 5 مارس 1946 تحدث فيه عن أطماع الاتحاد السوفياتي التوسعية في أوروبا الشرقية فقال أنها أسدلت ستارا حديديا على أوروبا .								
		<b>2- تحديد التواريخ التي تحتها خط:</b>								
	0.50	<table border="1" style="width: 100%; text-align: center;"> <thead> <tr> <th>التاريخ</th> <th>الحدث</th> </tr> </thead> <tbody> <tr> <td>1989/11/09</td> <td>سقوط جدار برلين</td> </tr> <tr> <td>1989/12/4-3</td> <td>قمة مالطا</td> </tr> <tr> <td>1990/10/3</td> <td>توحيد الألمانيتين</td> </tr> </tbody> </table>	التاريخ	الحدث	1989/11/09	سقوط جدار برلين	1989/12/4-3	قمة مالطا	1990/10/3	توحيد الألمانيتين
	التاريخ	الحدث								
	1989/11/09	سقوط جدار برلين								
1989/12/4-3	قمة مالطا									
1990/10/3	توحيد الألمانيتين									
0.50										
0.50										
	<b>3- التعريف بالشخصيات:</b>									
0.75	• <b>ميخائيل غورباتشوف:</b> رئيس الاتحاد السوفييتي مارس 1985 اشتهر بسياسة البروستريكا والglasnost أعلن مع جورج بوش في لقاء مالطا على نهاية الحرب الباردة.									
0.75	• <b>حسين أيت أحمد:</b> مناضل في حزب الشعب الجزائري الرئيس الثاني للمنظمة السرية من أعضاء الوفد الخارجي المختطف 1956 .									
0.75	• <b>هوشي منه:</b> مؤسس الحزب الشيوعي الفيتنامي(الفيت منه)، أعلن استقلال الفيتنام 1945 بعد انسحاب اليابان، قاد الحرب ضد الوجود الفرنسي وضد الولايات المتحدة الأمريكية.									

العلامة		عناصر الإجابة ( الموضوع الأول )
مجموع	مجزأة	
04		<b>الجزء الثاني:</b>
	0.50	<b>المقدمة:</b> السياسة الخارجية مستوحاة من مواثيق الثورة الجزائرية (تقبل أية مقدمة وظيفية ).
	0.50	<b>1- المبادئ التي قامت عليها السياسة الخارجية للجزائر بعد الاستقلال :</b>
	0.25	• محاربة الاستعمار بكافة أشكاله.
	0.25	• احترام سيادة الدول وعدم التدخل في الشؤون الداخلية.
	0.25	• احترام حقوق الإنسان والأقليات.
	0.25	• احترام عمل المنظمات الدولية والعمل بمواثيقها.
	0.25	• التعاون الاقتصادي الدولي.
		<b>2- مظاهر تجسيد لهذه المبادئ فعليا:</b>
	0.50	• مساندة الجزائر بعد الاستقلال للحركات التحررية (انغولا، الموزمبيق، القضية الفلسطينية، الصحراء الغربية ...).
	0.25	• الانضمام للمنظمات الإقليمية والعالمية (الاتحاد الإفريقي، عدم الانحياز، هيئة الأمم المتحدة) والعمل على تجسيد مبادئها.
	0.50	• المطالبة بنظام اقتصادي عالمي جديد ( المؤتمر الرابع لحركة عدم الانحياز 1973، الدورة الاستثنائية للأمم المتحد 1974 ) .
0.25	• إدانة سياسة التمييز العنصري في جنوب إفريقيا .	
0.50	<b>الخاتمة:</b> تتمسك الجزائر بمبادئها ومواقفها الثابتة في دعم القضايا العادلة (تقبل أية خاتمة وظيفية ).	
	<b>جغرافيا</b>	
	<b>الجزء الأول :</b>	
	<b>1- شرح المصطلحات :</b>	
0.50	• <b>المؤسسات المالية العالمية:</b> مؤسسات مالية كبرى تزامن تأسيسها مع ظهور النظام المالي الدولي الجديد على اثر اتفاقية بروتون وودز 1944 منها البنك العالمي للإنشاء و التعمير و صندوق النقد الدولي.	
0.50	• <b>العولمة :</b> تعني الشمولية أي إقامة نفس النمط الاقتصادي والاجتماعي والثقافي في العالم وفق تغليب منطق القوي على الضعيف أي فرض نمط الدول الكبرى على الدول الضعيفة في مختلف المجالات.	
0.50	• <b>النمو الاقتصادي :</b> الزيادة في كمية السلع والخدمات التي ينتجها اقتصاد معين. وهذه السلع يتم إنتاجها باستخدام عناصر الإنتاج الرئيسية، وهي الأرض والعمل ورأس المال والتنظيم.	



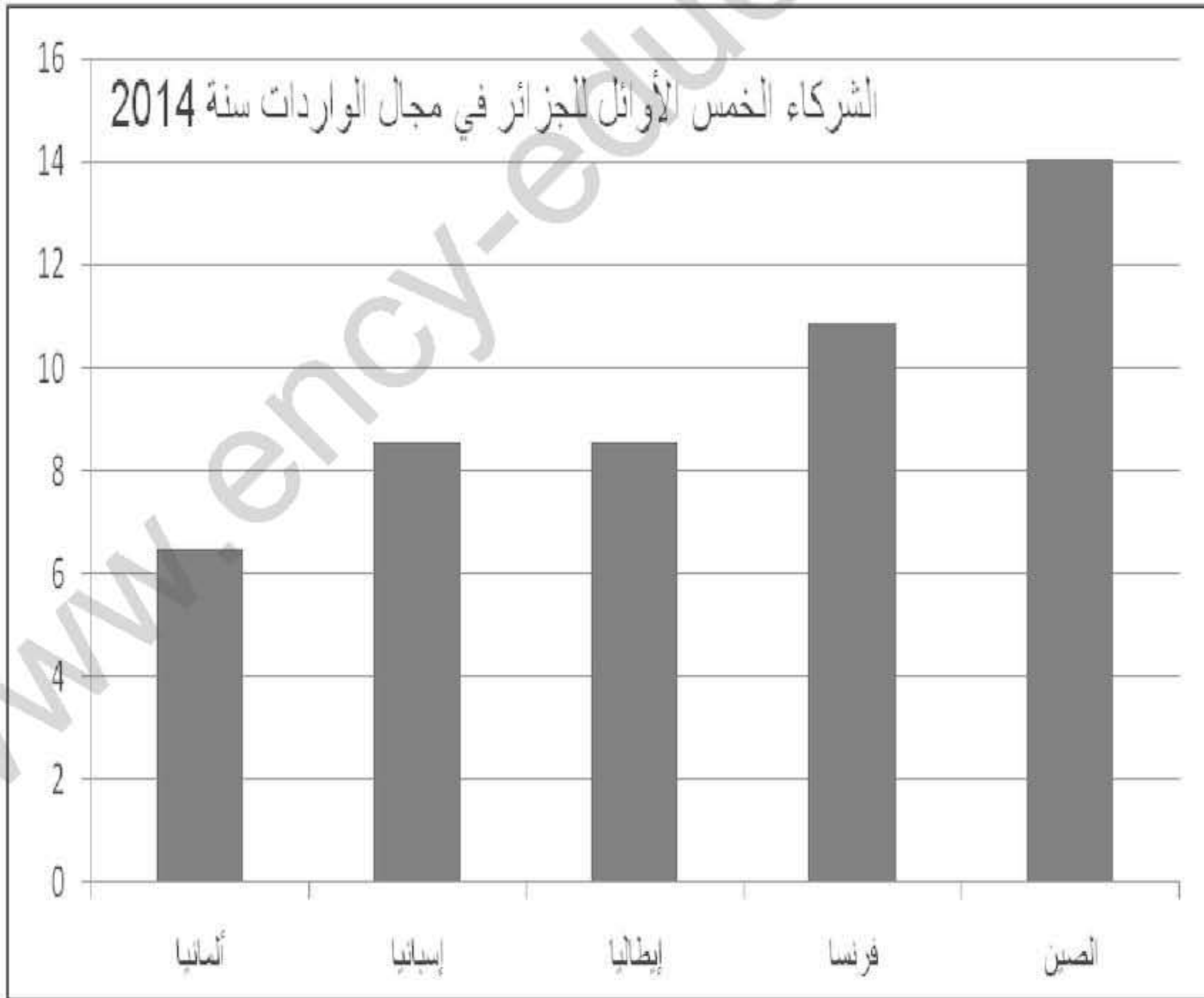
العلامة		عناصر الإجابة ( الموضوع الأول )
مجموع	مجزأة	
06	0.50	<ul style="list-style-type: none"> <li>• الهياكل القاعدية: جملة التجهيزات الجماعية الضرورية لتنشيط الحركة الاقتصادية، مثل الطرقات، والسكك الحديدية، الموانئ، المطارات، الجسور، وشبكة الاتصالات. تقسم إلى بنى تحتية خصوصية، مثل البنية التحتية التعليمية كالمدارس أو البنية التحتية الصحية كالمستشفيات. وبنى تحتية عامة كالطرقات، السكك والمطارات.</li> </ul>
	02	<p><b>2 - التمثيل البياني والتعليق على الرسم :</b></p> <p><b>أ- التمثيل البياني:</b></p> <ul style="list-style-type: none"> <li>• الإنجاز.</li> <li>• العنوان.</li> <li>• المفتاح.</li> </ul> <p><b>ب- التعليق:</b></p> <ul style="list-style-type: none"> <li>• تنوع مناطق التبادل التجاري للجزائر في القارة الأوروبية بحكم القرب والتاريخ.</li> <li>• تباين قيمة المبادلات التجارية (استيراد وتصديرا).</li> <li>• تحتل اسبانيا الصدارة في الاستيراد بحكم التنوع والموقع.</li> <li>• بروز شركاء جدد (الصين) في الاستيراد منها بحكم تنوع الأسواق.</li> </ul>
04	0.25	
	0.25	
04	0.50	<p><b>الجزء الثاني:</b></p> <p><b>المقدمة:</b> الاتحاد الأوروبي بين المحافظة على مكانته العالمية والتحديات الراهنة. (تقبل أية مقدمة وظيفية).</p> <p><b>1- مكانة الاتحاد الأوروبي في الاقتصاد العالمي:</b></p> <ul style="list-style-type: none"> <li>• قطب اقتصادي ضمن الثالوث العالمي.</li> <li>• تفوق زراعي وصناعي عالميا ثاني مصدر للمواد الغذائية، ثاني منتج للسيارات.</li> <li>• تحقيق التفوق التجاري الأول عالميا 35 % واتساع التجارة البينية 60%.</li> <li>• قوة مالية (البورصات، الاستثمارات، البنوك) قوة العملة (اليورو) ومناسته للعملات.</li> <li>• ضخامة الشركات متعددة الجنسيات ذات الأصول الأوروبية.</li> <li>• رائد في مجال البحث العلمي والتكنولوجي (ثالث قوة مصدرة للتكنولوجيا العالية).</li> </ul>
	0.25	



الإجابة النموذجية لموضوع امتحان البكالوريا دورة: 2016

اختبار مادة: التاريخ والجغرافيا الشعبة: تسيير واقتصاد المدة: 03 سا و 30د

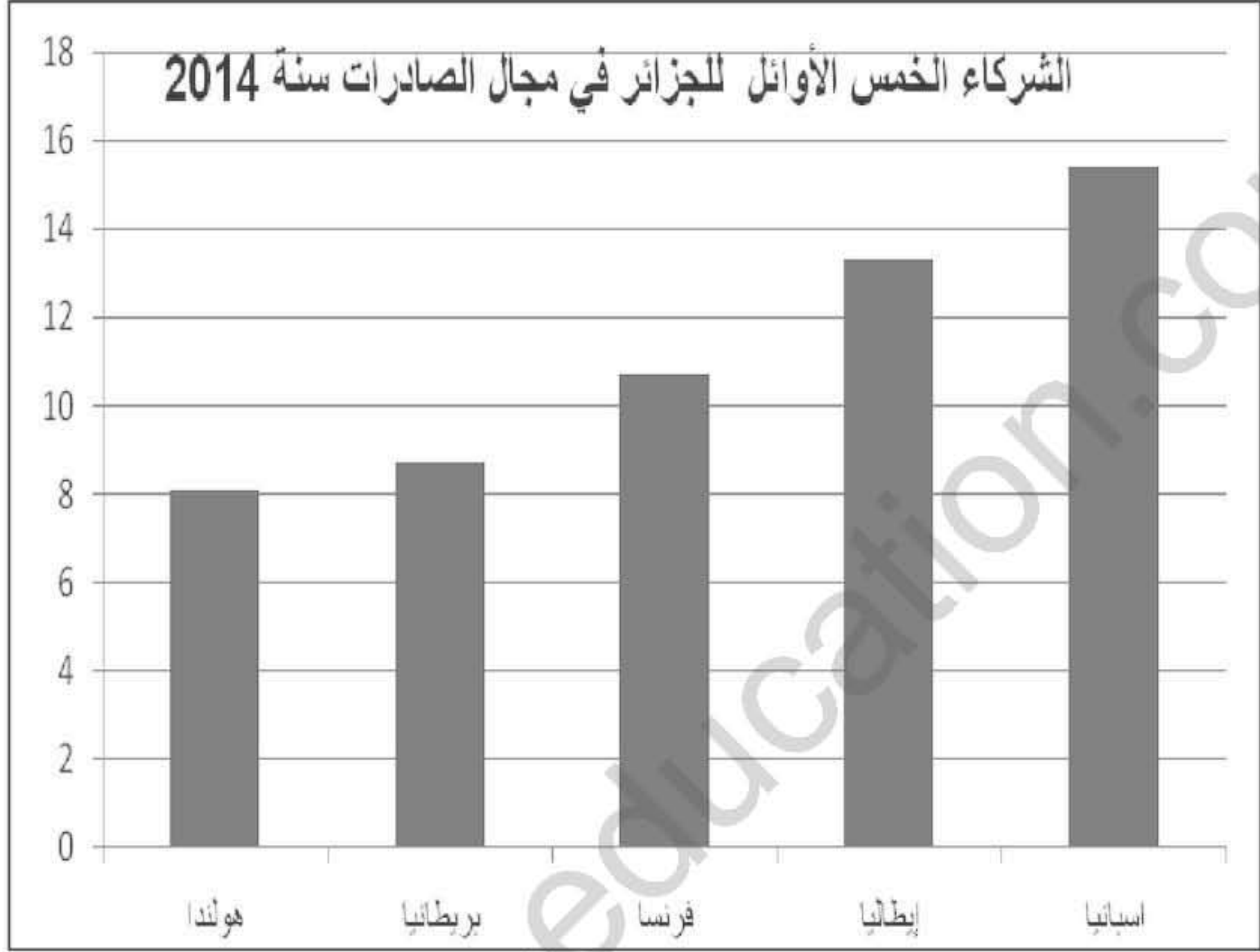
العلامة		عناصر الإجابة ( الموضوع الأول )
مجموع	مجزأة	
0.25	×	<p><b>2- التحديات التي تواجه الاتحاد الأوروبي حاليا:</b></p> <ul style="list-style-type: none"> <li>▪ عدم التجانس بين شعوب الاتحاد الأوروبي (لغة، أهداف، أنظمة..).</li> <li>▪ تعرض الاتحاد لأزمات مالية والتبعية للخارج خاصة في مجال الطاقة.</li> <li>▪ الصمود في وجه المنافسة الخارجية للأقطاب الأخرى.</li> <li>▪ رفض بعض الدول للعملة الموحدة وتهديد البعض الآخر الانسحاب من الاتحاد.</li> <li>▪ البطالة والأزمة الديمغرافية ( ارتفاع نسبة الشيخوخة، الهجرة ...).</li> <li>▪ التفاوت في درجة التطور الاقتصادي بين دوله.</li> </ul> <p><b>الخاتمة:</b> رغم ما حققته دول الاتحاد الأوربي من تطور إلا أن الرهانات تضعه أمام تحد جديد. (تقبل أية خاتمة وظيفية).</p> <p><b>(تقبل جميع الإجابات المتوقعة الصحيحة).</b></p>
0.50		



الإجابة النموذجية لموضوع امتحان البكالوريا دورة: 2016

اختبار مادة: التاريخ والجغرافيا الشعبة: تسيير واقتصاد المدة: 03 سا و 30د

العلامة		عناصر الإجابة ( الموضوع الأول )
مجموع	مجزأة	





الإجابة النموذجية لموضوع امتحان البكالوريا دورة: 2016  
اختبار مادة: التاريخ والجغرافيا الشعبة: تسيير واقتصاد المدة: 03 سا و30د

العلامة		عناصر الإجابة (الموضوع الثاني)
مجموع	مجزأة	
		<b>التاريخ</b>
		<b>الجزء الأول:</b>
		<b>1- شرح المصطلحات:</b>
	0.75	<ul style="list-style-type: none"> <li>● المنظمة الخاصة: الجناح العسكري السري لحركة الانتصار للحريات الديمقراطية تأسست في 15-16/2/1947 برئاسة محمد بلوزداد ،هدفها الإعداد للثورة المسلحة تم اكتشافها في 18 مارس 1950.</li> </ul>
	0.75	<ul style="list-style-type: none"> <li>● جيش التحرير الوطني : الجناح العسكري للثورة الجزائرية ، تشكل يوم 23/10/1954 أعلن عنه رسميا في بيان نوفمبر 1954.</li> </ul>
	0.75	<ul style="list-style-type: none"> <li>● مؤتمر الصومام : أول مؤتمر تنظيمي للثورة التحريرية . انعقد في 20/8/1956 بقرية إيفري انبثق عنه ميثاق الصومام.</li> </ul>
		<b>2- التعريف بالشخصيات :</b>
06	0.75	<ul style="list-style-type: none"> <li>● محمد بوضياف (1919 - 1992): سياسي جزائري من مناضلي حزب الشعب عضو المنظمة الخاصة واللجنة الثورية للوحدة والعمل ، منسق لجنة الست من المختطفين الخمس 1956 ، شغل منصب وزير دولة في الحكومة المؤقتة ، رئيس المجلس الأعلى للدولة، اغتيل سنة 1992.</li> </ul>
	0.75	<ul style="list-style-type: none"> <li>● محمد بلوزداد: مناضل في حزب الشعب ، عضو في حركة الانتصار للحريات الديمقراطية ، أول رئيس للمنظمة الخاصة ، توفي في 14/01/1952.</li> </ul>
	0.75	<ul style="list-style-type: none"> <li>● زيغود يوسف: مناضل في حزب الشعب ، حركة الانتصار للحريات الديمقراطية، عضو المنظمة الخاصة ومجموعة 22، نائب قائد المنطقة الثانية ثم قائدا لها بعد استشهاد ديدوش مراد ، مهندس ومنفذ هجمات 20/08/1955، قائد الولاية الثانية، شارك في مؤتمر الصومام 1956. استشهد في 23/09/56.</li> </ul>
		<b>3- جدول الأحداث :</b>
	0.50	● قمة مالطا : 3-4-1989/12 .
	0.50	● وقف إطلاق النار : 19/03/1962
	0.50	● مؤتمر باندونغ : 18-24/04/1955

العلامة		عناصر الإجابة (الموضوع الثاني)
مجموع	مجزأة	
04		<b>الجزء الثاني:</b>
	0.50	<b>المقدمة:</b> منطقة الشرق الأوسط بين محاولات الاحتواء ومحاولات التحرر (تقبل أية مقدمة وظيفية) .
		<b>1- مظاهر الصراع في المنطقة:</b>
	0.50	• تأسيس حلف بغداد 1955.
	0.50	• أزمة السويس 1956 .
	0.25	• مشروع إيزنهاور 1957.
	0.25	• التواطؤ الدولي على الشعب العربي والفلسطيني.
		<b>2- موقف دول المنطقة من هذا الصراع :</b>
	0.5	• إتباع سياسة الحياد الايجابي والانضمام إلى حركة عدم الانحياز .
	0.25	• رفض مشروع إيزنهاور .
	0.50	• انسحاب العراق من حلف بغداد .
	0.25	• مواصلة حركة التحرر السياسي والاقتصادي ( تدعيم التحرر ، التأميم ..... )
	0.50	<b>الخاتمة:</b> سياسة الحياد الايجابي التي اتبعتها دول المنطقة كانت الخيار الأنسب لحماية استقلالها (تقبل أية خاتمة وظيفية) .
		<b>جغرافيا</b>
	<b>الجزء الأول :</b>	
	<b>1- شرح المصطلحات:</b>	
0.75	• <b>الأسهم:</b> قيم مالية (رأس مال شركة) يتم تداولها في البورصة، يتعرض مالكيها للربح والخسارة ويشترك في مجلس إدارة الشركة.	
0.75	• <b>البورصة:</b> سوق مالية منظمة، قانونية ورسمية ، يتم فيها تبادل الأسهم و السندات و شراء وتحديد قيم العملات وهي نوعان : بورصة القيم أو الأسواق المالية (بورصة نيويورك) وبورصة التجارة التي تهتم بالسلع وتسعيرة الموارد الأولية والمحاصيل الزراعية (بورصة لندن وشيكاغو).	
0.75	• <b>الاستثمارات:</b> توظيف مبالغ مالية في مشاريع معينة بهدف تحقيق أرباح وتقديم خدمات.	
	<b>2- التعليق والرسم:</b>	
	<b>أ- التعليق :</b>	
0.75	• التفاوت في استعمال الشبكة العنكبوتية 20.1% في الهند و 87% في بريطانيا.	
0.50	• استعمال ضعيف تمثله 03 دول (الصين، الهند ونيجيريا)، بحكم ضعف التقدم التكنولوجي	



العلامة		عناصر الإجابة (الموضوع الثاني )	
مجموع	مجزأة		
06	0.50	والتكلفة.	
	0.50	• دول متوسطة الاستعمال ( البرازيل وروسيا). امتلاكها للوسائل التكنولوجية وارتفاع التكلفة.	
	0.50	• استخدام واسع للإنترنت في باقي دول الجدول امتلاكها للتكنولوجية العالية وانخفاض التكلفة.	
	01	<u>ب- الخريطة:</u>	
	0.25	• الإنجاز.	
	0.25	• العنوان .	
		• المفتاح.	
		<u>الجزء الثاني:</u>	
	0.50	<u>المقدمة:</u> علاقة الجزائر مع الضفة الشمالية للمتوسط واقع ورهانات (تقبل أية مقدمة وظيفية).	
04	0.50	<u>1- العوامل التي تتحكم في العلاقات التجارية:</u>	
	0.25	• الارتباطات التاريخية ( مستعمرة قديمة ).	
	0.25	• القرب الجغرافي وسهولة الاتصال.	
	0.25	• حاجة الجزائر للإنتاج الصناعي و الفلاحي والمالي والتكنولوجي.	
	0.25	• حاجة الضفة الشمالية للمواد الأولية.	
	0.25	• اتفاقيات التعاون والشراكة.	
			<u>2- مكانة الجزائر في الاقتصاد العالمي:</u>
	0.50	• ممون هام بالمواد الأولية ( المحروقات ...).	
	0.25	• سوق استهلاكية واسعة 60مليار دولار.	
	0.25	• مناخ ملائم للاستثمارات.	
	0.25	• الموارد البشرية.	
	0.25	• تطور نسب النمو الاقتصادي.	
	0.50	<u>الخاتمة:</u> ضرورة التعاون بين الطرفين لتجاوز كل الصعوبات المطروحة (تقبل أية خاتمة وظيفية).	
<b>(تقبل جميع الإجابات المتوقعة الصحيحة )</b>			

الإجابة النموذجية لموضوع امتحان البكالوريا دورة: 2016

اختبار مادة: التاريخ والجغرافيا الشعبة: تسيير واقتصاد المدة: 03 سا و 30د

العلامة	عناصر الإجابة (الموضوع الثاني)
مجزأة مجموع	

